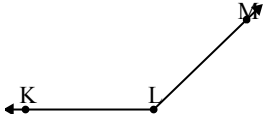




Giải các câu hỏi.

Câu trả lời

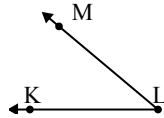
1)



Đáp án nào là phù hợp nhất với $\angle KLM$?

- A. 90°
- B. 136°
- C. 54°
- D. 5°

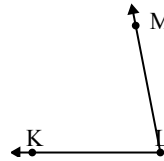
2)



Đáp án nào là phù hợp nhất với $\angle KLM$?

- A. 40°
- B. 151°
- C. 112°
- D. 15°

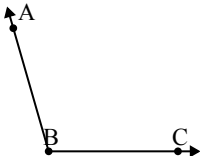
3)



Đáp án nào là phù hợp nhất với $\angle KLM$?

- A. 127°
- B. 79°
- C. 15°
- D. 54°

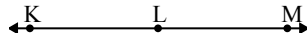
4)



Đáp án nào là phù hợp nhất với $\angle ABC$?

- A. 106°
- B. 19°
- C. 48°
- D. 170°

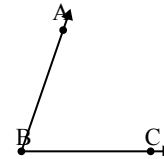
5)



Đáp án nào là phù hợp nhất với $\angle KLM$?

- A. 61°
- B. 11°
- C. 138°
- D. 180°

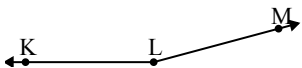
6)



Đáp án nào là phù hợp nhất với $\angle ABC$?

- A. 23°
- B. 71°
- C. 132°
- D. 109°

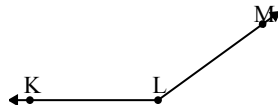
7)



Đáp án nào là phù hợp nhất với $\angle KLM$?

- A. 73°
- B. 5°
- C. 165°
- D. 44°

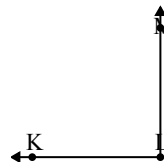
8)



Đáp án nào là phù hợp nhất với $\angle KLM$?

- A. 94°
- B. 118°
- C. 54°
- D. 144°

9)



Đáp án nào là phù hợp nhất với $\angle KLM$?

- A. 90°
- B. 26°
- C. 171°
- D. 135°

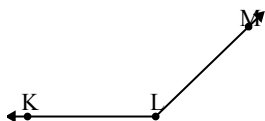
1. _____
2. _____
3. _____
4. _____
5. _____
6. _____
7. _____
8. _____
9. _____



Giải các câu hỏi.

Câu trả lời

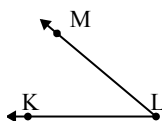
1)



Đáp án nào là phù hợp nhất với $\angle KLM$?

- A. 90°
- B. 136°
- C. 54°
- D. 5°

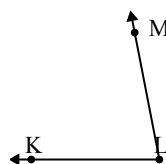
2)



Đáp án nào là phù hợp nhất với $\angle KLM$?

- A. 40°
- B. 151°
- C. 112°
- D. 15°

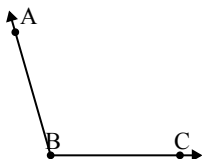
3)



Đáp án nào là phù hợp nhất với $\angle KLM$?

- A. 127°
- B. 79°
- C. 15°
- D. 54°

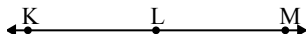
4)



Đáp án nào là phù hợp nhất với $\angle ABC$?

- A. 106°
- B. 19°
- C. 48°
- D. 170°

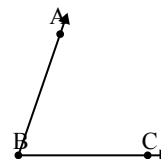
5)



Đáp án nào là phù hợp nhất với $\angle KLM$?

- A. 61°
- B. 11°
- C. 138°
- D. 180°

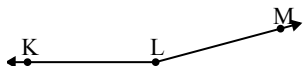
6)



Đáp án nào là phù hợp nhất với $\angle ABC$?

- A. 23°
- B. 71°
- C. 132°
- D. 109°

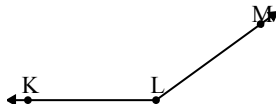
7)



Đáp án nào là phù hợp nhất với $\angle KLM$?

- A. 73°
- B. 5°
- C. 165°
- D. 44°

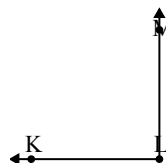
8)



Đáp án nào là phù hợp nhất với $\angle KLM$?

- A. 94°
- B. 118°
- C. 54°
- D. 144°

9)



Đáp án nào là phù hợp nhất với $\angle KLM$?

- A. 90°
- B. 26°
- C. 171°
- D. 135°

1. **B**
2. **A**
3. **B**
4. **A**
5. **D**
6. **B**
7. **C**
8. **D**
9. **A**