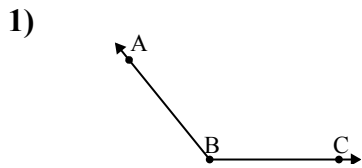




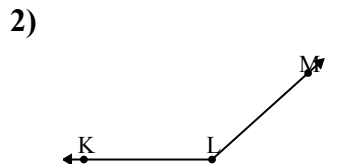
Giải các câu hỏi.

Câu trả lời



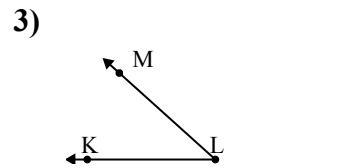
Đáp án nào là phù hợp nhất với $\angle ABC$?

- A. 129°
- B. 48°
- C. 153°
- D. 175°



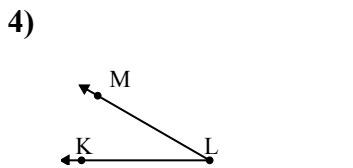
Đáp án nào là phù hợp nhất với $\angle KLM$?

- A. 176°
- B. 66°
- C. 40°
- D. 138°



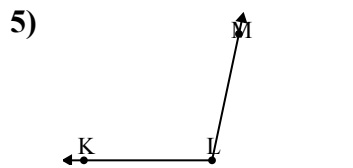
Đáp án nào là phù hợp nhất với $\angle KLM$?

- A. 148°
- B. 126°
- C. 42°
- D. 94°



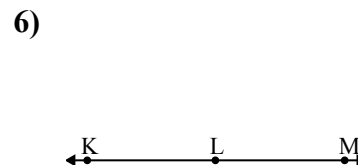
Đáp án nào là phù hợp nhất với $\angle KLM$?

- A. 30°
- B. 7°
- C. 156°
- D. 66°



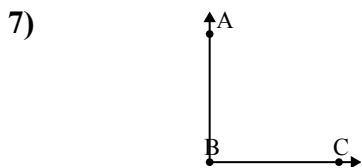
Đáp án nào là phù hợp nhất với $\angle KLM$?

- A. 129°
- B. 102°
- C. 13°
- D. 56°



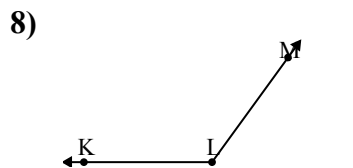
Đáp án nào là phù hợp nhất với $\angle KLM$?

- A. 28°
- B. 146°
- C. 2°
- D. 180°



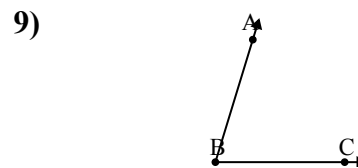
Đáp án nào là phù hợp nhất với $\angle ABC$?

- A. 35°
- B. 90°
- C. 172°
- D. 62°



Đáp án nào là phù hợp nhất với $\angle KLM$?

- A. 67°
- B. 153°
- C. 18°
- D. 126°



Đáp án nào là phù hợp nhất với $\angle ABC$?

- A. 123°
- B. 42°
- C. 157°
- D. 73°

1. _____

2. _____

3. _____

4. _____

5. _____

6. _____

7. _____

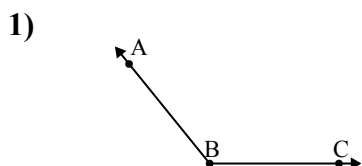
8. _____

9. _____



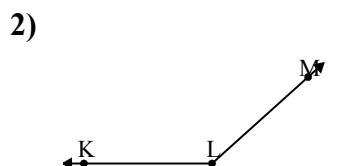
Giải các câu hỏi.

Câu trả lời



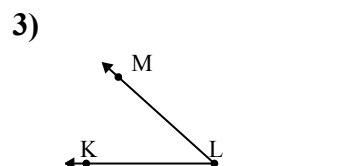
Đáp án nào là phù hợp nhất với $\angle ABC$?

- A. 129°
- B. 48°
- C. 153°
- D. 175°



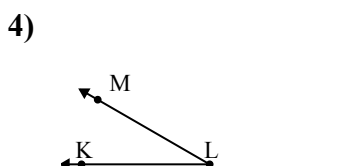
Đáp án nào là phù hợp nhất với $\angle KLM$?

- A. 176°
- B. 66°
- C. 40°
- D. 138°



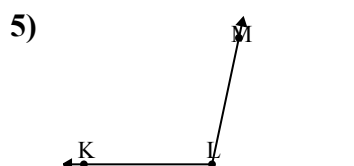
Đáp án nào là phù hợp nhất với $\angle KLM$?

- A. 148°
- B. 126°
- C. 42°
- D. 94°



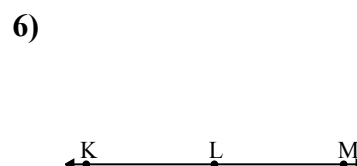
Đáp án nào là phù hợp nhất với $\angle KLM$?

- A. 30°
- B. 7°
- C. 156°
- D. 66°



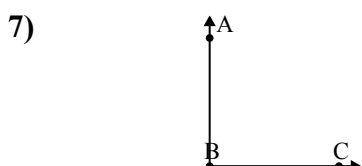
Đáp án nào là phù hợp nhất với $\angle KLM$?

- A. 129°
- B. 102°
- C. 13°
- D. 56°



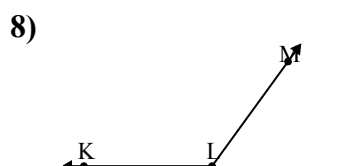
Đáp án nào là phù hợp nhất với $\angle KLM$?

- A. 28°
- B. 146°
- C. 2°
- D. 180°



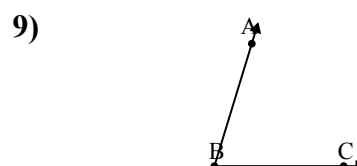
Đáp án nào là phù hợp nhất với $\angle ABC$?

- A. 35°
- B. 90°
- C. 172°
- D. 62°



Đáp án nào là phù hợp nhất với $\angle KLM$?

- A. 67°
- B. 153°
- C. 18°
- D. 126°



Đáp án nào là phù hợp nhất với $\angle ABC$?

- A. 123°
- B. 42°
- C. 157°
- D. 73°

- 1. **A**
- 2. **D**
- 3. **C**
- 4. **A**
- 5. **B**
- 6. **D**
- 7. **B**
- 8. **D**
- 9. **D**