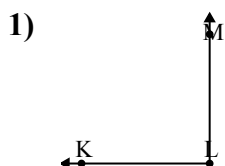




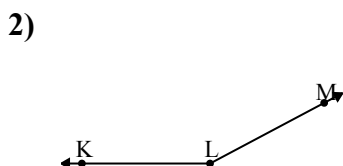
Giải các câu hỏi.

Câu trả lời



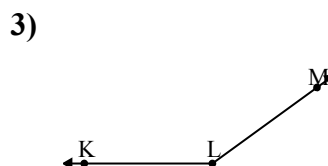
Đáp án nào là phù hợp nhất với $\angle KLM$?

- A. 13°
- B. 147°
- C. 90°
- D. 42°



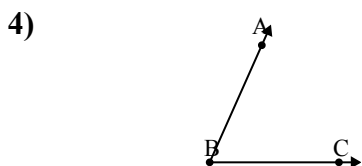
Đáp án nào là phù hợp nhất với $\angle KLM$?

- A. 129°
- B. 11°
- C. 178°
- D. 152°



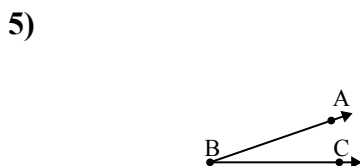
Đáp án nào là phù hợp nhất với $\angle KLM$?

- A. 49°
- B. 91°
- C. 1°
- D. 144°



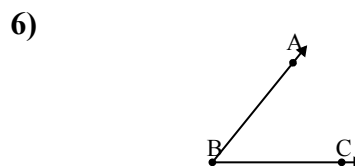
Đáp án nào là phù hợp nhất với $\angle ABC$?

- A. 30°
- B. 66°
- C. 97°
- D. 127°



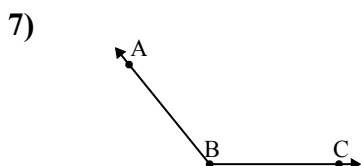
Đáp án nào là phù hợp nhất với $\angle ABC$?

- A. 79°
- B. 117°
- C. 19°
- D. 53°



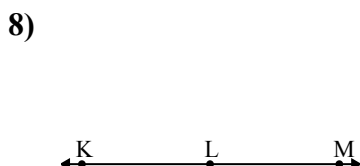
Đáp án nào là phù hợp nhất với $\angle ABC$?

- A. 9°
- B. 160°
- C. 51°
- D. 133°



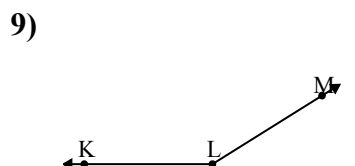
Đáp án nào là phù hợp nhất với $\angle ABC$?

- A. 178°
- B. 154°
- C. 129°
- D. 5°



Đáp án nào là phù hợp nhất với $\angle KLM$?

- A. 6°
- B. 180°
- C. 59°
- D. 123°



Đáp án nào là phù hợp nhất với $\angle KLM$?

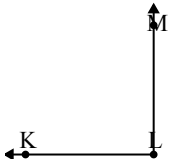
- A. 124°
- B. 64°
- C. 148°
- D. 28°

1. _____
2. _____
3. _____
4. _____
5. _____
6. _____
7. _____
8. _____
9. _____



Giải các câu hỏi.

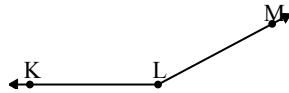
1)



Đáp án nào là phù hợp nhất với $\angle KLM$?

- A. 13°
- B. 147°
- C. 90°
- D. 42°

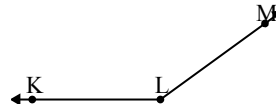
2)



Đáp án nào là phù hợp nhất với $\angle KLM$?

- A. 129°
- B. 11°
- C. 178°
- D. 152°

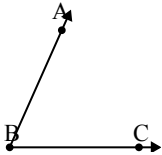
3)



Đáp án nào là phù hợp nhất với $\angle KLM$?

- A. 49°
- B. 91°
- C. 1°
- D. 144°

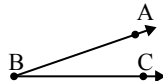
4)



Đáp án nào là phù hợp nhất với $\angle ABC$?

- A. 30°
- B. 66°
- C. 97°
- D. 127°

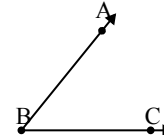
5)



Đáp án nào là phù hợp nhất với $\angle ABC$?

- A. 79°
- B. 117°
- C. 19°
- D. 53°

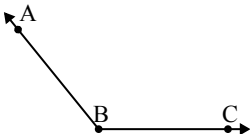
6)



Đáp án nào là phù hợp nhất với $\angle ABC$?

- A. 9°
- B. 160°
- C. 51°
- D. 133°

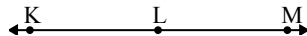
7)



Đáp án nào là phù hợp nhất với $\angle ABC$?

- A. 178°
- B. 154°
- C. 129°
- D. 5°

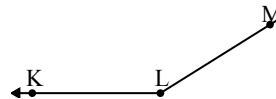
8)



Đáp án nào là phù hợp nhất với $\angle KLM$?

- A. 6°
- B. 180°
- C. 59°
- D. 123°

9)



Đáp án nào là phù hợp nhất với $\angle KLM$?

- A. 124°
- B. 64°
- C. 148°
- D. 28°

Câu trả lời

- 1. **C**
- 2. **D**
- 3. **D**
- 4. **B**
- 5. **C**
- 6. **C**
- 7. **C**
- 8. **B**
- 9. **C**