



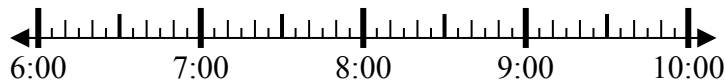
Giải các câu hỏi.

Câu trả lời

1) Bắt đầu: _____

Trôi qua: 2 giờ và 20 phút

Kết thúc: 9:00



1. _____

2) Bắt đầu: _____

Trôi qua: 1 giờ và 30 phút

Kết thúc: 4:05



2. _____

3) Bắt đầu: _____

Trôi qua: 1 giờ và 20 phút

Kết thúc: 2:05



3. _____

4) Bắt đầu: _____

Trôi qua: 1 giờ và 10 phút

Kết thúc: 7:15



4. _____

5) Bắt đầu: _____

Trôi qua: 2 giờ và 30 phút

Kết thúc: 3:05

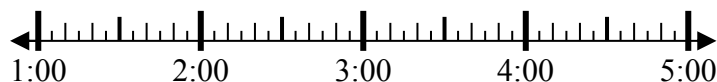


5. _____

6) Bắt đầu: _____

Trôi qua: 1 giờ và 55 phút

Kết thúc: 3:45

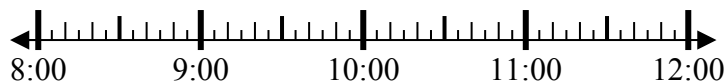


6. _____

7) Bắt đầu: _____

Trôi qua: 1 giờ và 25 phút

Kết thúc: 9:55



7. _____

8) Bắt đầu: _____

Trôi qua: 2 giờ và 55 phút

Kết thúc: 8:00



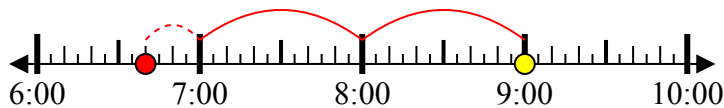
8. _____



Giải các câu hỏi.

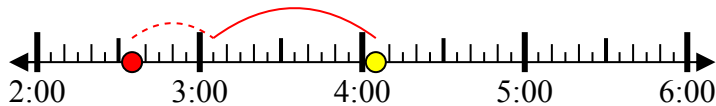
Câu trả lời

1) Bắt đầu: 6:40
 Trôi qua: 2 giờ và 20 phút
 Kết thúc: 9:00



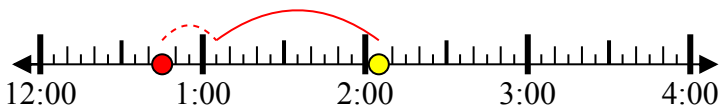
1. 6:40

2) Bắt đầu: 2:35
 Trôi qua: 1 giờ và 30 phút
 Kết thúc: 4:05



2. 2:35

3) Bắt đầu: 12:45
 Trôi qua: 1 giờ và 20 phút
 Kết thúc: 2:05



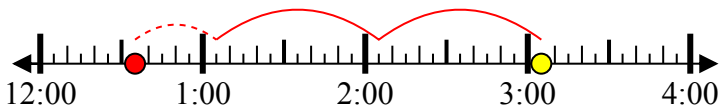
3. 12:45

4) Bắt đầu: 6:05
 Trôi qua: 1 giờ và 10 phút
 Kết thúc: 7:15



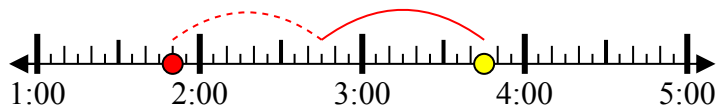
4. 6:05

5) Bắt đầu: 12:35
 Trôi qua: 2 giờ và 30 phút
 Kết thúc: 3:05



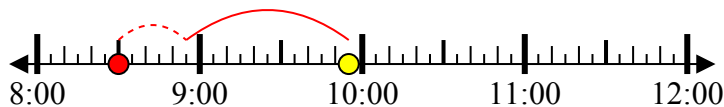
5. 12:35

6) Bắt đầu: 1:50
 Trôi qua: 1 giờ và 55 phút
 Kết thúc: 3:45



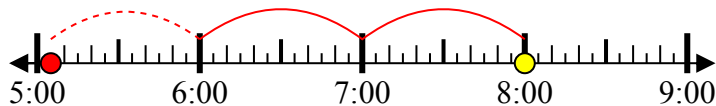
6. 1:50

7) Bắt đầu: 8:30
 Trôi qua: 1 giờ và 25 phút
 Kết thúc: 9:55



7. 8:30

8) Bắt đầu: 5:05
 Trôi qua: 2 giờ và 55 phút
 Kết thúc: 8:00



8. 5:05