



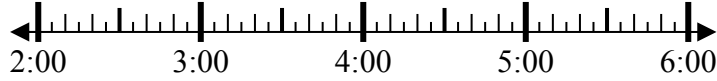
Giải các câu hỏi.

Câu trả lời

1) Bắt đầu: _____

Trôi qua: 1 giờ và 40 phút

Kết thúc: 3:55

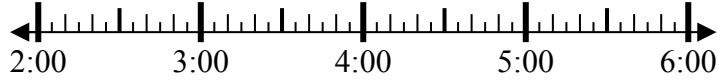


1. _____

2) Bắt đầu: _____

Trôi qua: 2 giờ và 45 phút

Kết thúc: 4:55



2. _____

3) Bắt đầu: _____

Trôi qua: 2 giờ và 10 phút

Kết thúc: 4:55



3. _____

4) Bắt đầu: _____

Trôi qua: 1 giờ và 20 phút

Kết thúc: 3:40



4. _____

5) Bắt đầu: _____

Trôi qua: 2 giờ và 25 phút

Kết thúc: 1:30

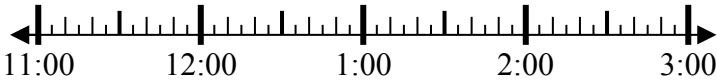


5. _____

6) Bắt đầu: _____

Trôi qua: 2 giờ và 20 phút

Kết thúc: 1:25

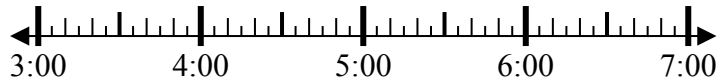


6. _____

7) Bắt đầu: _____

Trôi qua: 2 giờ và 20 phút

Kết thúc: 6:05

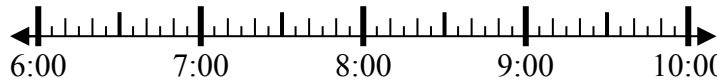


7. _____

8) Bắt đầu: _____

Trôi qua: 1 giờ và 30 phút

Kết thúc: 7:50



8. _____



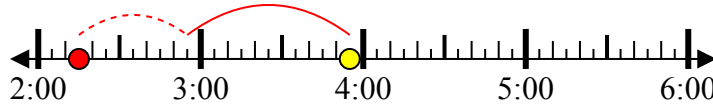
Giải các câu hỏi.

Câu trả lời

1) Bắt đầu: 2:15

Trôi qua: 1 giờ và 40 phút

Kết thúc: 3:55

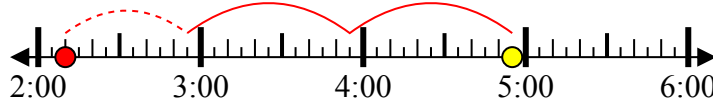


1. 2:15

2) Bắt đầu: 2:10

Trôi qua: 2 giờ và 45 phút

Kết thúc: 4:55



2. 2:10

3) Bắt đầu: 2:45

Trôi qua: 2 giờ và 10 phút

Kết thúc: 4:55

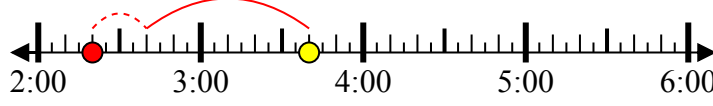


3. 2:45

4) Bắt đầu: 2:20

Trôi qua: 1 giờ và 20 phút

Kết thúc: 3:40



4. 2:20

5) Bắt đầu: 11:05

Trôi qua: 2 giờ và 25 phút

Kết thúc: 1:30



5. 11:05

6) Bắt đầu: 11:05

Trôi qua: 2 giờ và 20 phút

Kết thúc: 1:25

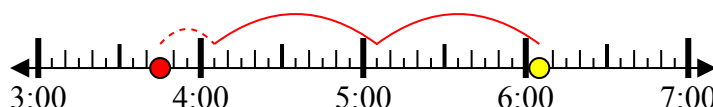


6. 11:05

7) Bắt đầu: 3:45

Trôi qua: 2 giờ và 20 phút

Kết thúc: 6:05

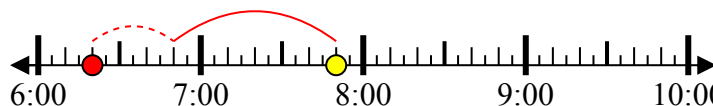


7. 3:45

8) Bắt đầu: 6:20

Trôi qua: 1 giờ và 30 phút

Kết thúc: 7:50



8. 6:20



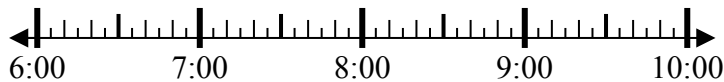
Giải các câu hỏi.

Câu trả lời

1) Bắt đầu: _____

Trôi qua: 1 giờ và 10 phút

Kết thúc: 7:55

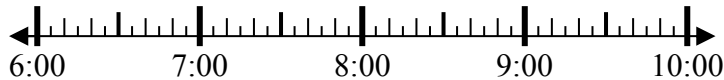


1. _____

2) Bắt đầu: _____

Trôi qua: 2 giờ và 40 phút

Kết thúc: 9:05



2. _____

3) Bắt đầu: _____

Trôi qua: 1 giờ và 50 phút

Kết thúc: 3:00



3. _____

4) Bắt đầu: _____

Trôi qua: 1 giờ và 45 phút

Kết thúc: 1:00



4. _____

5) Bắt đầu: _____

Trôi qua: 2 giờ và 10 phút

Kết thúc: 5:35

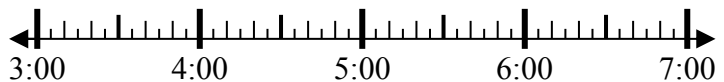


5. _____

6) Bắt đầu: _____

Trôi qua: 2 giờ và 35 phút

Kết thúc: 5:55

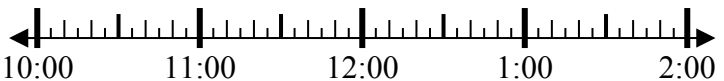


6. _____

7) Bắt đầu: _____

Trôi qua: 1 giờ và 50 phút

Kết thúc: 12:25

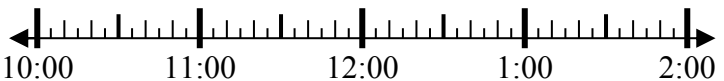


7. _____

8) Bắt đầu: _____

Trôi qua: 1 giờ và 30 phút

Kết thúc: 11:30



8. _____



Giải các câu hỏi.

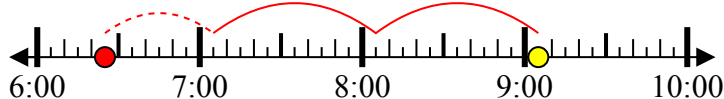
Câu trả lời

1) Bắt đầu: 6:45
 Trôi qua: 1 giờ và 10 phút
 Kết thúc: 7:55



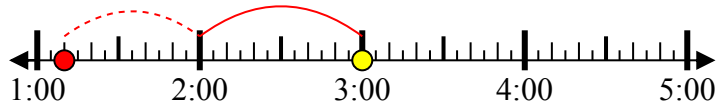
1. 6:45

2) Bắt đầu: 6:25
 Trôi qua: 2 giờ và 40 phút
 Kết thúc: 9:05



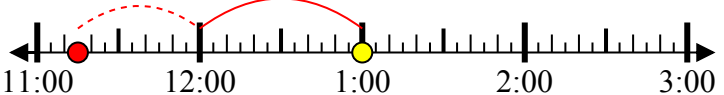
2. 6:25

3) Bắt đầu: 1:10
 Trôi qua: 1 giờ và 50 phút
 Kết thúc: 3:00



3. 1:10

4) Bắt đầu: 11:15
 Trôi qua: 1 giờ và 45 phút
 Kết thúc: 1:00



4. 11:15

5) Bắt đầu: 3:25
 Trôi qua: 2 giờ và 10 phút
 Kết thúc: 5:35



5. 3:25

6) Bắt đầu: 3:20
 Trôi qua: 2 giờ và 35 phút
 Kết thúc: 5:55



6. 3:20

7) Bắt đầu: 10:35
 Trôi qua: 1 giờ và 50 phút
 Kết thúc: 12:25



7. 10:35

8) Bắt đầu: 10:00
 Trôi qua: 1 giờ và 30 phút
 Kết thúc: 11:30



8. 10:00



Giải các câu hỏi.

Câu trả lời

1) Bắt đầu: _____

Trôi qua: 1 giờ và 45 phút

Kết thúc: 3:45

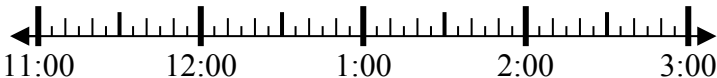


1. _____

2) Bắt đầu: _____

Trôi qua: 2 giờ và 45 phút

Kết thúc: 2:20

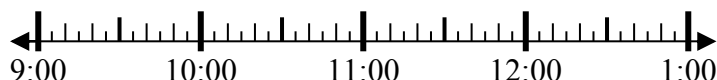


2. _____

3) Bắt đầu: _____

Trôi qua: 1 giờ và 10 phút

Kết thúc: 10:10

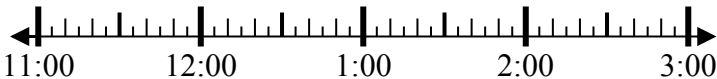


3. _____

4) Bắt đầu: _____

Trôi qua: 1 giờ và 20 phút

Kết thúc: 1:05



4. _____

5) Bắt đầu: _____

Trôi qua: 1 giờ và 15 phút

Kết thúc: 1:35



5. _____

6) Bắt đầu: _____

Trôi qua: 1 giờ và 10 phút

Kết thúc: 6:35



6. _____

7) Bắt đầu: _____

Trôi qua: 1 giờ và 45 phút

Kết thúc: 4:20

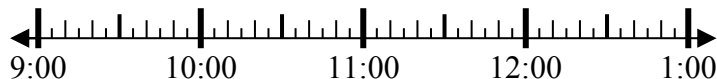


7. _____

8) Bắt đầu: _____

Trôi qua: 2 giờ và 45 phút

Kết thúc: 12:20



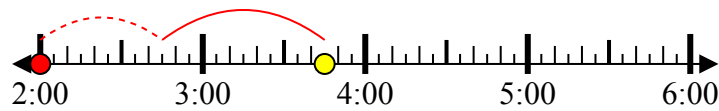
8. _____



Giải các câu hỏi.

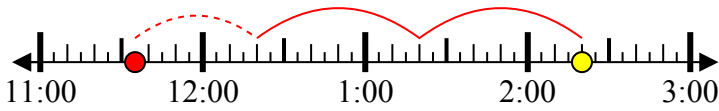
Câu trả lời

1) Bắt đầu: 2:00
 Trôi qua: 1 giờ và 45 phút
 Kết thúc: 3:45



1. 2:00

2) Bắt đầu: 11:35
 Trôi qua: 2 giờ và 45 phút
 Kết thúc: 2:20



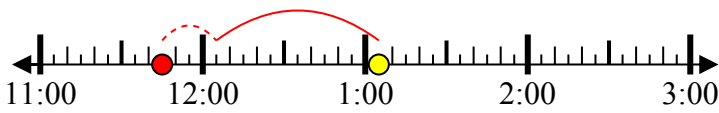
2. 11:35

3) Bắt đầu: 9:00
 Trôi qua: 1 giờ và 10 phút
 Kết thúc: 10:10



3. 9:00

4) Bắt đầu: 11:45
 Trôi qua: 1 giờ và 20 phút
 Kết thúc: 1:05



4. 11:45

5) Bắt đầu: 12:20
 Trôi qua: 1 giờ và 15 phút
 Kết thúc: 1:35



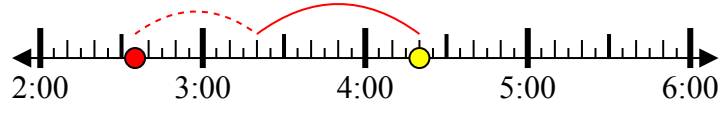
5. 12:20

6) Bắt đầu: 5:25
 Trôi qua: 1 giờ và 10 phút
 Kết thúc: 6:35



6. 5:25

7) Bắt đầu: 2:35
 Trôi qua: 1 giờ và 45 phút
 Kết thúc: 4:20



7. 2:35

8) Bắt đầu: 9:35
 Trôi qua: 2 giờ và 45 phút
 Kết thúc: 12:20



8. 9:35



Giải các câu hỏi.

Câu trả lời

1) Bắt đầu: _____

Trôi qua: 2 giờ và 50 phút

Kết thúc: 5:40

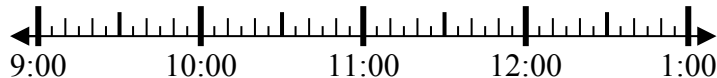


1. _____

2) Bắt đầu: _____

Trôi qua: 1 giờ và 10 phút

Kết thúc: 10:20



2. _____

3) Bắt đầu: _____

Trôi qua: 1 giờ và 15 phút

Kết thúc: 8:20

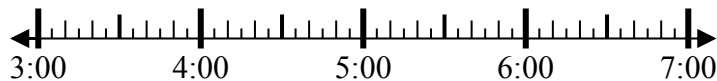


3. _____

4) Bắt đầu: _____

Trôi qua: 1 giờ và 15 phút

Kết thúc: 4:15



4. _____

5) Bắt đầu: _____

Trôi qua: 1 giờ và 40 phút

Kết thúc: 8:55



5. _____

6) Bắt đầu: _____

Trôi qua: 2 giờ và 15 phút

Kết thúc: 7:15



6. _____

7) Bắt đầu: _____

Trôi qua: 2 giờ và 45 phút

Kết thúc: 3:45



7. _____

8) Bắt đầu: _____

Trôi qua: 1 giờ và 20 phút

Kết thúc: 5:55

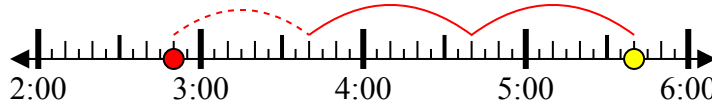


8. _____

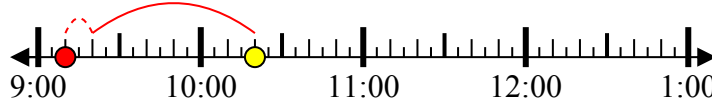


Giải các câu hỏi.

1) Bắt đầu: 2:50
 Trôi qua: 2 giờ và 50 phút
 Kết thúc: 5:40



2) Bắt đầu: 9:10
 Trôi qua: 1 giờ và 10 phút
 Kết thúc: 10:20



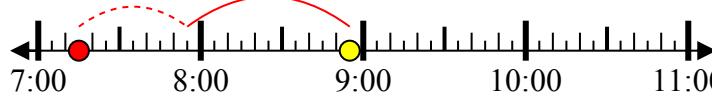
3) Bắt đầu: 7:05
 Trôi qua: 1 giờ và 15 phút
 Kết thúc: 8:20



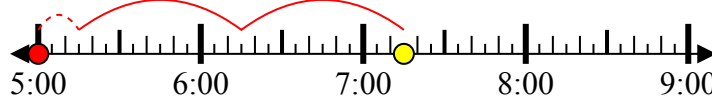
4) Bắt đầu: 3:00
 Trôi qua: 1 giờ và 15 phút
 Kết thúc: 4:15



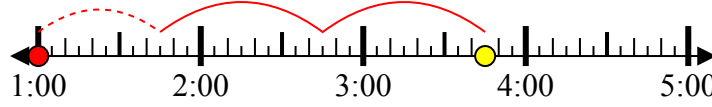
5) Bắt đầu: 7:15
 Trôi qua: 1 giờ và 40 phút
 Kết thúc: 8:55



6) Bắt đầu: 5:00
 Trôi qua: 2 giờ và 15 phút
 Kết thúc: 7:15



7) Bắt đầu: 1:00
 Trôi qua: 2 giờ và 45 phút
 Kết thúc: 3:45



8) Bắt đầu: 4:35
 Trôi qua: 1 giờ và 20 phút
 Kết thúc: 5:55



Câu trả lời

1. 2:50
2. 9:10
3. 7:05
4. 3:00
5. 7:15
6. 5:00
7. 1:00
8. 4:35



Giải các câu hỏi.

Câu trả lời

1) Bắt đầu: _____

Trôi qua: 1 giờ và 25 phút

Kết thúc: 1:35

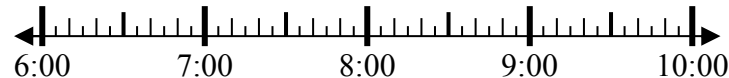


1. _____

2) Bắt đầu: _____

Trôi qua: 2 giờ và 10 phút

Kết thúc: 8:50

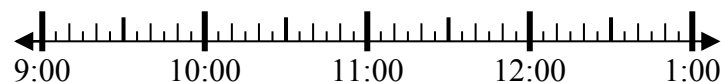


2. _____

3) Bắt đầu: _____

Trôi qua: 2 giờ và 50 phút

Kết thúc: 11:55

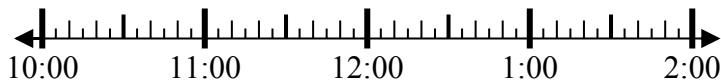


3. _____

4) Bắt đầu: _____

Trôi qua: 2 giờ và 40 phút

Kết thúc: 1:25



4. _____

5) Bắt đầu: _____

Trôi qua: 1 giờ và 30 phút

Kết thúc: 7:05

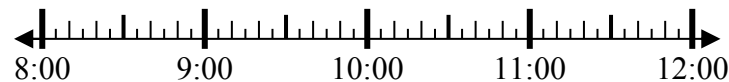


5. _____

6) Bắt đầu: _____

Trôi qua: 2 giờ và 25 phút

Kết thúc: 10:40

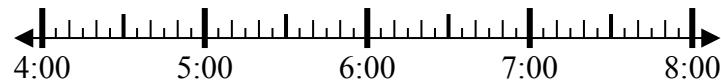


6. _____

7) Bắt đầu: _____

Trôi qua: 2 giờ và 55 phút

Kết thúc: 7:05



7. _____

8) Bắt đầu: _____

Trôi qua: 2 giờ và 20 phút

Kết thúc: 6:20



8. _____



Giải các câu hỏi.

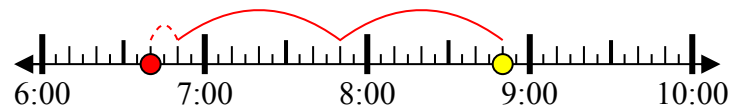
Câu trả lời

1) Bắt đầu: 12:10
 Trôi qua: 1 giờ và 25 phút
 Kết thúc: 1:35



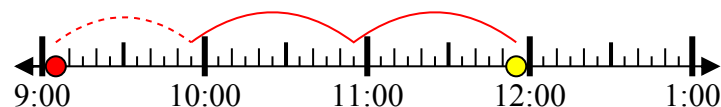
1. 12:10

2) Bắt đầu: 6:40
 Trôi qua: 2 giờ và 10 phút
 Kết thúc: 8:50



2. 6:40

3) Bắt đầu: 9:05
 Trôi qua: 2 giờ và 50 phút
 Kết thúc: 11:55



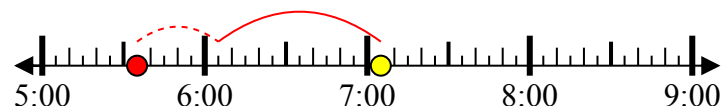
3. 9:05

4) Bắt đầu: 10:45
 Trôi qua: 2 giờ và 40 phút
 Kết thúc: 1:25



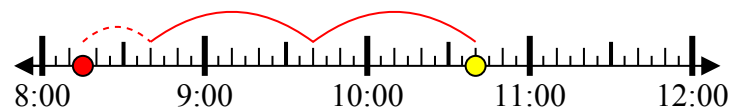
4. 10:45

5) Bắt đầu: 5:35
 Trôi qua: 1 giờ và 30 phút
 Kết thúc: 7:05



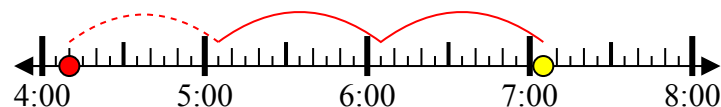
5. 5:35

6) Bắt đầu: 8:15
 Trôi qua: 2 giờ và 25 phút
 Kết thúc: 10:40



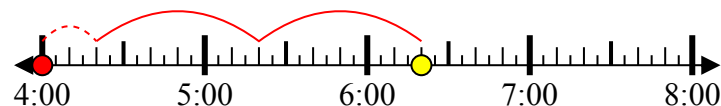
6. 8:15

7) Bắt đầu: 4:10
 Trôi qua: 2 giờ và 55 phút
 Kết thúc: 7:05



7. 4:10

8) Bắt đầu: 4:00
 Trôi qua: 2 giờ và 20 phút
 Kết thúc: 6:20



8. 4:00



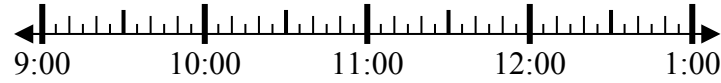
Giải các câu hỏi.

Câu trả lời

1) Bắt đầu: _____

Trôi qua: 2 giờ và 30 phút

Kết thúc: 12:05

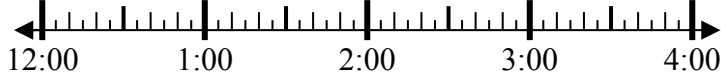


1. _____

2) Bắt đầu: _____

Trôi qua: 1 giờ và 45 phút

Kết thúc: 2:35

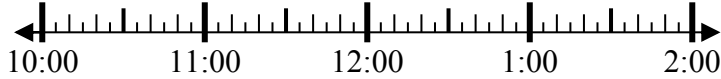


2. _____

3) Bắt đầu: _____

Trôi qua: 1 giờ và 25 phút

Kết thúc: 11:40

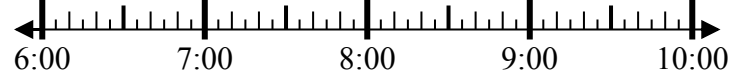


3. _____

4) Bắt đầu: _____

Trôi qua: 1 giờ và 45 phút

Kết thúc: 8:10

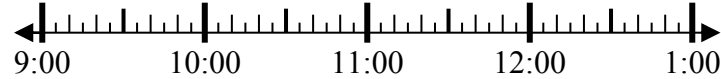


4. _____

5) Bắt đầu: _____

Trôi qua: 1 giờ và 15 phút

Kết thúc: 10:25

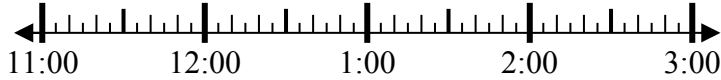


5. _____

6) Bắt đầu: _____

Trôi qua: 2 giờ và 15 phút

Kết thúc: 2:00

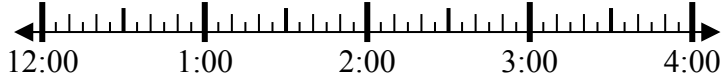


6. _____

7) Bắt đầu: _____

Trôi qua: 1 giờ và 40 phút

Kết thúc: 2:00

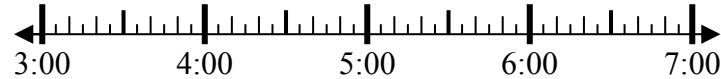


7. _____

8) Bắt đầu: _____

Trôi qua: 1 giờ và 40 phút

Kết thúc: 5:15



8. _____



Giải các câu hỏi.

1) Bắt đầu: 9:35
 Trôi qua: 2 giờ và 30 phút
 Kết thúc: 12:05



2) Bắt đầu: 12:50
 Trôi qua: 1 giờ và 45 phút
 Kết thúc: 2:35



3) Bắt đầu: 10:15
 Trôi qua: 1 giờ và 25 phút
 Kết thúc: 11:40



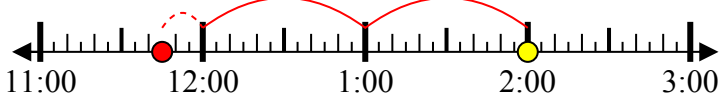
4) Bắt đầu: 6:25
 Trôi qua: 1 giờ và 45 phút
 Kết thúc: 8:10



5) Bắt đầu: 9:10
 Trôi qua: 1 giờ và 15 phút
 Kết thúc: 10:25



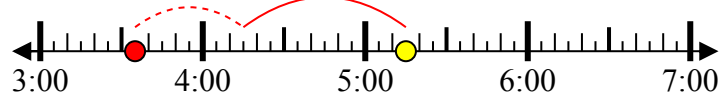
6) Bắt đầu: 11:45
 Trôi qua: 2 giờ và 15 phút
 Kết thúc: 2:00



7) Bắt đầu: 12:20
 Trôi qua: 1 giờ và 40 phút
 Kết thúc: 2:00



8) Bắt đầu: 3:35
 Trôi qua: 1 giờ và 40 phút
 Kết thúc: 5:15



Câu trả lời

1. 9:35
2. 12:50
3. 10:15
4. 6:25
5. 9:10
6. 11:45
7. 12:20
8. 3:35



Giải các câu hỏi.

Câu trả lời

1) Bắt đầu: _____

Trôi qua: 2 giờ và 20 phút

Kết thúc: 9:25



1. _____

2) Bắt đầu: _____

Trôi qua: 2 giờ và 20 phút

Kết thúc: 7:45



2. _____

3) Bắt đầu: _____

Trôi qua: 1 giờ và 35 phút

Kết thúc: 5:50



3. _____

4) Bắt đầu: _____

Trôi qua: 2 giờ và 40 phút

Kết thúc: 2:45

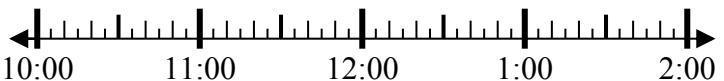


4. _____

5) Bắt đầu: _____

Trôi qua: 1 giờ và 45 phút

Kết thúc: 11:50

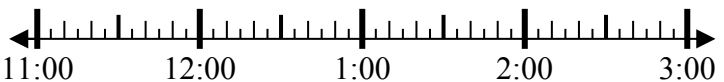


5. _____

6) Bắt đầu: _____

Trôi qua: 2 giờ và 15 phút

Kết thúc: 2:00

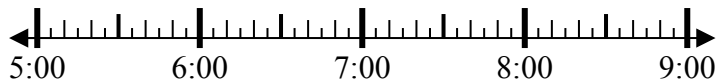


6. _____

7) Bắt đầu: _____

Trôi qua: 1 giờ và 40 phút

Kết thúc: 7:05

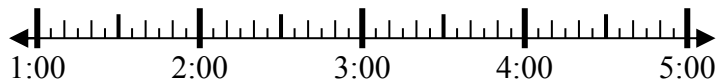


7. _____

8) Bắt đầu: _____

Trôi qua: 1 giờ và 15 phút

Kết thúc: 2:40



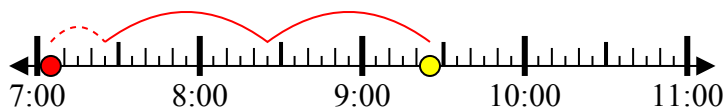
8. _____



Giải các câu hỏi.

Câu trả lời

1) Bắt đầu: 7:05
 Trôi qua: 2 giờ và 20 phút
 Kết thúc: 9:25



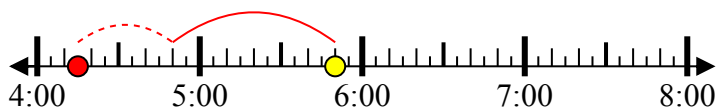
1. 7:05

2) Bắt đầu: 5:25
 Trôi qua: 2 giờ và 20 phút
 Kết thúc: 7:45



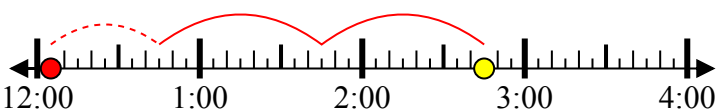
2. 5:25

3) Bắt đầu: 4:15
 Trôi qua: 1 giờ và 35 phút
 Kết thúc: 5:50



3. 4:15

4) Bắt đầu: 12:05
 Trôi qua: 2 giờ và 40 phút
 Kết thúc: 2:45



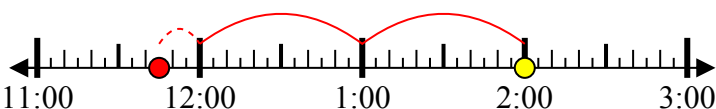
4. 12:05

5) Bắt đầu: 10:05
 Trôi qua: 1 giờ và 45 phút
 Kết thúc: 11:50



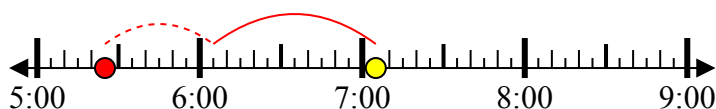
5. 10:05

6) Bắt đầu: 11:45
 Trôi qua: 2 giờ và 15 phút
 Kết thúc: 2:00



6. 11:45

7) Bắt đầu: 5:25
 Trôi qua: 1 giờ và 40 phút
 Kết thúc: 7:05



7. 5:25

8) Bắt đầu: 1:25
 Trôi qua: 1 giờ và 15 phút
 Kết thúc: 2:40



8. 1:25



Giải các câu hỏi.

Câu trả lời

1) Bắt đầu: _____

Trôi qua: 1 giờ và 35 phút

Kết thúc: 1:50

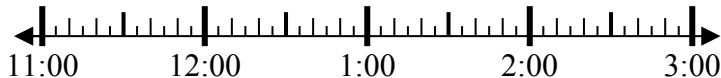


1. _____

2) Bắt đầu: _____

Trôi qua: 1 giờ và 25 phút

Kết thúc: 12:55



2. _____

3) Bắt đầu: _____

Trôi qua: 1 giờ và 35 phút

Kết thúc: 6:45

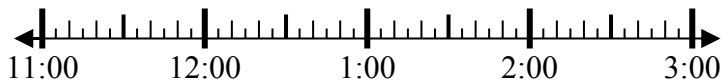


3. _____

4) Bắt đầu: _____

Trôi qua: 1 giờ và 10 phút

Kết thúc: 12:10



4. _____

5) Bắt đầu: _____

Trôi qua: 1 giờ và 10 phút

Kết thúc: 1:40



5. _____

6) Bắt đầu: _____

Trôi qua: 1 giờ và 25 phút

Kết thúc: 2:05

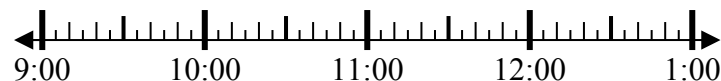


6. _____

7) Bắt đầu: _____

Trôi qua: 1 giờ và 50 phút

Kết thúc: 11:30

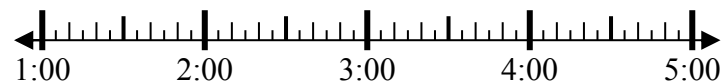


7. _____

8) Bắt đầu: _____

Trôi qua: 2 giờ và 45 phút

Kết thúc: 4:20



8. _____



Giải các câu hỏi.

Câu trả lời

1) Bắt đầu: 12:15
 Trôi qua: 1 giờ và 35 phút
 Kết thúc: 1:50



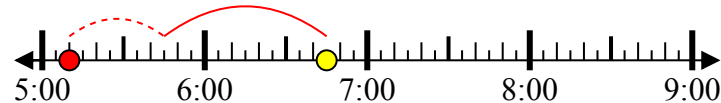
1. 12:15

2) Bắt đầu: 11:30
 Trôi qua: 1 giờ và 25 phút
 Kết thúc: 12:55



2. 11:30

3) Bắt đầu: 5:10
 Trôi qua: 1 giờ và 35 phút
 Kết thúc: 6:45



3. 5:10

4) Bắt đầu: 11:00
 Trôi qua: 1 giờ và 10 phút
 Kết thúc: 12:10



4. 11:00

5) Bắt đầu: 12:30
 Trôi qua: 1 giờ và 10 phút
 Kết thúc: 1:40



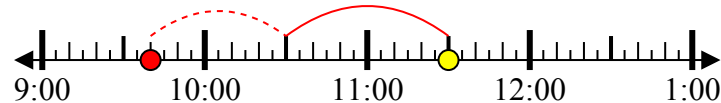
5. 12:30

6) Bắt đầu: 12:40
 Trôi qua: 1 giờ và 25 phút
 Kết thúc: 2:05



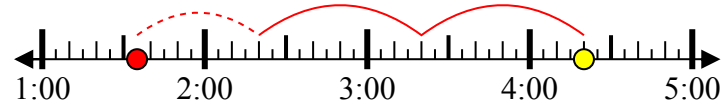
6. 12:40

7) Bắt đầu: 9:40
 Trôi qua: 1 giờ và 50 phút
 Kết thúc: 11:30



7. 9:40

8) Bắt đầu: 1:35
 Trôi qua: 2 giờ và 45 phút
 Kết thúc: 4:20



8. 1:35



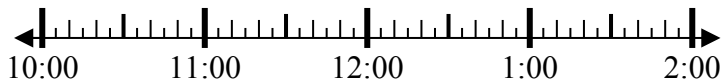
Giải các câu hỏi.

Câu trả lời

1) Bắt đầu: _____

Trôi qua: 2 giờ và 30 phút

Kết thúc: 1:20

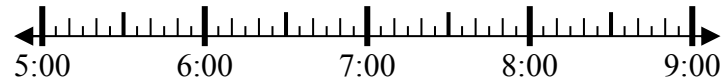


1. _____

2) Bắt đầu: _____

Trôi qua: 1 giờ và 25 phút

Kết thúc: 6:35

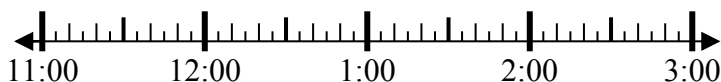


2. _____

3) Bắt đầu: _____

Trôi qua: 1 giờ và 35 phút

Kết thúc: 1:15

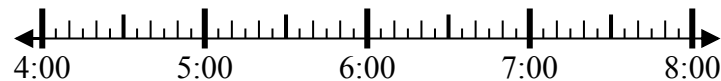


3. _____

4) Bắt đầu: _____

Trôi qua: 2 giờ và 15 phút

Kết thúc: 6:35



4. _____

5) Bắt đầu: _____

Trôi qua: 2 giờ và 25 phút

Kết thúc: 7:40

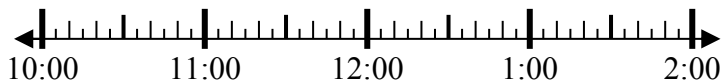


5. _____

6) Bắt đầu: _____

Trôi qua: 2 giờ và 35 phút

Kết thúc: 12:55

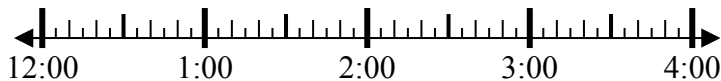


6. _____

7) Bắt đầu: _____

Trôi qua: 2 giờ và 50 phút

Kết thúc: 3:35

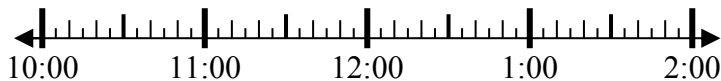


7. _____

8) Bắt đầu: _____

Trôi qua: 1 giờ và 30 phút

Kết thúc: 12:10



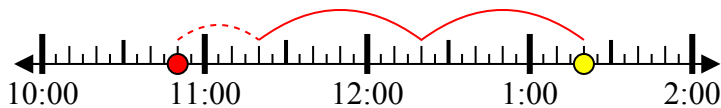
8. _____



Giải các câu hỏi.

Câu trả lời

1) Bắt đầu: 10:50
 Trôi qua: 2 giờ và 30 phút
 Kết thúc: 1:20



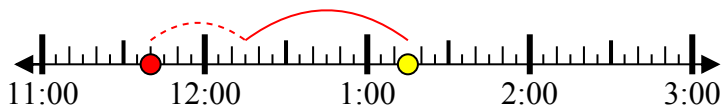
1. 10:50

2) Bắt đầu: 5:10
 Trôi qua: 1 giờ và 25 phút
 Kết thúc: 6:35



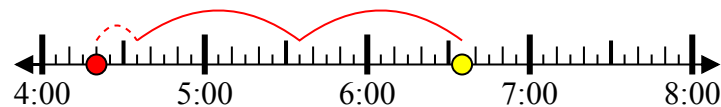
2. 5:10

3) Bắt đầu: 11:40
 Trôi qua: 1 giờ và 35 phút
 Kết thúc: 1:15



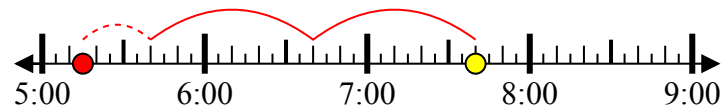
3. 11:40

4) Bắt đầu: 4:20
 Trôi qua: 2 giờ và 15 phút
 Kết thúc: 6:35



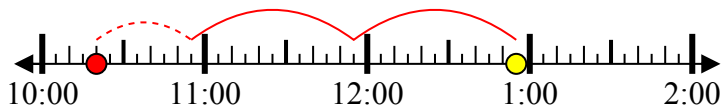
4. 4:20

5) Bắt đầu: 5:15
 Trôi qua: 2 giờ và 25 phút
 Kết thúc: 7:40



5. 5:15

6) Bắt đầu: 10:20
 Trôi qua: 2 giờ và 35 phút
 Kết thúc: 12:55



6. 10:20

7) Bắt đầu: 12:45
 Trôi qua: 2 giờ và 50 phút
 Kết thúc: 3:35



7. 12:45

8) Bắt đầu: 10:40
 Trôi qua: 1 giờ và 30 phút
 Kết thúc: 12:10



8. 10:40



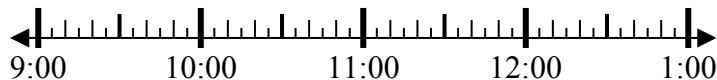
Giải các câu hỏi.

Câu trả lời

1) Bắt đầu: _____

Trôi qua: 1 giờ và 25 phút

Kết thúc: 10:45

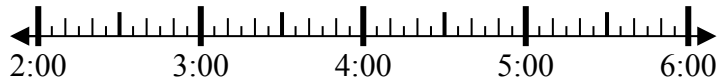


1. _____

2) Bắt đầu: _____

Trôi qua: 2 giờ và 55 phút

Kết thúc: 4:55



2. _____

3) Bắt đầu: _____

Trôi qua: 2 giờ và 15 phút

Kết thúc: 9:55



3. _____

4) Bắt đầu: _____

Trôi qua: 1 giờ và 10 phút

Kết thúc: 8:25

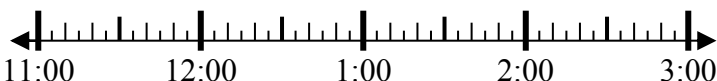


4. _____

5) Bắt đầu: _____

Trôi qua: 2 giờ và 25 phút

Kết thúc: 1:40



5. _____

6) Bắt đầu: _____

Trôi qua: 1 giờ và 25 phút

Kết thúc: 6:55



6. _____

7) Bắt đầu: _____

Trôi qua: 2 giờ và 40 phút

Kết thúc: 2:40



7. _____

8) Bắt đầu: _____

Trôi qua: 1 giờ và 20 phút

Kết thúc: 1:35



8. _____



Giải các câu hỏi.

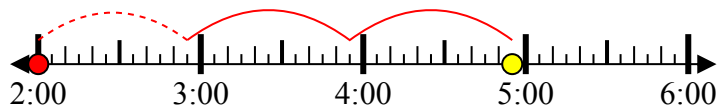
Câu trả lời

1) Bắt đầu: 9:20
 Trôi qua: 1 giờ và 25 phút
 Kết thúc: 10:45



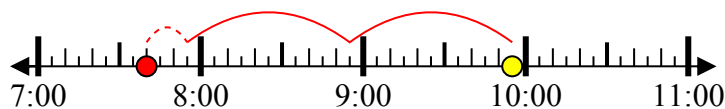
1. 9:20

2) Bắt đầu: 2:00
 Trôi qua: 2 giờ và 55 phút
 Kết thúc: 4:55



2. 2:00

3) Bắt đầu: 7:40
 Trôi qua: 2 giờ và 15 phút
 Kết thúc: 9:55



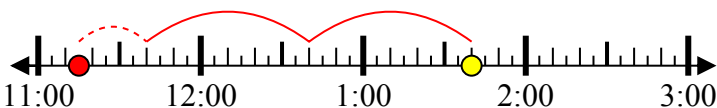
3. 7:40

4) Bắt đầu: 7:15
 Trôi qua: 1 giờ và 10 phút
 Kết thúc: 8:25



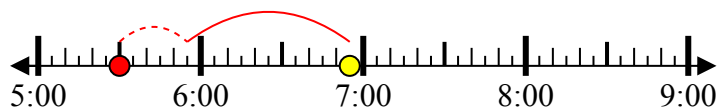
4. 7:15

5) Bắt đầu: 11:15
 Trôi qua: 2 giờ và 25 phút
 Kết thúc: 1:40



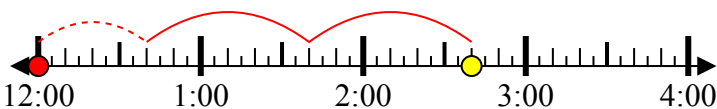
5. 11:15

6) Bắt đầu: 5:30
 Trôi qua: 1 giờ và 25 phút
 Kết thúc: 6:55



6. 5:30

7) Bắt đầu: 12:00
 Trôi qua: 2 giờ và 40 phút
 Kết thúc: 2:40



7. 12:00

8) Bắt đầu: 12:15
 Trôi qua: 1 giờ và 20 phút
 Kết thúc: 1:35



8. 12:15