



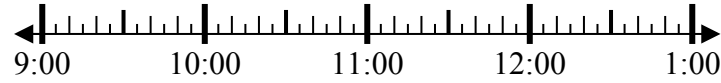
**Giải các câu hỏi.**

**Câu trả lời**

1) Bắt đầu: \_\_\_\_\_

Trôi qua: 2 giờ và 30 phút

Kết thúc: 12:05

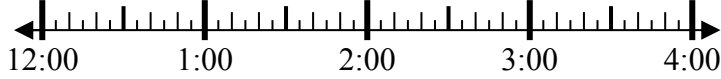


1. \_\_\_\_\_

2) Bắt đầu: \_\_\_\_\_

Trôi qua: 1 giờ và 45 phút

Kết thúc: 2:35

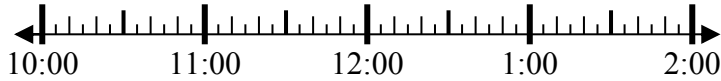


2. \_\_\_\_\_

3) Bắt đầu: \_\_\_\_\_

Trôi qua: 1 giờ và 25 phút

Kết thúc: 11:40



3. \_\_\_\_\_

4) Bắt đầu: \_\_\_\_\_

Trôi qua: 1 giờ và 45 phút

Kết thúc: 8:10

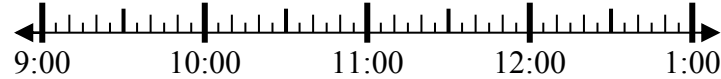


4. \_\_\_\_\_

5) Bắt đầu: \_\_\_\_\_

Trôi qua: 1 giờ và 15 phút

Kết thúc: 10:25

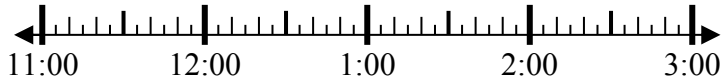


5. \_\_\_\_\_

6) Bắt đầu: \_\_\_\_\_

Trôi qua: 2 giờ và 15 phút

Kết thúc: 2:00

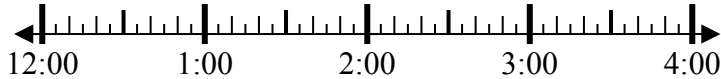


6. \_\_\_\_\_

7) Bắt đầu: \_\_\_\_\_

Trôi qua: 1 giờ và 40 phút

Kết thúc: 2:00

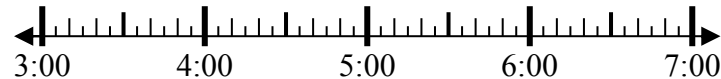


7. \_\_\_\_\_

8) Bắt đầu: \_\_\_\_\_

Trôi qua: 1 giờ và 40 phút

Kết thúc: 5:15



8. \_\_\_\_\_



**Giải các câu hỏi.**

**Câu trả lời**

1) Bắt đầu: 9:35  
 Trôi qua: 2 giờ và 30 phút  
 Kết thúc: 12:05



1. 9:35

2) Bắt đầu: 12:50  
 Trôi qua: 1 giờ và 45 phút  
 Kết thúc: 2:35



2. 12:50

3) Bắt đầu: 10:15  
 Trôi qua: 1 giờ và 25 phút  
 Kết thúc: 11:40



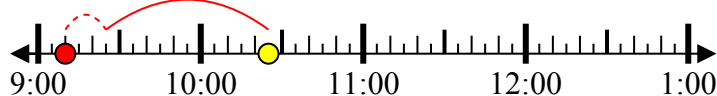
3. 10:15

4) Bắt đầu: 6:25  
 Trôi qua: 1 giờ và 45 phút  
 Kết thúc: 8:10



4. 6:25

5) Bắt đầu: 9:10  
 Trôi qua: 1 giờ và 15 phút  
 Kết thúc: 10:25



5. 9:10

6) Bắt đầu: 11:45  
 Trôi qua: 2 giờ và 15 phút  
 Kết thúc: 2:00



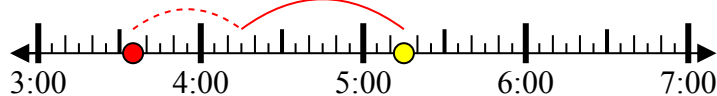
6. 11:45

7) Bắt đầu: 12:20  
 Trôi qua: 1 giờ và 40 phút  
 Kết thúc: 2:00



7. 12:20

8) Bắt đầu: 3:35  
 Trôi qua: 1 giờ và 40 phút  
 Kết thúc: 5:15



8. 3:35