



**Giải các câu hỏi.**

**Câu trả lời**

1) Bắt đầu: \_\_\_\_\_

Trôi qua: 1 giờ và 25 phút

Kết thúc: 1:35

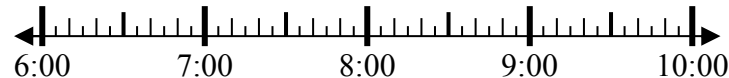


1. \_\_\_\_\_

2) Bắt đầu: \_\_\_\_\_

Trôi qua: 2 giờ và 10 phút

Kết thúc: 8:50

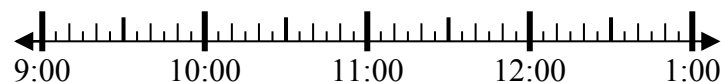


2. \_\_\_\_\_

3) Bắt đầu: \_\_\_\_\_

Trôi qua: 2 giờ và 50 phút

Kết thúc: 11:55

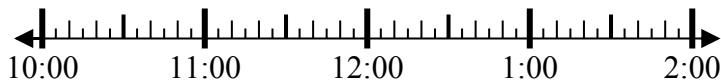


3. \_\_\_\_\_

4) Bắt đầu: \_\_\_\_\_

Trôi qua: 2 giờ và 40 phút

Kết thúc: 1:25

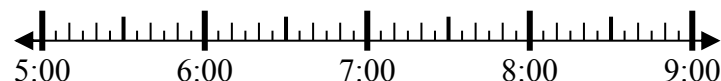


4. \_\_\_\_\_

5) Bắt đầu: \_\_\_\_\_

Trôi qua: 1 giờ và 30 phút

Kết thúc: 7:05



5. \_\_\_\_\_

6) Bắt đầu: \_\_\_\_\_

Trôi qua: 2 giờ và 25 phút

Kết thúc: 10:40

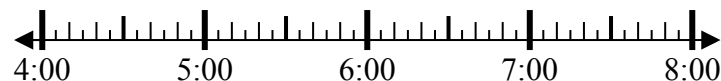


6. \_\_\_\_\_

7) Bắt đầu: \_\_\_\_\_

Trôi qua: 2 giờ và 55 phút

Kết thúc: 7:05

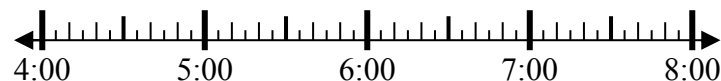


7. \_\_\_\_\_

8) Bắt đầu: \_\_\_\_\_

Trôi qua: 2 giờ và 20 phút

Kết thúc: 6:20



8. \_\_\_\_\_



**Giải các câu hỏi.**

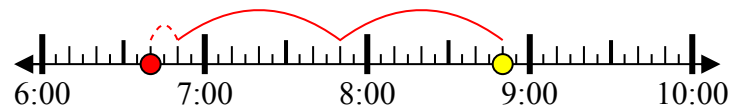
**Câu trả lời**

1) Bắt đầu: 12:10  
 Trôi qua: 1 giờ và 25 phút  
 Kết thúc: 1:35



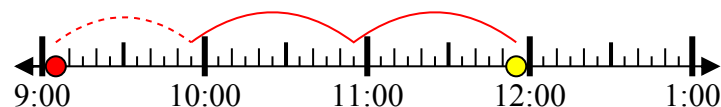
1. 12:10

2) Bắt đầu: 6:40  
 Trôi qua: 2 giờ và 10 phút  
 Kết thúc: 8:50



2. 6:40

3) Bắt đầu: 9:05  
 Trôi qua: 2 giờ và 50 phút  
 Kết thúc: 11:55



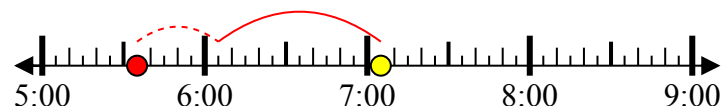
3. 9:05

4) Bắt đầu: 10:45  
 Trôi qua: 2 giờ và 40 phút  
 Kết thúc: 1:25



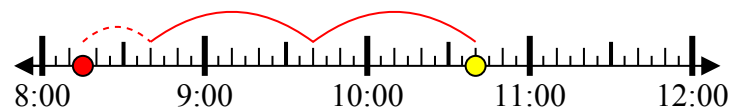
4. 10:45

5) Bắt đầu: 5:35  
 Trôi qua: 1 giờ và 30 phút  
 Kết thúc: 7:05



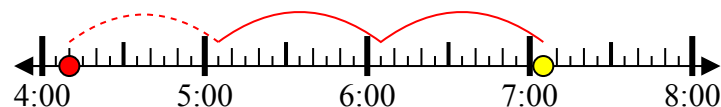
5. 5:35

6) Bắt đầu: 8:15  
 Trôi qua: 2 giờ và 25 phút  
 Kết thúc: 10:40



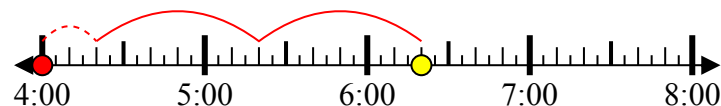
6. 8:15

7) Bắt đầu: 4:10  
 Trôi qua: 2 giờ và 55 phút  
 Kết thúc: 7:05



7. 4:10

8) Bắt đầu: 4:00  
 Trôi qua: 2 giờ và 20 phút  
 Kết thúc: 6:20



8. 4:00