



**Giải các câu hỏi.**

**Câu trả lời**

1) Bắt đầu: \_\_\_\_\_

Trôi qua: 2 giờ và 50 phút

Kết thúc: 5:40

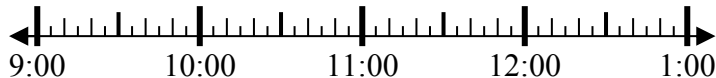


1. \_\_\_\_\_

2) Bắt đầu: \_\_\_\_\_

Trôi qua: 1 giờ và 10 phút

Kết thúc: 10:20



2. \_\_\_\_\_

3) Bắt đầu: \_\_\_\_\_

Trôi qua: 1 giờ và 15 phút

Kết thúc: 8:20



3. \_\_\_\_\_

4) Bắt đầu: \_\_\_\_\_

Trôi qua: 1 giờ và 15 phút

Kết thúc: 4:15



4. \_\_\_\_\_

5) Bắt đầu: \_\_\_\_\_

Trôi qua: 1 giờ và 40 phút

Kết thúc: 8:55



5. \_\_\_\_\_

6) Bắt đầu: \_\_\_\_\_

Trôi qua: 2 giờ và 15 phút

Kết thúc: 7:15

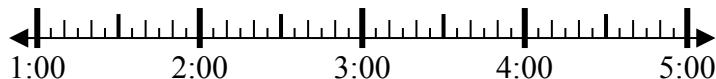


6. \_\_\_\_\_

7) Bắt đầu: \_\_\_\_\_

Trôi qua: 2 giờ và 45 phút

Kết thúc: 3:45



7. \_\_\_\_\_

8) Bắt đầu: \_\_\_\_\_

Trôi qua: 1 giờ và 20 phút

Kết thúc: 5:55

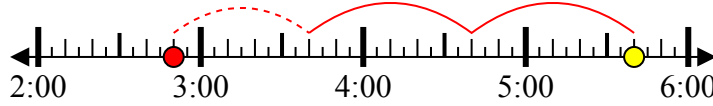


8. \_\_\_\_\_

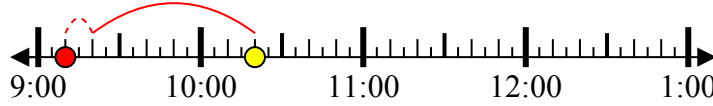


**Giải các câu hỏi.**

1) Bắt đầu: 2:50  
 Trôi qua: 2 giờ và 50 phút  
 Kết thúc: 5:40



2) Bắt đầu: 9:10  
 Trôi qua: 1 giờ và 10 phút  
 Kết thúc: 10:20



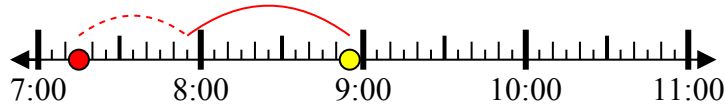
3) Bắt đầu: 7:05  
 Trôi qua: 1 giờ và 15 phút  
 Kết thúc: 8:20



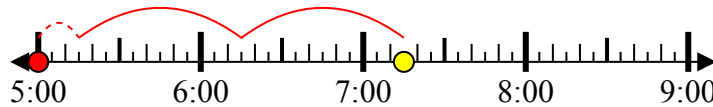
4) Bắt đầu: 3:00  
 Trôi qua: 1 giờ và 15 phút  
 Kết thúc: 4:15



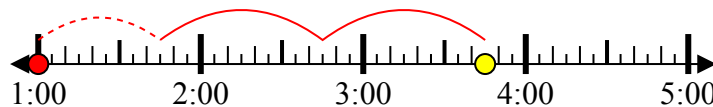
5) Bắt đầu: 7:15  
 Trôi qua: 1 giờ và 40 phút  
 Kết thúc: 8:55



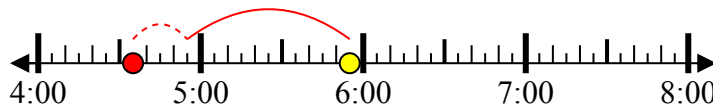
6) Bắt đầu: 5:00  
 Trôi qua: 2 giờ và 15 phút  
 Kết thúc: 7:15



7) Bắt đầu: 1:00  
 Trôi qua: 2 giờ và 45 phút  
 Kết thúc: 3:45



8) Bắt đầu: 4:35  
 Trôi qua: 1 giờ và 20 phút  
 Kết thúc: 5:55



**Câu trả lời**

1. 2:50
2. 9:10
3. 7:05
4. 3:00
5. 7:15
6. 5:00
7. 1:00
8. 4:35