



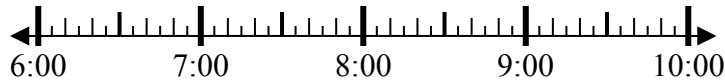
Giải các câu hỏi.

Câu trả lời

1) Bắt đầu: _____

Trôi qua: 1 giờ và 10 phút

Kết thúc: 7:55

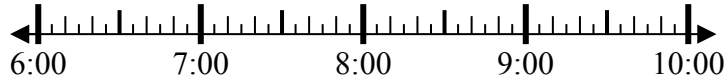


1. _____

2) Bắt đầu: _____

Trôi qua: 2 giờ và 40 phút

Kết thúc: 9:05



2. _____

3) Bắt đầu: _____

Trôi qua: 1 giờ và 50 phút

Kết thúc: 3:00



3. _____

4) Bắt đầu: _____

Trôi qua: 1 giờ và 45 phút

Kết thúc: 1:00



4. _____

5) Bắt đầu: _____

Trôi qua: 2 giờ và 10 phút

Kết thúc: 5:35



5. _____

6) Bắt đầu: _____

Trôi qua: 2 giờ và 35 phút

Kết thúc: 5:55

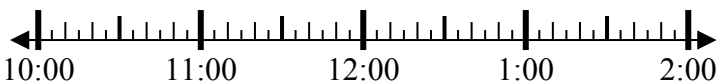


6. _____

7) Bắt đầu: _____

Trôi qua: 1 giờ và 50 phút

Kết thúc: 12:25

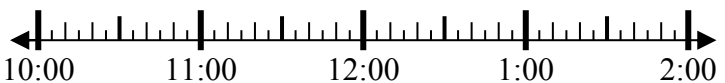


7. _____

8) Bắt đầu: _____

Trôi qua: 1 giờ và 30 phút

Kết thúc: 11:30



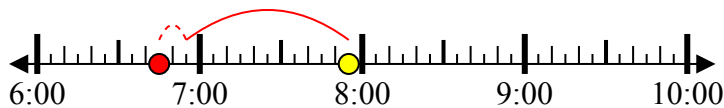
8. _____



Giải các câu hỏi.

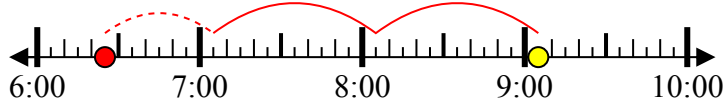
Câu trả lời

1) Bắt đầu: 6:45
 Trôi qua: 1 giờ và 10 phút
 Kết thúc: 7:55



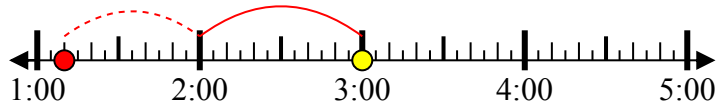
1. 6:45

2) Bắt đầu: 6:25
 Trôi qua: 2 giờ và 40 phút
 Kết thúc: 9:05



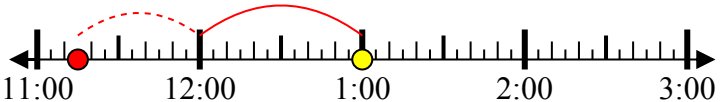
2. 6:25

3) Bắt đầu: 1:10
 Trôi qua: 1 giờ và 50 phút
 Kết thúc: 3:00



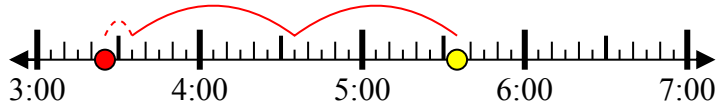
3. 1:10

4) Bắt đầu: 11:15
 Trôi qua: 1 giờ và 45 phút
 Kết thúc: 1:00



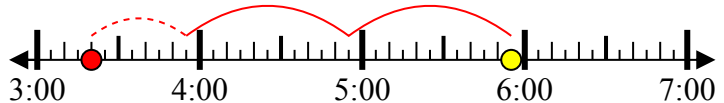
4. 11:15

5) Bắt đầu: 3:25
 Trôi qua: 2 giờ và 10 phút
 Kết thúc: 5:35



5. 3:25

6) Bắt đầu: 3:20
 Trôi qua: 2 giờ và 35 phút
 Kết thúc: 5:55



6. 3:20

7) Bắt đầu: 10:35
 Trôi qua: 1 giờ và 50 phút
 Kết thúc: 12:25



7. 10:35

8) Bắt đầu: 10:00
 Trôi qua: 1 giờ và 30 phút
 Kết thúc: 11:30



8. 10:00