



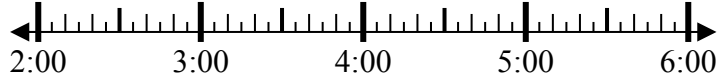
Giải các câu hỏi.

Câu trả lời

1) Bắt đầu: _____

Trôi qua: 1 giờ và 40 phút

Kết thúc: 3:55



1. _____

2) Bắt đầu: _____

Trôi qua: 2 giờ và 45 phút

Kết thúc: 4:55



2. _____

3) Bắt đầu: _____

Trôi qua: 2 giờ và 10 phút

Kết thúc: 4:55



3. _____

4) Bắt đầu: _____

Trôi qua: 1 giờ và 20 phút

Kết thúc: 3:40



4. _____

5) Bắt đầu: _____

Trôi qua: 2 giờ và 25 phút

Kết thúc: 1:30

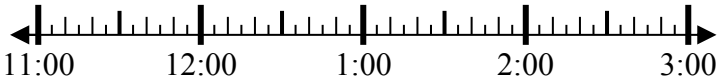


5. _____

6) Bắt đầu: _____

Trôi qua: 2 giờ và 20 phút

Kết thúc: 1:25

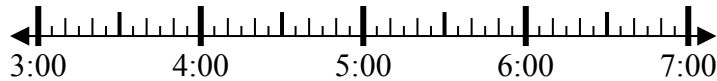


6. _____

7) Bắt đầu: _____

Trôi qua: 2 giờ và 20 phút

Kết thúc: 6:05

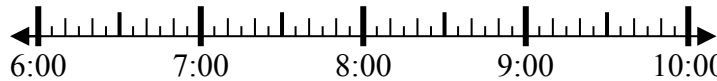


7. _____

8) Bắt đầu: _____

Trôi qua: 1 giờ và 30 phút

Kết thúc: 7:50



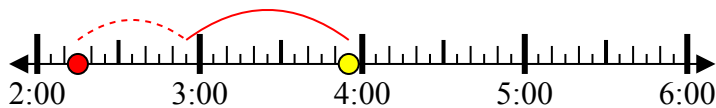
8. _____



Giải các câu hỏi.

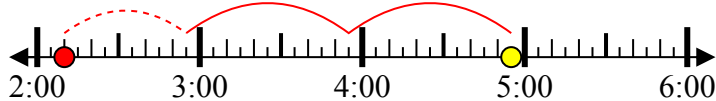
Câu trả lời

1) Bắt đầu: 2:15
Trôi qua: 1 giờ và 40 phút
Kết thúc: 3:55



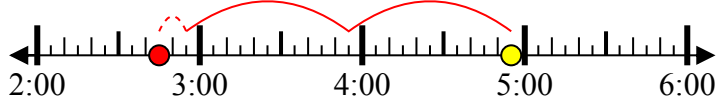
1. 2:15

2) Bắt đầu: 2:10
Trôi qua: 2 giờ và 45 phút
Kết thúc: 4:55



2. 2:10

3) Bắt đầu: 2:45
Trôi qua: 2 giờ và 10 phút
Kết thúc: 4:55



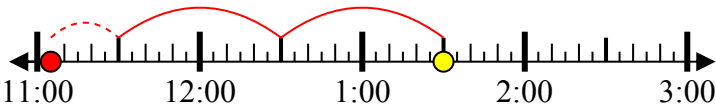
3. 2:45

4) Bắt đầu: 2:20
Trôi qua: 1 giờ và 20 phút
Kết thúc: 3:40



4. 2:20

5) Bắt đầu: 11:05
Trôi qua: 2 giờ và 25 phút
Kết thúc: 1:30



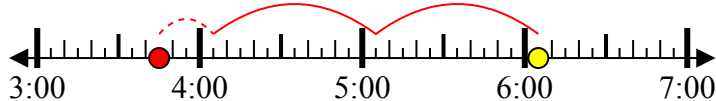
5. 11:05

6) Bắt đầu: 11:05
Trôi qua: 2 giờ và 20 phút
Kết thúc: 1:25



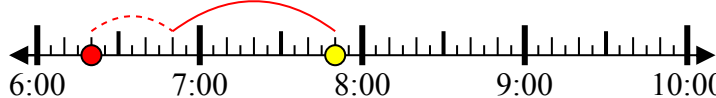
6. 11:05

7) Bắt đầu: 3:45
Trôi qua: 2 giờ và 20 phút
Kết thúc: 6:05



7. 3:45

8) Bắt đầu: 6:20
Trôi qua: 1 giờ và 30 phút
Kết thúc: 7:50



8. 6:20