



**Giải các câu hỏi.**

**Câu trả lời**

1) Bắt đầu: 2:15

Trôi qua: 1 giờ và 40 phút

Kết thúc: \_\_\_\_\_



1. \_\_\_\_\_

2) Bắt đầu: 2:10

Trôi qua: 2 giờ và 45 phút

Kết thúc: \_\_\_\_\_

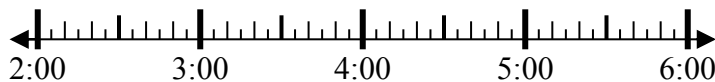


2. \_\_\_\_\_

3) Bắt đầu: 2:45

Trôi qua: 2 giờ và 10 phút

Kết thúc: \_\_\_\_\_

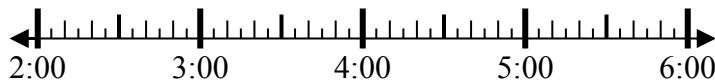


3. \_\_\_\_\_

4) Bắt đầu: 2:20

Trôi qua: 1 giờ và 20 phút

Kết thúc: \_\_\_\_\_

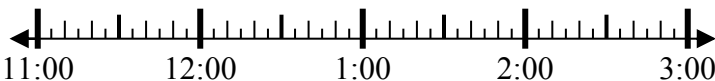


4. \_\_\_\_\_

5) Bắt đầu: 11:05

Trôi qua: 2 giờ và 25 phút

Kết thúc: \_\_\_\_\_

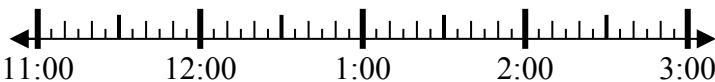


5. \_\_\_\_\_

6) Bắt đầu: 11:05

Trôi qua: 2 giờ và 20 phút

Kết thúc: \_\_\_\_\_

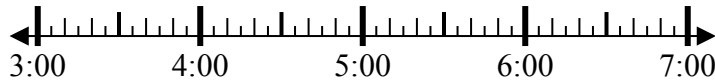


6. \_\_\_\_\_

7) Bắt đầu: 3:45

Trôi qua: 2 giờ và 20 phút

Kết thúc: \_\_\_\_\_

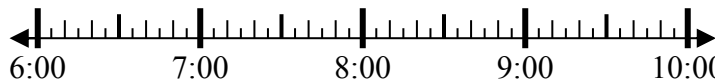


7. \_\_\_\_\_

8) Bắt đầu: 6:20

Trôi qua: 1 giờ và 30 phút

Kết thúc: \_\_\_\_\_



8. \_\_\_\_\_

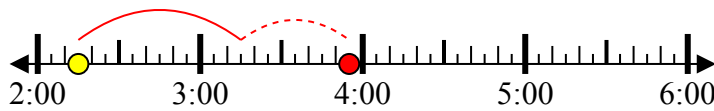


**Giải các câu hỏi.**

1) Bắt đầu: 2:15

Trôi qua: 1 giờ và 40 phút

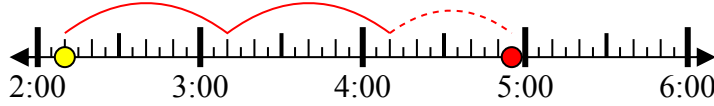
Kết thúc: 3:55



2) Bắt đầu: 2:10

Trôi qua: 2 giờ và 45 phút

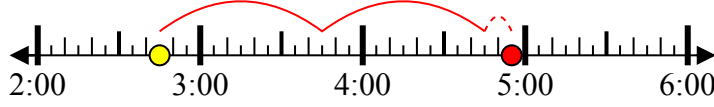
Kết thúc: 4:55



3) Bắt đầu: 2:45

Trôi qua: 2 giờ và 10 phút

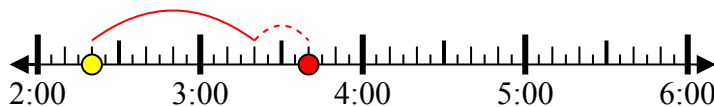
Kết thúc: 4:55



4) Bắt đầu: 2:20

Trôi qua: 1 giờ và 20 phút

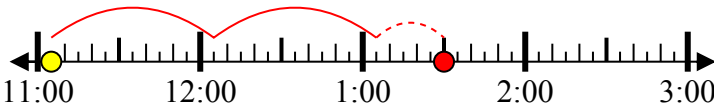
Kết thúc: 3:40



5) Bắt đầu: 11:05

Trôi qua: 2 giờ và 25 phút

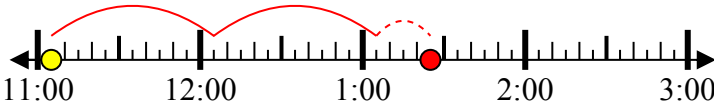
Kết thúc: 1:30



6) Bắt đầu: 11:05

Trôi qua: 2 giờ và 20 phút

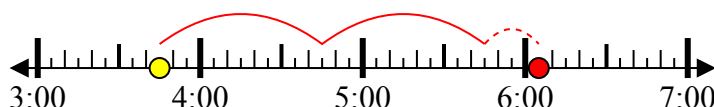
Kết thúc: 1:25



7) Bắt đầu: 3:45

Trôi qua: 2 giờ và 20 phút

Kết thúc: 6:05



8) Bắt đầu: 6:20

Trôi qua: 1 giờ và 30 phút

Kết thúc: 7:50



**Câu trả lời**

1. 3:55

2. 4:55

3. 4:55

4. 3:40

5. 1:30

6. 1:25

7. 6:05

8. 7:50



**Giải các câu hỏi.**

**Câu trả lời**

1) Bắt đầu: 6:45

Trôi qua: 1 giờ và 10 phút

Kết thúc: \_\_\_\_\_

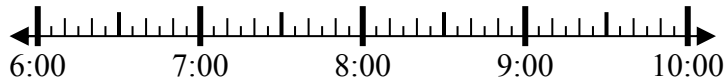


1. \_\_\_\_\_

2) Bắt đầu: 6:25

Trôi qua: 2 giờ và 40 phút

Kết thúc: \_\_\_\_\_



2. \_\_\_\_\_

3) Bắt đầu: 1:10

Trôi qua: 1 giờ và 50 phút

Kết thúc: \_\_\_\_\_



3. \_\_\_\_\_

4) Bắt đầu: 11:15

Trôi qua: 1 giờ và 45 phút

Kết thúc: \_\_\_\_\_



4. \_\_\_\_\_

5) Bắt đầu: 3:25

Trôi qua: 2 giờ và 10 phút

Kết thúc: \_\_\_\_\_



5. \_\_\_\_\_

6) Bắt đầu: 3:20

Trôi qua: 2 giờ và 35 phút

Kết thúc: \_\_\_\_\_

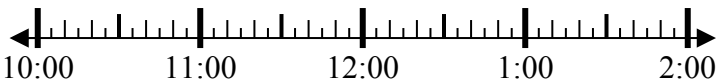


6. \_\_\_\_\_

7) Bắt đầu: 10:35

Trôi qua: 1 giờ và 50 phút

Kết thúc: \_\_\_\_\_

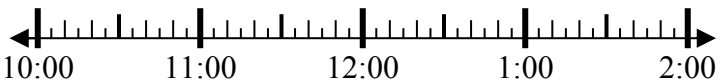


7. \_\_\_\_\_

8) Bắt đầu: 10:00

Trôi qua: 1 giờ và 30 phút

Kết thúc: \_\_\_\_\_



8. \_\_\_\_\_



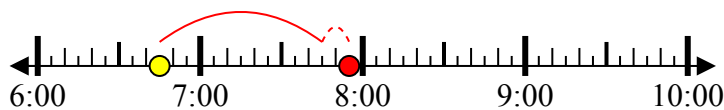
**Giải các câu hỏi.**

**Câu trả lời**

1) Bắt đầu: 6:45

Trôi qua: 1 giờ và 10 phút

Kết thúc: 7:55



1. 7:55

2) Bắt đầu: 6:25

Trôi qua: 2 giờ và 40 phút

Kết thúc: 9:05

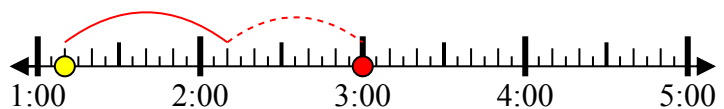


2. 9:05

3) Bắt đầu: 1:10

Trôi qua: 1 giờ và 50 phút

Kết thúc: 3:00

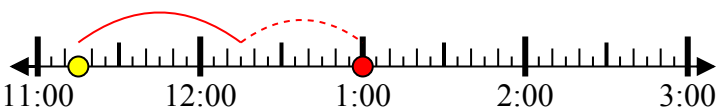


3. 3:00

4) Bắt đầu: 11:15

Trôi qua: 1 giờ và 45 phút

Kết thúc: 1:00

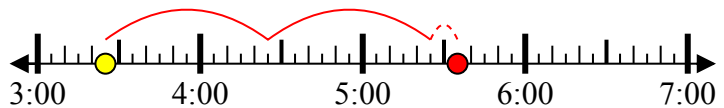


4. 1:00

5) Bắt đầu: 3:25

Trôi qua: 2 giờ và 10 phút

Kết thúc: 5:35



5. 5:35

6) Bắt đầu: 3:20

Trôi qua: 2 giờ và 35 phút

Kết thúc: 5:55



6. 5:55

7) Bắt đầu: 10:35

Trôi qua: 1 giờ và 50 phút

Kết thúc: 12:25



7. 12:25

8) Bắt đầu: 10:00

Trôi qua: 1 giờ và 30 phút

Kết thúc: 11:30



8. 11:30



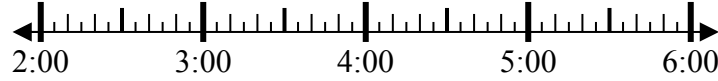
**Giải các câu hỏi.**

**Câu trả lời**

1) Bắt đầu: 2:00

Trôi qua: 1 giờ và 45 phút

Kết thúc: \_\_\_\_\_

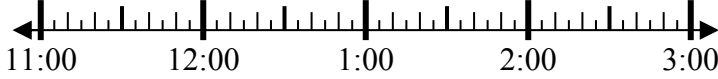


1. \_\_\_\_\_

2) Bắt đầu: 11:35

Trôi qua: 2 giờ và 45 phút

Kết thúc: \_\_\_\_\_

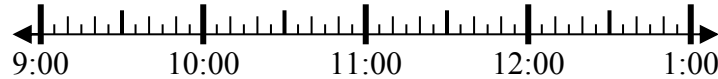


2. \_\_\_\_\_

3) Bắt đầu: 9:00

Trôi qua: 1 giờ và 10 phút

Kết thúc: \_\_\_\_\_

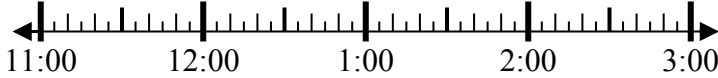


3. \_\_\_\_\_

4) Bắt đầu: 11:45

Trôi qua: 1 giờ và 20 phút

Kết thúc: \_\_\_\_\_

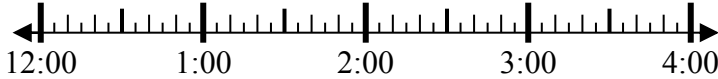


4. \_\_\_\_\_

5) Bắt đầu: 12:20

Trôi qua: 1 giờ và 15 phút

Kết thúc: \_\_\_\_\_

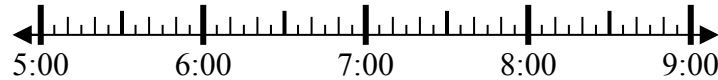


5. \_\_\_\_\_

6) Bắt đầu: 5:25

Trôi qua: 1 giờ và 10 phút

Kết thúc: \_\_\_\_\_



6. \_\_\_\_\_

7) Bắt đầu: 2:35

Trôi qua: 1 giờ và 45 phút

Kết thúc: \_\_\_\_\_

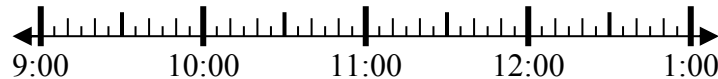


7. \_\_\_\_\_

8) Bắt đầu: 9:35

Trôi qua: 2 giờ và 45 phút

Kết thúc: \_\_\_\_\_



8. \_\_\_\_\_

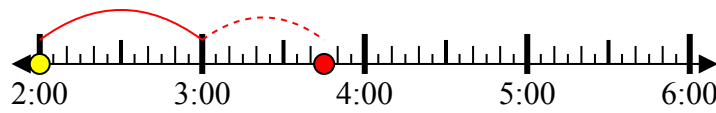


**Giải các câu hỏi.**

1) Bắt đầu: 2:00

Trôi qua: 1 giờ và 45 phút

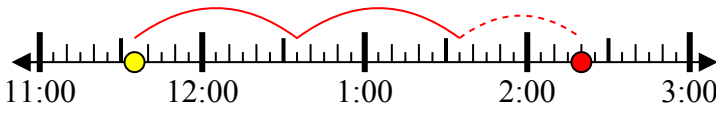
Kết thúc: 3:45



2) Bắt đầu: 11:35

Trôi qua: 2 giờ và 45 phút

Kết thúc: 2:20



3) Bắt đầu: 9:00

Trôi qua: 1 giờ và 10 phút

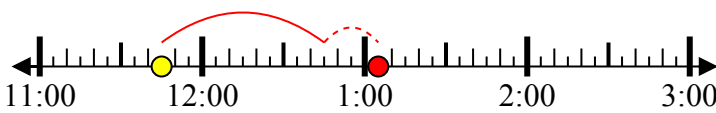
Kết thúc: 10:10



4) Bắt đầu: 11:45

Trôi qua: 1 giờ và 20 phút

Kết thúc: 1:05



5) Bắt đầu: 12:20

Trôi qua: 1 giờ và 15 phút

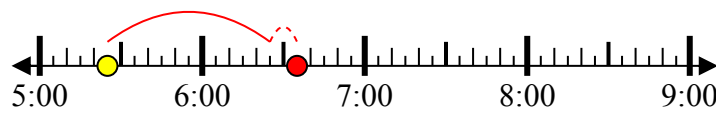
Kết thúc: 1:35



6) Bắt đầu: 5:25

Trôi qua: 1 giờ và 10 phút

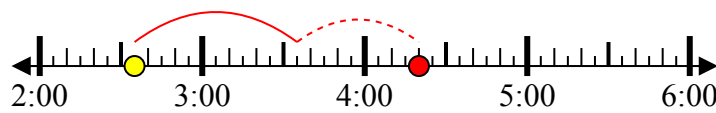
Kết thúc: 6:35



7) Bắt đầu: 2:35

Trôi qua: 1 giờ và 45 phút

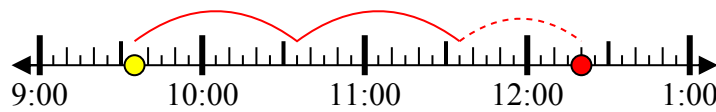
Kết thúc: 4:20



8) Bắt đầu: 9:35

Trôi qua: 2 giờ và 45 phút

Kết thúc: 12:20



**Câu trả lời**

1. 3:45

2. 2:20

3. 10:10

4. 1:05

5. 1:35

6. 6:35

7. 4:20

8. 12:20



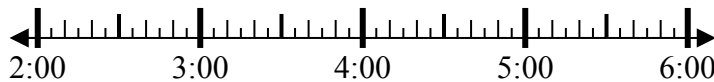
**Giải các câu hỏi.**

**Câu trả lời**

1) Bắt đầu: 2:50

Trôi qua: 2 giờ và 50 phút

Kết thúc: \_\_\_\_\_

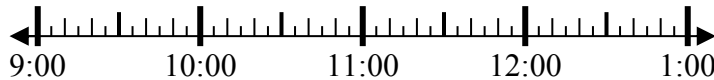


1. \_\_\_\_\_

2) Bắt đầu: 9:10

Trôi qua: 1 giờ và 10 phút

Kết thúc: \_\_\_\_\_

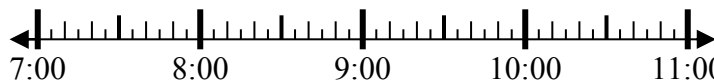


2. \_\_\_\_\_

3) Bắt đầu: 7:05

Trôi qua: 1 giờ và 15 phút

Kết thúc: \_\_\_\_\_

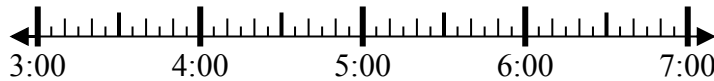


3. \_\_\_\_\_

4) Bắt đầu: 3:00

Trôi qua: 1 giờ và 15 phút

Kết thúc: \_\_\_\_\_

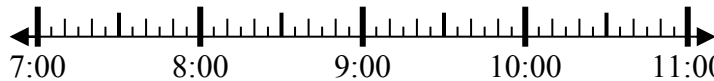


4. \_\_\_\_\_

5) Bắt đầu: 7:15

Trôi qua: 1 giờ và 40 phút

Kết thúc: \_\_\_\_\_

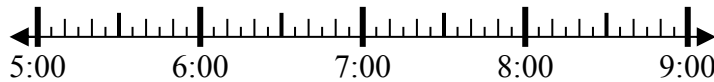


5. \_\_\_\_\_

6) Bắt đầu: 5:00

Trôi qua: 2 giờ và 15 phút

Kết thúc: \_\_\_\_\_

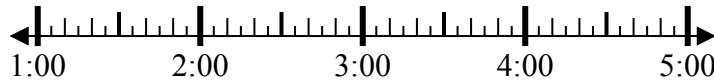


6. \_\_\_\_\_

7) Bắt đầu: 1:00

Trôi qua: 2 giờ và 45 phút

Kết thúc: \_\_\_\_\_

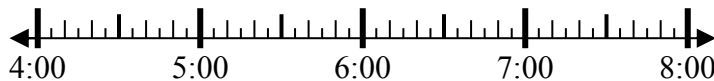


7. \_\_\_\_\_

8) Bắt đầu: 4:35

Trôi qua: 1 giờ và 20 phút

Kết thúc: \_\_\_\_\_



8. \_\_\_\_\_



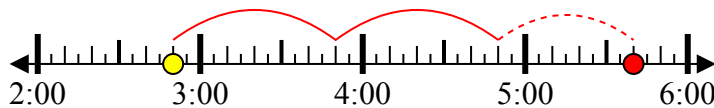
**Giải các câu hỏi.**

**Câu trả lời**

1) Bắt đầu: 2:50

Trôi qua: 2 giờ và 50 phút

Kết thúc: 5:40



1. 5:40

2) Bắt đầu: 9:10

Trôi qua: 1 giờ và 10 phút

Kết thúc: 10:20



2. 10:20

3) Bắt đầu: 7:05

Trôi qua: 1 giờ và 15 phút

Kết thúc: 8:20



3. 8:20

4) Bắt đầu: 3:00

Trôi qua: 1 giờ và 15 phút

Kết thúc: 4:15

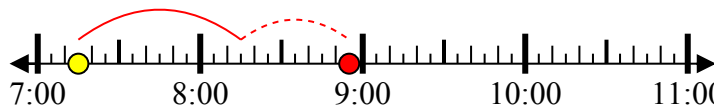


4. 4:15

5) Bắt đầu: 7:15

Trôi qua: 1 giờ và 40 phút

Kết thúc: 8:55

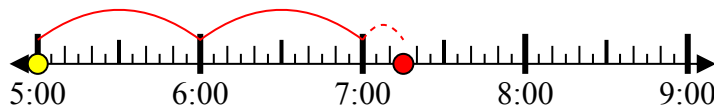


5. 8:55

6) Bắt đầu: 5:00

Trôi qua: 2 giờ và 15 phút

Kết thúc: 7:15

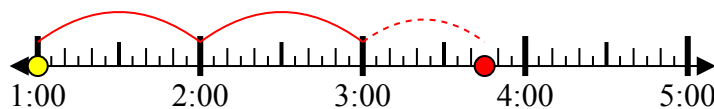


6. 7:15

7) Bắt đầu: 1:00

Trôi qua: 2 giờ và 45 phút

Kết thúc: 3:45

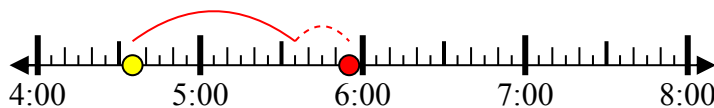


7. 3:45

8) Bắt đầu: 4:35

Trôi qua: 1 giờ và 20 phút

Kết thúc: 5:55



8. 5:55





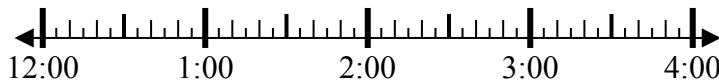
**Giải các câu hỏi.**

**Câu trả lời**

1) Bắt đầu: 12:10

Trôi qua: 1 giờ và 25 phút

Kết thúc: \_\_\_\_\_

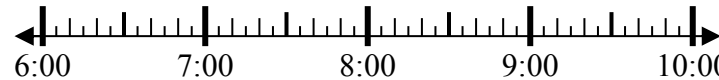


1. \_\_\_\_\_

2) Bắt đầu: 6:40

Trôi qua: 2 giờ và 10 phút

Kết thúc: \_\_\_\_\_

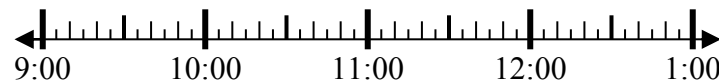


2. \_\_\_\_\_

3) Bắt đầu: 9:05

Trôi qua: 2 giờ và 50 phút

Kết thúc: \_\_\_\_\_

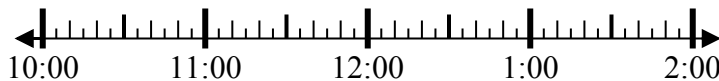


3. \_\_\_\_\_

4) Bắt đầu: 10:45

Trôi qua: 2 giờ và 40 phút

Kết thúc: \_\_\_\_\_

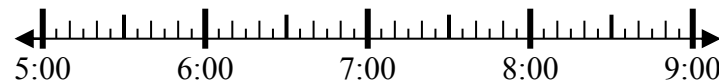


4. \_\_\_\_\_

5) Bắt đầu: 5:35

Trôi qua: 1 giờ và 30 phút

Kết thúc: \_\_\_\_\_

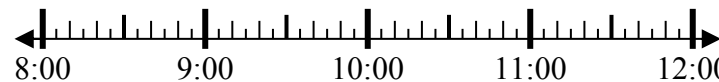


5. \_\_\_\_\_

6) Bắt đầu: 8:15

Trôi qua: 2 giờ và 25 phút

Kết thúc: \_\_\_\_\_



6. \_\_\_\_\_

7) Bắt đầu: 4:10

Trôi qua: 2 giờ và 55 phút

Kết thúc: \_\_\_\_\_

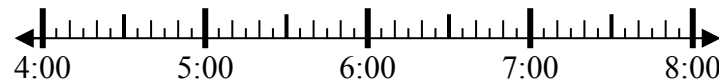


7. \_\_\_\_\_

8) Bắt đầu: 4:00

Trôi qua: 2 giờ và 20 phút

Kết thúc: \_\_\_\_\_



8. \_\_\_\_\_



**Giải các câu hỏi.**

1) Bắt đầu: 12:10

Trôi qua: 1 giờ và 25 phút

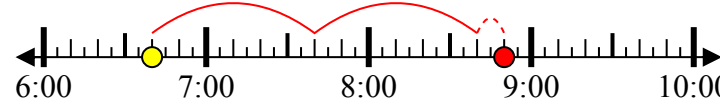
Kết thúc: 1:35



2) Bắt đầu: 6:40

Trôi qua: 2 giờ và 10 phút

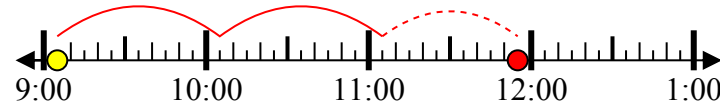
Kết thúc: 8:50



3) Bắt đầu: 9:05

Trôi qua: 2 giờ và 50 phút

Kết thúc: 11:55



4) Bắt đầu: 10:45

Trôi qua: 2 giờ và 40 phút

Kết thúc: 1:25



5) Bắt đầu: 5:35

Trôi qua: 1 giờ và 30 phút

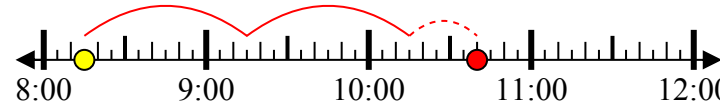
Kết thúc: 7:05



6) Bắt đầu: 8:15

Trôi qua: 2 giờ và 25 phút

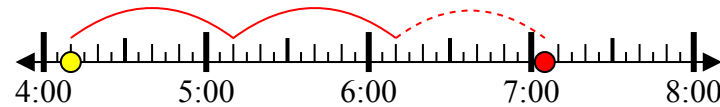
Kết thúc: 10:40



7) Bắt đầu: 4:10

Trôi qua: 2 giờ và 55 phút

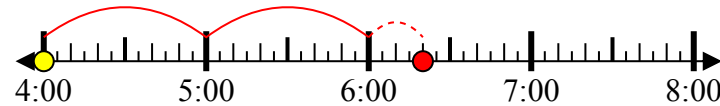
Kết thúc: 7:05



8) Bắt đầu: 4:00

Trôi qua: 2 giờ và 20 phút

Kết thúc: 6:20



**Câu trả lời**

1. 1:35

2. 8:50

3. 11:55

4. 1:25

5. 7:05

6. 10:40

7. 7:05

8. 6:20



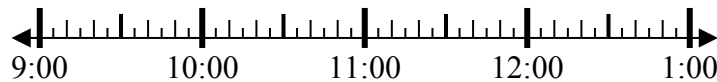
**Giải các câu hỏi.**

**Câu trả lời**

1) Bắt đầu: 9:35

Trôi qua: 2 giờ và 30 phút

Kết thúc: \_\_\_\_\_



1. \_\_\_\_\_

2) Bắt đầu: 12:50

Trôi qua: 1 giờ và 45 phút

Kết thúc: \_\_\_\_\_

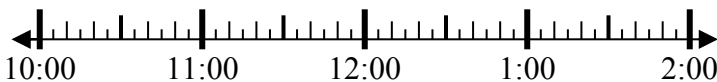


2. \_\_\_\_\_

3) Bắt đầu: 10:15

Trôi qua: 1 giờ và 25 phút

Kết thúc: \_\_\_\_\_

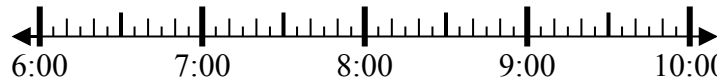


3. \_\_\_\_\_

4) Bắt đầu: 6:25

Trôi qua: 1 giờ và 45 phút

Kết thúc: \_\_\_\_\_

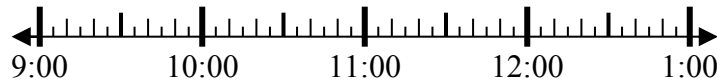


4. \_\_\_\_\_

5) Bắt đầu: 9:10

Trôi qua: 1 giờ và 15 phút

Kết thúc: \_\_\_\_\_

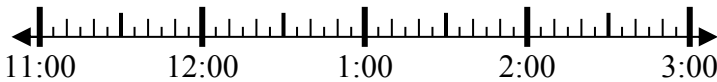


5. \_\_\_\_\_

6) Bắt đầu: 11:45

Trôi qua: 2 giờ và 15 phút

Kết thúc: \_\_\_\_\_

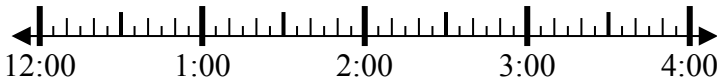


6. \_\_\_\_\_

7) Bắt đầu: 12:20

Trôi qua: 1 giờ và 40 phút

Kết thúc: \_\_\_\_\_

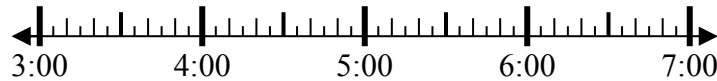


7. \_\_\_\_\_

8) Bắt đầu: 3:35

Trôi qua: 1 giờ và 40 phút

Kết thúc: \_\_\_\_\_



8. \_\_\_\_\_

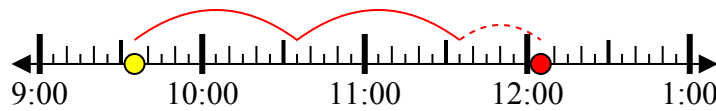


**Giải các câu hỏi.**

1) Bắt đầu: 9:35

Trôi qua: 2 giờ và 30 phút

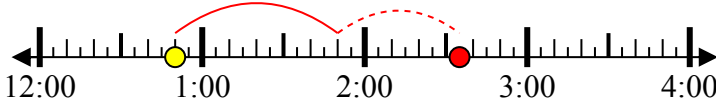
Kết thúc: 12:05



2) Bắt đầu: 12:50

Trôi qua: 1 giờ và 45 phút

Kết thúc: 2:35



3) Bắt đầu: 10:15

Trôi qua: 1 giờ và 25 phút

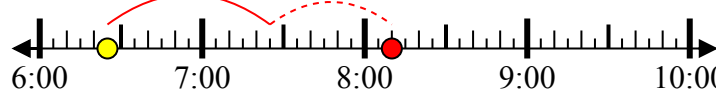
Kết thúc: 11:40



4) Bắt đầu: 6:25

Trôi qua: 1 giờ và 45 phút

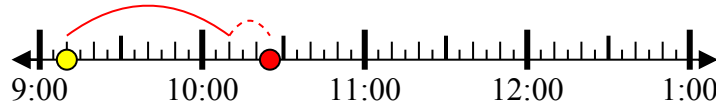
Kết thúc: 8:10



5) Bắt đầu: 9:10

Trôi qua: 1 giờ và 15 phút

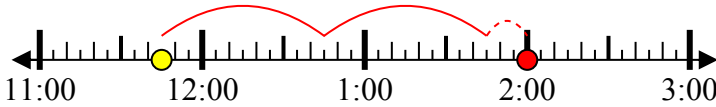
Kết thúc: 10:25



6) Bắt đầu: 11:45

Trôi qua: 2 giờ và 15 phút

Kết thúc: 2:00



7) Bắt đầu: 12:20

Trôi qua: 1 giờ và 40 phút

Kết thúc: 2:00



8) Bắt đầu: 3:35

Trôi qua: 1 giờ và 40 phút

Kết thúc: 5:15



**Câu trả lời**

1. 12:05

2. 2:35

3. 11:40

4. 8:10

5. 10:25

6. 2:00

7. 2:00

8. 5:15



**Giải các câu hỏi.**

**Câu trả lời**

1) Bắt đầu: 7:05

Trôi qua: 2 giờ và 20 phút

Kết thúc: \_\_\_\_\_



1. \_\_\_\_\_

2) Bắt đầu: 5:25

Trôi qua: 2 giờ và 20 phút

Kết thúc: \_\_\_\_\_



2. \_\_\_\_\_

3) Bắt đầu: 4:15

Trôi qua: 1 giờ và 35 phút

Kết thúc: \_\_\_\_\_



3. \_\_\_\_\_

4) Bắt đầu: 12:05

Trôi qua: 2 giờ và 40 phút

Kết thúc: \_\_\_\_\_

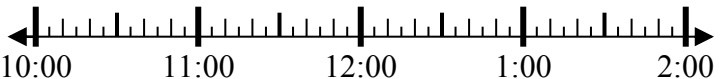


4. \_\_\_\_\_

5) Bắt đầu: 10:05

Trôi qua: 1 giờ và 45 phút

Kết thúc: \_\_\_\_\_



5. \_\_\_\_\_

6) Bắt đầu: 11:45

Trôi qua: 2 giờ và 15 phút

Kết thúc: \_\_\_\_\_

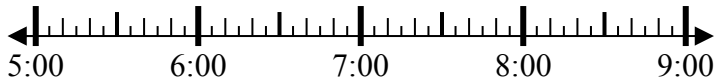


6. \_\_\_\_\_

7) Bắt đầu: 5:25

Trôi qua: 1 giờ và 40 phút

Kết thúc: \_\_\_\_\_

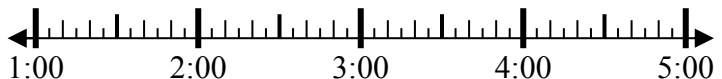


7. \_\_\_\_\_

8) Bắt đầu: 1:25

Trôi qua: 1 giờ và 15 phút

Kết thúc: \_\_\_\_\_



8. \_\_\_\_\_



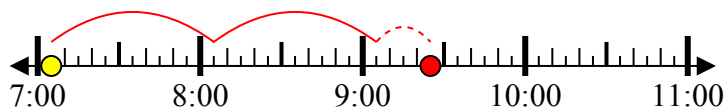
**Giải các câu hỏi.**

**Câu trả lời**

1) Bắt đầu: 7:05

Trôi qua: 2 giờ và 20 phút

Kết thúc: 9:25



1. 9:25

2) Bắt đầu: 5:25

Trôi qua: 2 giờ và 20 phút

Kết thúc: 7:45

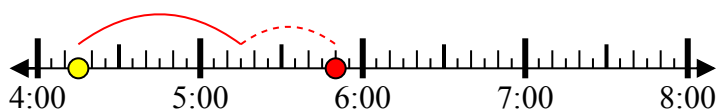


2. 7:45

3) Bắt đầu: 4:15

Trôi qua: 1 giờ và 35 phút

Kết thúc: 5:50

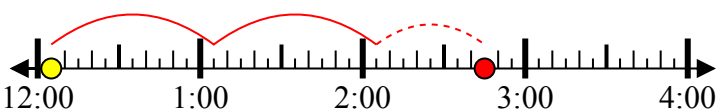


3. 5:50

4) Bắt đầu: 12:05

Trôi qua: 2 giờ và 40 phút

Kết thúc: 2:45



4. 2:45

5) Bắt đầu: 10:05

Trôi qua: 1 giờ và 45 phút

Kết thúc: 11:50

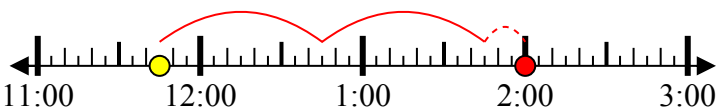


5. 11:50

6) Bắt đầu: 11:45

Trôi qua: 2 giờ và 15 phút

Kết thúc: 2:00

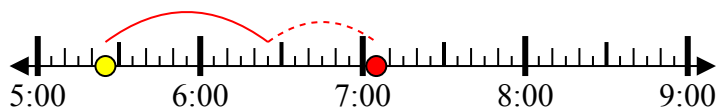


6. 2:00

7) Bắt đầu: 5:25

Trôi qua: 1 giờ và 40 phút

Kết thúc: 7:05



7. 7:05

8) Bắt đầu: 1:25

Trôi qua: 1 giờ và 15 phút

Kết thúc: 2:40



8. 2:40



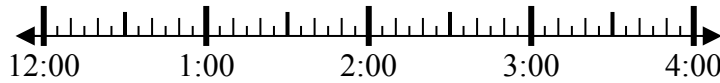
**Giải các câu hỏi.**

**Câu trả lời**

1) Bắt đầu: 12:15

Trôi qua: 1 giờ và 35 phút

Kết thúc: \_\_\_\_\_

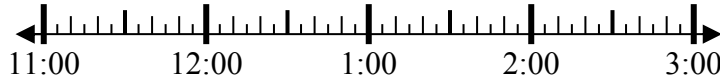


1. \_\_\_\_\_

2) Bắt đầu: 11:30

Trôi qua: 1 giờ và 25 phút

Kết thúc: \_\_\_\_\_



2. \_\_\_\_\_

3) Bắt đầu: 5:10

Trôi qua: 1 giờ và 35 phút

Kết thúc: \_\_\_\_\_

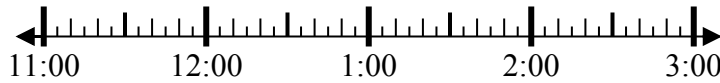


3. \_\_\_\_\_

4) Bắt đầu: 11:00

Trôi qua: 1 giờ và 10 phút

Kết thúc: \_\_\_\_\_



4. \_\_\_\_\_

5) Bắt đầu: 12:30

Trôi qua: 1 giờ và 10 phút

Kết thúc: \_\_\_\_\_

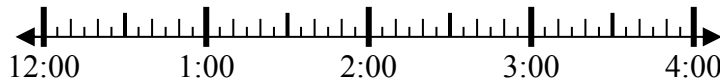


5. \_\_\_\_\_

6) Bắt đầu: 12:40

Trôi qua: 1 giờ và 25 phút

Kết thúc: \_\_\_\_\_

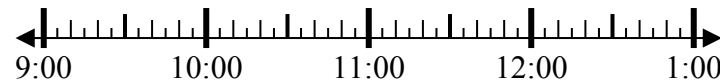


6. \_\_\_\_\_

7) Bắt đầu: 9:40

Trôi qua: 1 giờ và 50 phút

Kết thúc: \_\_\_\_\_

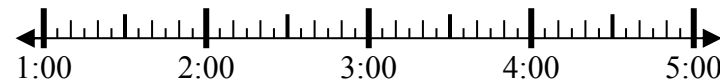


7. \_\_\_\_\_

8) Bắt đầu: 1:35

Trôi qua: 2 giờ và 45 phút

Kết thúc: \_\_\_\_\_



8. \_\_\_\_\_



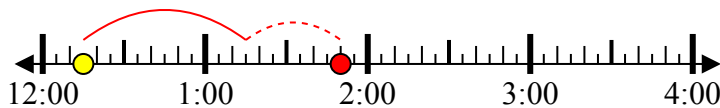
**Giải các câu hỏi.**

**Câu trả lời**

1) Bắt đầu: 12:15

Trôi qua: 1 giờ và 35 phút

Kết thúc: 1:50



1. 1:50

2) Bắt đầu: 11:30

Trôi qua: 1 giờ và 25 phút

Kết thúc: 12:55

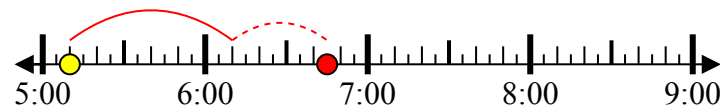


2. 12:55

3) Bắt đầu: 5:10

Trôi qua: 1 giờ và 35 phút

Kết thúc: 6:45



3. 6:45

4) Bắt đầu: 11:00

Trôi qua: 1 giờ và 10 phút

Kết thúc: 12:10

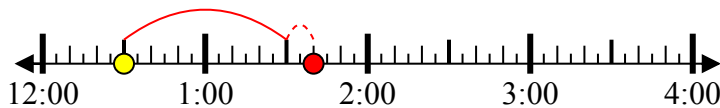


4. 12:10

5) Bắt đầu: 12:30

Trôi qua: 1 giờ và 10 phút

Kết thúc: 1:40

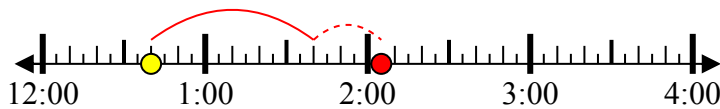


5. 1:40

6) Bắt đầu: 12:40

Trôi qua: 1 giờ và 25 phút

Kết thúc: 2:05

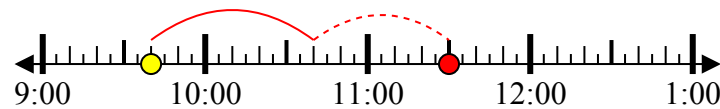


6. 2:05

7) Bắt đầu: 9:40

Trôi qua: 1 giờ và 50 phút

Kết thúc: 11:30

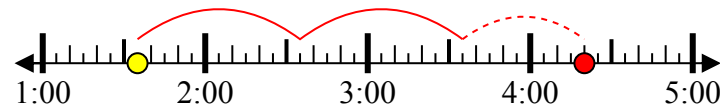


7. 11:30

8) Bắt đầu: 1:35

Trôi qua: 2 giờ và 45 phút

Kết thúc: 4:20



8. 4:20





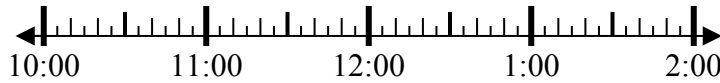
**Giải các câu hỏi.**

**Câu trả lời**

1) Bắt đầu: 10:50

Trôi qua: 2 giờ và 30 phút

Kết thúc: \_\_\_\_\_

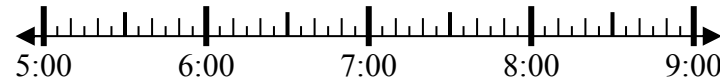


1. \_\_\_\_\_

2) Bắt đầu: 5:10

Trôi qua: 1 giờ và 25 phút

Kết thúc: \_\_\_\_\_

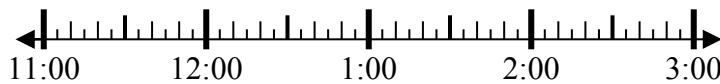


2. \_\_\_\_\_

3) Bắt đầu: 11:40

Trôi qua: 1 giờ và 35 phút

Kết thúc: \_\_\_\_\_

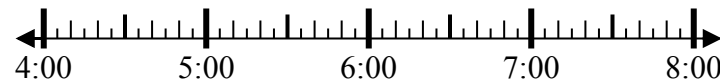


3. \_\_\_\_\_

4) Bắt đầu: 4:20

Trôi qua: 2 giờ và 15 phút

Kết thúc: \_\_\_\_\_

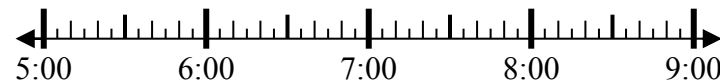


4. \_\_\_\_\_

5) Bắt đầu: 5:15

Trôi qua: 2 giờ và 25 phút

Kết thúc: \_\_\_\_\_

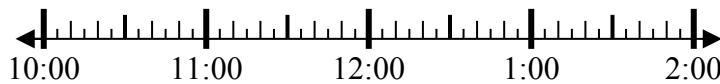


5. \_\_\_\_\_

6) Bắt đầu: 10:20

Trôi qua: 2 giờ và 35 phút

Kết thúc: \_\_\_\_\_

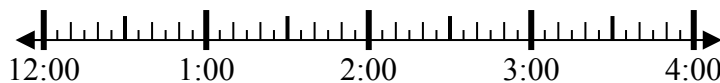


6. \_\_\_\_\_

7) Bắt đầu: 12:45

Trôi qua: 2 giờ và 50 phút

Kết thúc: \_\_\_\_\_

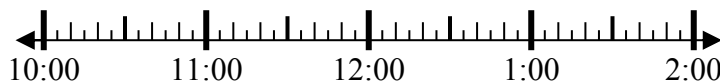


7. \_\_\_\_\_

8) Bắt đầu: 10:40

Trôi qua: 1 giờ và 30 phút

Kết thúc: \_\_\_\_\_



8. \_\_\_\_\_



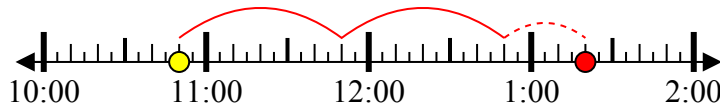
**Giải các câu hỏi.**

**Câu trả lời**

1) Bắt đầu: 10:50

Trôi qua: 2 giờ và 30 phút

Kết thúc: 1:20



1. 1:20

2) Bắt đầu: 5:10

Trôi qua: 1 giờ và 25 phút

Kết thúc: 6:35

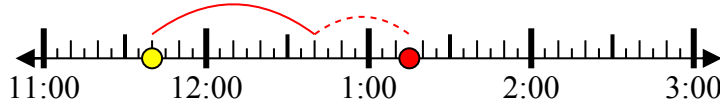


2. 6:35

3) Bắt đầu: 11:40

Trôi qua: 1 giờ và 35 phút

Kết thúc: 1:15

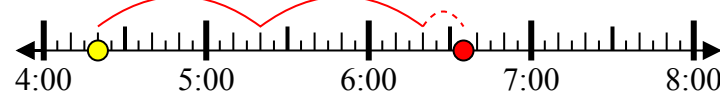


3. 1:15

4) Bắt đầu: 4:20

Trôi qua: 2 giờ và 15 phút

Kết thúc: 6:35



4. 6:35

5) Bắt đầu: 5:15

Trôi qua: 2 giờ và 25 phút

Kết thúc: 7:40

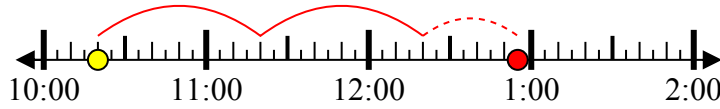


5. 7:40

6) Bắt đầu: 10:20

Trôi qua: 2 giờ và 35 phút

Kết thúc: 12:55

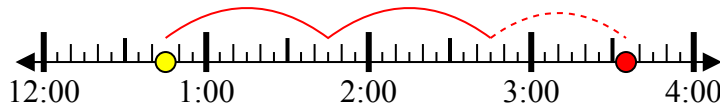


6. 12:55

7) Bắt đầu: 12:45

Trôi qua: 2 giờ và 50 phút

Kết thúc: 3:35



7. 3:35

8) Bắt đầu: 10:40

Trôi qua: 1 giờ và 30 phút

Kết thúc: 12:10



8. 12:10



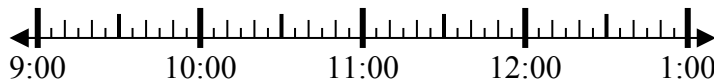
**Giải các câu hỏi.**

**Câu trả lời**

1) Bắt đầu: 9:20

Trôi qua: 1 giờ và 25 phút

Kết thúc: \_\_\_\_\_



1. \_\_\_\_\_

2) Bắt đầu: 2:00

Trôi qua: 2 giờ và 55 phút

Kết thúc: \_\_\_\_\_

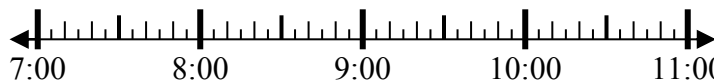


2. \_\_\_\_\_

3) Bắt đầu: 7:40

Trôi qua: 2 giờ và 15 phút

Kết thúc: \_\_\_\_\_

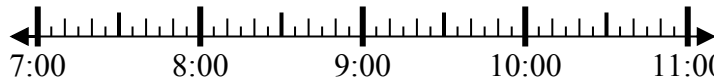


3. \_\_\_\_\_

4) Bắt đầu: 7:15

Trôi qua: 1 giờ và 10 phút

Kết thúc: \_\_\_\_\_

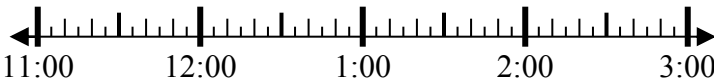


4. \_\_\_\_\_

5) Bắt đầu: 11:15

Trôi qua: 2 giờ và 25 phút

Kết thúc: \_\_\_\_\_

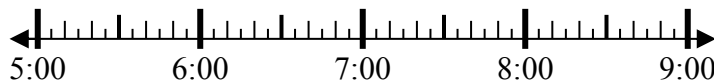


5. \_\_\_\_\_

6) Bắt đầu: 5:30

Trôi qua: 1 giờ và 25 phút

Kết thúc: \_\_\_\_\_

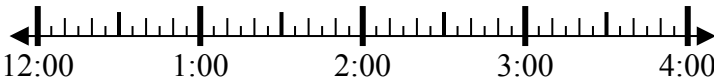


6. \_\_\_\_\_

7) Bắt đầu: 12:00

Trôi qua: 2 giờ và 40 phút

Kết thúc: \_\_\_\_\_

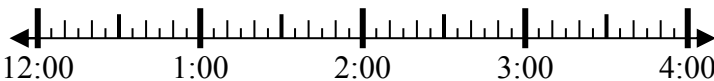


7. \_\_\_\_\_

8) Bắt đầu: 12:15

Trôi qua: 1 giờ và 20 phút

Kết thúc: \_\_\_\_\_



8. \_\_\_\_\_

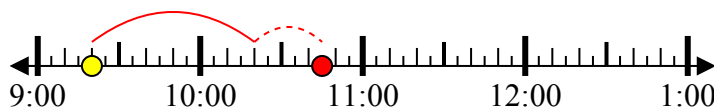


**Giải các câu hỏi.**

1) Bắt đầu: 9:20

Trôi qua: 1 giờ và 25 phút

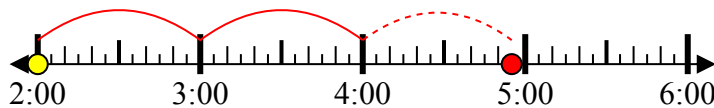
Kết thúc: 10:45



2) Bắt đầu: 2:00

Trôi qua: 2 giờ và 55 phút

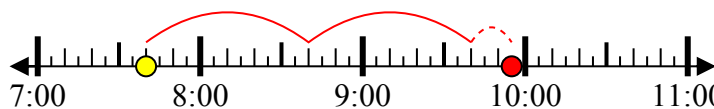
Kết thúc: 4:55



3) Bắt đầu: 7:40

Trôi qua: 2 giờ và 15 phút

Kết thúc: 9:55



4) Bắt đầu: 7:15

Trôi qua: 1 giờ và 10 phút

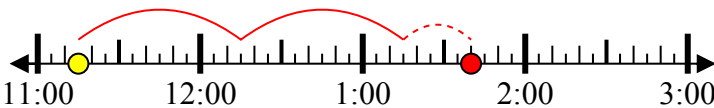
Kết thúc: 8:25



5) Bắt đầu: 11:15

Trôi qua: 2 giờ và 25 phút

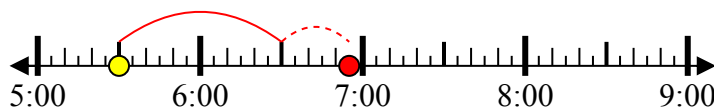
Kết thúc: 1:40



6) Bắt đầu: 5:30

Trôi qua: 1 giờ và 25 phút

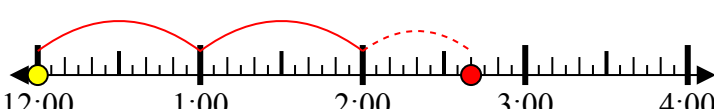
Kết thúc: 6:55



7) Bắt đầu: 12:00

Trôi qua: 2 giờ và 40 phút

Kết thúc: 2:40



8) Bắt đầu: 12:15

Trôi qua: 1 giờ và 20 phút

Kết thúc: 1:35



**Câu trả lời**

1. 10:45
2. 4:55
3. 9:55
4. 8:25
5. 1:40
6. 6:55
7. 2:40
8. 1:35