



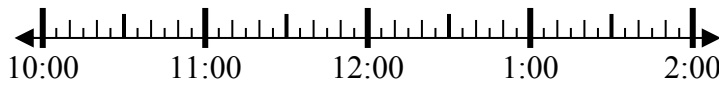
**Giải các câu hỏi.**

**Câu trả lời**

1) Bắt đầu: 10:50

Trôi qua: 2 giờ và 30 phút

Kết thúc: \_\_\_\_\_

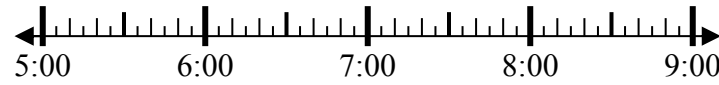


1. \_\_\_\_\_

2) Bắt đầu: 5:10

Trôi qua: 1 giờ và 25 phút

Kết thúc: \_\_\_\_\_

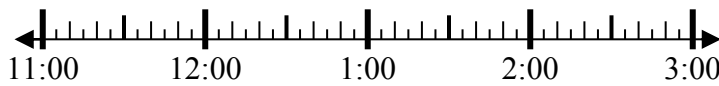


2. \_\_\_\_\_

3) Bắt đầu: 11:40

Trôi qua: 1 giờ và 35 phút

Kết thúc: \_\_\_\_\_

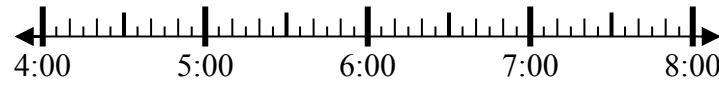


3. \_\_\_\_\_

4) Bắt đầu: 4:20

Trôi qua: 2 giờ và 15 phút

Kết thúc: \_\_\_\_\_

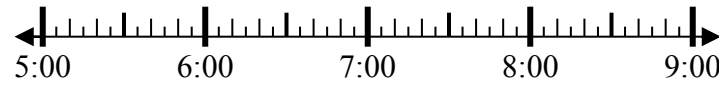


4. \_\_\_\_\_

5) Bắt đầu: 5:15

Trôi qua: 2 giờ và 25 phút

Kết thúc: \_\_\_\_\_

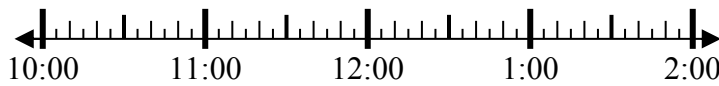


5. \_\_\_\_\_

6) Bắt đầu: 10:20

Trôi qua: 2 giờ và 35 phút

Kết thúc: \_\_\_\_\_

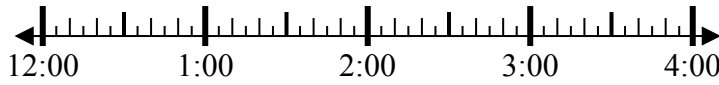


6. \_\_\_\_\_

7) Bắt đầu: 12:45

Trôi qua: 2 giờ và 50 phút

Kết thúc: \_\_\_\_\_

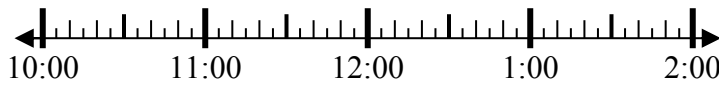


7. \_\_\_\_\_

8) Bắt đầu: 10:40

Trôi qua: 1 giờ và 30 phút

Kết thúc: \_\_\_\_\_



8. \_\_\_\_\_



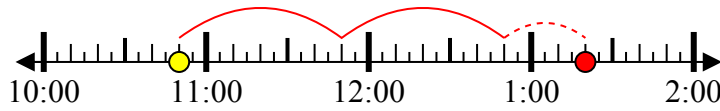
**Giải các câu hỏi.**

**Câu trả lời**

1) Bắt đầu: 10:50

Trôi qua: 2 giờ và 30 phút

Kết thúc: 1:20

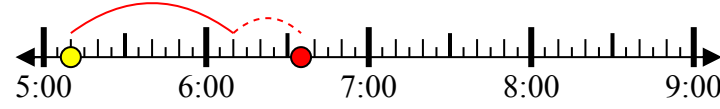


1. 1:20

2) Bắt đầu: 5:10

Trôi qua: 1 giờ và 25 phút

Kết thúc: 6:35

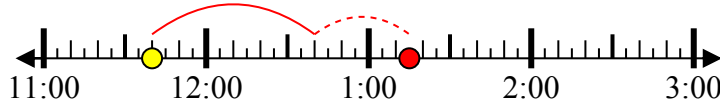


2. 6:35

3) Bắt đầu: 11:40

Trôi qua: 1 giờ và 35 phút

Kết thúc: 1:15

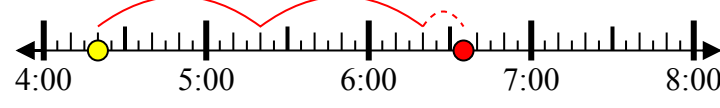


3. 1:15

4) Bắt đầu: 4:20

Trôi qua: 2 giờ và 15 phút

Kết thúc: 6:35



4. 6:35

5) Bắt đầu: 5:15

Trôi qua: 2 giờ và 25 phút

Kết thúc: 7:40

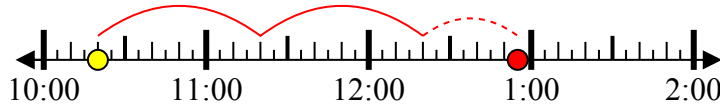


5. 7:40

6) Bắt đầu: 10:20

Trôi qua: 2 giờ và 35 phút

Kết thúc: 12:55

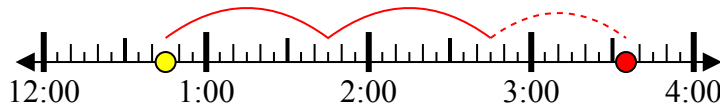


6. 12:55

7) Bắt đầu: 12:45

Trôi qua: 2 giờ và 50 phút

Kết thúc: 3:35



7. 3:35

8) Bắt đầu: 10:40

Trôi qua: 1 giờ và 30 phút

Kết thúc: 12:10



8. 12:10