



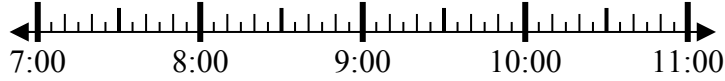
**Giải các câu hỏi.**

**Câu trả lời**

1) Bắt đầu: 7:05

Trôi qua: 2 giờ và 20 phút

Kết thúc: \_\_\_\_\_

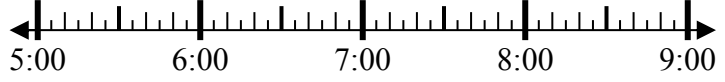


1. \_\_\_\_\_

2) Bắt đầu: 5:25

Trôi qua: 2 giờ và 20 phút

Kết thúc: \_\_\_\_\_



2. \_\_\_\_\_

3) Bắt đầu: 4:15

Trôi qua: 1 giờ và 35 phút

Kết thúc: \_\_\_\_\_



3. \_\_\_\_\_

4) Bắt đầu: 12:05

Trôi qua: 2 giờ và 40 phút

Kết thúc: \_\_\_\_\_

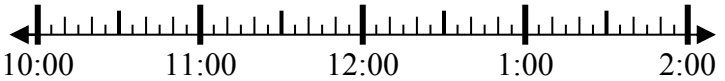


4. \_\_\_\_\_

5) Bắt đầu: 10:05

Trôi qua: 1 giờ và 45 phút

Kết thúc: \_\_\_\_\_



5. \_\_\_\_\_

6) Bắt đầu: 11:45

Trôi qua: 2 giờ và 15 phút

Kết thúc: \_\_\_\_\_



6. \_\_\_\_\_

7) Bắt đầu: 5:25

Trôi qua: 1 giờ và 40 phút

Kết thúc: \_\_\_\_\_



7. \_\_\_\_\_

8) Bắt đầu: 1:25

Trôi qua: 1 giờ và 15 phút

Kết thúc: \_\_\_\_\_



8. \_\_\_\_\_



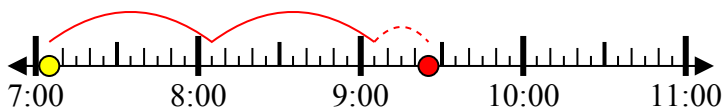
**Giải các câu hỏi.**

**Câu trả lời**

1) Bắt đầu: 7:05

Trôi qua: 2 giờ và 20 phút

Kết thúc: 9:25



1. 9:25

2) Bắt đầu: 5:25

Trôi qua: 2 giờ và 20 phút

Kết thúc: 7:45

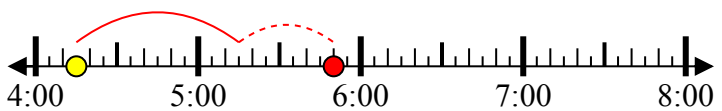


2. 7:45

3) Bắt đầu: 4:15

Trôi qua: 1 giờ và 35 phút

Kết thúc: 5:50

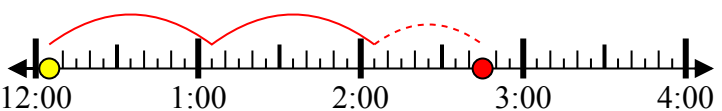


3. 5:50

4) Bắt đầu: 12:05

Trôi qua: 2 giờ và 40 phút

Kết thúc: 2:45



4. 2:45

5) Bắt đầu: 10:05

Trôi qua: 1 giờ và 45 phút

Kết thúc: 11:50



5. 11:50

6) Bắt đầu: 11:45

Trôi qua: 2 giờ và 15 phút

Kết thúc: 2:00



6. 2:00

7) Bắt đầu: 5:25

Trôi qua: 1 giờ và 40 phút

Kết thúc: 7:05

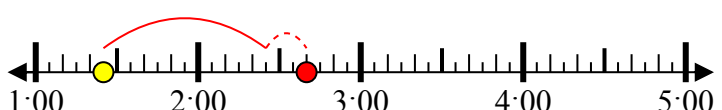


7. 7:05

8) Bắt đầu: 1:25

Trôi qua: 1 giờ và 15 phút

Kết thúc: 2:40



8. 2:40