



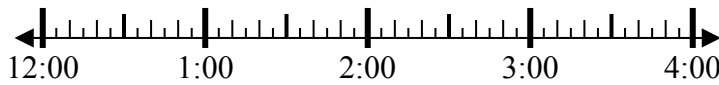
**Giải các câu hỏi.**

**Câu trả lời**

1) Bắt đầu: 12:10

Trôi qua: 1 giờ và 25 phút

Kết thúc: \_\_\_\_\_

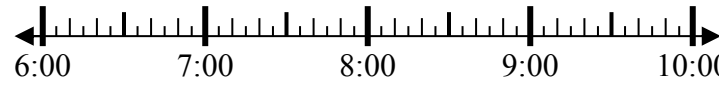


1. \_\_\_\_\_

2) Bắt đầu: 6:40

Trôi qua: 2 giờ và 10 phút

Kết thúc: \_\_\_\_\_

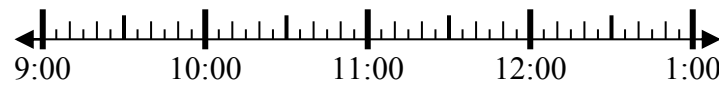


2. \_\_\_\_\_

3) Bắt đầu: 9:05

Trôi qua: 2 giờ và 50 phút

Kết thúc: \_\_\_\_\_

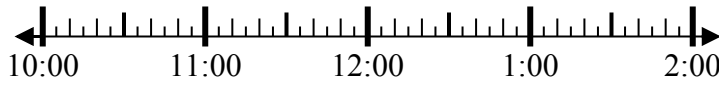


3. \_\_\_\_\_

4) Bắt đầu: 10:45

Trôi qua: 2 giờ và 40 phút

Kết thúc: \_\_\_\_\_

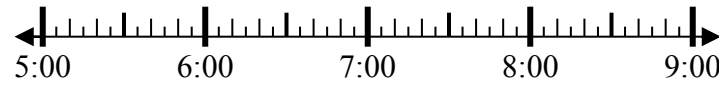


4. \_\_\_\_\_

5) Bắt đầu: 5:35

Trôi qua: 1 giờ và 30 phút

Kết thúc: \_\_\_\_\_

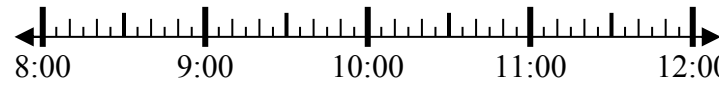


5. \_\_\_\_\_

6) Bắt đầu: 8:15

Trôi qua: 2 giờ và 25 phút

Kết thúc: \_\_\_\_\_

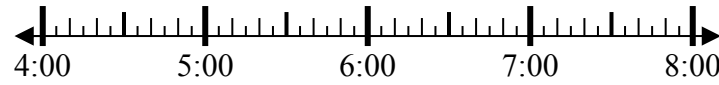


6. \_\_\_\_\_

7) Bắt đầu: 4:10

Trôi qua: 2 giờ và 55 phút

Kết thúc: \_\_\_\_\_

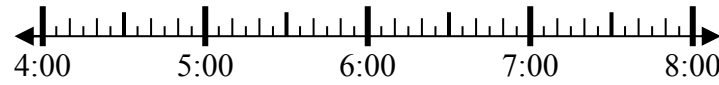


7. \_\_\_\_\_

8) Bắt đầu: 4:00

Trôi qua: 2 giờ và 20 phút

Kết thúc: \_\_\_\_\_



8. \_\_\_\_\_



**Giải các câu hỏi.**

1) Bắt đầu: 12:10

Trôi qua: 1 giờ và 25 phút

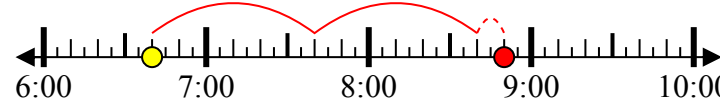
Kết thúc: 1:35



2) Bắt đầu: 6:40

Trôi qua: 2 giờ và 10 phút

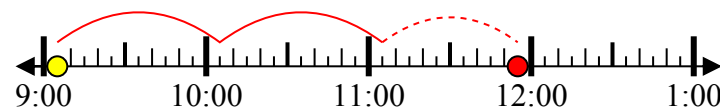
Kết thúc: 8:50



3) Bắt đầu: 9:05

Trôi qua: 2 giờ và 50 phút

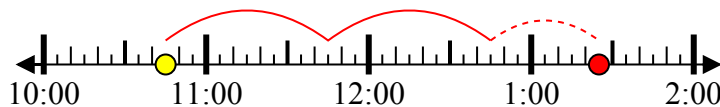
Kết thúc: 11:55



4) Bắt đầu: 10:45

Trôi qua: 2 giờ và 40 phút

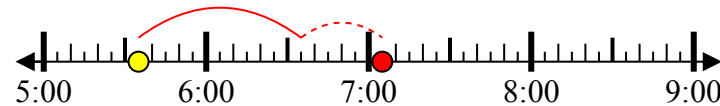
Kết thúc: 1:25



5) Bắt đầu: 5:35

Trôi qua: 1 giờ và 30 phút

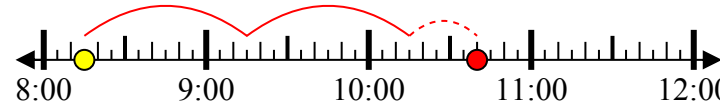
Kết thúc: 7:05



6) Bắt đầu: 8:15

Trôi qua: 2 giờ và 25 phút

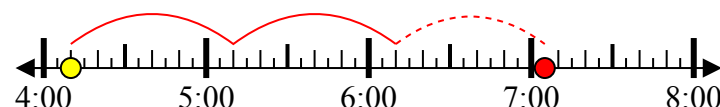
Kết thúc: 10:40



7) Bắt đầu: 4:10

Trôi qua: 2 giờ và 55 phút

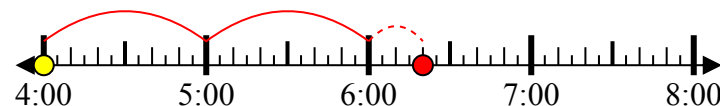
Kết thúc: 7:05



8) Bắt đầu: 4:00

Trôi qua: 2 giờ và 20 phút

Kết thúc: 6:20



**Câu trả lời**

1. 1:35

2. 8:50

3. 11:55

4. 1:25

5. 7:05

6. 10:40

7. 7:05

8. 6:20