



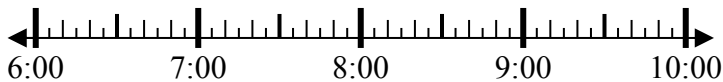
**Giải các câu hỏi.**

**Câu trả lời**

1) Bắt đầu: 6:45

Trôi qua: 1 giờ và 10 phút

Kết thúc: \_\_\_\_\_

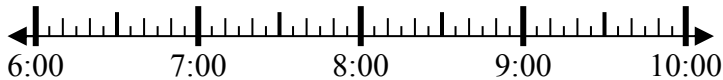


1. \_\_\_\_\_

2) Bắt đầu: 6:25

Trôi qua: 2 giờ và 40 phút

Kết thúc: \_\_\_\_\_



2. \_\_\_\_\_

3) Bắt đầu: 1:10

Trôi qua: 1 giờ và 50 phút

Kết thúc: \_\_\_\_\_



3. \_\_\_\_\_

4) Bắt đầu: 11:15

Trôi qua: 1 giờ và 45 phút

Kết thúc: \_\_\_\_\_



4. \_\_\_\_\_

5) Bắt đầu: 3:25

Trôi qua: 2 giờ và 10 phút

Kết thúc: \_\_\_\_\_



5. \_\_\_\_\_

6) Bắt đầu: 3:20

Trôi qua: 2 giờ và 35 phút

Kết thúc: \_\_\_\_\_

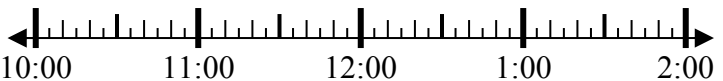


6. \_\_\_\_\_

7) Bắt đầu: 10:35

Trôi qua: 1 giờ và 50 phút

Kết thúc: \_\_\_\_\_

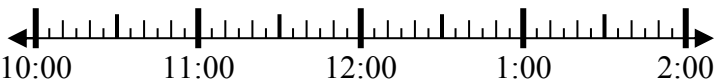


7. \_\_\_\_\_

8) Bắt đầu: 10:00

Trôi qua: 1 giờ và 30 phút

Kết thúc: \_\_\_\_\_



8. \_\_\_\_\_



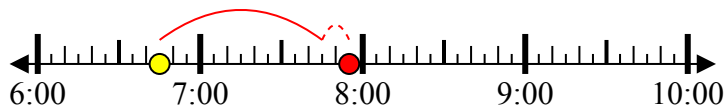
**Giải các câu hỏi.**

**Câu trả lời**

1) Bắt đầu: 6:45

Trôi qua: 1 giờ và 10 phút

Kết thúc: 7:55

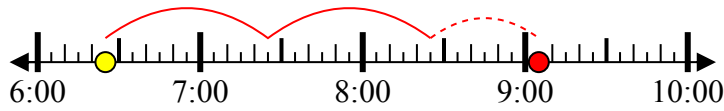


1. 7:55

2) Bắt đầu: 6:25

Trôi qua: 2 giờ và 40 phút

Kết thúc: 9:05

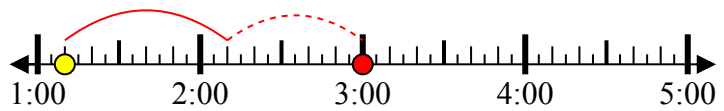


2. 9:05

3) Bắt đầu: 1:10

Trôi qua: 1 giờ và 50 phút

Kết thúc: 3:00

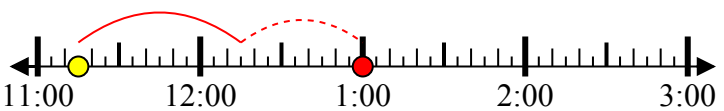


3. 3:00

4) Bắt đầu: 11:15

Trôi qua: 1 giờ và 45 phút

Kết thúc: 1:00

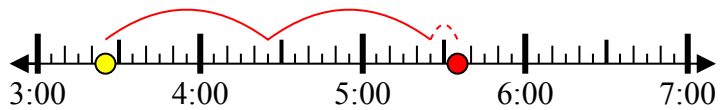


4. 1:00

5) Bắt đầu: 3:25

Trôi qua: 2 giờ và 10 phút

Kết thúc: 5:35



5. 5:35

6) Bắt đầu: 3:20

Trôi qua: 2 giờ và 35 phút

Kết thúc: 5:55



6. 5:55

7) Bắt đầu: 10:35

Trôi qua: 1 giờ và 50 phút

Kết thúc: 12:25



7. 12:25

8) Bắt đầu: 10:00

Trôi qua: 1 giờ và 30 phút

Kết thúc: 11:30



8. 11:30