

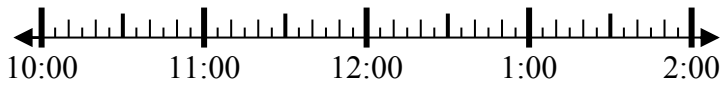


**Giải các câu hỏi.**

**Câu trả lời**

1) Bắt đầu: 10:50

Trôi qua: \_\_\_\_\_



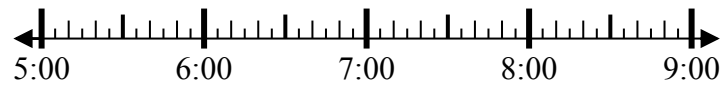
Kết thúc: 1:20

1. \_\_\_\_\_

2. \_\_\_\_\_

2) Bắt đầu: 5:10

Trôi qua: \_\_\_\_\_



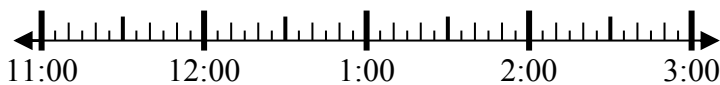
Kết thúc: 6:35

3. \_\_\_\_\_

4. \_\_\_\_\_

3) Bắt đầu: 11:40

Trôi qua: \_\_\_\_\_



Kết thúc: 1:15

5. \_\_\_\_\_

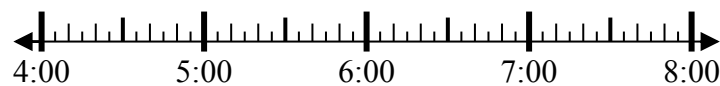
6. \_\_\_\_\_

7. \_\_\_\_\_

8. \_\_\_\_\_

4) Bắt đầu: 4:20

Trôi qua: \_\_\_\_\_



Kết thúc: 6:35

5) Bắt đầu: 5:15

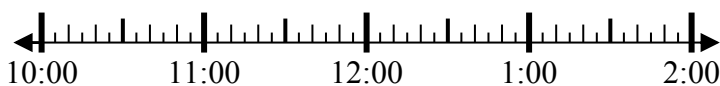
Trôi qua: \_\_\_\_\_



Kết thúc: 7:40

6) Bắt đầu: 10:20

Trôi qua: \_\_\_\_\_



Kết thúc: 12:55

7) Bắt đầu: 12:45

Trôi qua: \_\_\_\_\_



Kết thúc: 3:35

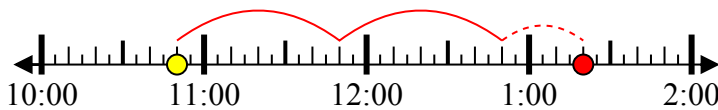
8) Bắt đầu: 10:40



**Giải các câu hỏi.**

1) Bắt đầu: 10:50

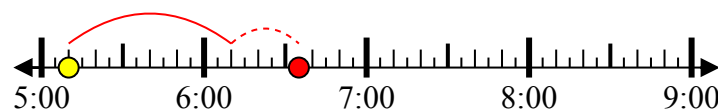
Trôi qua: 2 giờ và 30 phút



Kết thúc: 1:20

2) Bắt đầu: 5:10

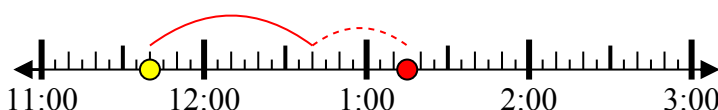
Trôi qua: 1 giờ và 25 phút



Kết thúc: 6:35

3) Bắt đầu: 11:40

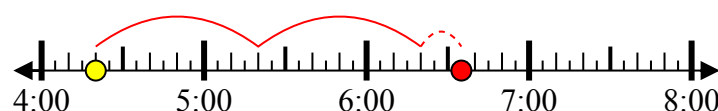
Trôi qua: 1 giờ và 35 phút



Kết thúc: 1:15

4) Bắt đầu: 4:20

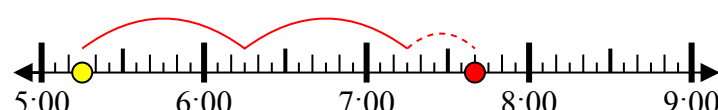
Trôi qua: 2 giờ và 15 phút



Kết thúc: 6:35

5) Bắt đầu: 5:15

Trôi qua: 2 giờ và 25 phút



Kết thúc: 7:40

6) Bắt đầu: 10:20

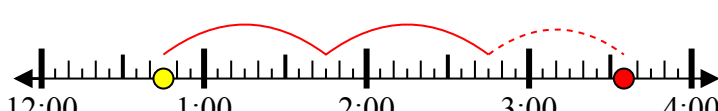
Trôi qua: 2 giờ và 35 phút



Kết thúc: 12:55

7) Bắt đầu: 12:45

Trôi qua: 2 giờ và 50 phút



Kết thúc: 3:35

8) Bắt đầu: 10:40

- Câu trả lời**
1. 2 giờ và 30 phút
  2. 1 giờ và 25 phút
  3. 1 giờ và 35 phút
  4. 2 giờ và 15 phút
  5. 2 giờ và 25 phút
  6. 2 giờ và 35 phút
  7. 2 giờ và 50 phút
  8. 1 giờ và 30 phút