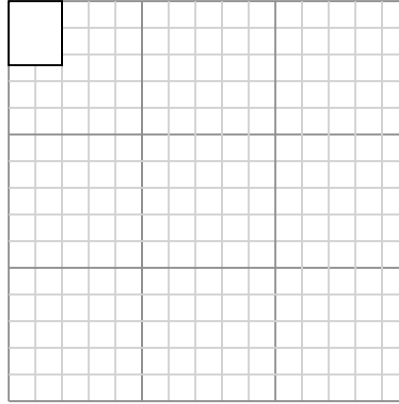
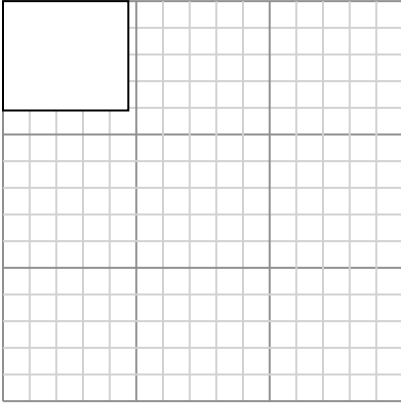




Vẽ mỗi hình chữ nhật theo tỷ lệ được hiển thị và xác định các kích thước mới.

Câu trả lời

- 1) Hình chữ nhật dưới đây có các kích thước: 4.7×4.1 2) Hình chữ nhật dưới đây có các kích thước: 2×2.4



1. _____

2. _____

3. _____

4. _____

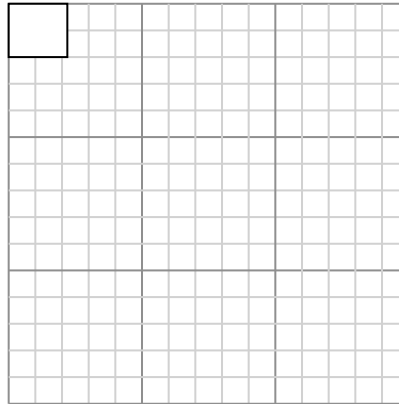
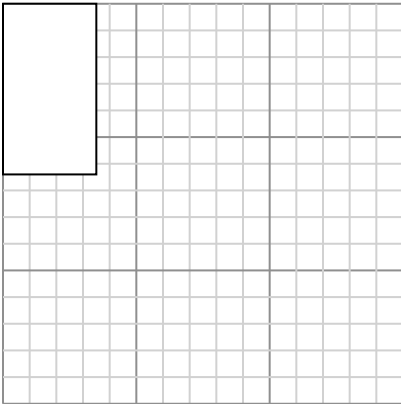
5. _____

6. _____

Tạo một hình chữ nhật khác có tỷ lệ 9 nhân với kích thước của hình chữ nhật hiện tại.

Tạo một hình chữ nhật khác có tỷ lệ 16 nhân với kích thước của hình chữ nhật hiện tại.

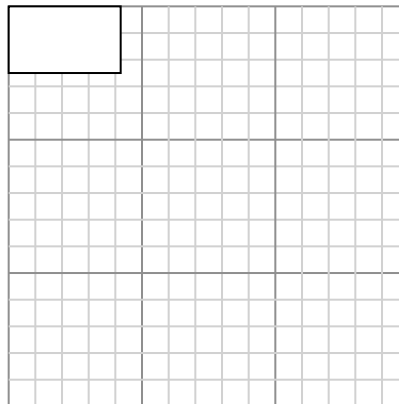
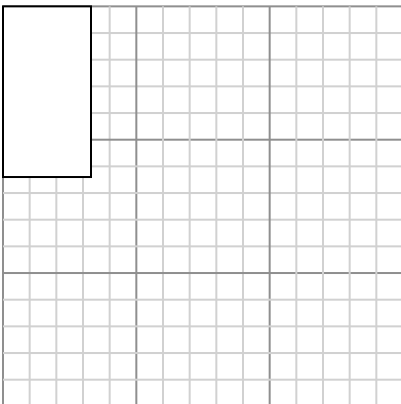
- 3) Hình chữ nhật dưới đây có các kích thước: 3.5×6.4 4) Hình chữ nhật dưới đây có các kích thước: 2.2×2



Tạo một hình chữ nhật khác có tỷ lệ 4 nhân với kích thước của hình chữ nhật hiện tại.

Tạo một hình chữ nhật khác có tỷ lệ 16 nhân với kích thước của hình chữ nhật hiện tại.

- 5) Hình chữ nhật dưới đây có các kích thước: 3.3×6.4 6) Hình chữ nhật dưới đây có các kích thước: 4.2×2.5



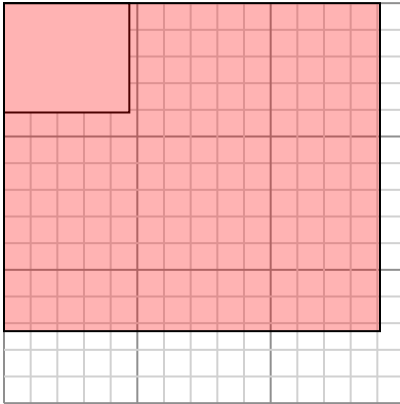
Tạo một hình chữ nhật khác có tỷ lệ 4 nhân với kích thước của hình chữ nhật hiện tại.

Tạo một hình chữ nhật khác có tỷ lệ 9 nhân với kích thước của hình chữ nhật hiện tại.

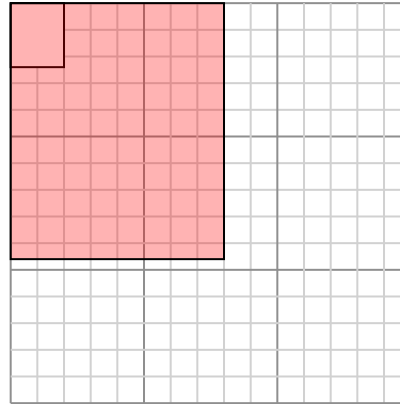


Vẽ mỗi hình chữ nhật theo tỷ lệ được hiển thị và xác định các kích thước mới.

- 1) Hình chữ nhật dưới đây có các kích thước: 4.7×4.1 2) Hình chữ nhật dưới đây có các kích thước: 2×2.4

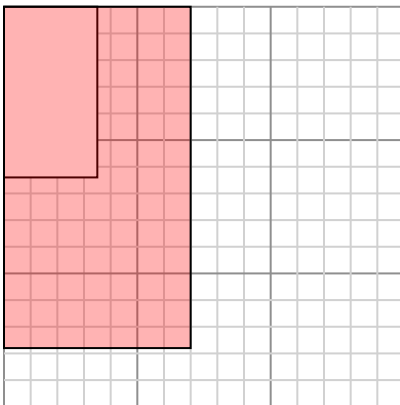


Tạo một hình chữ nhật khác có tỷ lệ 9 nhân với kích thước của hình chữ nhật hiện tại.

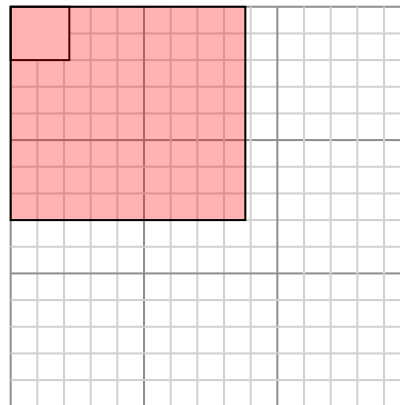


Tạo một hình chữ nhật khác có tỷ lệ 16 nhân với kích thước của hình chữ nhật hiện tại.

- 3) Hình chữ nhật dưới đây có các kích thước: 3.5×6.4 4) Hình chữ nhật dưới đây có các kích thước: 2.2×2

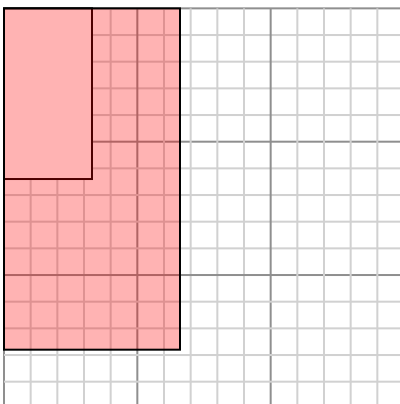


Tạo một hình chữ nhật khác có tỷ lệ 4 nhân với kích thước của hình chữ nhật hiện tại.

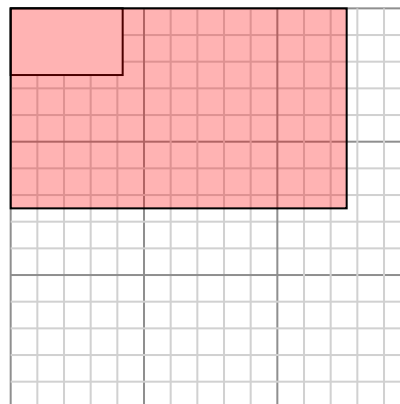


Tạo một hình chữ nhật khác có tỷ lệ 16 nhân với kích thước của hình chữ nhật hiện tại.

- 5) Hình chữ nhật dưới đây có các kích thước: 3.3×6.4 6) Hình chữ nhật dưới đây có các kích thước: 4.2×2.5



Tạo một hình chữ nhật khác có tỷ lệ 4 nhân với kích thước của hình chữ nhật hiện tại.



Tạo một hình chữ nhật khác có tỷ lệ 9 nhân với kích thước của hình chữ nhật hiện tại.

Câu trả lời

1. $14,1 \times 12,3$
2. $8 \times 9,6$
3. $7 \times 12,8$
4. $8,8 \times 8$
5. $6,6 \times 12,8$
6. $12,6 \times 7,5$