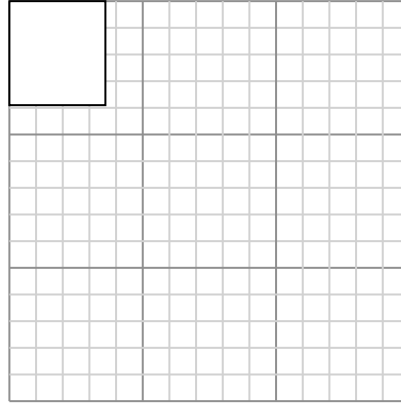
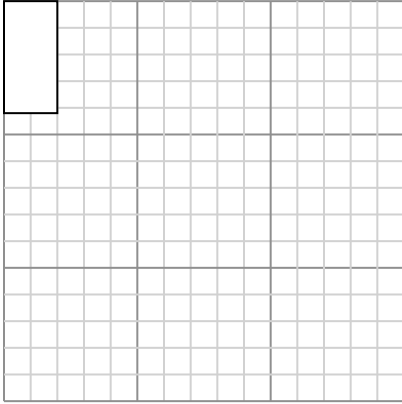




Vẽ mỗi hình chữ nhật theo tỷ lệ được hiển thị và xác định các kích thước mới.



- 1) Hình chữ nhật dưới đây có các kích thước: 2×4.2 2) Hình chữ nhật dưới đây có các kích thước: 3.6×3.9



Tạo một hình chữ nhật khác có tỷ lệ 9 nhân với kích thước của hình chữ nhật hiện tại.

Tạo một hình chữ nhật khác có tỷ lệ 9 nhân với kích thước của hình chữ nhật hiện tại.

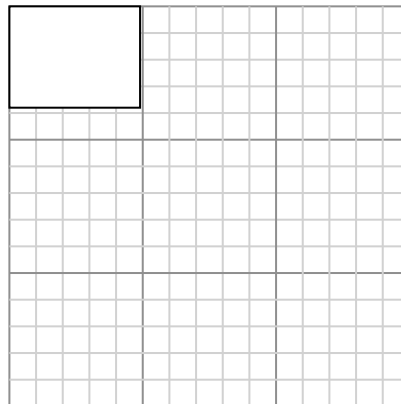
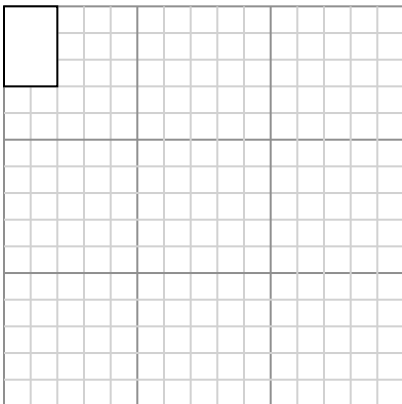
- 3) Hình chữ nhật dưới đây có các kích thước: 2.1×2.4 4) Hình chữ nhật dưới đây có các kích thước: 2.4×2



Tạo một hình chữ nhật khác có tỷ lệ 16 nhân với kích thước của hình chữ nhật hiện tại.

Tạo một hình chữ nhật khác có tỷ lệ 9 nhân với kích thước của hình chữ nhật hiện tại.

- 5) Hình chữ nhật dưới đây có các kích thước: 2×3 6) Hình chữ nhật dưới đây có các kích thước: 4.9×3.8



Tạo một hình chữ nhật khác có tỷ lệ 16 nhân với kích thước của hình chữ nhật hiện tại.

Tạo một hình chữ nhật khác có tỷ lệ 9 nhân với kích thước của hình chữ nhật hiện tại.

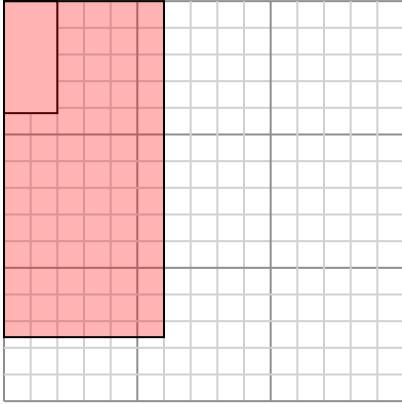
Câu trả lời

1. _____
2. _____
3. _____
4. _____
5. _____
6. _____

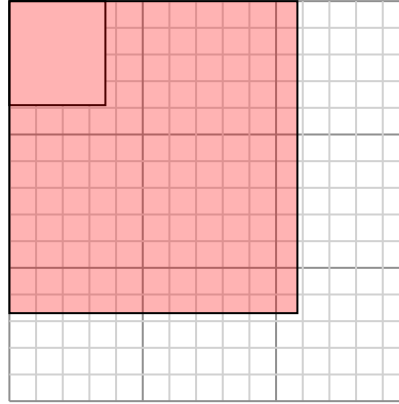


Vẽ mỗi hình chữ nhật theo tỷ lệ được hiển thị và xác định các kích thước mới.

- 1) Hình chữ nhật dưới đây có các kích thước: 2×4.2 2) Hình chữ nhật dưới đây có các kích thước: 3.6×3.9

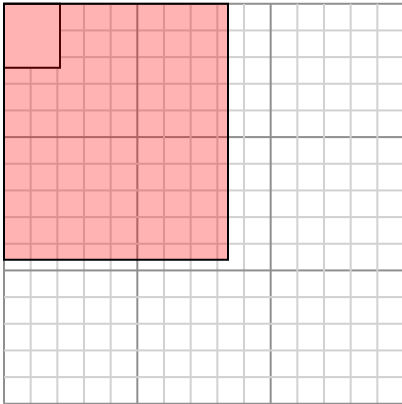


Tạo một hình chữ nhật khác có tỷ lệ 9 nhân với kích thước của hình chữ nhật hiện tại.

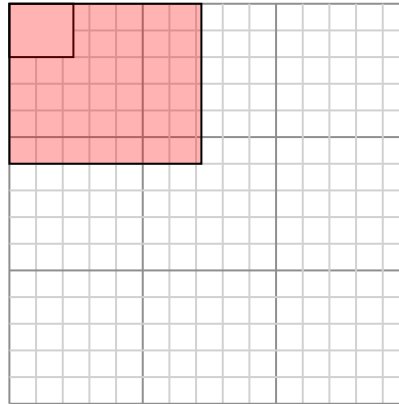


Tạo một hình chữ nhật khác có tỷ lệ 9 nhân với kích thước của hình chữ nhật hiện tại.

- 3) Hình chữ nhật dưới đây có các kích thước: 2.1×2.4 4) Hình chữ nhật dưới đây có các kích thước: 2.4×2

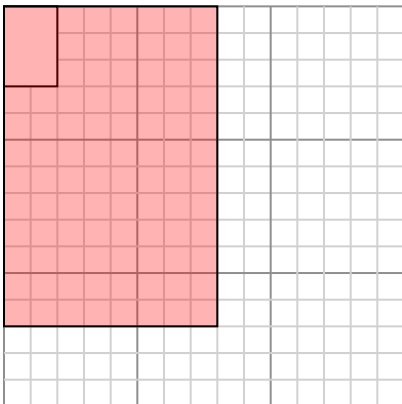


Tạo một hình chữ nhật khác có tỷ lệ 16 nhân với kích thước của hình chữ nhật hiện tại.

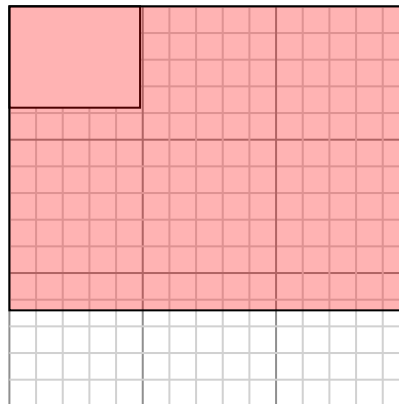


Tạo một hình chữ nhật khác có tỷ lệ 9 nhân với kích thước của hình chữ nhật hiện tại.

- 5) Hình chữ nhật dưới đây có các kích thước: 2×3 6) Hình chữ nhật dưới đây có các kích thước: 4.9×3.8



Tạo một hình chữ nhật khác có tỷ lệ 16 nhân với kích thước của hình chữ nhật hiện tại.



Tạo một hình chữ nhật khác có tỷ lệ 9 nhân với kích thước của hình chữ nhật hiện tại.

Câu trả lời

1. $6 \times 12,6$

2. $10,8 \times 11,7$

3. $8,4 \times 9,6$

4. $7,2 \times 6$

5. 8×12

6. $14,7 \times 11,4$