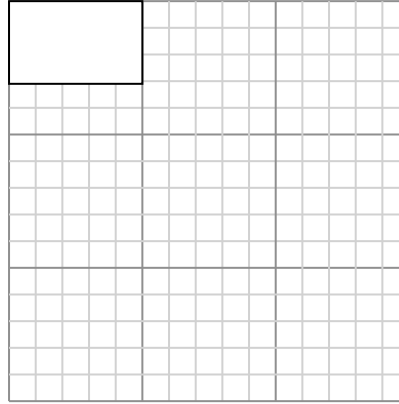
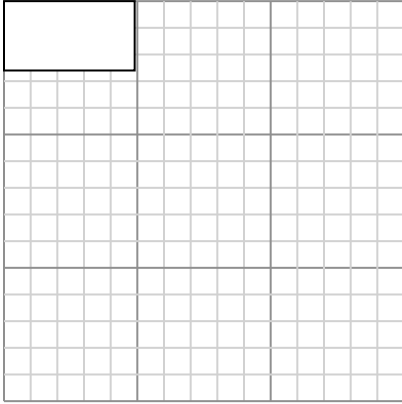




Vẽ mỗi hình chữ nhật theo tỷ lệ được hiển thị và xác định các kích thước mới.

Câu trả lời

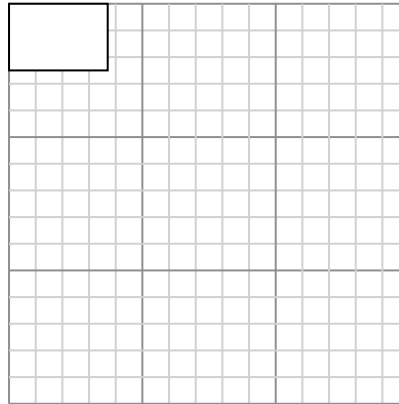
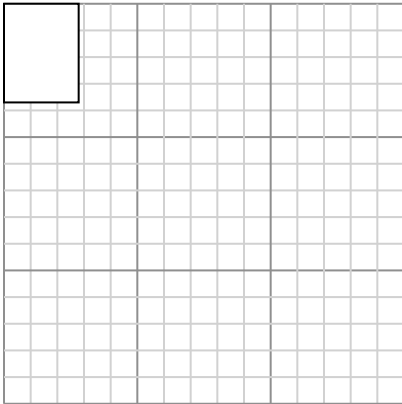
- 1) Hình chữ nhật dưới đây có các kích thước: 4.9×2.6 2) Hình chữ nhật dưới đây có các kích thước: 5×3.1



Tạo một hình chữ nhật khác có tỷ lệ 9 nhân với kích thước của hình chữ nhật hiện tại.

Tạo một hình chữ nhật khác có tỷ lệ 9 nhân với kích thước của hình chữ nhật hiện tại.

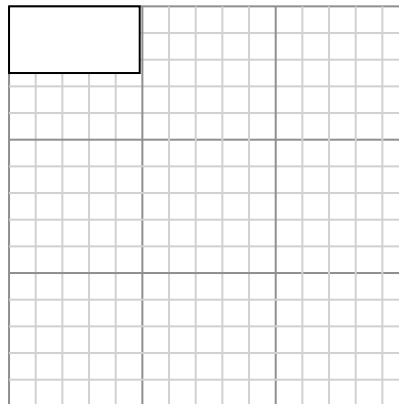

- 3) Hình chữ nhật dưới đây có các kích thước: 2.8×3.7 4) Hình chữ nhật dưới đây có các kích thước: 3.7×2.5



Tạo một hình chữ nhật khác có tỷ lệ 9 nhân với kích thước của hình chữ nhật hiện tại.

Tạo một hình chữ nhật khác có tỷ lệ 9 nhân với kích thước của hình chữ nhật hiện tại.

- 5) Hình chữ nhật dưới đây có các kích thước: 4.1×2.3 6) Hình chữ nhật dưới đây có các kích thước: 4.9×2.5



Tạo một hình chữ nhật khác có tỷ lệ 9 nhân với kích thước của hình chữ nhật hiện tại.

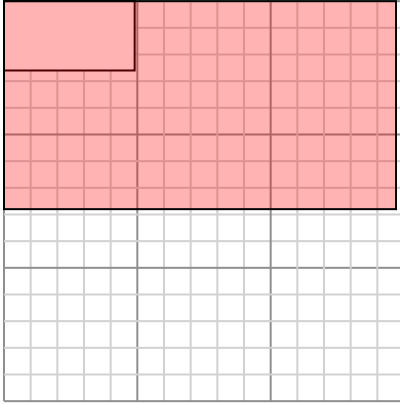
Tạo một hình chữ nhật khác có tỷ lệ 9 nhân với kích thước của hình chữ nhật hiện tại.

1. _____
2. _____
3. _____
4. _____
5. _____
6. _____

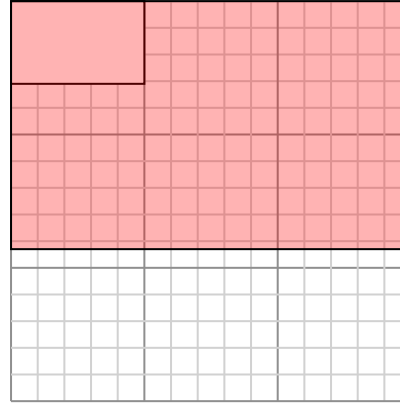


Vẽ mỗi hình chữ nhật theo tỷ lệ được hiển thị và xác định các kích thước mới.

- 1) Hình chữ nhật dưới đây có các kích thước: 4.9×2.6 2) Hình chữ nhật dưới đây có các kích thước: 5×3.1

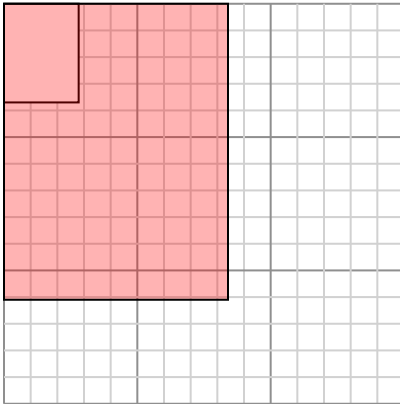


Tạo một hình chữ nhật khác có tỷ lệ 9 nhân với kích thước của hình chữ nhật hiện tại.

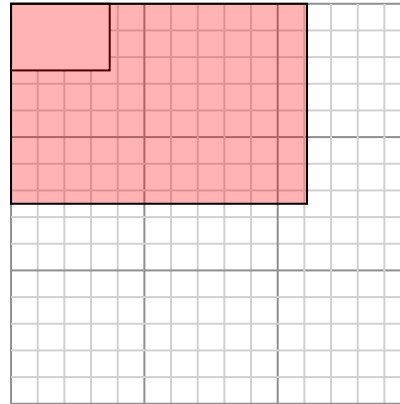


Tạo một hình chữ nhật khác có tỷ lệ 9 nhân với kích thước của hình chữ nhật hiện tại.

- 3) Hình chữ nhật dưới đây có các kích thước: 2.8×3.7 4) Hình chữ nhật dưới đây có các kích thước: 3.7×2.5

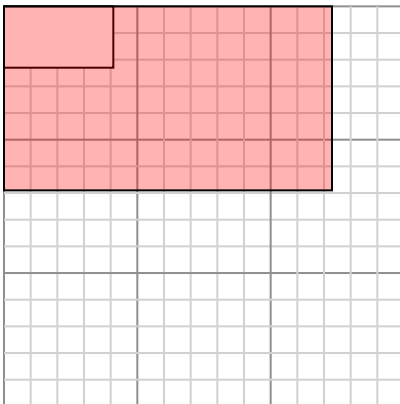


Tạo một hình chữ nhật khác có tỷ lệ 9 nhân với kích thước của hình chữ nhật hiện tại.

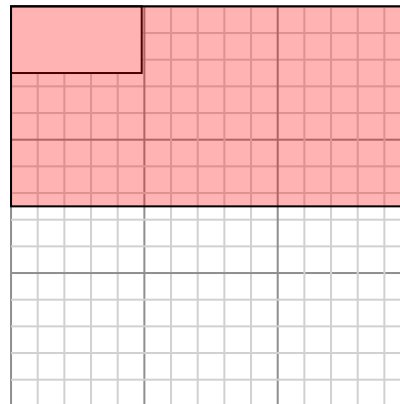


Tạo một hình chữ nhật khác có tỷ lệ 9 nhân với kích thước của hình chữ nhật hiện tại.

- 5) Hình chữ nhật dưới đây có các kích thước: 4.1×2.3 6) Hình chữ nhật dưới đây có các kích thước: 4.9×2.5



Tạo một hình chữ nhật khác có tỷ lệ 9 nhân với kích thước của hình chữ nhật hiện tại.



Tạo một hình chữ nhật khác có tỷ lệ 9 nhân với kích thước của hình chữ nhật hiện tại.

Câu trả lời

1. 14,7×7,8
2. 15×9,3
3. 8,4×11,1
4. 11,1×7,5
5. 12,3×6,9
6. 14,7×7,5