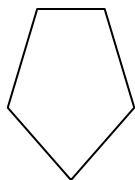




Xác định chữ cái nào TỐT NHẤT đại diện cho các hình dạng được sử dụng để tạo ra hình được hiển thị.

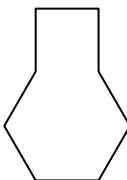
Câu trả lời

1)



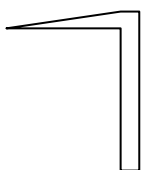
- A. Lục giác & triangle
- B. Tứ giác & triangle
- C. hình chữ nhật & Ngũ giác
- D. hình chữ nhật & Bát giác

2)



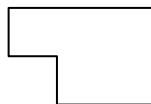
- A. Ngũ giác & hình vuông
- B. hình vuông & Thập giác
- C. Lục giác & hình vuông
- D. hình vuông & triangle

3)



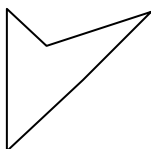
- A. Tứ giác & triangle
- B. hình vuông & Tứ giác
- C. Thập giác & Bát giác
- D. Lục giác & Thập giác

4)



- A. hình chữ nhật & hình vuông
- B. Lục giác & hình vuông
- C. Tứ giác & Bát giác
- D. hình chữ nhật & triangle

5)



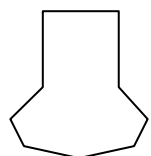
- A. triangle & triangle
- B. hình chữ nhật & Lục giác
- C. Ngũ giác & Tứ giác
- D. hình chữ nhật & Tứ giác

6)



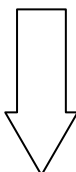
- A. Tứ giác & Lục giác
- B. Tứ giác & Thập giác
- C. Lục giác & Tứ giác
- D. Tứ giác & triangle

7)



- A. Thập giác & hình chữ nhật
- B. hình vuông & hình chữ nhật
- C. Thập giác & Tứ giác
- D. Ngũ giác & Bát giác

8)



- A. Lục giác & Bát giác
- B. Bát giác & hình vuông
- C. triangle & Ngũ giác
- D. hình chữ nhật & triangle

1. \_\_\_\_\_

2. \_\_\_\_\_

3. \_\_\_\_\_

4. \_\_\_\_\_

5. \_\_\_\_\_

6. \_\_\_\_\_

7. \_\_\_\_\_

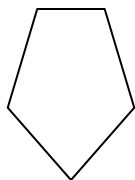
8. \_\_\_\_\_



Xác định chữ cái nào **TỐT NHẤT** đại diện cho các hình dạng được sử dụng để tạo ra hình được hiển thị.

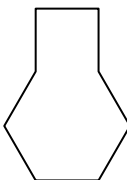
Câu trả lời

1)



- A. Lục giác & triangle
- B. Tứ giác & triangle
- C. hình chữ nhật & Ngũ giác
- D. hình chữ nhật & Bát giác

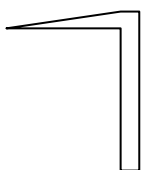
2)



- A. Ngũ giác & hình vuông
- B. hình vuông & Thất giác
- C. Lục giác & hình vuông
- D. hình vuông & triangle

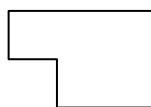
1. **B**2. **C**3. **A**4. **A**5. **A**

3)



- A. Tứ giác & triangle
- B. hình vuông & Tứ giác
- C. Thất giác & Bát giác
- D. Lục giác & Thất giác

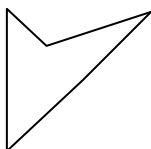
4)



- A. hình chữ nhật & hình vuông
- B. Lục giác & hình vuông
- C. Tứ giác & Bát giác
- D. hình chữ nhật & triangle

6. **C**7. **C**8. **D**

5)



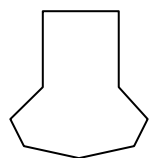
- A. triangle & triangle
- B. hình chữ nhật & Lục giác
- C. Ngũ giác & Tứ giác
- D. hình chữ nhật & Tứ giác

6)



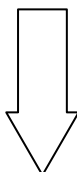
- A. Tứ giác & Lục giác
- B. Tứ giác & Thất giác
- C. Lục giác & Tứ giác
- D. Tứ giác & triangle

7)



- A. Thất giác & hình chữ nhật
- B. hình vuông & hình chữ nhật
- C. Thất giác & Tứ giác
- D. Ngũ giác & Bát giác

8)



- A. Lục giác & Bát giác
- B. Bát giác & hình vuông
- C. triangle & Ngũ giác
- D. hình chữ nhật & triangle