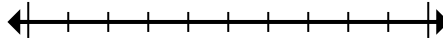




**Đánh dấu vị trí (gần đúng) trên trục số rồi giải.**

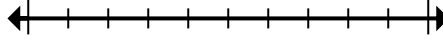
**Câu trả lời**

1) Làm tròn 2.547 đến gần nhất hàng trăm.



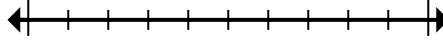
1. \_\_\_\_\_

2) Làm tròn 65.321 đến gần nhất hàng chục nghìn.



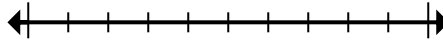
2. \_\_\_\_\_

3) Làm tròn 677.045 đến gần nhất hàng trăm nghìn.



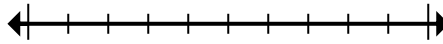
3. \_\_\_\_\_

4) Round 2.903 to the nearest thousand.



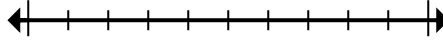
4. \_\_\_\_\_

5) Làm tròn 109 đến gần nhất hàng trăm.



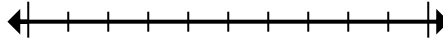
5. \_\_\_\_\_

6) Làm tròn 48.925 đến gần nhất hàng chục nghìn.



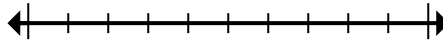
6. \_\_\_\_\_

7) Làm tròn 7.330.341 đến gần nhất hàng chục nghìn.



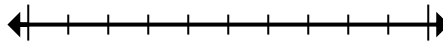
7. \_\_\_\_\_

8) Round 5.020 to the nearest thousand.



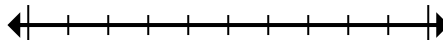
8. \_\_\_\_\_

9) Làm tròn 73.349.622 đến gần nhất hàng trăm nghìn.



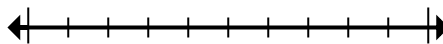
9. \_\_\_\_\_

10) Làm tròn 904 đến gần nhất hàng trăm.



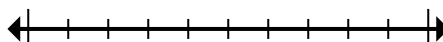
10. \_\_\_\_\_

11) Round 97.135 to the nearest thousand.



11. \_\_\_\_\_

12) Làm tròn 7.228.585 đến gần nhất hàng trăm nghìn.



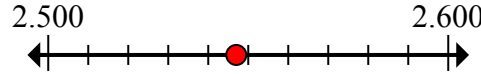
12. \_\_\_\_\_



Đánh dấu vị trí (gần đúng) trên trục số rồi giải.

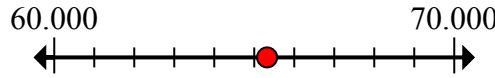
**Câu trả lời**

1) Làm tròn 2.547 đến gần nhất hàng trăm.



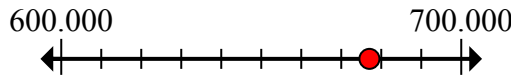
1. 2.500

2) Làm tròn 65.321 đến gần nhất hàng chục nghìn.



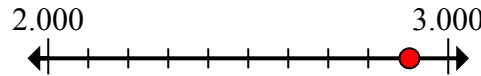
2. 70.000

3) Làm tròn 677.045 đến gần nhất hàng trăm nghìn.



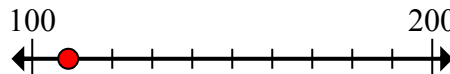
3. 700.000

4) Round 2.903 to the nearest thousand.



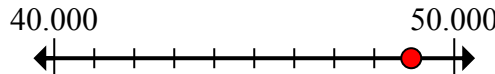
4. 3.000

5) Làm tròn 109 đến gần nhất hàng trăm.



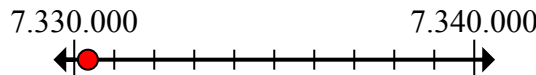
5. 100

6) Làm tròn 48.925 đến gần nhất hàng chục nghìn.



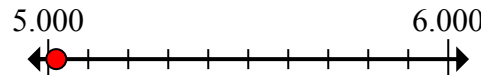
6. 50.000

7) Làm tròn 7.330.341 đến gần nhất hàng chục nghìn.



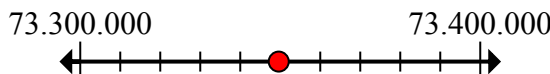
7. 7.330.000

8) Round 5.020 to the nearest thousand.



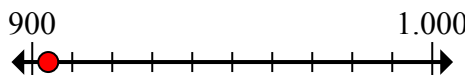
8. 5.000

9) Làm tròn 73.349.622 đến gần nhất hàng trăm nghìn.



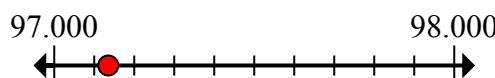
9. 73.300.000

10) Làm tròn 904 đến gần nhất hàng trăm.



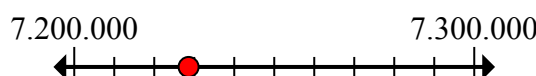
10. 900

11) Round 97.135 to the nearest thousand.



11. 97.000

12) Làm tròn 7.228.585 đến gần nhất hàng trăm nghìn.



12. 7.200.000

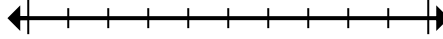


Đánh dấu vị trí (gần đúng) trên trục số rồi giải.

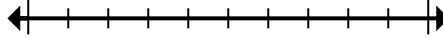
**Câu trả lời**

73.300.000	3.000	2.500	7.200.000
5.000	700.000	50.000	7.330.000
97.000	900	70.000	100

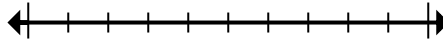
1) Làm tròn 2.547 đến gần nhất hàng trăm.



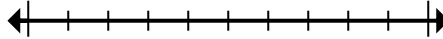
2) Làm tròn 65.321 đến gần nhất hàng chục nghìn.



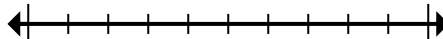
3) Làm tròn 677.045 đến gần nhất hàng trăm nghìn.



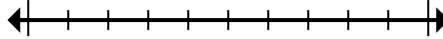
4) Round 2.903 to the nearest thousand.



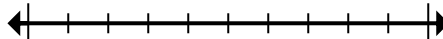
5) Làm tròn 109 đến gần nhất hàng trăm.



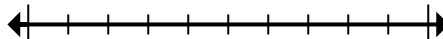
6) Làm tròn 48.925 đến gần nhất hàng chục nghìn.



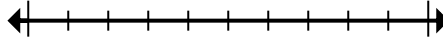
7) Làm tròn 7.330.341 đến gần nhất hàng chục nghìn.



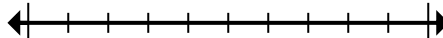
8) Round 5.020 to the nearest thousand.



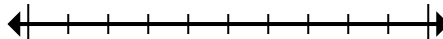
9) Làm tròn 73.349.622 đến gần nhất hàng trăm nghìn.



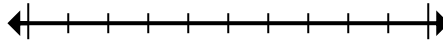
10) Làm tròn 904 đến gần nhất hàng trăm.



11) Round 97.135 to the nearest thousand.



12) Làm tròn 7.228.585 đến gần nhất hàng trăm nghìn.



1. \_\_\_\_\_
2. \_\_\_\_\_
3. \_\_\_\_\_
4. \_\_\_\_\_
5. \_\_\_\_\_
6. \_\_\_\_\_
7. \_\_\_\_\_
8. \_\_\_\_\_
9. \_\_\_\_\_
10. \_\_\_\_\_
11. \_\_\_\_\_
12. \_\_\_\_\_