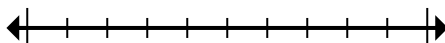




**Đánh dấu vị trí (gần đúng) trên trục số rồi giải.**

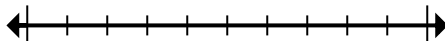
**Câu trả lời**

1) Làm tròn 14.905 đến gần nhất hàng trăm.



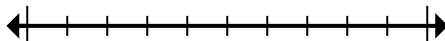
1. \_\_\_\_\_

2) Làm tròn 680.180 đến gần nhất hàng trăm nghìn.



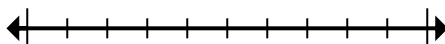
2. \_\_\_\_\_

3) Làm tròn 992.162 đến gần nhất hàng trăm nghìn.



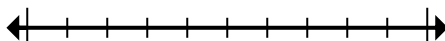
3. \_\_\_\_\_

4) Làm tròn 48.422.834 đến gần nhất hàng trăm nghìn.



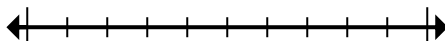
4. \_\_\_\_\_

5) Round 729.327 to the nearest thousand.



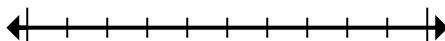
5. \_\_\_\_\_

6) Round 42.660 to the nearest thousand.



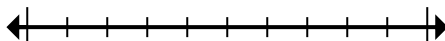
6. \_\_\_\_\_

7) Làm tròn 72.083.942 đến gần nhất hàng trăm nghìn.



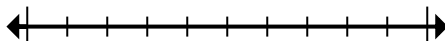
7. \_\_\_\_\_

8) Làm tròn 361 đến gần nhất hàng trăm.



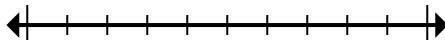
8. \_\_\_\_\_

9) Làm tròn 79.043 đến gần nhất hàng chục nghìn.



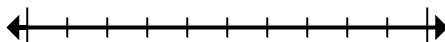
9. \_\_\_\_\_

10) Làm tròn 344 đến gần nhất hàng trăm.



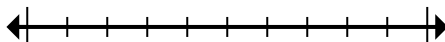
10. \_\_\_\_\_

11) Round 1.179 to the nearest thousand.



11. \_\_\_\_\_

12) Làm tròn 359.639 đến gần nhất hàng trăm.



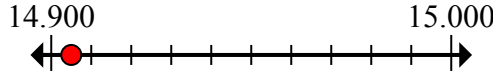
12. \_\_\_\_\_



Đánh dấu vị trí (gần đúng) trên trục số rồi giải.

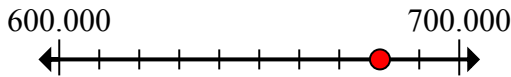
**Câu trả lời**

1) Làm tròn 14.905 đến gần nhất hàng trăm.



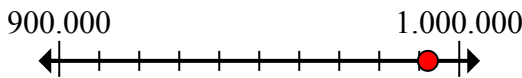
1. 14.900

2) Làm tròn 680.180 đến gần nhất hàng trăm nghìn.



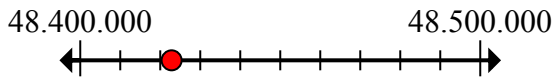
2. 700.000

3) Làm tròn 992.162 đến gần nhất hàng trăm nghìn.



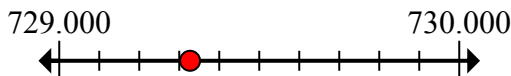
3. 1.000.000

4) Làm tròn 48.422.834 đến gần nhất hàng trăm nghìn.



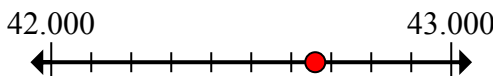
4. 48.400.000

5) Round 729.327 to the nearest thousand.



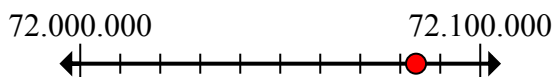
5. 729.000

6) Round 42.660 to the nearest thousand.



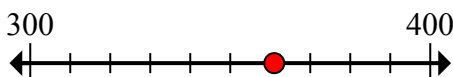
6. 43.000

7) Làm tròn 72.083.942 đến gần nhất hàng trăm nghìn.



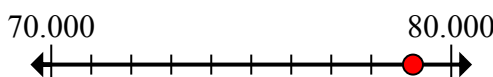
7. 72.100.000

8) Làm tròn 361 đến gần nhất hàng trăm.



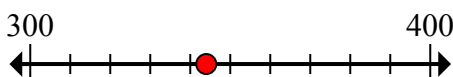
8. 400

9) Làm tròn 79.043 đến gần nhất hàng chục nghìn.



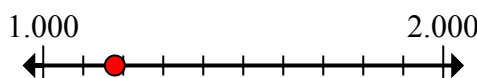
9. 80.000

10) Làm tròn 344 đến gần nhất hàng trăm.



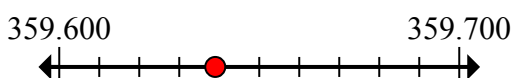
10. 300

11) Round 1.179 to the nearest thousand.



11. 1.000

12) Làm tròn 359.639 đến gần nhất hàng trăm.



12. 359.600

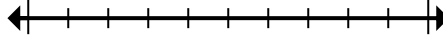


**Đánh dấu vị trí (gần đúng) trên trục số rồi giải.**

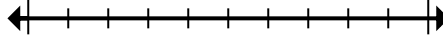
**Câu trả lời**

1.000	1.000.000	43.000	700.000
729.000	72.100.000	359.600	300
14.900	48.400.000	400	80.000

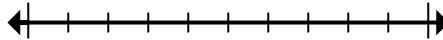
1) Làm tròn 14.905 đến gần nhất hàng trăm.



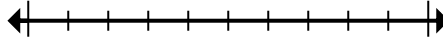
2) Làm tròn 680.180 đến gần nhất hàng trăm nghìn.



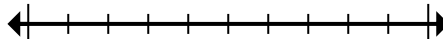
3) Làm tròn 992.162 đến gần nhất hàng trăm nghìn.



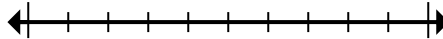
4) Làm tròn 48.422.834 đến gần nhất hàng trăm nghìn.



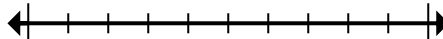
5) Round 729.327 to the nearest thousand.



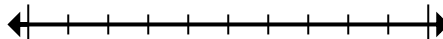
6) Round 42.660 to the nearest thousand.



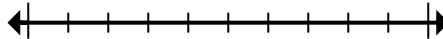
7) Làm tròn 72.083.942 đến gần nhất hàng trăm nghìn.



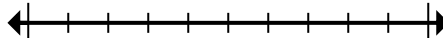
8) Làm tròn 361 đến gần nhất hàng trăm.



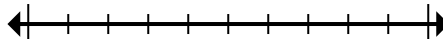
9) Làm tròn 79.043 đến gần nhất hàng chục nghìn.



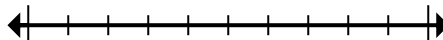
10) Làm tròn 344 đến gần nhất hàng trăm.



11) Round 1.179 to the nearest thousand.



12) Làm tròn 359.639 đến gần nhất hàng trăm.



1. \_\_\_\_\_
2. \_\_\_\_\_
3. \_\_\_\_\_
4. \_\_\_\_\_
5. \_\_\_\_\_
6. \_\_\_\_\_
7. \_\_\_\_\_
8. \_\_\_\_\_
9. \_\_\_\_\_
10. \_\_\_\_\_
11. \_\_\_\_\_
12. \_\_\_\_\_