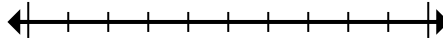




Đánh dấu vị trí (gần đúng) trên trục số rồi giải.

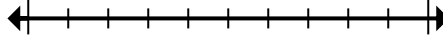
Câu trả lời

1) Làm tròn 808.484 đến gần nhất hàng chục nghìn.



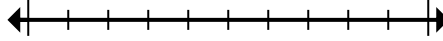
1. _____

2) Round 832.264 to the nearest thousand.



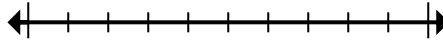
2. _____

3) Làm tròn 10.622.917 đến gần nhất hàng trăm nghìn.



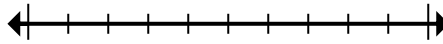
3. _____

4) Làm tròn 7.142.074 đến gần nhất hàng chục nghìn.



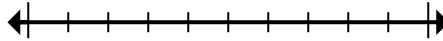
4. _____

5) Làm tròn 72.745 đến gần nhất hàng chục nghìn.



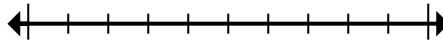
5. _____

6) Làm tròn 314 đến gần nhất hàng trăm.



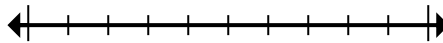
6. _____

7) Round 2.720 to the nearest thousand.



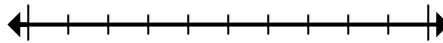
7. _____

8) Làm tròn 80.764 đến gần nhất hàng chục nghìn.



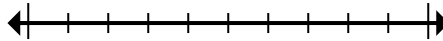
8. _____

9) Round 633.653 to the nearest thousand.



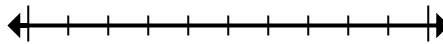
9. _____

10) Làm tròn 151.433 đến gần nhất hàng trăm.



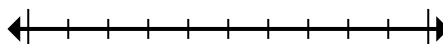
10. _____

11) Làm tròn 2.415 đến gần nhất hàng trăm.



11. _____

12) Làm tròn 42.974.961 đến gần nhất hàng trăm nghìn.



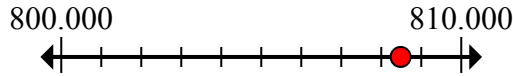
12. _____



Đánh dấu vị trí (gần đúng) trên trục số rồi giải.

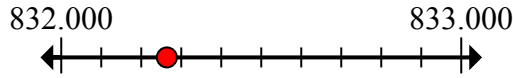
Câu trả lời

1) Làm tròn 808.484 đến gần nhất hàng chục nghìn.



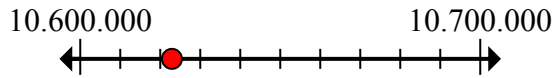
1. 810.000

2) Round 832.264 to the nearest thousand.



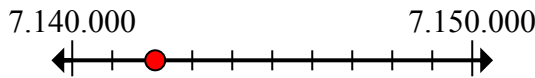
2. 832.000

3) Làm tròn 10.622.917 đến gần nhất hàng trăm nghìn.



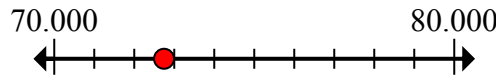
3. 10.600.000

4) Làm tròn 7.142.074 đến gần nhất hàng chục nghìn.



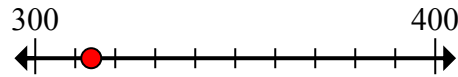
4. 7.140.000

5) Làm tròn 72.745 đến gần nhất hàng chục nghìn.



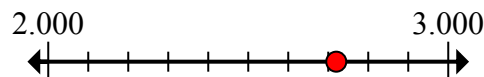
5. 70.000

6) Làm tròn 314 đến gần nhất hàng trăm.



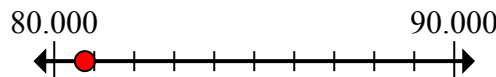
6. 300

7) Round 2.720 to the nearest thousand.



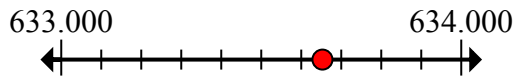
7. 3.000

8) Làm tròn 80.764 đến gần nhất hàng chục nghìn.



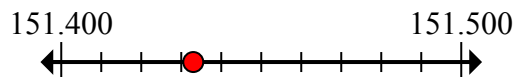
8. 80.000

9) Round 633.653 to the nearest thousand.



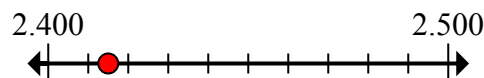
9. 634.000

10) Làm tròn 151.433 đến gần nhất hàng trăm.



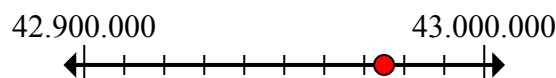
10. 151.400

11) Làm tròn 2.415 đến gần nhất hàng trăm.



11. 2.400

12) Làm tròn 42.974.961 đến gần nhất hàng trăm nghìn.



12. 43.000.000

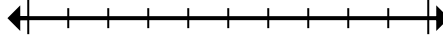


Đánh dấu vị trí (gần đúng) trên trục số rồi giải.

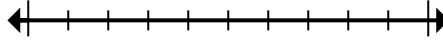
Câu trả lời

3.000	151.400	832.000	10.600.000
70.000	80.000	7.140.000	300
634.000	810.000	2.400	43.000.000

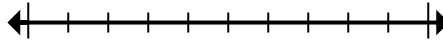
1) Làm tròn 808.484 đến gần nhất hàng chục nghìn.



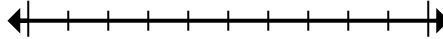
2) Round 832.264 to the nearest thousand.



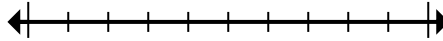
3) Làm tròn 10.622.917 đến gần nhất hàng trăm nghìn.



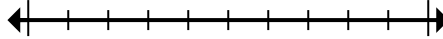
4) Làm tròn 7.142.074 đến gần nhất hàng chục nghìn.



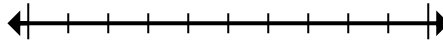
5) Làm tròn 72.745 đến gần nhất hàng chục nghìn.



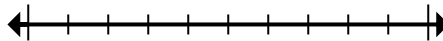
6) Làm tròn 314 đến gần nhất hàng trăm.



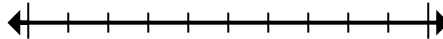
7) Round 2.720 to the nearest thousand.



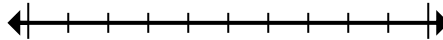
8) Làm tròn 80.764 đến gần nhất hàng chục nghìn.



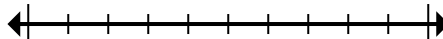
9) Round 633.653 to the nearest thousand.



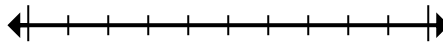
10) Làm tròn 151.433 đến gần nhất hàng trăm.



11) Làm tròn 2.415 đến gần nhất hàng trăm.



12) Làm tròn 42.974.961 đến gần nhất hàng trăm nghìn.



1. _____
2. _____
3. _____
4. _____
5. _____
6. _____
7. _____
8. _____
9. _____
10. _____
11. _____
12. _____