



Đánh dấu vị trí (gần đúng) trên trục số rồi giải.

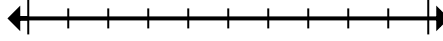
Câu trả lời

1) Làm tròn 636 đến gần nhất hàng trăm.



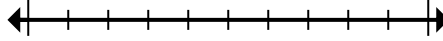
1. _____

2) Làm tròn 460.239 đến gần nhất hàng trăm nghìn.



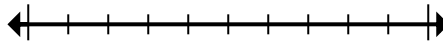
2. _____

3) Làm tròn 43.360.678 đến gần nhất hàng trăm nghìn.



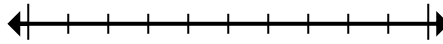
3. _____

4) Làm tròn 525 đến gần nhất hàng trăm.



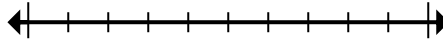
4. _____

5) Làm tròn 520.968 đến gần nhất hàng trăm nghìn.



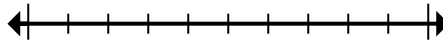
5. _____

6) Làm tròn 242.983 đến gần nhất hàng chục nghìn.



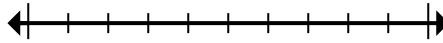
6. _____

7) Làm tròn 6.825.849 đến gần nhất hàng trăm.



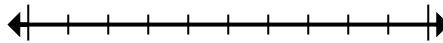
7. _____

8) Round 4.314 to the nearest thousand.



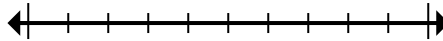
8. _____

9) Làm tròn 97.589 đến gần nhất hàng chục nghìn.



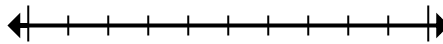
9. _____

10) Round 6.435 to the nearest thousand.



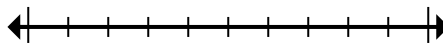
10. _____

11) Làm tròn 29.689.529 đến gần nhất hàng trăm nghìn.



11. _____

12) Làm tròn 4.801.539 đến gần nhất hàng chục nghìn.



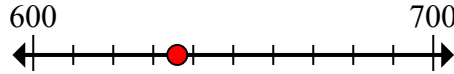
12. _____



Đánh dấu vị trí (gần đúng) trên trục số rồi giải.

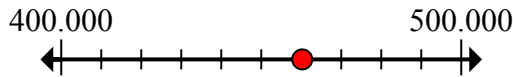
Câu trả lời

1) Làm tròn 636 đến gần nhất hàng trăm.



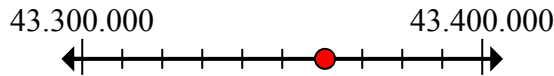
1. 600

2) Làm tròn 460.239 đến gần nhất hàng trăm nghìn.



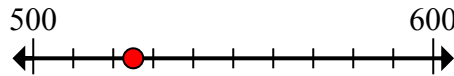
2. 500.000

3) Làm tròn 43.360.678 đến gần nhất hàng trăm nghìn.



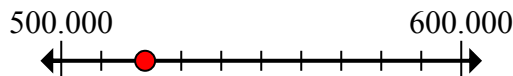
3. 43.400.000

4) Làm tròn 525 đến gần nhất hàng trăm.



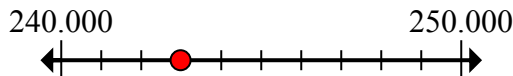
4. 500

5) Làm tròn 520.968 đến gần nhất hàng trăm nghìn.



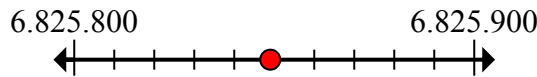
5. 500.000

6) Làm tròn 242.983 đến gần nhất hàng chục nghìn.



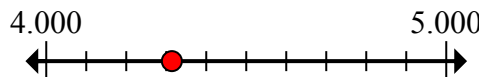
6. 240.000

7) Làm tròn 6.825.849 đến gần nhất hàng trăm.



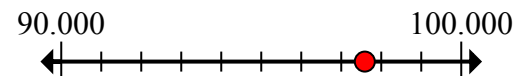
7. 6.825.800

8) Round 4.314 to the nearest thousand.



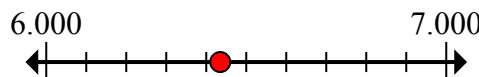
8. 4.000

9) Làm tròn 97.589 đến gần nhất hàng chục nghìn.



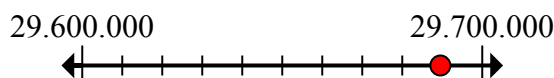
9. 100.000

10) Round 6.435 to the nearest thousand.



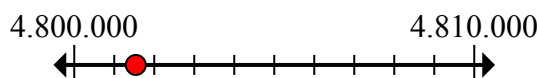
10. 6.000

11) Làm tròn 29.689.529 đến gần nhất hàng trăm nghìn.



11. 29.700.000

12) Làm tròn 4.801.539 đến gần nhất hàng chục nghìn.



12. 4.800.000

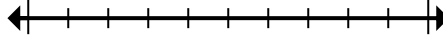


Đánh dấu vị trí (gần đúng) trên trục số rồi giải.

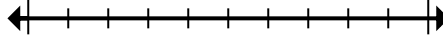
Câu trả lời

4.800.000	43.400.000	600	500
29.700.000	6.825.800	240.000	500.000
4.000	100.000	500.000	6.000

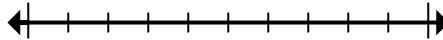
1) Làm tròn 636 đến gần nhất hàng trăm.



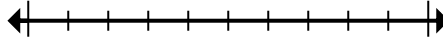
2) Làm tròn 460.239 đến gần nhất hàng trăm nghìn.



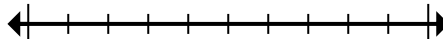
3) Làm tròn 43.360.678 đến gần nhất hàng trăm nghìn.



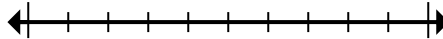
4) Làm tròn 525 đến gần nhất hàng trăm.



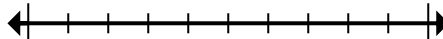
5) Làm tròn 520.968 đến gần nhất hàng trăm nghìn.



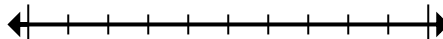
6) Làm tròn 242.983 đến gần nhất hàng chục nghìn.



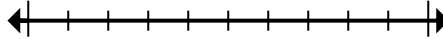
7) Làm tròn 6.825.849 đến gần nhất hàng trăm.



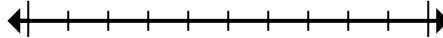
8) Round 4.314 to the nearest thousand.



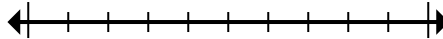
9) Làm tròn 97.589 đến gần nhất hàng chục nghìn.



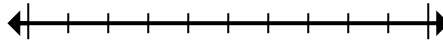
10) Round 6.435 to the nearest thousand.



11) Làm tròn 29.689.529 đến gần nhất hàng trăm nghìn.



12) Làm tròn 4.801.539 đến gần nhất hàng chục nghìn.



1. _____
2. _____
3. _____
4. _____
5. _____
6. _____
7. _____
8. _____
9. _____
10. _____
11. _____
12. _____