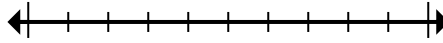




Đánh dấu vị trí (gần đúng) trên trục số rồi giải.

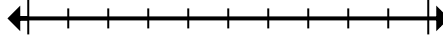
Câu trả lời

1) Làm tròn 45.381.768 đến gần nhất hàng trăm nghìn.



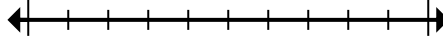
1. _____

2) Làm tròn 79.869 đến gần nhất hàng chục nghìn.



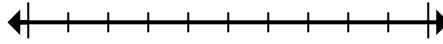
2. _____

3) Làm tròn 101.525 đến gần nhất hàng chục nghìn.



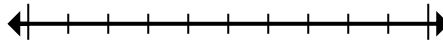
3. _____

4) Round 37.018 to the nearest thousand.



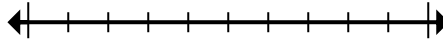
4. _____

5) Round 4.376 to the nearest thousand.



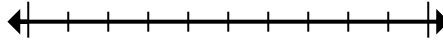
5. _____

6) Round 360.946 to the nearest thousand.



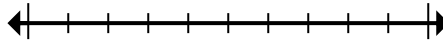
6. _____

7) Làm tròn 9.545.950 đến gần nhất hàng trăm.



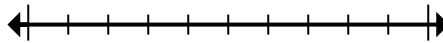
7. _____

8) Làm tròn 49.898.085 đến gần nhất hàng trăm nghìn.



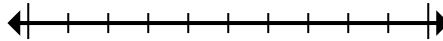
8. _____

9) Round 1.552 to the nearest thousand.



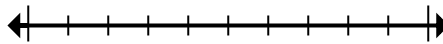
9. _____

10) Làm tròn 57.392 đến gần nhất hàng chục nghìn.



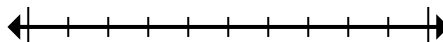
10. _____

11) Làm tròn 544.862 đến gần nhất hàng trăm nghìn.



11. _____

12) Làm tròn 3.268.593 đến gần nhất hàng trăm.



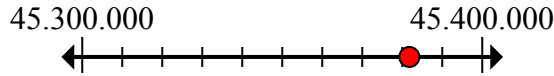
12. _____



Đánh dấu vị trí (gần đúng) trên trục số rồi giải.

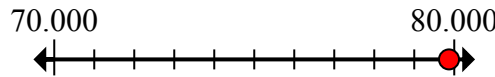
Câu trả lời

1) Làm tròn 45.381.768 đến gần nhất hàng trăm nghìn.



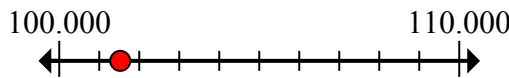
1. 45.400.000

2) Làm tròn 79.869 đến gần nhất hàng chục nghìn.



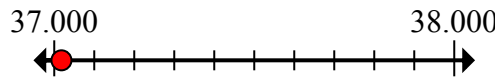
2. 80.000

3) Làm tròn 101.525 đến gần nhất hàng chục nghìn.



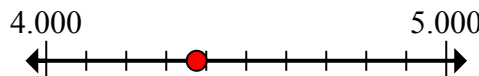
3. 100.000

4) Round 37.018 to the nearest thousand.



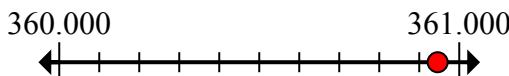
4. 37.000

5) Round 4.376 to the nearest thousand.



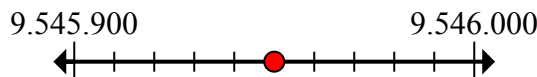
5. 4.000

6) Round 360.946 to the nearest thousand.



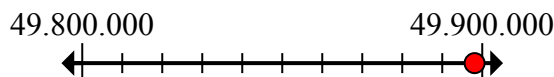
6. 361.000

7) Làm tròn 9.545.950 đến gần nhất hàng trăm.



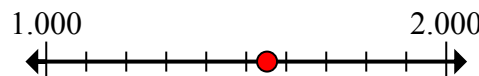
7. 9.546.000

8) Làm tròn 49.898.085 đến gần nhất hàng trăm nghìn.



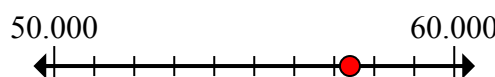
8. 49.900.000

9) Round 1.552 to the nearest thousand.



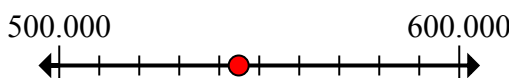
9. 2.000

10) Làm tròn 57.392 đến gần nhất hàng chục nghìn.



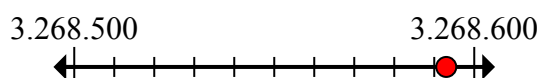
10. 60.000

11) Làm tròn 544.862 đến gần nhất hàng trăm nghìn.



11. 500.000

12) Làm tròn 3.268.593 đến gần nhất hàng trăm.



12. 3.268.600

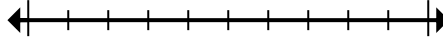


Đánh dấu vị trí (gần đúng) trên trục số rồi giải.

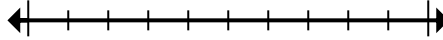
Câu trả lời

60.000	4.000	3.268.600	2.000
49.900.000	9.546.000	361.000	45.400.000
37.000	500.000	100.000	80.000

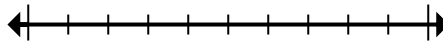
1) Làm tròn 45.381.768 đến gần nhất hàng trăm nghìn.



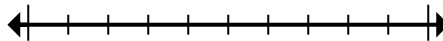
2) Làm tròn 79.869 đến gần nhất hàng chục nghìn.



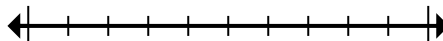
3) Làm tròn 101.525 đến gần nhất hàng chục nghìn.



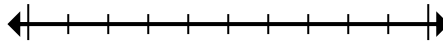
4) Round 37.018 to the nearest thousand.



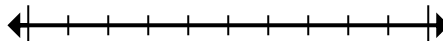
5) Round 4.376 to the nearest thousand.



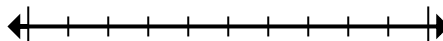
6) Round 360.946 to the nearest thousand.



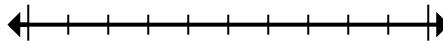
7) Làm tròn 9.545.950 đến gần nhất hàng trăm.



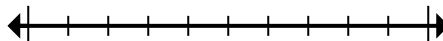
8) Làm tròn 49.898.085 đến gần nhất hàng trăm nghìn.



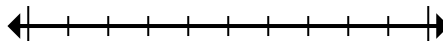
9) Round 1.552 to the nearest thousand.



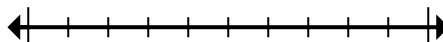
10) Làm tròn 57.392 đến gần nhất hàng chục nghìn.



11) Làm tròn 544.862 đến gần nhất hàng trăm nghìn.



12) Làm tròn 3.268.593 đến gần nhất hàng trăm.



1. _____
2. _____
3. _____
4. _____
5. _____
6. _____
7. _____
8. _____
9. _____
10. _____
11. _____
12. _____