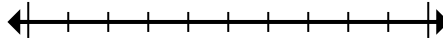




Đánh dấu vị trí (gần đúng) trên trục số rồi giải.

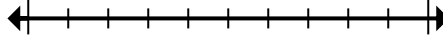
Câu trả lời

1) Round 1.241 to the nearest thousand.



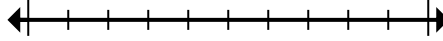
1. _____

2) Làm tròn 768 đến gần nhất hàng trăm.



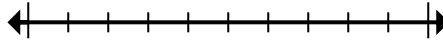
2. _____

3) Làm tròn 318.652 đến gần nhất hàng trăm.



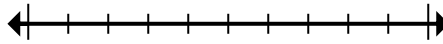
3. _____

4) Round 5.553.802 to the nearest thousand.



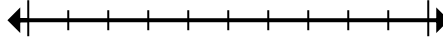
4. _____

5) Làm tròn 447.430 đến gần nhất hàng trăm nghìn.



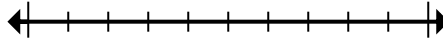
5. _____

6) Làm tròn 619.618 đến gần nhất hàng chục nghìn.



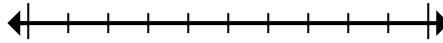
6. _____

7) Round 59.257 to the nearest thousand.



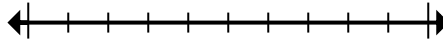
7. _____

8) Làm tròn 2.862.338 đến gần nhất hàng chục nghìn.



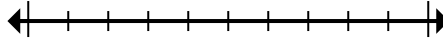
8. _____

9) Làm tròn 39.911.169 đến gần nhất hàng trăm nghìn.



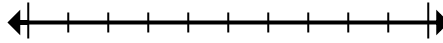
9. _____

10) Làm tròn 404 đến gần nhất hàng trăm.



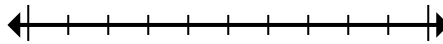
10. _____

11) Làm tròn 76.673 đến gần nhất hàng chục nghìn.



11. _____

12) Round 4.894 to the nearest thousand.



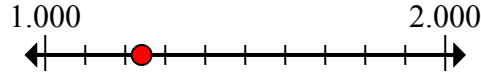
12. _____



Đánh dấu vị trí (gần đúng) trên trục số rồi giải.

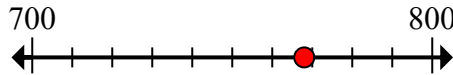
Câu trả lời

1) Round 1.241 to the nearest thousand.



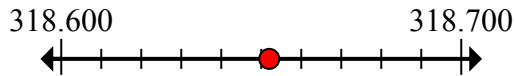
1. 1.000

2) Làm tròn 768 đến gần nhất hàng trăm.



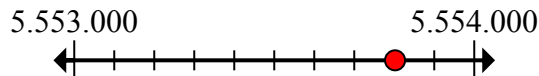
2. 800

3) Làm tròn 318.652 đến gần nhất hàng trăm.



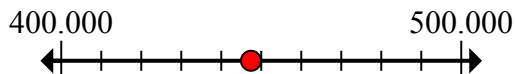
3. 318.700

4) Round 5.553.802 to the nearest thousand.



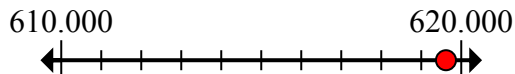
4. 5.554.000

5) Làm tròn 447.430 đến gần nhất hàng trăm nghìn.



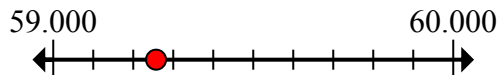
5. 400.000

6) Làm tròn 619.618 đến gần nhất hàng chục nghìn.



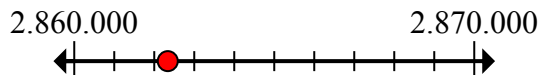
6. 620.000

7) Round 59.257 to the nearest thousand.



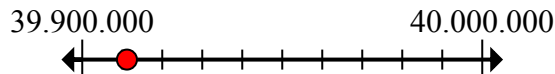
7. 59.000

8) Làm tròn 2.862.338 đến gần nhất hàng chục nghìn.



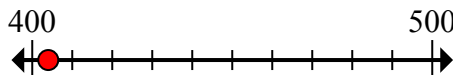
8. 2.860.000

9) Làm tròn 39.911.169 đến gần nhất hàng trăm nghìn.



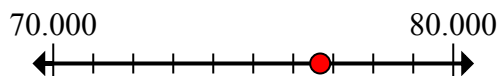
9. 39.900.000

10) Làm tròn 404 đến gần nhất hàng trăm.



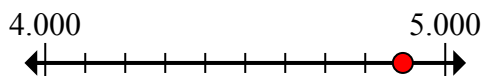
10. 400

11) Làm tròn 76.673 đến gần nhất hàng chục nghìn.



11. 80.000

12) Round 4.894 to the nearest thousand.



12. 5.000

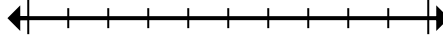


Đánh dấu vị trí (gần đúng) trên trục số rồi giải.

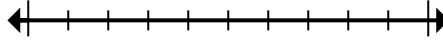
Câu trả lời

800	2.860.000	620.000	39.900.000
59.000	80.000	400.000	400
5.554.000	1.000	318.700	5.000

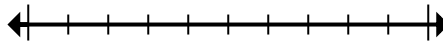
1) Round 1.241 to the nearest thousand.



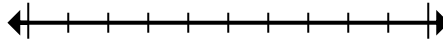
2) Làm tròn 768 đến gần nhất hàng trăm.



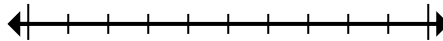
3) Làm tròn 318.652 đến gần nhất hàng trăm.



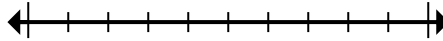
4) Round 5.553.802 to the nearest thousand.



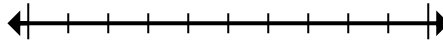
5) Làm tròn 447.430 đến gần nhất hàng trăm nghìn.



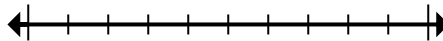
6) Làm tròn 619.618 đến gần nhất hàng chục nghìn.



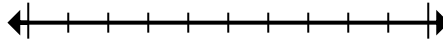
7) Round 59.257 to the nearest thousand.



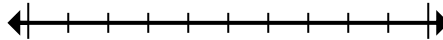
8) Làm tròn 2.862.338 đến gần nhất hàng chục nghìn.



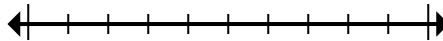
9) Làm tròn 39.911.169 đến gần nhất hàng trăm nghìn.



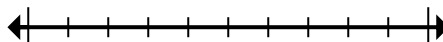
10) Làm tròn 404 đến gần nhất hàng trăm.



11) Làm tròn 76.673 đến gần nhất hàng chục nghìn.



12) Round 4.894 to the nearest thousand.



1. _____
2. _____
3. _____
4. _____
5. _____
6. _____
7. _____
8. _____
9. _____
10. _____
11. _____
12. _____