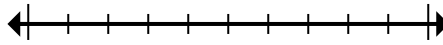




**Đánh dấu vị trí (gần đúng) trên trục số rồi giải.**

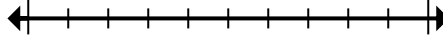
**Câu trả lời**

1) Làm tròn 52.817 đến gần nhất hàng chục nghìn.



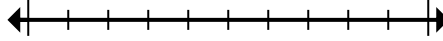
1. \_\_\_\_\_

2) Làm tròn 820.860 đến gần nhất hàng trăm.



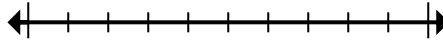
2. \_\_\_\_\_

3) Làm tròn 666.641 đến gần nhất hàng chục nghìn.



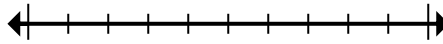
3. \_\_\_\_\_

4) Round 9.506 to the nearest thousand.



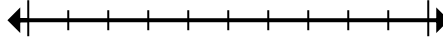
4. \_\_\_\_\_

5) Làm tròn 453.975 đến gần nhất hàng trăm nghìn.



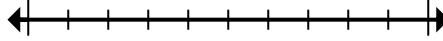
5. \_\_\_\_\_

6) Làm tròn 534.644 đến gần nhất hàng trăm nghìn.



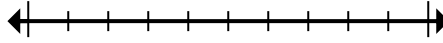
6. \_\_\_\_\_

7) Làm tròn 40.673.282 đến gần nhất hàng trăm nghìn.



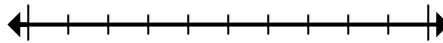
7. \_\_\_\_\_

8) Làm tròn 126.324 đến gần nhất hàng chục nghìn.



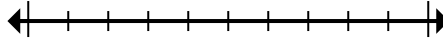
8. \_\_\_\_\_

9) Làm tròn 950 đến gần nhất hàng trăm.



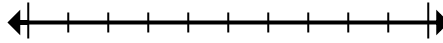
9. \_\_\_\_\_

10) Round 728.779 to the nearest thousand.



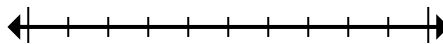
10. \_\_\_\_\_

11) Làm tròn 82.189 đến gần nhất hàng chục nghìn.



11. \_\_\_\_\_

12) Round 681.152 to the nearest thousand.



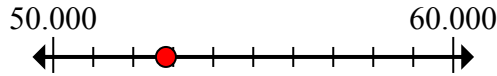
12. \_\_\_\_\_



Đánh dấu vị trí (gần đúng) trên trục số rồi giải.

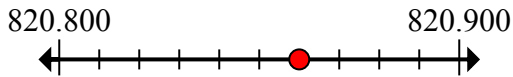
**Câu trả lời**

1) Làm tròn 52.817 đến gần nhất hàng chục nghìn.



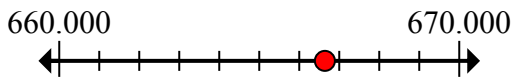
1. 50.000

2) Làm tròn 820.860 đến gần nhất hàng trăm.



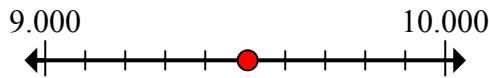
2. 820.900

3) Làm tròn 666.641 đến gần nhất hàng chục nghìn.



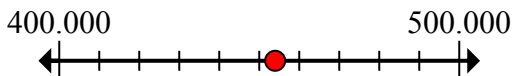
3. 670.000

4) Round 9.506 to the nearest thousand.



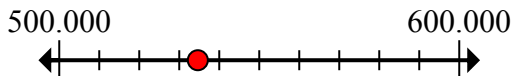
4. 10.000

5) Làm tròn 453.975 đến gần nhất hàng trăm nghìn.



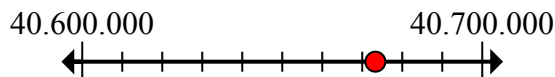
5. 500.000

6) Làm tròn 534.644 đến gần nhất hàng trăm nghìn.



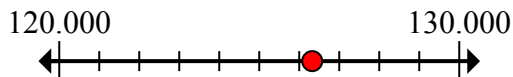
6. 500.000

7) Làm tròn 40.673.282 đến gần nhất hàng trăm nghìn.



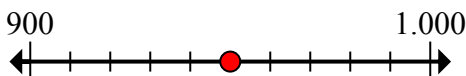
7. 40.700.000

8) Làm tròn 126.324 đến gần nhất hàng chục nghìn.



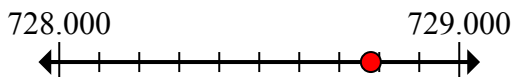
8. 130.000

9) Làm tròn 950 đến gần nhất hàng trăm.



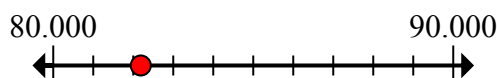
9. 1.000

10) Round 728.779 to the nearest thousand.



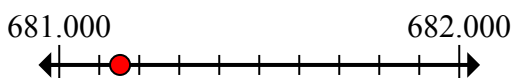
10. 729.000

11) Làm tròn 82.189 đến gần nhất hàng chục nghìn.



11. 80.000

12) Round 681.152 to the nearest thousand.



12. 681.000

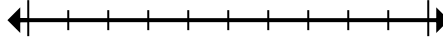


Đánh dấu vị trí (gần đúng) trên trục số rồi giải.

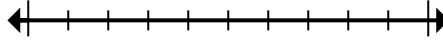
**Câu trả lời**

670.000	80.000	681.000	729.000
500.000	130.000	50.000	10.000
40.700.000	500.000	1.000	820.900

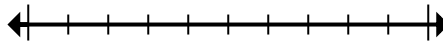
1) Làm tròn 52.817 đến gần nhất hàng chục nghìn.



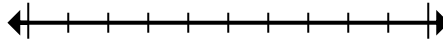
2) Làm tròn 820.860 đến gần nhất hàng trăm.



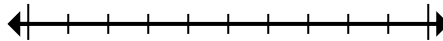
3) Làm tròn 666.641 đến gần nhất hàng chục nghìn.



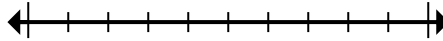
4) Round 9.506 to the nearest thousand.



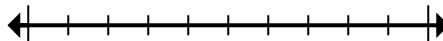
5) Làm tròn 453.975 đến gần nhất hàng trăm nghìn.



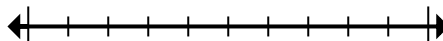
6) Làm tròn 534.644 đến gần nhất hàng trăm nghìn.



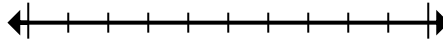
7) Làm tròn 40.673.282 đến gần nhất hàng trăm nghìn.



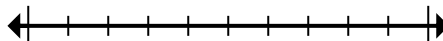
8) Làm tròn 126.324 đến gần nhất hàng chục nghìn.



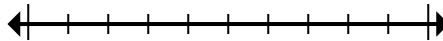
9) Làm tròn 950 đến gần nhất hàng trăm.



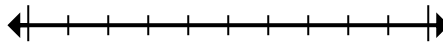
10) Round 728.779 to the nearest thousand.



11) Làm tròn 82.189 đến gần nhất hàng chục nghìn.



12) Round 681.152 to the nearest thousand.



1. \_\_\_\_\_
2. \_\_\_\_\_
3. \_\_\_\_\_
4. \_\_\_\_\_
5. \_\_\_\_\_
6. \_\_\_\_\_
7. \_\_\_\_\_
8. \_\_\_\_\_
9. \_\_\_\_\_
10. \_\_\_\_\_
11. \_\_\_\_\_
12. \_\_\_\_\_