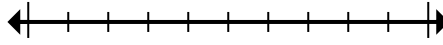




Đánh dấu vị trí (gần đúng) trên trục số rồi giải.

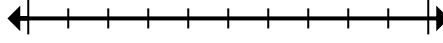
Câu trả lời

1) Làm tròn 60.393.636 đến gần nhất hàng trăm nghìn.



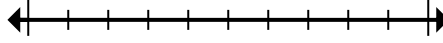
1. _____

2) Làm tròn 94.001 đến gần nhất hàng chục nghìn.



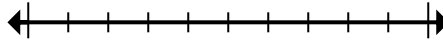
2. _____

3) Làm tròn 665 đến gần nhất hàng trăm.



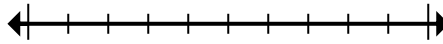
3. _____

4) Làm tròn 257 đến gần nhất hàng trăm.



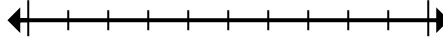
4. _____

5) Làm tròn 888.081 đến gần nhất hàng chục nghìn.



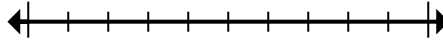
5. _____

6) Round 2.138 to the nearest thousand.



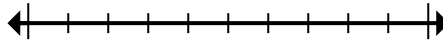
6. _____

7) Round 3.390 to the nearest thousand.



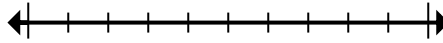
7. _____

8) Làm tròn 8.542.890 đến gần nhất hàng chục nghìn.



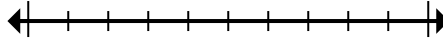
8. _____

9) Làm tròn 515.011 đến gần nhất hàng trăm nghìn.



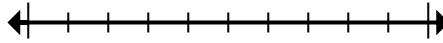
9. _____

10) Làm tròn 962.363 đến gần nhất hàng trăm.



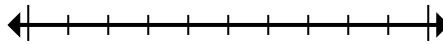
10. _____

11) Làm tròn 656.429 đến gần nhất hàng trăm nghìn.



11. _____

12) Làm tròn 87.606 đến gần nhất hàng chục nghìn.



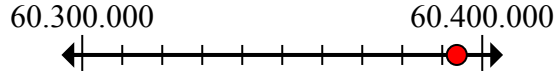
12. _____



Đánh dấu vị trí (gần đúng) trên trục số rồi giải.

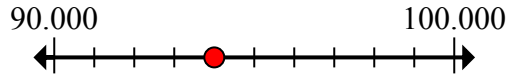
Câu trả lời

1) Làm tròn 60.393.636 đến gần nhất hàng trăm nghìn.



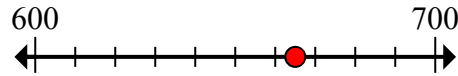
1. 60.400.000

2) Làm tròn 94.001 đến gần nhất hàng chục nghìn.



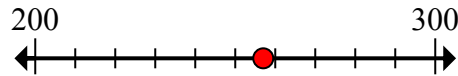
2. 90.000

3) Làm tròn 665 đến gần nhất hàng trăm.



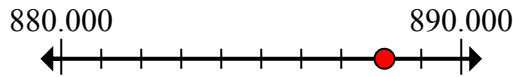
3. 700

4) Làm tròn 257 đến gần nhất hàng trăm.



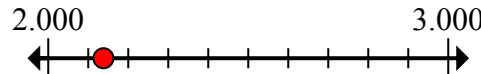
4. 300

5) Làm tròn 888.081 đến gần nhất hàng chục nghìn.



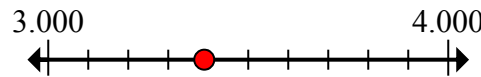
5. 890.000

6) Round 2.138 to the nearest thousand.



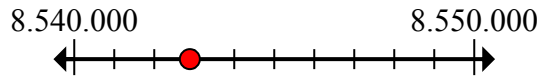
6. 2.000

7) Round 3.390 to the nearest thousand.



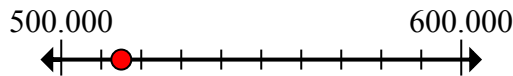
7. 3.000

8) Làm tròn 8.542.890 đến gần nhất hàng chục nghìn.



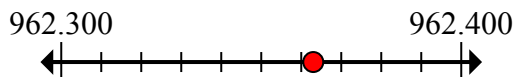
8. 8.540.000

9) Làm tròn 515.011 đến gần nhất hàng trăm nghìn.



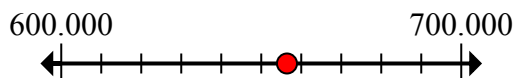
9. 500.000

10) Làm tròn 962.363 đến gần nhất hàng trăm.



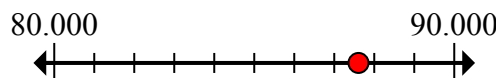
10. 962.400

11) Làm tròn 656.429 đến gần nhất hàng trăm nghìn.



11. 700.000

12) Làm tròn 87.606 đến gần nhất hàng chục nghìn.



12. 90.000

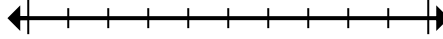


Đánh dấu vị trí (gần đúng) trên trục số rồi giải.

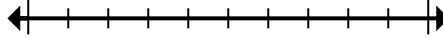
Câu trả lời

2.000	60.400.000	700	90.000
90.000	700.000	3.000	8.540.000
962.400	300	500.000	890.000

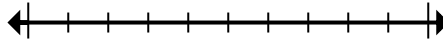
1) Làm tròn 60.393.636 đến gần nhất hàng trăm nghìn.



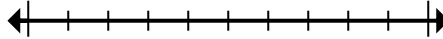
2) Làm tròn 94.001 đến gần nhất hàng chục nghìn.



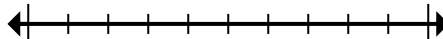
3) Làm tròn 665 đến gần nhất hàng trăm.



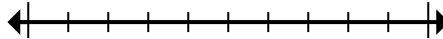
4) Làm tròn 257 đến gần nhất hàng trăm.



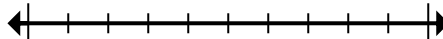
5) Làm tròn 888.081 đến gần nhất hàng chục nghìn.



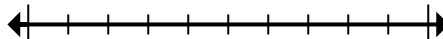
6) Round 2.138 to the nearest thousand.



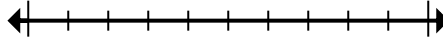
7) Round 3.390 to the nearest thousand.



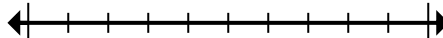
8) Làm tròn 8.542.890 đến gần nhất hàng chục nghìn.



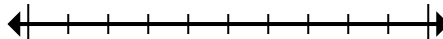
9) Làm tròn 515.011 đến gần nhất hàng trăm nghìn.



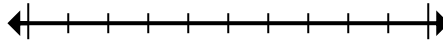
10) Làm tròn 962.363 đến gần nhất hàng trăm.



11) Làm tròn 656.429 đến gần nhất hàng trăm nghìn.



12) Làm tròn 87.606 đến gần nhất hàng chục nghìn.



1. _____
2. _____
3. _____
4. _____
5. _____
6. _____
7. _____
8. _____
9. _____
10. _____
11. _____
12. _____