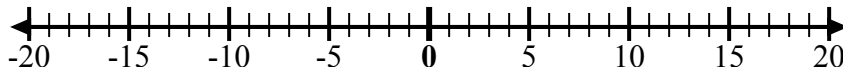
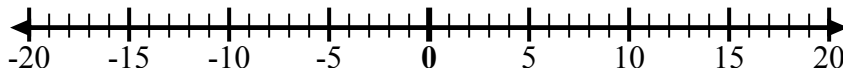
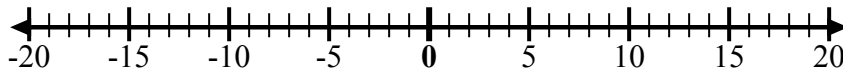




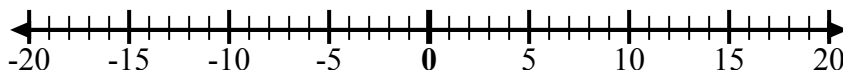
Sử dụng các dãy số để hiển thị từng biểu thức và giải.

Câu trả lờiVd) Bắt đầu từ 2
và thêm -8Vd. $2 + -8 = -6$ 1) Bắt đầu từ -5
và thêm 4

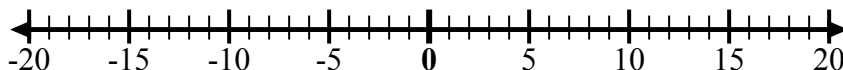
1. _____

2) Bắt đầu từ -4
và thêm 13

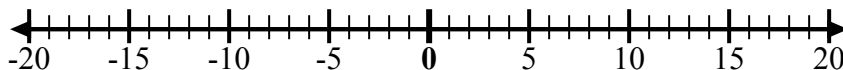
2. _____

3) Bắt đầu từ 2
và thêm -10

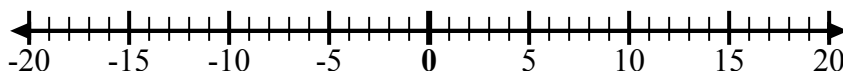
3. _____

4) Bắt đầu từ 10
và thêm -1

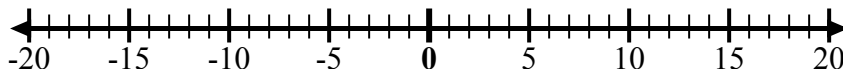
4. _____

5) Bắt đầu từ 0
và thêm -10

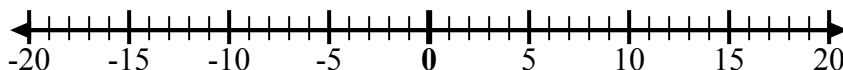
5. _____

6) Bắt đầu từ -5
và thêm -3

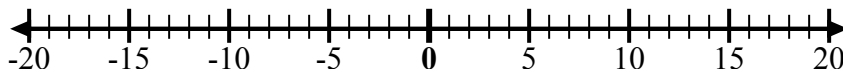
6. _____

7) Bắt đầu từ 8
và thêm -13

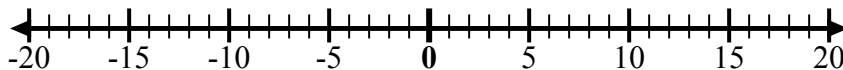
7. _____

8) Bắt đầu từ -3
và thêm -7

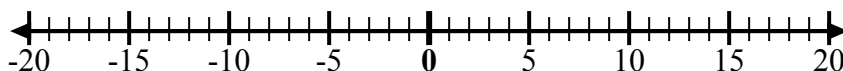
8. _____

9) Bắt đầu từ 0
và thêm -2

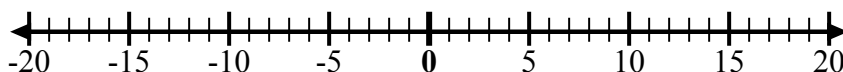
9. _____

10) Bắt đầu từ 3
và thêm -7

10. _____

11) Bắt đầu từ -7
và thêm -3

11. _____

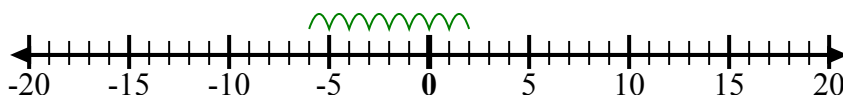
12) Bắt đầu từ -5
và thêm -2

12. _____

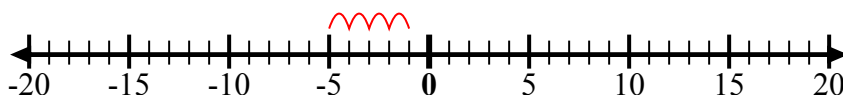


Sử dụng các dây số để hiển thị từng biểu thức và giải.

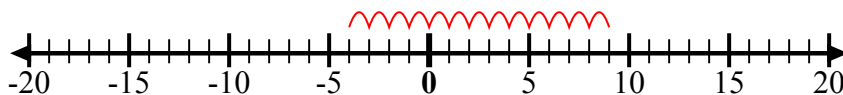
Vd) Bắt đầu từ 2
và thêm -8



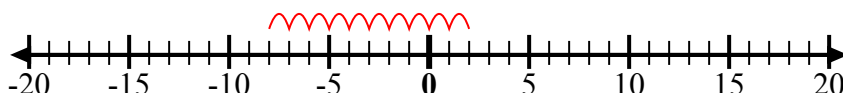
1) Bắt đầu từ -5
và thêm 4



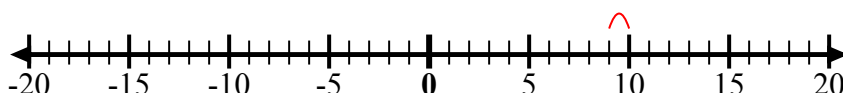
2) Bắt đầu từ -4
và thêm 13



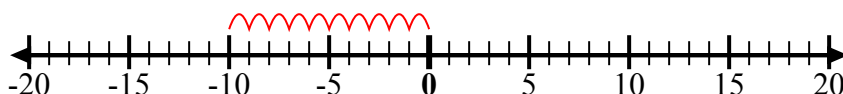
3) Bắt đầu từ 2
và thêm -10



4) Bắt đầu từ 10
và thêm -1



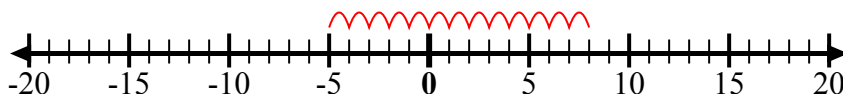
5) Bắt đầu từ 0
và thêm -10



6) Bắt đầu từ -5
và thêm -3



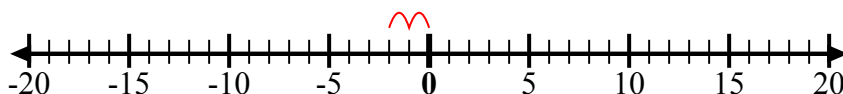
7) Bắt đầu từ 8
và thêm -13



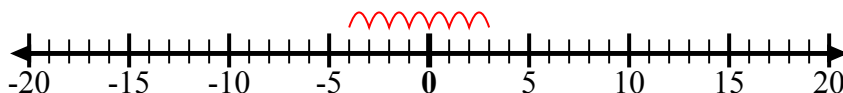
8) Bắt đầu từ -3
và thêm -7



9) Bắt đầu từ 0
và thêm -2



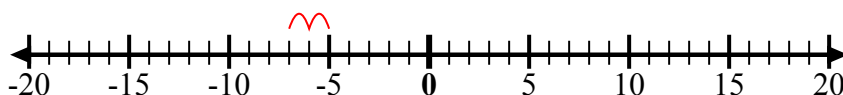
10) Bắt đầu từ 3
và thêm -7



11) Bắt đầu từ -7
và thêm -3



12) Bắt đầu từ -5
và thêm -2



Câu trả lời

Vd. $2 + -8 = -6$

1. $-5 + 4 = -1$

2. $-4 + 13 = 9$

3. $2 + -10 = -8$

4. $10 + -1 = 9$

5. $0 + -10 = -10$

6. $-5 + -3 = -8$

7. $8 + -13 = -5$

8. $-3 + -7 = -10$

9. $0 + -2 = -2$

10. $3 + -7 = -4$

11. $-7 + -3 = -10$

12. $-5 + -2 = -7$