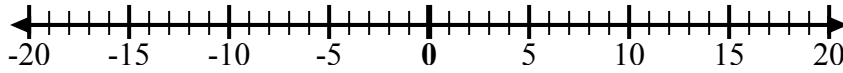




Sử dụng các dãy số để hiển thị từng biểu thức và giải.

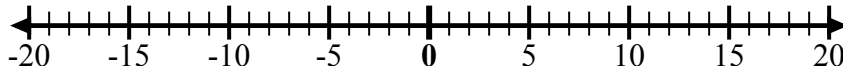
Câu trả lời

Vd) Bắt đầu từ -9
và thêm 5



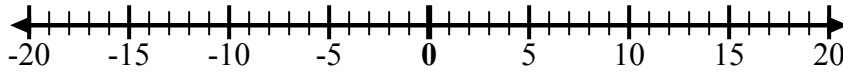
Vd. $-9 + 5 = -4$

1) Bắt đầu từ -10
và thêm 14



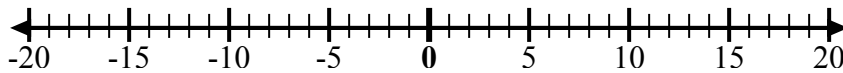
1. _____

2) Bắt đầu từ 3
và thêm -10



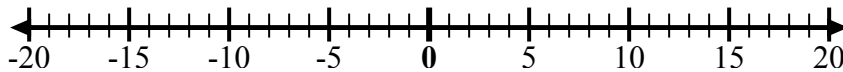
2. _____

3) Bắt đầu từ 7
và thêm -6



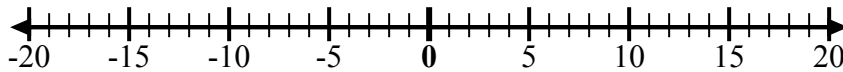
3. _____

4) Bắt đầu từ -8
và thêm -2



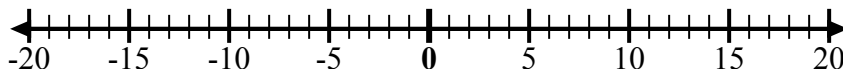
4. _____

5) Bắt đầu từ 5
và thêm -9



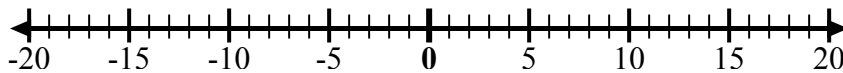
5. _____

6) Bắt đầu từ -5
và thêm 4



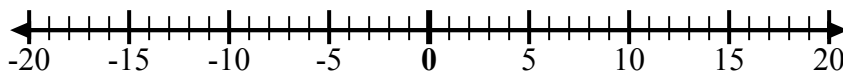
6. _____

7) Bắt đầu từ -6
và thêm 9



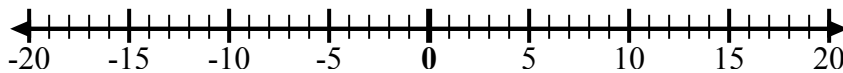
7. _____

8) Bắt đầu từ -4
và thêm 14



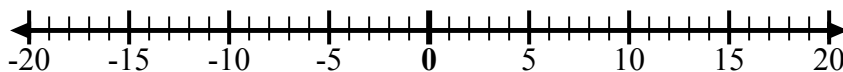
8. _____

9) Bắt đầu từ -4
và thêm -3



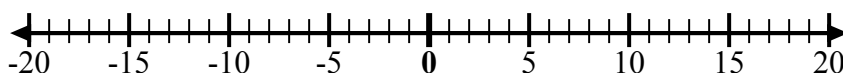
9. _____

10) Bắt đầu từ -7
và thêm -2



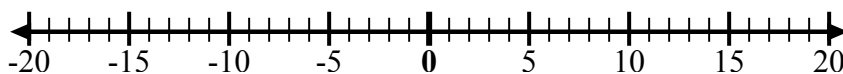
10. _____

11) Bắt đầu từ 0
và thêm -7



11. _____

12) Bắt đầu từ -2
và thêm -2

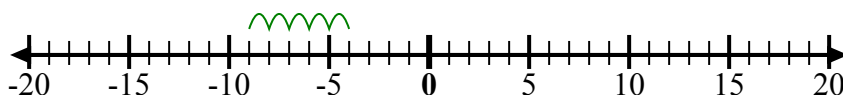


12. _____



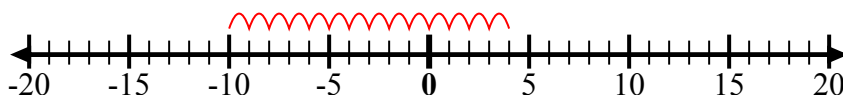
Sử dụng các dây số để hiển thị từng biểu thức và giải.

Vd) Bắt đầu từ -9
và thêm 5



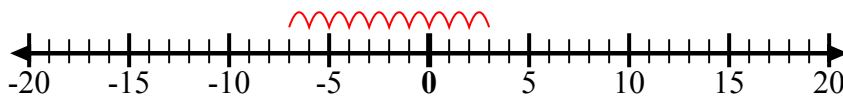
Vd. $-9 + 5 = -4$

1) Bắt đầu từ -10
và thêm 14



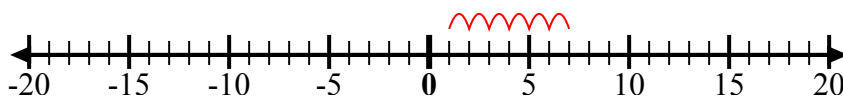
1. $-10 + 14 = 4$

2) Bắt đầu từ 3
và thêm -10



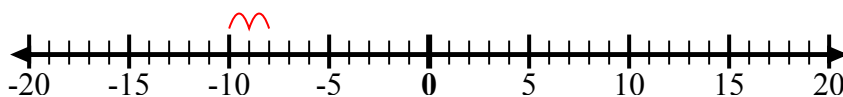
2. $3 + -10 = -7$

3) Bắt đầu từ 7
và thêm -6



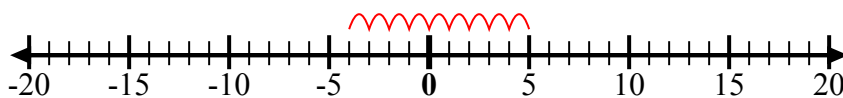
3. $7 + -6 = 1$

4) Bắt đầu từ -8
và thêm -2



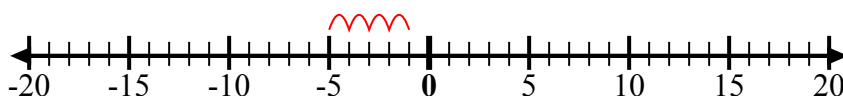
4. $-8 + -2 = -10$

5) Bắt đầu từ 5
và thêm -9



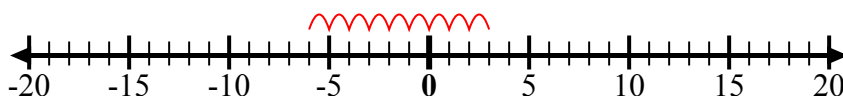
5. $5 + -9 = -4$

6) Bắt đầu từ -5
và thêm 4



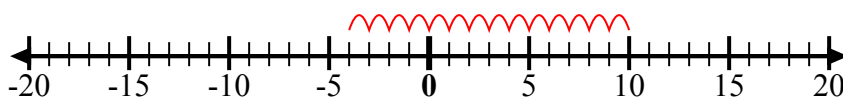
6. $-5 + 4 = -1$

7) Bắt đầu từ -6
và thêm 9



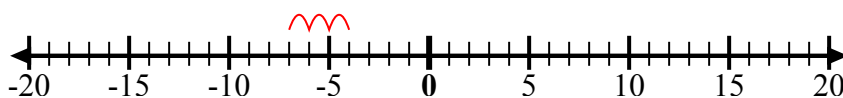
7. $-6 + 9 = 3$

8) Bắt đầu từ -4
và thêm 14



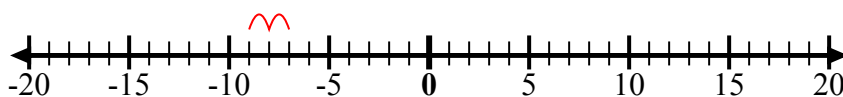
8. $-4 + 14 = 10$

9) Bắt đầu từ -4
và thêm -3



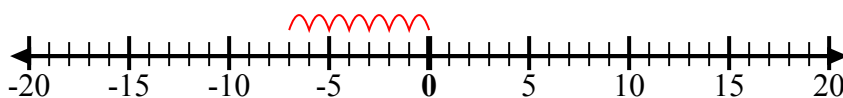
9. $-4 + -3 = -7$

10) Bắt đầu từ -7
và thêm -2



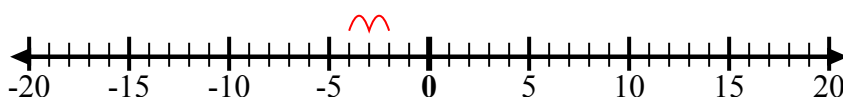
10. $-7 + -2 = -9$

11) Bắt đầu từ 0
và thêm -7



11. $0 + -7 = -7$

12) Bắt đầu từ -2
và thêm -2



12. $-2 + -2 = -4$

Câu trả lời