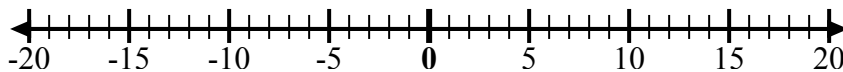




Sử dụng các dãy số để hiện thị từng biểu thức và giải.

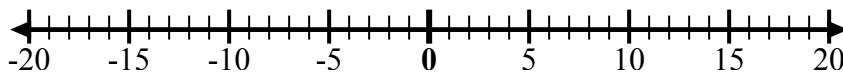
Câu trả lời

Vd) Bắt đầu từ 9
và thêm -4



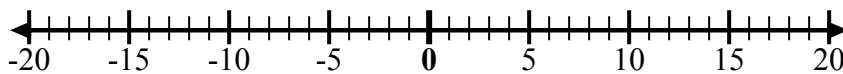
Vd. $9 + -4 = 5$

1) Bắt đầu từ 5
và thêm -11



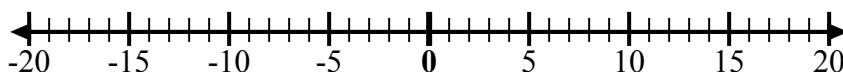
1. _____

2) Bắt đầu từ 2
và thêm -8



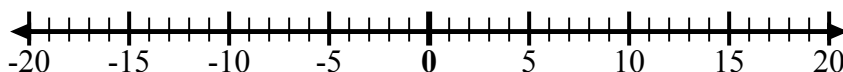
2. _____

3) Bắt đầu từ -5
và thêm -4



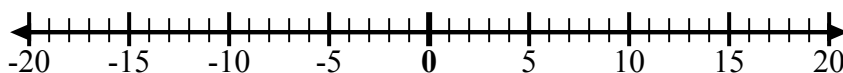
3. _____

4) Bắt đầu từ 0
và thêm 8



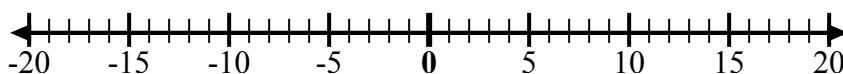
4. _____

5) Bắt đầu từ 5
và thêm -8



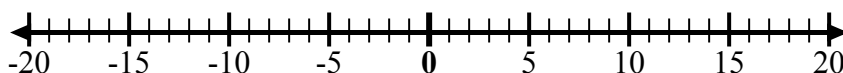
5. _____

6) Bắt đầu từ -7
và thêm 15



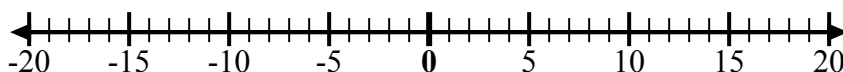
6. _____

7) Bắt đầu từ -9
và thêm 8



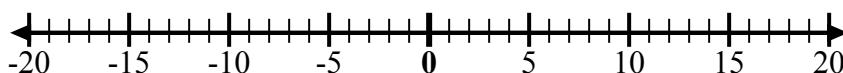
7. _____

8) Bắt đầu từ -2
và thêm -6



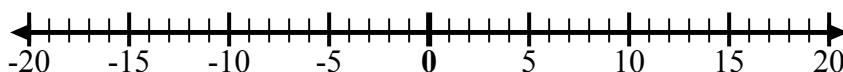
8. _____

9) Bắt đầu từ -5
và thêm 5



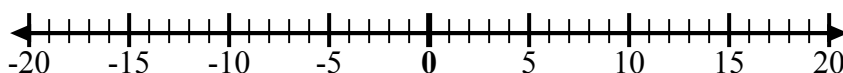
9. _____

10) Bắt đầu từ -1
và thêm -8



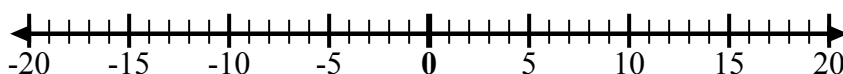
10. _____

11) Bắt đầu từ -1
và thêm 7



11. _____

12) Bắt đầu từ -10
và thêm 14

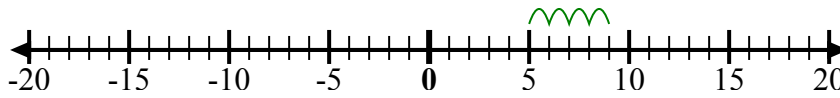


12. _____



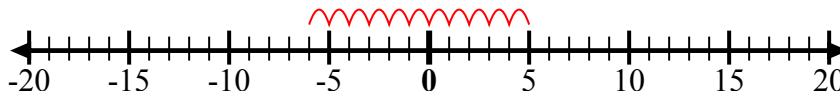
Sử dụng các dây số để hiển thị từng biểu thức và giải.

Vd) Bắt đầu từ 9
và thêm -4



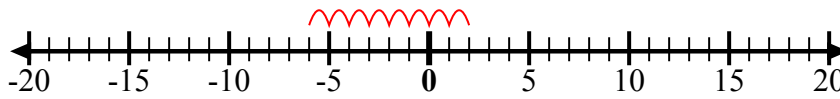
Vd. $9 + -4 = 5$

1) Bắt đầu từ 5
và thêm -11



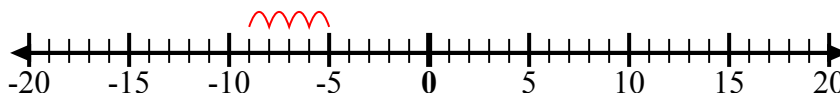
1. $5 + -11 = -6$

2) Bắt đầu từ 2
và thêm -8



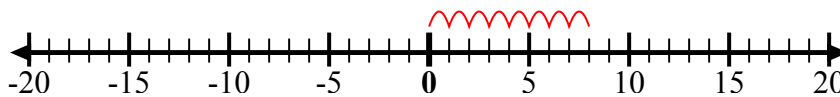
2. $2 + -8 = -6$

3) Bắt đầu từ -5
và thêm -4



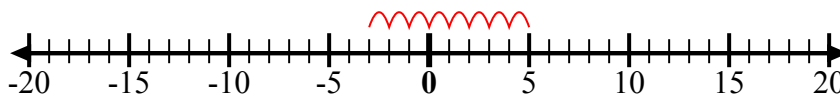
3. $-5 + -4 = -9$

4) Bắt đầu từ 0
và thêm 8



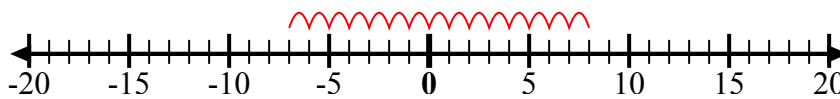
4. $0 + 8 = 8$

5) Bắt đầu từ 5
và thêm -8



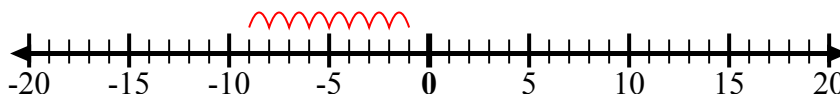
5. $5 + -8 = -3$

6) Bắt đầu từ -7
và thêm 15



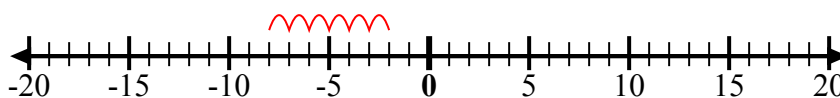
6. $-7 + 15 = 8$

7) Bắt đầu từ -9
và thêm 8



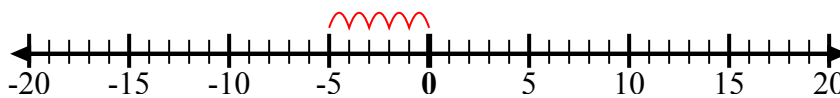
7. $-9 + 8 = -1$

8) Bắt đầu từ -2
và thêm -6



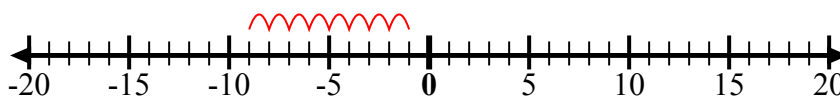
8. $-2 + -6 = -8$

9) Bắt đầu từ -5
và thêm 5



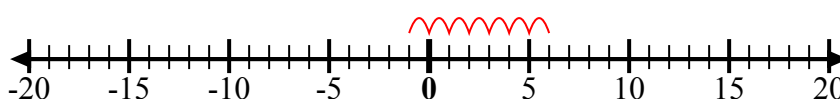
9. $-5 + 5 = 0$

10) Bắt đầu từ -1
và thêm -8



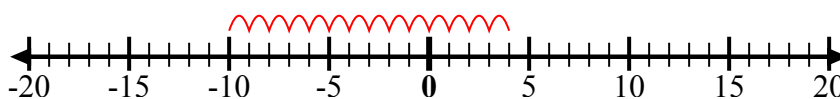
10. $-1 + -8 = -9$

11) Bắt đầu từ -1
và thêm 7



11. $-1 + 7 = 6$

12) Bắt đầu từ -10
và thêm 14



12. $-10 + 14 = 4$

Câu trả lời