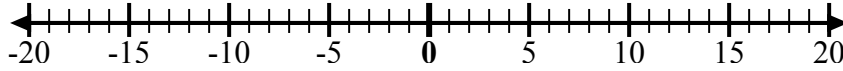




Sử dụng các dãy số để hiển thị từng biểu thức và giải.

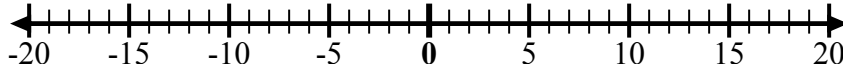
Câu trả lời

Vd) Bắt đầu từ -2
và thêm -8



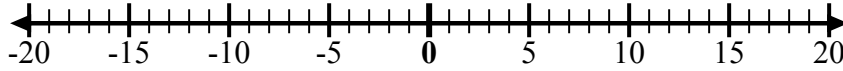
Vd. $-2 + -8 = -10$

1) Bắt đầu từ 8
và thêm -18



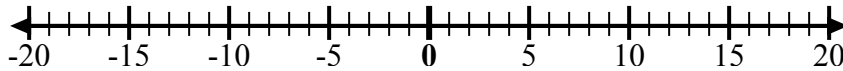
1. _____

2) Bắt đầu từ 4
và thêm -11



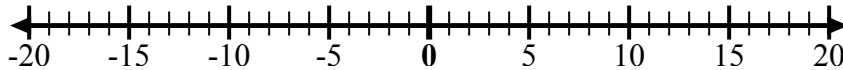
2. _____

3) Bắt đầu từ -5
và thêm -5



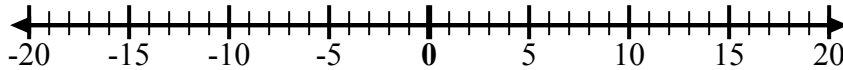
3. _____

4) Bắt đầu từ -8
và thêm 5



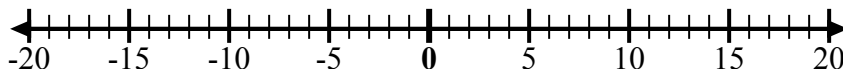
4. _____

5) Bắt đầu từ -6
và thêm 3



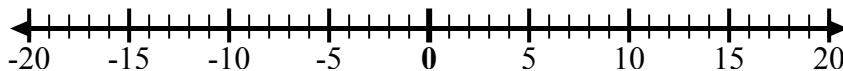
5. _____

6) Bắt đầu từ -1
và thêm -7



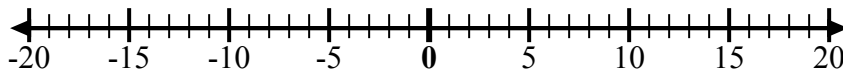
6. _____

7) Bắt đầu từ -2
và thêm -6



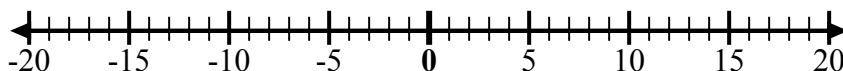
7. _____

8) Bắt đầu từ -3
và thêm 12



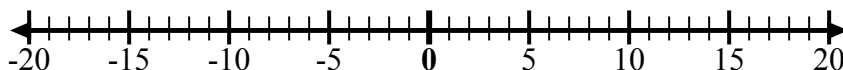
8. _____

9) Bắt đầu từ -1
và thêm 11



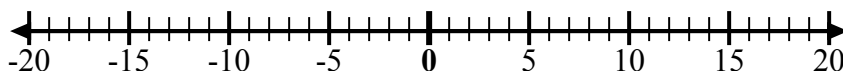
9. _____

10) Bắt đầu từ 2
và thêm -9



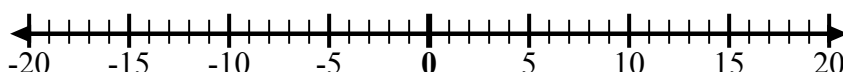
10. _____

11) Bắt đầu từ -3
và thêm 13



11. _____

12) Bắt đầu từ 10
và thêm -12

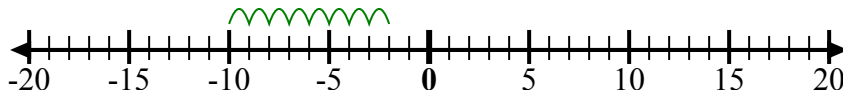


12. _____

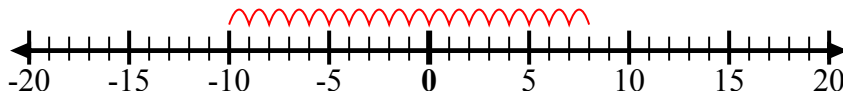


Sử dụng các dây số để hiển thị từng biểu thức và giải.

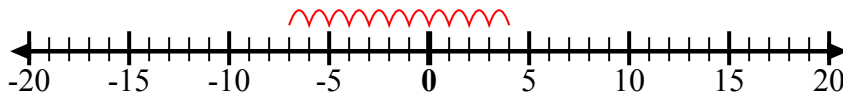
Vd) Bắt đầu từ -2
và thêm -8



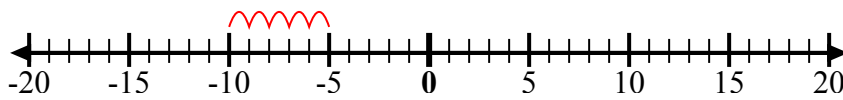
1) Bắt đầu từ 8
và thêm -18



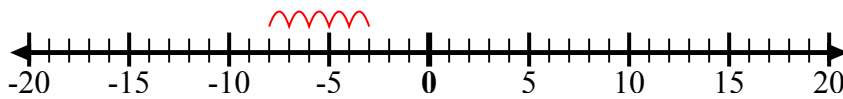
2) Bắt đầu từ 4
và thêm -11



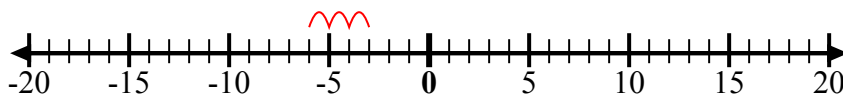
3) Bắt đầu từ -5
và thêm -5



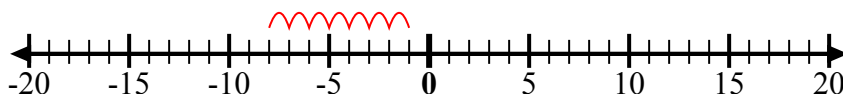
4) Bắt đầu từ -8
và thêm 5



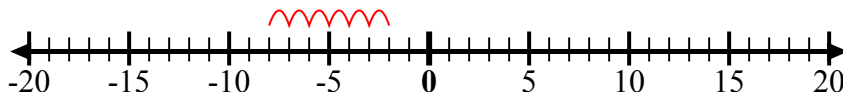
5) Bắt đầu từ -6
và thêm 3



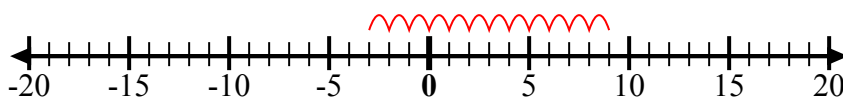
6) Bắt đầu từ -1
và thêm -7



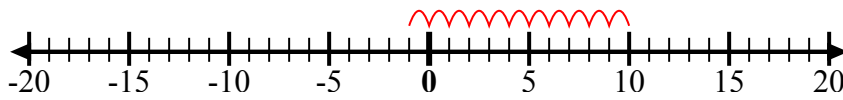
7) Bắt đầu từ -2
và thêm -6



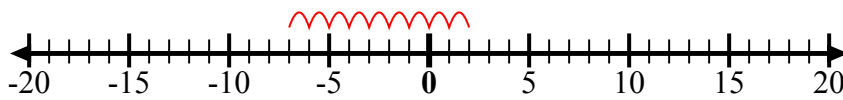
8) Bắt đầu từ -3
và thêm 12



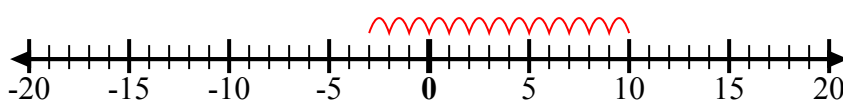
9) Bắt đầu từ -1
và thêm 11



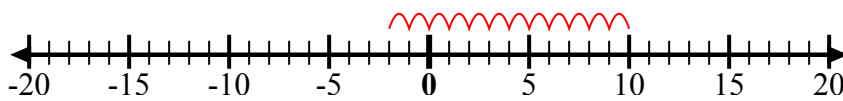
10) Bắt đầu từ 2
và thêm -9



11) Bắt đầu từ -3
và thêm 13



12) Bắt đầu từ 10
và thêm -12



Câu trả lời

Vd. $-2 + -8 = -10$

1. $8 + -18 = -10$

2. $4 + -11 = -7$

3. $-5 + -5 = -10$

4. $-8 + 5 = -3$

5. $-6 + 3 = -3$

6. $-1 + -7 = -8$

7. $-2 + -6 = -8$

8. $-3 + 12 = 9$

9. $-1 + 11 = 10$

10. $2 + -9 = -7$

11. $-3 + 13 = 10$

12. $10 + -12 = -2$