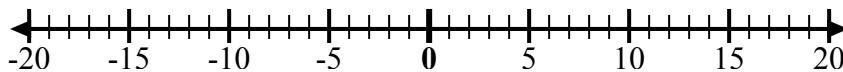




Sử dụng các dãy số để hiển thị từng biểu thức và giải.

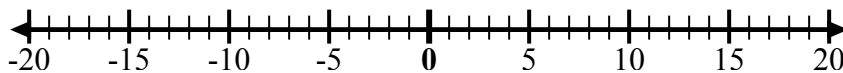
Câu trả lời

Vd) Bắt đầu từ -4
và thêm 8



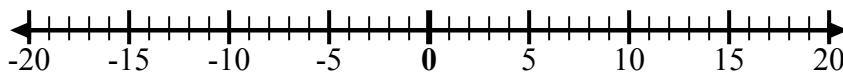
Vd. $-4 + 8 = 4$

1) Bắt đầu từ -3
và thêm 10



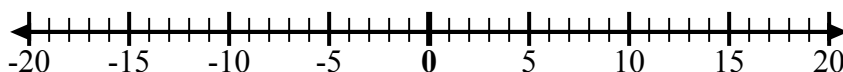
1. _____

2) Bắt đầu từ 2
và thêm -12



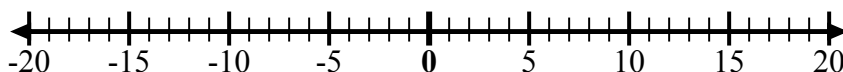
2. _____

3) Bắt đầu từ -5
và thêm 3



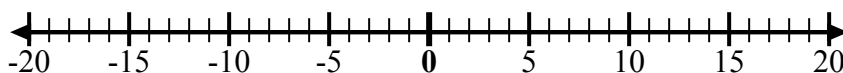
3. _____

4) Bắt đầu từ -7
và thêm 5



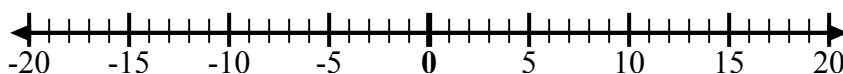
4. _____

5) Bắt đầu từ -3
và thêm -3



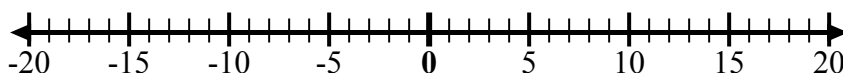
5. _____

6) Bắt đầu từ -1
và thêm -9



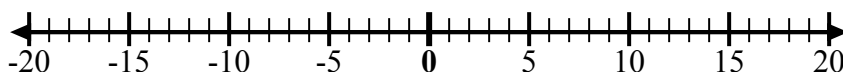
6. _____

7) Bắt đầu từ 1
và thêm -10



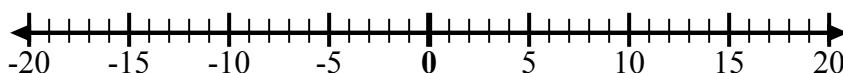
7. _____

8) Bắt đầu từ -6
và thêm -2



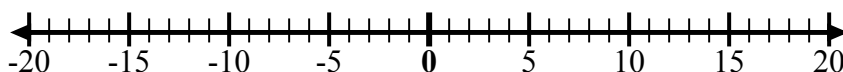
8. _____

9) Bắt đầu từ -8
và thêm 10



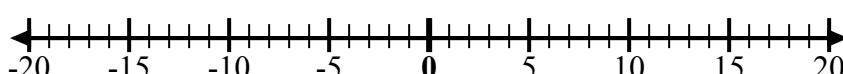
9. _____

10) Bắt đầu từ 0
và thêm -10



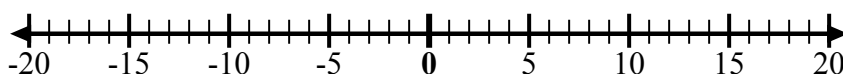
10. _____

11) Bắt đầu từ -8
và thêm -2



11. _____

12) Bắt đầu từ 5
và thêm -13

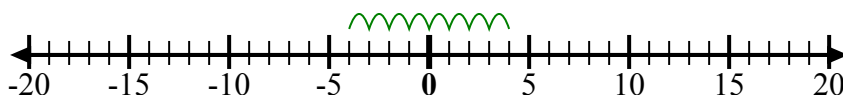


12. _____

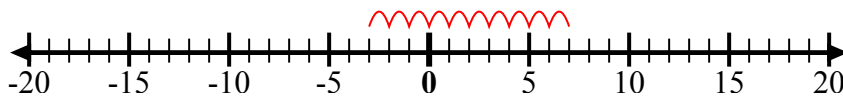


Sử dụng các dây số để hiển thị từng biểu thức và giải.

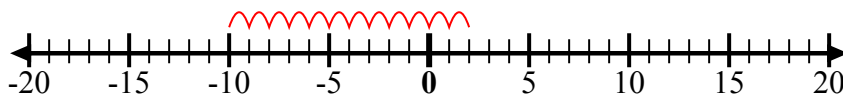
Vd) Bắt đầu từ -4
và thêm 8



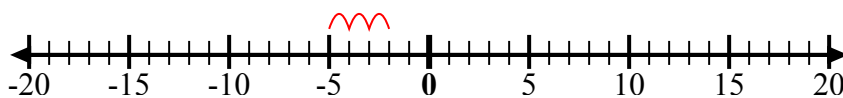
1) Bắt đầu từ -3
và thêm 10



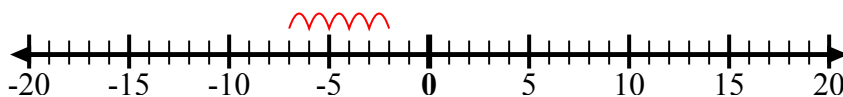
2) Bắt đầu từ 2
và thêm -12



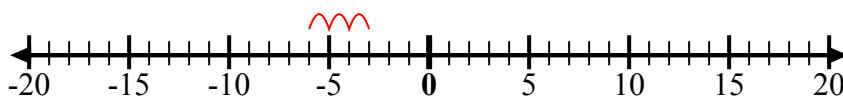
3) Bắt đầu từ -5
và thêm 3



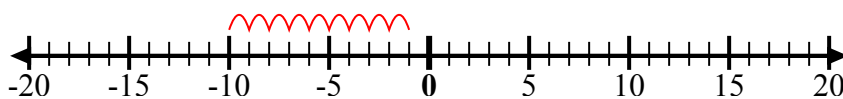
4) Bắt đầu từ -7
và thêm 5



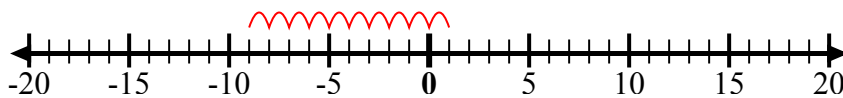
5) Bắt đầu từ -3
và thêm -3



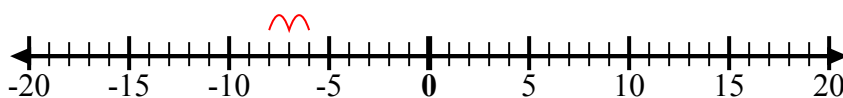
6) Bắt đầu từ -1
và thêm -9



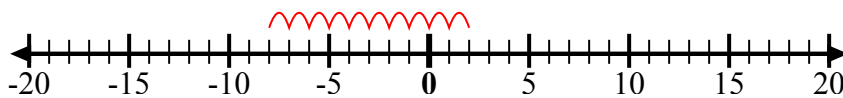
7) Bắt đầu từ 1
và thêm -10



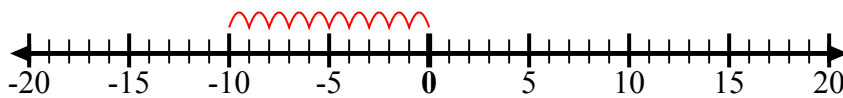
8) Bắt đầu từ -6
và thêm -2



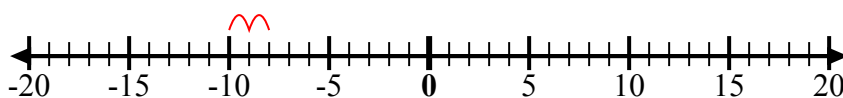
9) Bắt đầu từ -8
và thêm 10



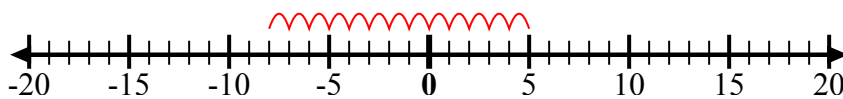
10) Bắt đầu từ 0
và thêm -10



11) Bắt đầu từ -8
và thêm -2



12) Bắt đầu từ 5
và thêm -13



Câu trả lời

Vd. $-4 + 8 = 4$

1. $-3 + 10 = 7$

2. $2 + -12 = -10$

3. $-5 + 3 = -2$

4. $-7 + 5 = -2$

5. $-3 + -3 = -6$

6. $-1 + -9 = -10$

7. $1 + -10 = -9$

8. $-6 + -2 = -8$

9. $-8 + 10 = 2$

10. $0 + -10 = -10$

11. $-8 + -2 = -10$

12. $5 + -13 = -8$