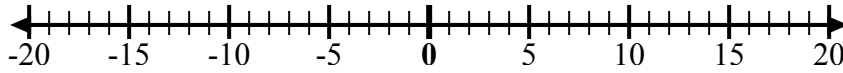




Sử dụng các dãy số để hiển thị từng biểu thức và giải.

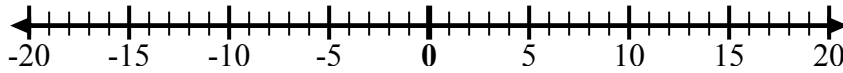
Câu trả lời

Vd) Bắt đầu từ -4
và thêm -6



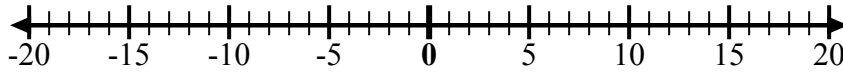
Vd. $-4 + -6 = -10$

1) Bắt đầu từ 7
và thêm -7



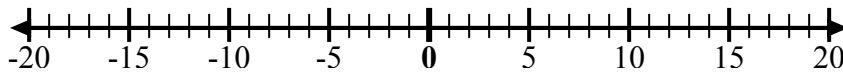
1. _____

2) Bắt đầu từ -4
và thêm 9



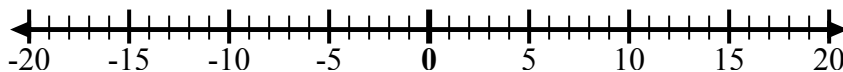
2. _____

3) Bắt đầu từ 4
và thêm -14



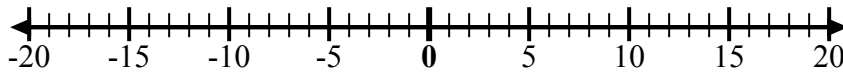
3. _____

4) Bắt đầu từ -2
và thêm -7



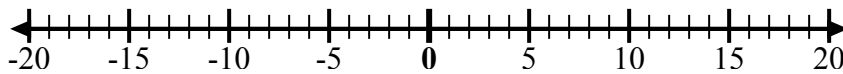
4. _____

5) Bắt đầu từ -3
và thêm 7



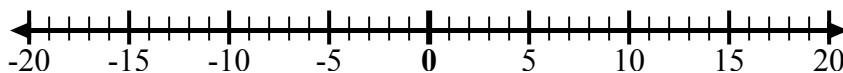
5. _____

6) Bắt đầu từ 1
và thêm -11



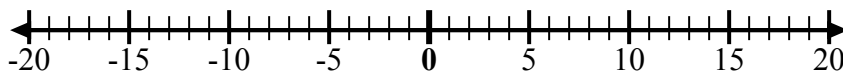
6. _____

7) Bắt đầu từ -6
và thêm -3



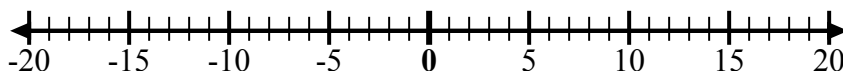
7. _____

8) Bắt đầu từ 10
và thêm -1



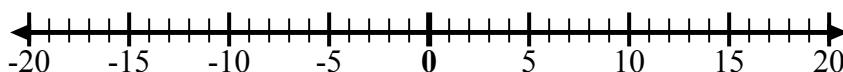
8. _____

9) Bắt đầu từ 0
và thêm -5



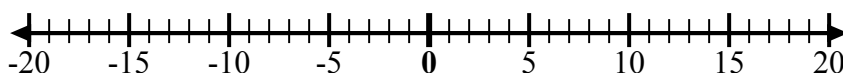
9. _____

10) Bắt đầu từ 0
và thêm -10



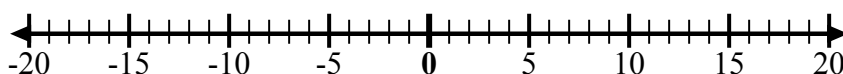
10. _____

11) Bắt đầu từ 6
và thêm -11



11. _____

12) Bắt đầu từ -5
và thêm 10

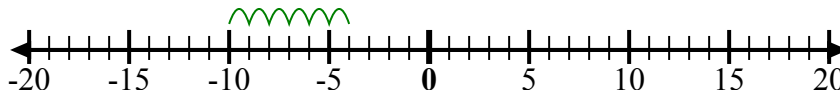


12. _____

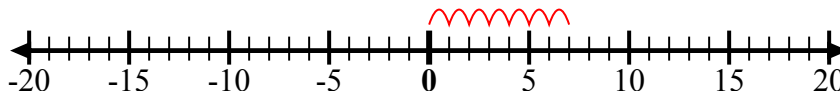


Sử dụng các dây số để hiển thị từng biểu thức và giải.

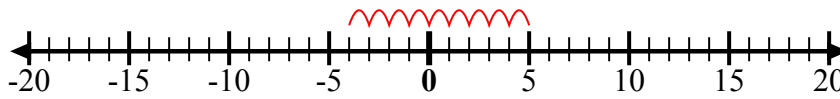
Vd) Bắt đầu từ -4
và thêm -6



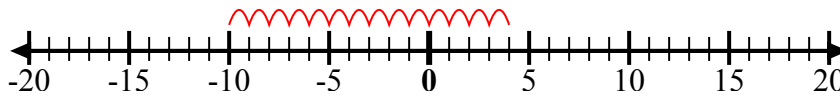
1) Bắt đầu từ 7
và thêm -7



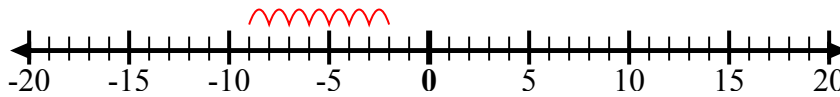
2) Bắt đầu từ -4
và thêm 9



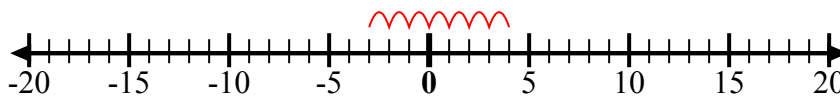
3) Bắt đầu từ 4
và thêm -14



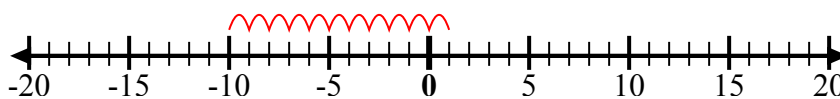
4) Bắt đầu từ -2
và thêm -7



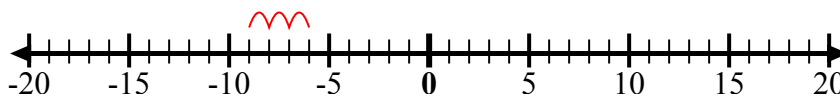
5) Bắt đầu từ -3
và thêm 7



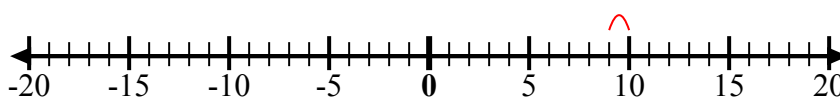
6) Bắt đầu từ 1
và thêm -11



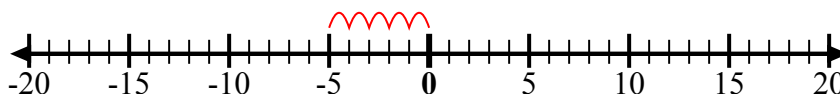
7) Bắt đầu từ -6
và thêm -3



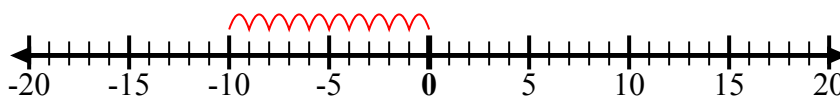
8) Bắt đầu từ 10
và thêm -1



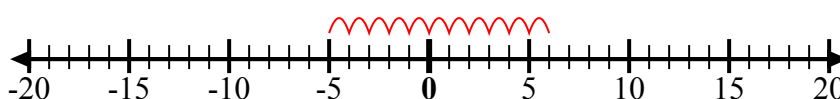
9) Bắt đầu từ 0
và thêm -5



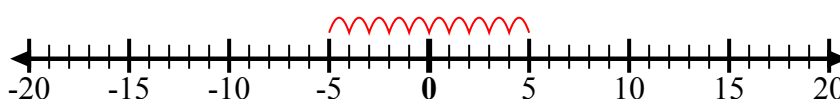
10) Bắt đầu từ 0
và thêm -10



11) Bắt đầu từ 6
và thêm -11



12) Bắt đầu từ -5
và thêm 10



Câu trả lời

Vd. $-4 + -6 = -10$

1. $7 + -7 = 0$

2. $-4 + 9 = 5$

3. $4 + -14 = -10$

4. $-2 + -7 = -9$

5. $-3 + 7 = 4$

6. $1 + -11 = -10$

7. $-6 + -3 = -9$

8. $10 + -1 = 9$

9. $0 + -5 = -5$

10. $0 + -10 = -10$

11. $6 + -11 = -5$

12. $-5 + 10 = 5$