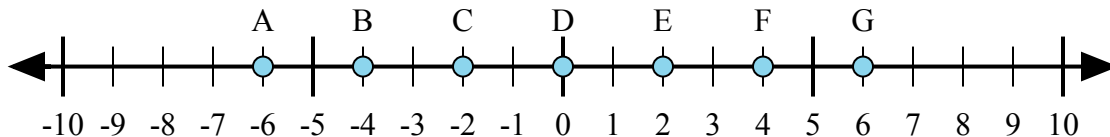




Xác định chữ cái nào trong dãy số thể hiện tốt nhất câu trả lời cho mỗi vấn đề.

**Câu trả lời**



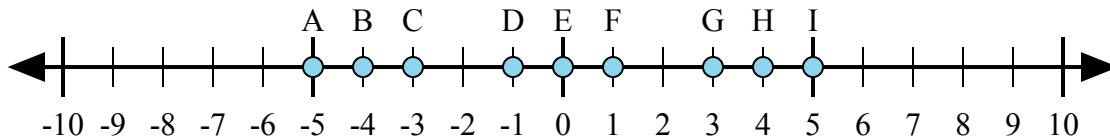
1)  $(-2) + 4 =$

2)  $4 + (-2) =$

3)  $(-2) + (-4) =$

4)  $(-4) + 2 =$

5)  $2 + (-4) =$



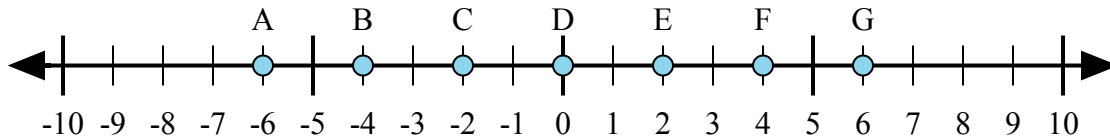
6)  $(-4) + 1 =$

7)  $(-1) + (-4) =$

8)  $4 + (-1) =$

9)  $1 + (-4) =$

10)  $(-1) + 4 =$



11)  $(-4) + (-2) =$

12)  $4 + (-2) =$

13)  $4 + 2 =$

14)  $2 + (-4) =$

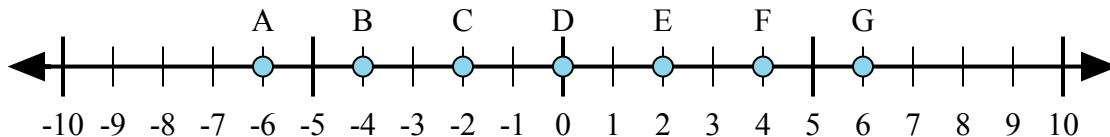
15)  $(-2) + 4 =$

1. \_\_\_\_\_
2. \_\_\_\_\_
3. \_\_\_\_\_
4. \_\_\_\_\_
5. \_\_\_\_\_
6. \_\_\_\_\_
7. \_\_\_\_\_
8. \_\_\_\_\_
9. \_\_\_\_\_
10. \_\_\_\_\_
11. \_\_\_\_\_
12. \_\_\_\_\_
13. \_\_\_\_\_
14. \_\_\_\_\_
15. \_\_\_\_\_



Xác định chữ cái nào trong dãy số thể hiện tốt nhất câu trả lời cho mỗi vấn đề.

**Câu trả lời**



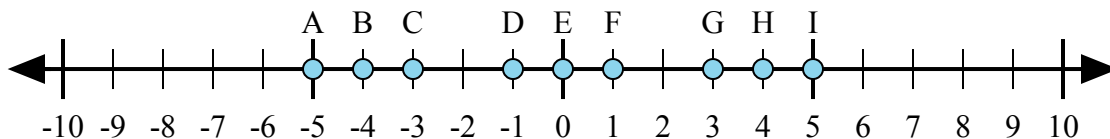
1)  $(-2) + 4 =$

2)  $4 + (-2) =$

3)  $(-2) + (-4) =$

4)  $(-4) + 2 =$

5)  $2 + (-4) =$



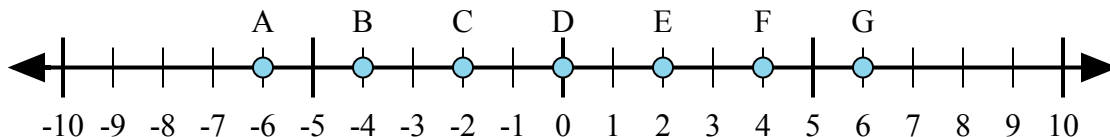
6)  $(-4) + 1 =$

7)  $(-1) + (-4) =$

8)  $4 + (-1) =$

9)  $1 + (-4) =$

10)  $(-1) + 4 =$



11)  $(-4) + (-2) =$

12)  $4 + (-2) =$

13)  $4 + 2 =$

14)  $2 + (-4) =$

15)  $(-2) + 4 =$

1. **E**

2. **E**

3. **A**

4. **C**

5. **C**

6. **C**

7. **A**

8. **G**

9. **C**

10. **G**

11. **A**

12. **E**

13. **G**

14. **C**

15. **E**