


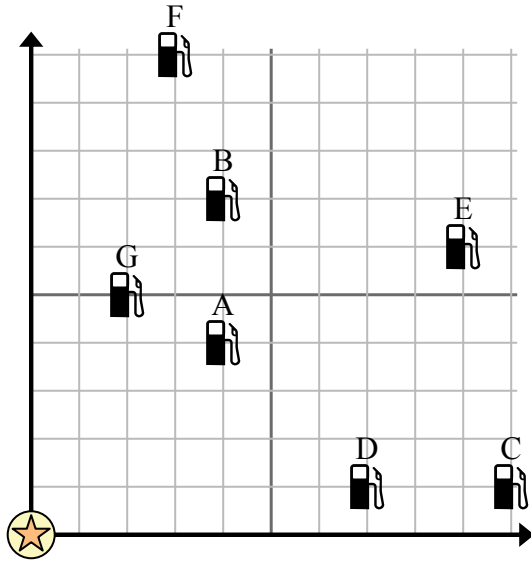


**Sử dụng lưới để giải quyết tình huống.**

 = Trạm xăng

 = Trung tâm mua sắm

 = 1 Square Dặm




- 1) Các nhà đầu tư muốn xây một trạm xăng mới nhưng muốn đảm bảo rằng nó cách một trạm đã có trước đó ít nhất 2 dặm. Họ có nên xây một trạm xăng 8 dặm về phía đông và 6 dặm về phía bắc của trung tâm mua sắm không?
- 2) Trạm xăng nào gần trung tâm mua sắm nhất?
- 3) Trạm xăng nào xa trung tâm mua sắm nhất?
- 4) Trạm xăng nào xa hơn west? Trạm G hay Trạm F?
- 5) Nếu bạn phải đi 4 dặm về phía đông và 7 dặm về phía bắc từ trung tâm mua sắm, bạn sẽ đến trạm xăng nào?

**Câu trả lời**

1. \_\_\_\_\_
2. \_\_\_\_\_
3. \_\_\_\_\_
4. \_\_\_\_\_
5. \_\_\_\_\_
6. \_\_\_\_\_
7. \_\_\_\_\_
8. \_\_\_\_\_
9. \_\_\_\_\_
10. \_\_\_\_\_

- 6) Một con tàu mới muốn đánh cá, nhưng thuyền trưởng muốn đảm bảo rằng họ cách một con tàu khác ít nhất 2 dặm. Nếu anh ấy đi thuyền 8 dặm về phía đông và 10 dặm về phía bắc thì vị trí đó có phù hợp với anh ấy không?

 = Giao hàng

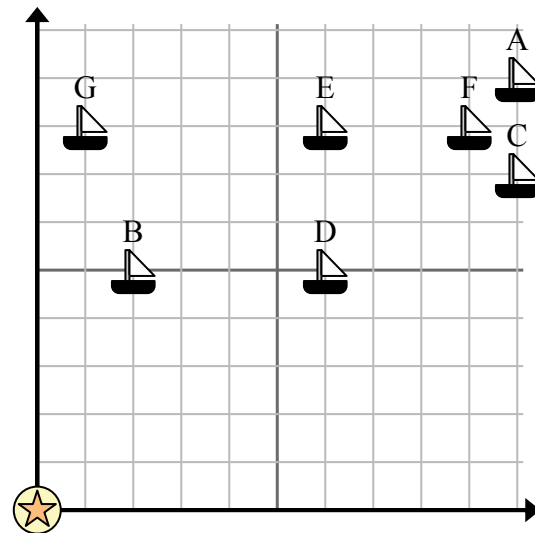
 = Phao

 = 1 Square Dặm

- 7) Con tàu nào gần phao nhất?

- 8) Tàu nào xa phao nhất?

- 9) Con tàu nào xa hơn east? Giao hàng G hay giao hàng C?



- 10) Con tàu nào cách phao 10 dặm về phía đông và 7 dặm về phía bắc?

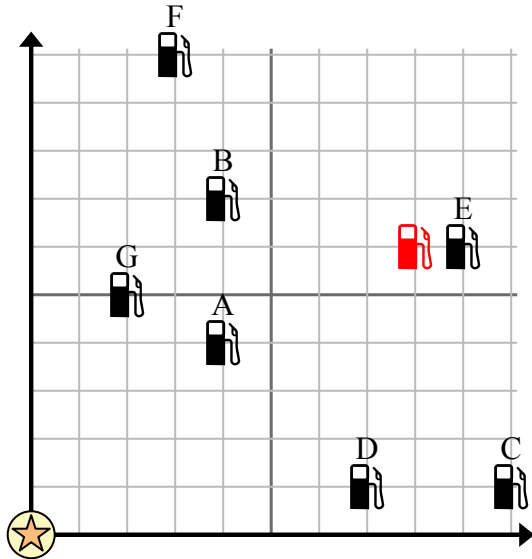


**Sử dụng lưới để giải quyết tình huống.**

= Trạm xăng

= Trung tâm mua sắm

= 1 Square Dặm



- 1) Các nhà đầu tư muốn xây một trạm xăng mới nhưng muốn đảm bảo rằng nó cách một trạm đã có trước đó ít nhất 2 dặm. Họ có nên xây một trạm xăng 8 dặm về phía đông và 6 dặm về phía bắc của trung tâm mua sắm không?
- 2) Trạm xăng nào gần trung tâm mua sắm nhất?
- 3) Trạm xăng nào xa trung tâm mua sắm nhất?
- 4) Trạm xăng nào xa hơn west? Trạm G hay Trạm F?
- 5) Nếu bạn phải đi 4 dặm về phía đông và 7 dặm về phía bắc từ trung tâm mua sắm, bạn sẽ đến trạm xăng nào?

**Câu trả lời**

1. **Không**
2. **G**
3. **E**
4. **G**
5. **B**
6. **Có**
7. **B**
8. **A**
9. **C**
10. **C**

- 6) Một con tàu mới muốn đánh cá, nhưng thuyền trưởng muốn đảm bảo rằng họ cách một con tàu khác ít nhất 2 dặm. Nếu anh ấy đi thuyền 8 dặm về phía đông và 10 dặm về phía bắc thì vị trí đó có phù hợp với anh ấy không?

= Giao hàng

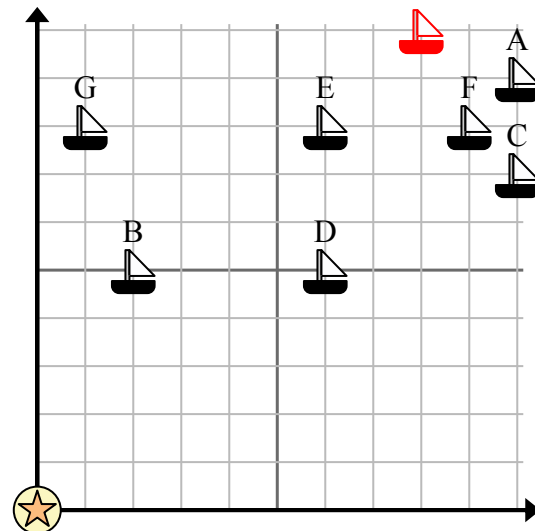
= Phao

= 1 Square Dặm

- 7) Con tàu nào gần phao nhất?

- 8) Tàu nào xa phao nhất?

- 9) Con tàu nào xa hơn east? Giao hàng G hay giao hàng C?



- 10) Con tàu nào cách phao 10 dặm về phía đông và 7 dặm về phía bắc?