

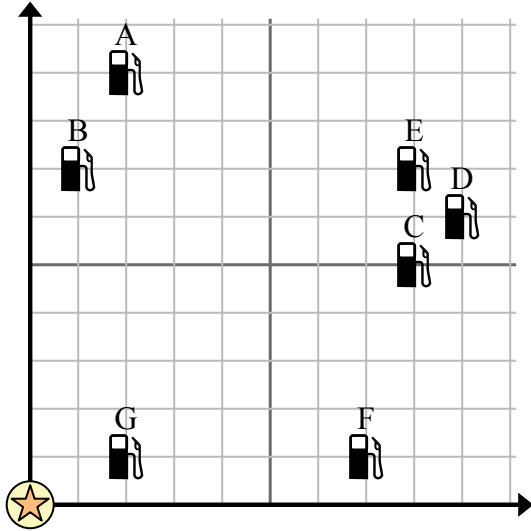


Sử dụng lưới để giải quyết tình huống.

= Trạm xăng

= Trung tâm mua sắm

= 1 Square Dặm



- 1) Các nhà đầu tư muốn xây một trạm xăng mới nhưng muốn đảm bảo rằng nó cách một trạm đã có trước đó ít nhất 2 dặm. Họ có nên xây một trạm xăng 8 dặm về phía đông và 4 dặm về phía bắc của trung tâm mua sắm không?
- 2) Trạm xăng nào gần trung tâm mua sắm nhất?
- 3) Trạm xăng nào xa trung tâm mua sắm nhất?
- 4) Trạm xăng nào xa hơn east? Trạm C hay Trạm B?
- 5) Nếu bạn phải đi 8 dặm về phía đông và 5 dặm về phía bắc từ trung tâm mua sắm, bạn sẽ đến trạm xăng nào?

Câu trả lời

1. _____
2. _____
3. _____
4. _____
5. _____
6. _____
7. _____
8. _____
9. _____
10. _____

- 6) Một con tàu mới muốn đánh cá, nhưng thuyền trưởng muốn đảm bảo rằng họ cách một con tàu khác ít nhất 2 dặm. Nếu anh ấy đi thuyền 5 dặm về phía đông và 8 dặm về phía bắc thì vị trí đó có phù hợp với anh ấy không?

= Giao hàng

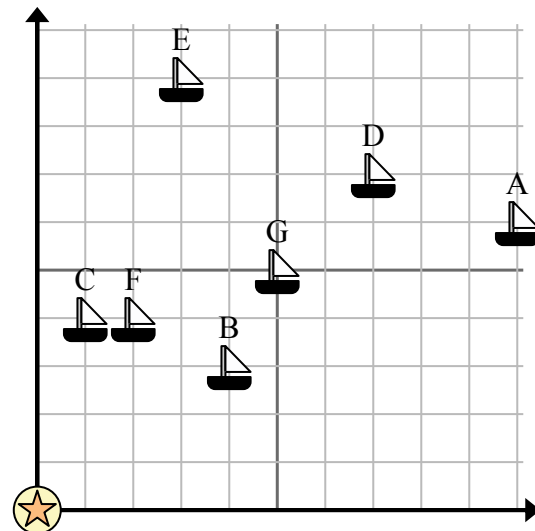
= Phao

= 1 Square Dặm

- 7) Con tàu nào gần phao nhất?

- 8) Tàu nào xa phao nhất?

- 9) Con tàu nào xa hơn south? Giao hàng G hay giao hàng F?



- 10) Con tàu nào cách phao 2 dặm về phía đông và 4 dặm về phía bắc?

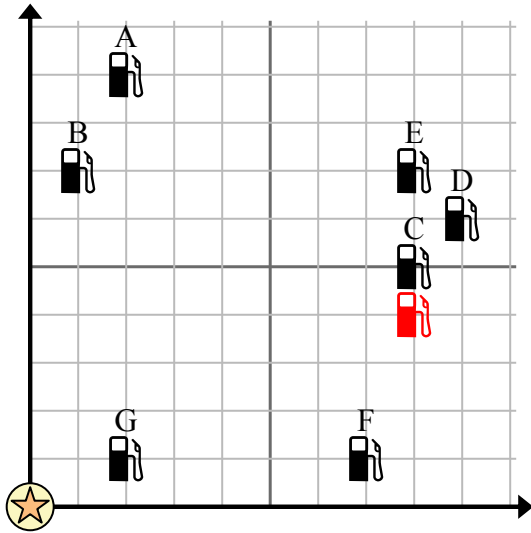


Sử dụng lưới để giải quyết tình huống.

= Trạm xăng

= Trung tâm mua sắm

= 1 Square Dặm



1) Các nhà đầu tư muốn xây một trạm xăng mới nhưng muốn đảm bảo rằng nó cách một trạm đã có trước đó ít nhất 2 dặm. Họ có nên xây một trạm xăng 8 dặm về phía đông và 4 dặm về phía bắc của trung tâm mua sắm không?

2) Trạm xăng nào gần trung tâm mua sắm nhất?

3) Trạm xăng nào xa trung tâm mua sắm nhất?

4) Trạm xăng nào xa hơn east? Trạm C hay Trạm B?

5) Nếu bạn phải đi 8 dặm về phía đông và 5 dặm về phía bắc từ trung tâm mua sắm, bạn sẽ đến trạm xăng nào?

Câu trả lời

1. **Không**

2. **G**

3. **D**

4. **C**

5. **C**

6. **Có**

7. **C**

8. **A**

9. **F**

10. **F**

6) Một con tàu mới muốn đánh cá, nhưng thuyền trưởng muốn đảm bảo rằng họ cách một con tàu khác ít nhất 2 dặm. Nếu anh ấy đi thuyền 5 dặm về phía đông và 8 dặm về phía bắc thì vị trí đó có phù hợp với anh ấy không?

= Giao hàng

= Phao

= 1 Square Dặm

7) Con tàu nào gần phao nhất?

8) Tàu nào xa phao nhất?

9) Con tàu nào xa hơn south? Giao hàng G hay giao hàng F?

10) Con tàu nào cách phao 2 dặm về phía đông và 4 dặm về phía bắc?

