

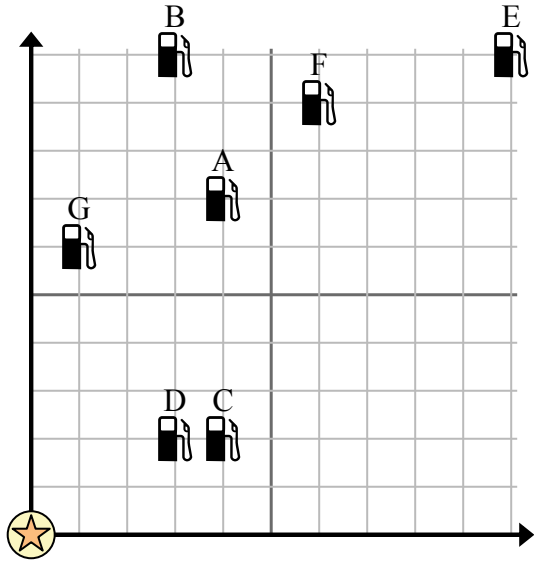


Sử dụng lưới để giải quyết từng vấn đề.

= Trạm xăng

= Trung tâm mua sắm

= 1 Square Dặm



- 1) Các nhà đầu tư muốn xây một trạm xăng mới nhưng muốn đảm bảo rằng nó cách một trạm đã có trước đó ít nhất 2 dặm. Họ có nên xây một trạm xăng 9 dặm về phía đông và 5 dặm về phía bắc của trung tâm mua sắm không?
- 2) Trạm xăng nào gần trung tâm mua sắm nhất?
- 3) Trạm xăng nào xa trung tâm mua sắm nhất?
- 4) Trạm xăng nào xa hơn south? Trạm G hay Trạm C?
- 5) Nếu bạn phải đi 6 dặm về phía đông và 9 dặm về phía bắc từ trung tâm mua sắm, bạn sẽ đến trạm xăng nào?

Câu trả lời

1. _____
2. _____
3. _____
4. _____
5. _____
6. _____
7. _____
8. _____
9. _____
10. _____

6) Một con tàu mới muốn đánh cá, nhưng thuyền trưởng muốn đảm bảo rằng họ cách một con tàu khác ít nhất 2 dặm. Nếu anh ấy đi thuyền 6 dặm về phía đông và 7 dặm về phía bắc thì vị trí đó có phù hợp với anh ấy không?

= Giao hàng

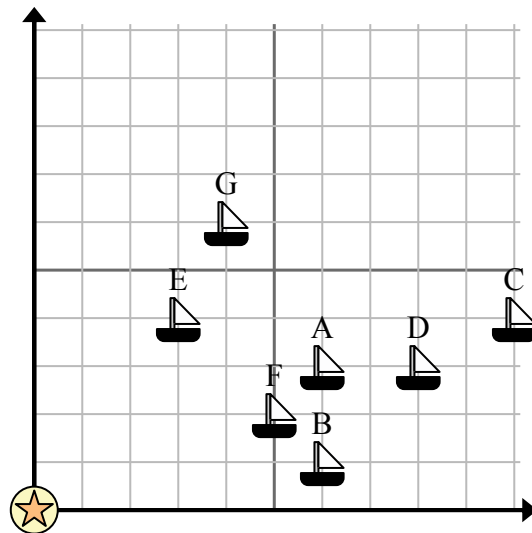
= Phao

= 1 Square Dặm

7) Con tàu nào gần phao nhất?

8) Tàu nào xa phao nhất?

9) Con tàu nào xa hơn south? Giao hàng G hay giao hàng C?



10) Con tàu nào cách phao 5 dặm về phía đông và 2 dặm về phía bắc?

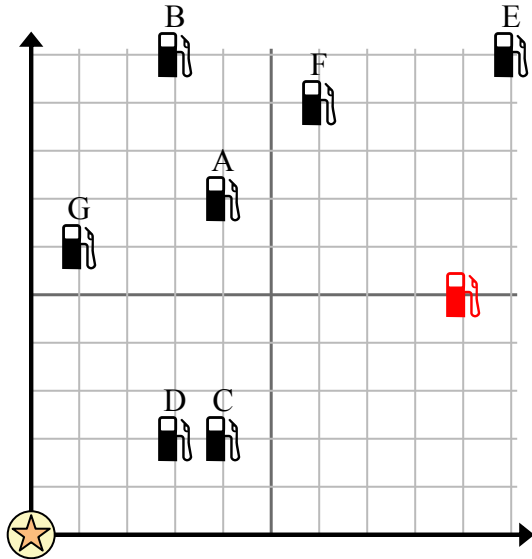


Sử dụng lưới để giải quyết tình huống.

= Trạm xăng

= Trung tâm mua sắm

= 1 Square Dặm



- 1) Các nhà đầu tư muốn xây một trạm xăng mới nhưng muốn đảm bảo rằng nó cách một trạm đã có trước đó ít nhất 2 dặm. Họ có nên xây một trạm xăng 9 dặm về phía đông và 5 dặm về phía bắc của trung tâm mua sắm không?
- 2) Trạm xăng nào gần trung tâm mua sắm nhất?
- 3) Trạm xăng nào xa trung tâm mua sắm nhất?
- 4) Trạm xăng nào xa hơn south? Trạm G hay Trạm C?
- 5) Nếu bạn phải đi 6 dặm về phía đông và 9 dặm về phía bắc từ trung tâm mua sắm, bạn sẽ đến trạm xăng nào?

Câu trả lời

1. **Có**
2. **D**
3. **E**
4. **C**
5. **F**
6. **Có**
7. **E**
8. **C**
9. **C**
10. **F**

- 6) Một con tàu mới muốn đánh cá, nhưng thuyền trưởng muốn đảm bảo rằng họ cách một con tàu khác ít nhất 2 dặm. Nếu anh ấy đi thuyền 6 dặm về phía đông và 7 dặm về phía bắc thì vị trí đó có phù hợp với anh ấy không?

= Giao hàng

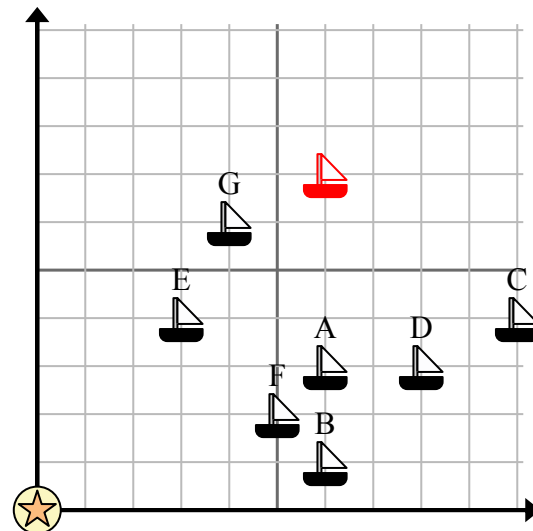
= Phao

= 1 Square Dặm

- 7) Con tàu nào gần phao nhất?

- 8) Tàu nào xa phao nhất?

- 9) Con tàu nào xa hơn south? Giao hàng G hay giao hàng C?



- 10) Con tàu nào cách phao 5 dặm về phía đông và 2 dặm về phía bắc?