

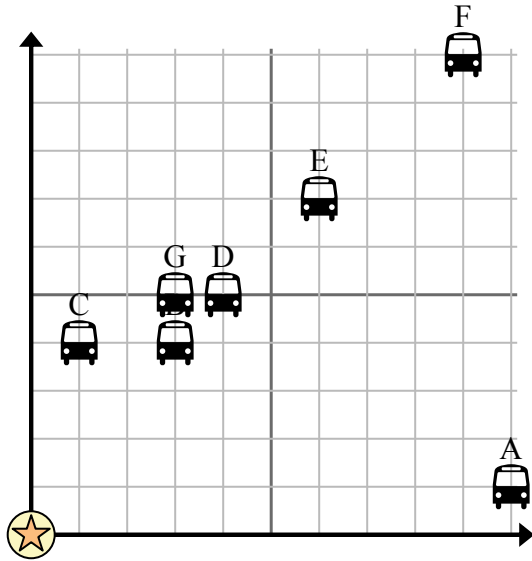


Sử dụng lưới để giải quyết từng vấn đề.

= Điểm dừng xe buýt

= Trường học

= 1 Square Khối



- 1) Trường muốn thêm một trạm xe buýt mới, nhưng muốn đảm bảo rằng nó cách một trạm dừng khác ít nhất 2 dãy nhà. Nếu họ thêm một 4 khối phía đông và 9 khối phía bắc thì vị trí đó có phù hợp với yêu cầu của họ không?
- 2) Bến xe buýt nào gần trường nhất?
- 3) Bến xe buýt nào xa trường học nhất?
- 4) Bến xe buýt nào xa hơn north? Dừng B hay dừng F?
- 5) Trạm dừng xe buýt nào cách trường học 9 khối phía đông và 10 khối phía bắc?

Câu trả lời

1. _____
2. _____
3. _____
4. _____
5. _____
6. _____
7. _____
8. _____
9. _____
10. _____

- 6) An muốn trồng một cái cây mới nhưng muốn đảm bảo rằng nó cách cây đã có trước ít nhất 2 thước Anh. Anh ấy có nên trồng một cái cây cách nhà anh ấy 4 thước về phía đông và 2 thước về phía bắc không?

= Cây

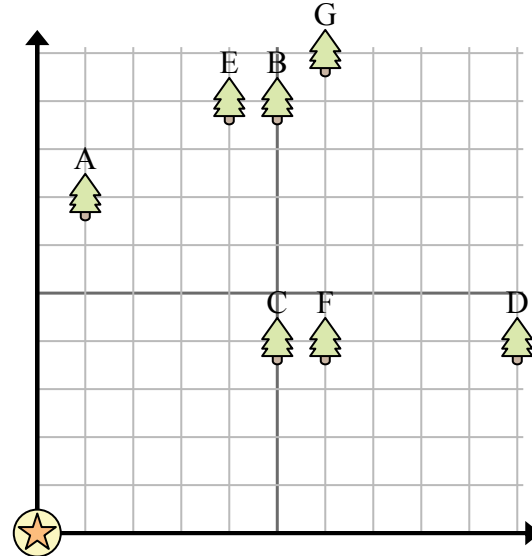
= nhà ở

= 1 Square Sân

- 7) Cây nào gần nhà nhất?

- 8) Cây nào xa nhà nhất?

- 9) Cây nào xa hơn west? Cây B hay cây G?



- 10) Nếu bạn phải đi 6 thước về phía đông và 10 thước về phía bắc từ ngôi nhà, bạn sẽ đến cây nào?

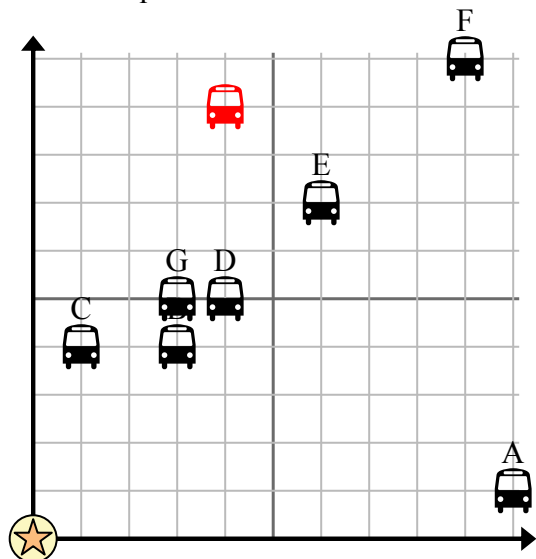


Sử dụng lưới để giải quyết từng vấn đề.

= Điểm dừng xe buýt

= Trường học

= 1 Square Khối



- 1) Trường muốn thêm một trạm xe buýt mới, nhưng muốn đảm bảo rằng nó cách một trạm dừng khác ít nhất 2 dãy nhà. Nếu họ thêm một 4 khối phía đông và 9 khối phía bắc thì vị trí đó có phù hợp với yêu cầu của họ không?
- 2) Bến xe buýt nào gần trường nhất?
- 3) Bến xe buýt nào xa trường học nhất?
- 4) Bến xe buýt nào xa hơn north? Dừng B hay dừng F?
- 5) Trạm dừng xe buýt nào cách trường học 9 khối phía đông và 10 khối phía bắc?

Câu trả lời

1. **Có**
2. **C**
3. **F**
4. **F**
5. **F**
6. **Có**
7. **C**
8. **G**
9. **B**
10. **G**

- 6) An muốn trồng một cái cây mới nhưng muốn đảm bảo rằng nó cách cây đã có trước ít nhất 2 thước Anh. Anh ấy có nên trồng một cái cây cách nhà anh ấy 4 thước về phía đông và 2 thước về phía bắc không?

= Cây

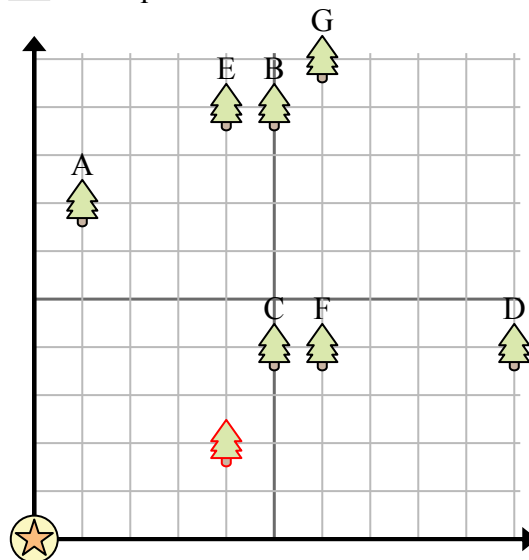
= nhà ở

= 1 Square Sân

- 7) Cây nào gần nhà nhất?

- 8) Cây nào xa nhà nhất?

- 9) Cây nào xa hơn west? Cây B hay cây G?



- 10) Nếu bạn phải đi 6 thước về phía đông và 10 thước về phía bắc từ ngôi nhà, bạn sẽ đến cây nào?