

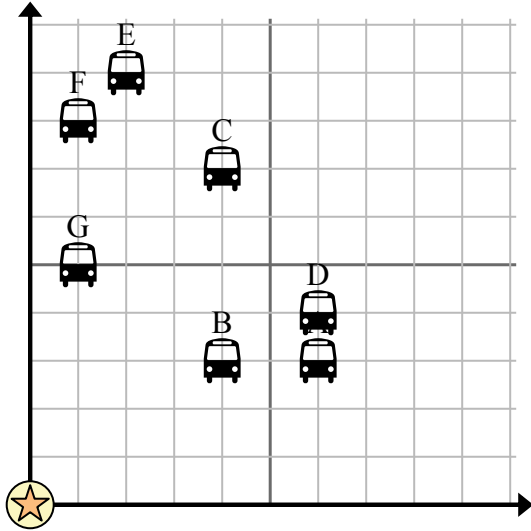


Sử dụng lưới để giải quyết tình huống.

= Điểm dừng xe buýt

= Trường học

= 1 Square Khối



- 1) Trường muốn thêm một trạm xe buýt mới, nhưng muốn đảm bảo rằng nó cách một trạm dừng khác ít nhất 2 dãy nhà. Nếu họ thêm một 7 khối phía đông và 10 khối phía bắc thì vị trí đó có phù hợp với yêu cầu của họ không?
- 2) Bến xe buýt nào gần trường nhất?
- 3) Bến xe buýt nào xa trường học nhất?
- 4) Bến xe buýt nào xa hơn east? Dừng C hay dừng F?
- 5) Trạm dừng xe buýt nào cách trường học 1 khối phía đông và 5 khối phía bắc?

Câu trả lời

1. _____
2. _____
3. _____
4. _____
5. _____
6. _____
7. _____
8. _____
9. _____
10. _____

6) Khánh muốn trồng một cái cây mới nhưng muốn đảm bảo rằng nó cách cây đã có trước ít nhất 2 thước Anh. Anh ấy có nên trồng một cái cây cách nhà anh ấy 2 thước về phía đông và 8 thước về phía bắc không?

= Cây

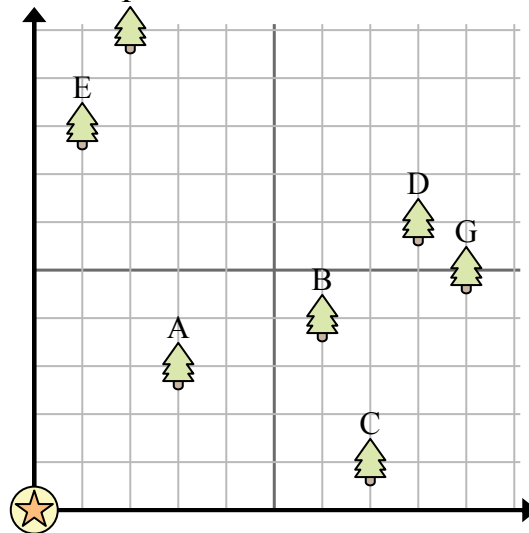
= nhà ở

= 1 Square Sân

7) Cây nào gần nhà nhất?

8) Cây nào xa nhà nhất?

9) Cây nào xa hơn east? Cây D hay cây A?



10) Nếu bạn phải đi 2 thước về phía đông và 10 thước về phía bắc từ ngôi nhà, bạn sẽ đến cây nào?

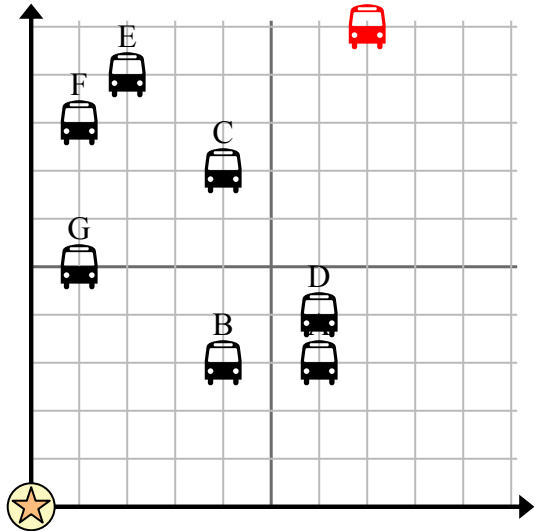


Sử dụng lưới để giải quyết tình huống.

= Điểm dừng xe buýt

= Trường học

= 1 Square Khối



- 1) Trường muốn thêm một trạm xe buýt mới, nhưng muốn đảm bảo rằng nó cách một trạm dừng khác ít nhất 2 dãy nhà. Nếu họ thêm một 7 khối phía đông và 10 khối phía bắc thì vị trí đó có phù hợp với yêu cầu của họ không?
- 2) Bến xe buýt nào gần trường nhất?
- 3) Bến xe buýt nào xa trường học nhất?
- 4) Bến xe buýt nào xa hơn east? Dừng C hay dừng F?
- 5) Trạm dừng xe buýt nào cách trường học 1 khối phía đông và 5 khối phía bắc?

Câu trả lời

1. **Có**
2. **B**
3. **E**
4. **C**
5. **G**
6. **Không**
7. **A**
8. **G**
9. **D**
10. **F**

- 6) Khánh muốn trồng một cái cây mới nhưng muốn đảm bảo rằng nó cách cây đã có trước ít nhất 2 thước Anh. Anh ấy có nên trồng một cái cây cách nhà anh ấy 2 thước về phía đông và 8 thước về phía bắc không?

= Cây

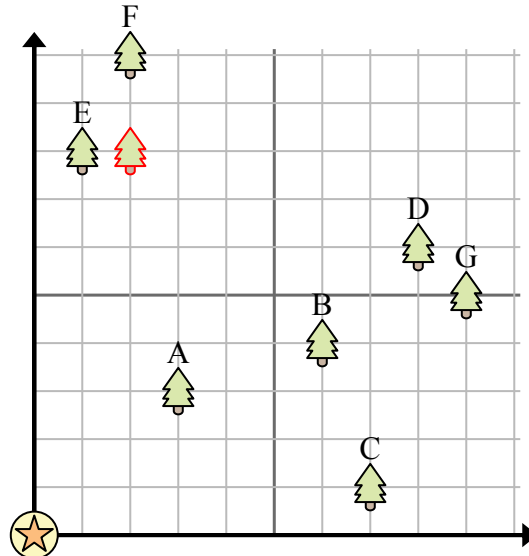
= nhà ở

= 1 Square Sân

- 7) Cây nào gần nhà nhất?

- 8) Cây nào xa nhà nhất?

- 9) Cây nào xa hơn east? Cây D hay cây A?



- 10) Nếu bạn phải đi 2 thước về phía đông và 10 thước về phía bắc từ ngôi nhà, bạn sẽ đến cây nào?