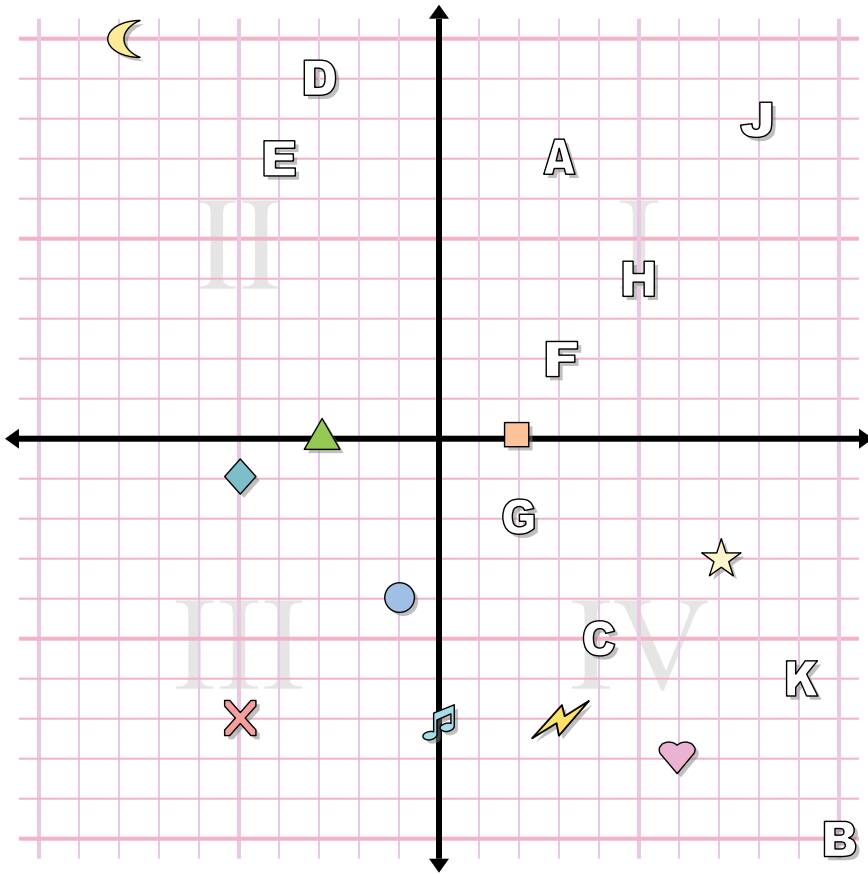




Câu trả lời



1. _____
2. _____
3. _____
4. _____
5. _____
6. _____
7. _____
8. _____
9. _____
10. _____
11. _____
12. _____
13. _____
14. _____
15. _____
16. _____
17. _____
18. _____
19. _____
20. _____

Xác định tọa độ của các hình.

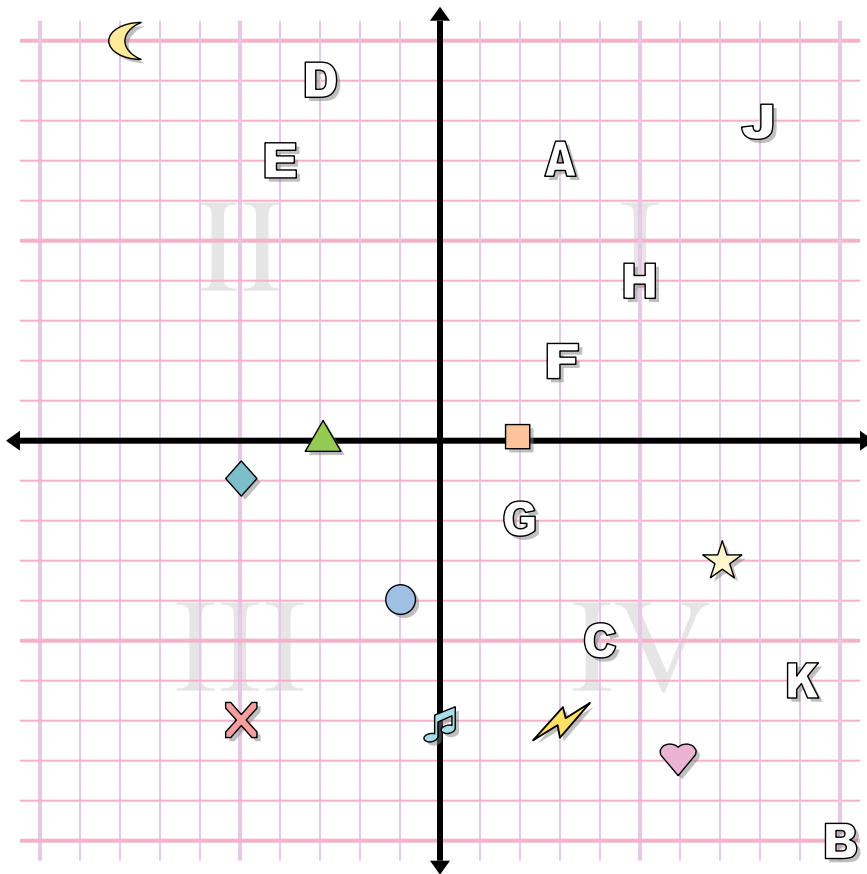
- | | |
|------------------|------------------|
| 1) nốt nhạc | 2) hình tròn |
| 3) tia chớp | 4) cắt ngang |
| 5) mặt trăng | 6) kim cương |
| 7) hình ngôi sao | 8) hình trái tim |
| 9) hình vuông | 10) triangle |

Xác định chữ cái nào ở tọa độ nào.

- | | |
|--------------|----------------|
| 11) (-4 . 7) | 12) (2 . -2) |
| 13) (-3 . 9) | 14) (5 . 4) |
| 15) (8 . 8) | 16) (3 . 7) |
| 17) (4 . -5) | 18) (10 . -10) |
| 19) (9 . -6) | 20) (3 . 2) |



Câu trả lời



Xác định tọa độ của các hình.

- | | |
|------------------|------------------|
| 1) nốt nhạc | 2) hình tròn |
| 3) tia chớp | 4) cắt ngang |
| 5) mặt trăng | 6) kim cương |
| 7) hình ngôi sao | 8) hình trái tim |
| 9) hình vuông | 10) triangle |

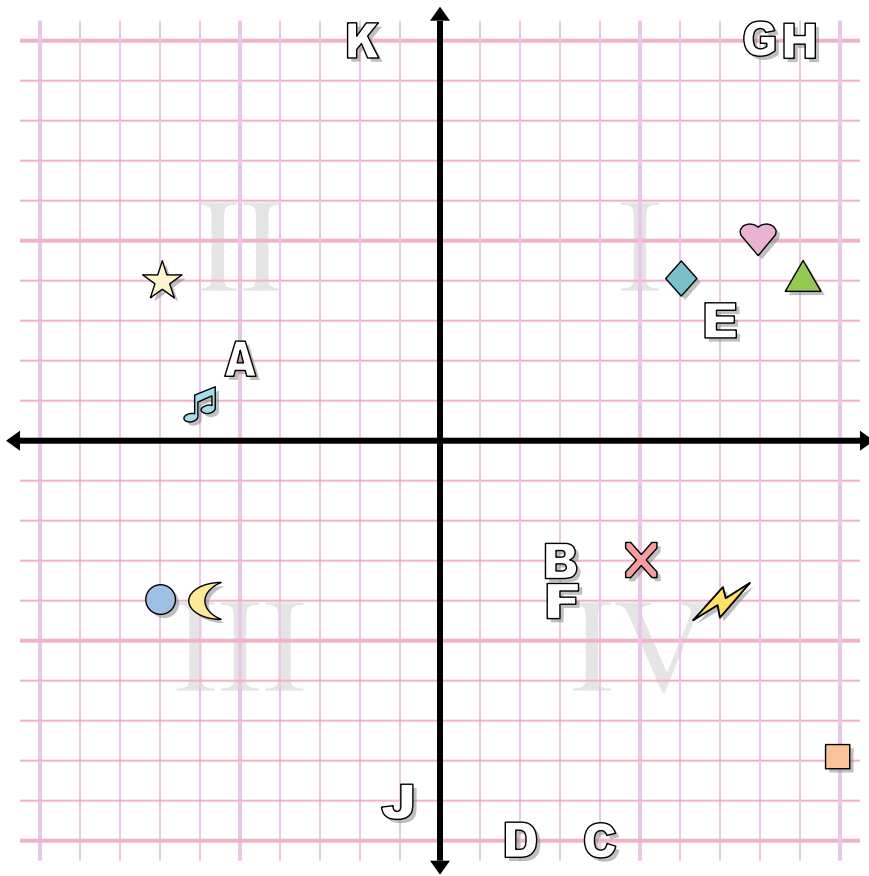
Xác định chữ cái nào ở tọa độ nào.

- | | |
|--------------|----------------|
| 11) (-4 . 7) | 12) (2 . -2) |
| 13) (-3 . 9) | 14) (5 . 4) |
| 15) (8 . 8) | 16) (3 . 7) |
| 17) (4 . -5) | 18) (10 . -10) |
| 19) (9 . -6) | 20) (3 . 2) |

1. **(0 . -7)**
2. **(-1 . -4)**
3. **(3 . -7)**
4. **(-5 . -7)**
5. **(-8 . 10)**
6. **(-5 . -1)**
7. **(7 . -3)**
8. **(6 . -8)**
9. **(2 . 0)**
10. **(-3 . 0)**
11. **E**
12. **G**
13. **D**
14. **H**
15. **J**
16. **A**
17. **C**
18. **B**
19. **K**
20. **F**



Câu trả lời



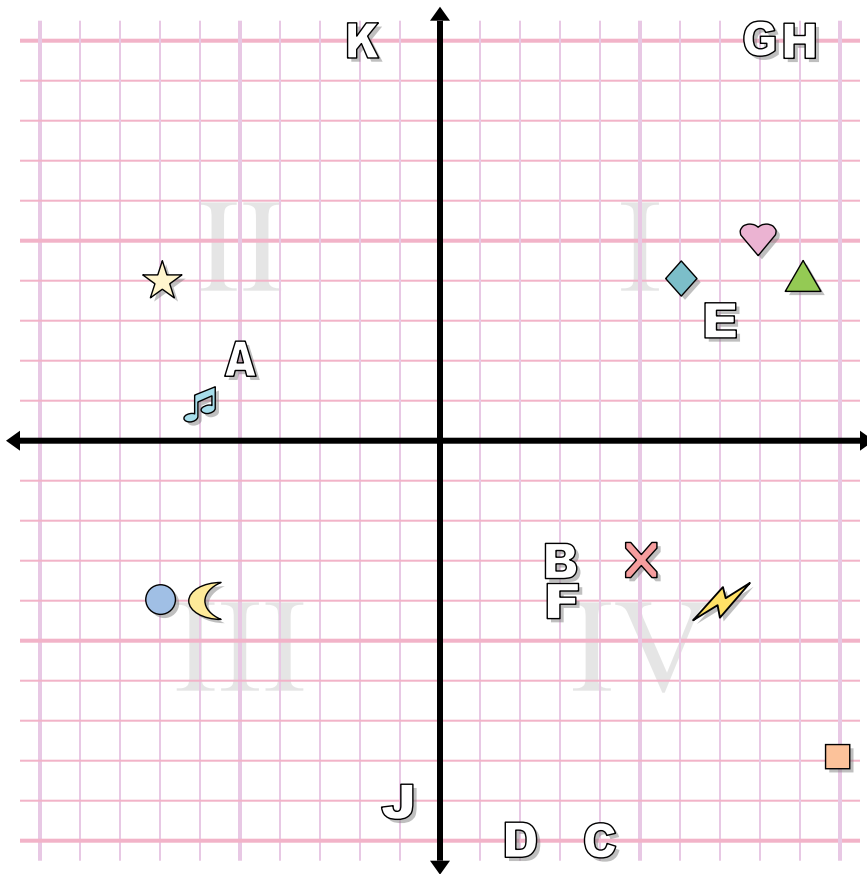
1. _____
2. _____
3. _____
4. _____
5. _____
6. _____
7. _____
8. _____
9. _____
10. _____
11. _____
12. _____
13. _____
14. _____
15. _____
16. _____
17. _____
18. _____
19. _____
20. _____

Xác định tọa độ của các hình.

- | | |
|---------------|-------------------|
| 1) hình tròn | 2) kim cương |
| 3) hình vuông | 4) hình trái tim |
| 5) nốt nhạc | 6) cắt ngang |
| 7) tia chớp | 8) mặt trăng |
| 9) triangle | 10) hình ngôi sao |

Xác định chữ cái nào ở tọa độ nào.

- | | |
|---------------|---------------|
| 11) (2 . -10) | 12) (9 . 10) |
| 13) (7 . 3) | 14) (4 . -10) |
| 15) (3 . -3) | 16) (-2 . 10) |
| 17) (-5 . 2) | 18) (8 . 10) |
| 19) (-1 . -9) | 20) (3 . -4) |



Câu trả lời

1. (-7 . -4)
2. (6 . 4)
3. (10 . -8)
4. (8 . 5)
5. (-6 . 1)
6. (5 . -3)
7. (7 . -4)
8. (-6 . -4)
9. (9 . 4)
10. (-7 . 4)
11. **D**
12. **H**
13. **E**
14. **C**
15. **B**
16. **K**
17. **A**
18. **G**
19. **J**
20. **F**

Xác định tọa độ của các hình.

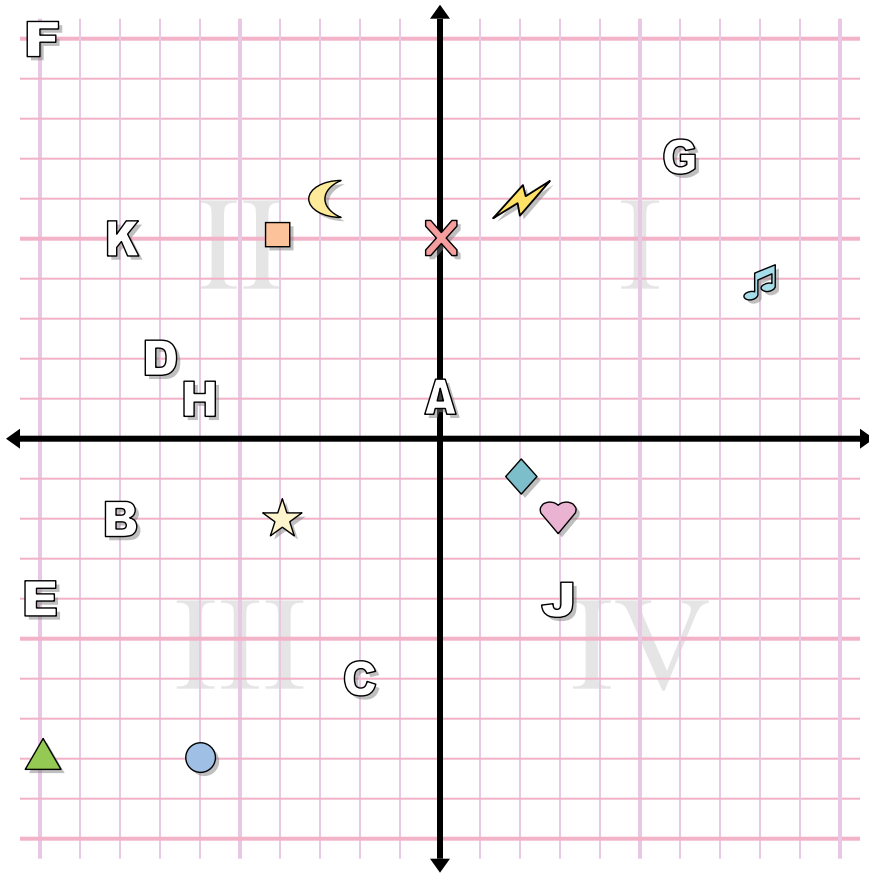
- | | |
|---------------|-------------------|
| 1) hình tròn | 2) kim cương |
| 3) hình vuông | 4) hình trái tim |
| 5) nốt nhạc | 6) cắt ngang |
| 7) tia chớp | 8) mặt trăng |
| 9) triangle | 10) hình ngôi sao |

Xác định chữ cái nào ở tọa độ nào.

- | | |
|---------------|---------------|
| 11) (2 . -10) | 12) (9 . 10) |
| 13) (7 . 3) | 14) (4 . -10) |
| 15) (3 . -3) | 16) (-2 . 10) |
| 17) (-5 . 2) | 18) (8 . 10) |
| 19) (-1 . -9) | 20) (3 . -4) |



Câu trả lời



Xác định tọa độ của các hình.

- 1) triangle
- 2) mặt trăng
- 3) hình vuông
- 4) hình trái tim
- 5) hình ngôi sao
- 6) hình tròn
- 7) nốt nhạc
- 8) tia chớp
- 9) cắt ngang
- 10) kim cương

Xác định chữ cái nào ở tọa độ nào.

- 11) (3 . -4)
- 12) (-6 . 1)
- 13) (-2 . -6)
- 14) (-8 . 5)
- 15) (0 . 1)
- 16) (-10 . 10)
- 17) (6 . 7)
- 18) (-7 . 2)
- 19) (-8 . -2)
- 20) (-10 . -4)

1. _____

2. _____

3. _____

4. _____

5. _____

6. _____

7. _____

8. _____

9. _____

10. _____

11. _____

12. _____

13. _____

14. _____

15. _____

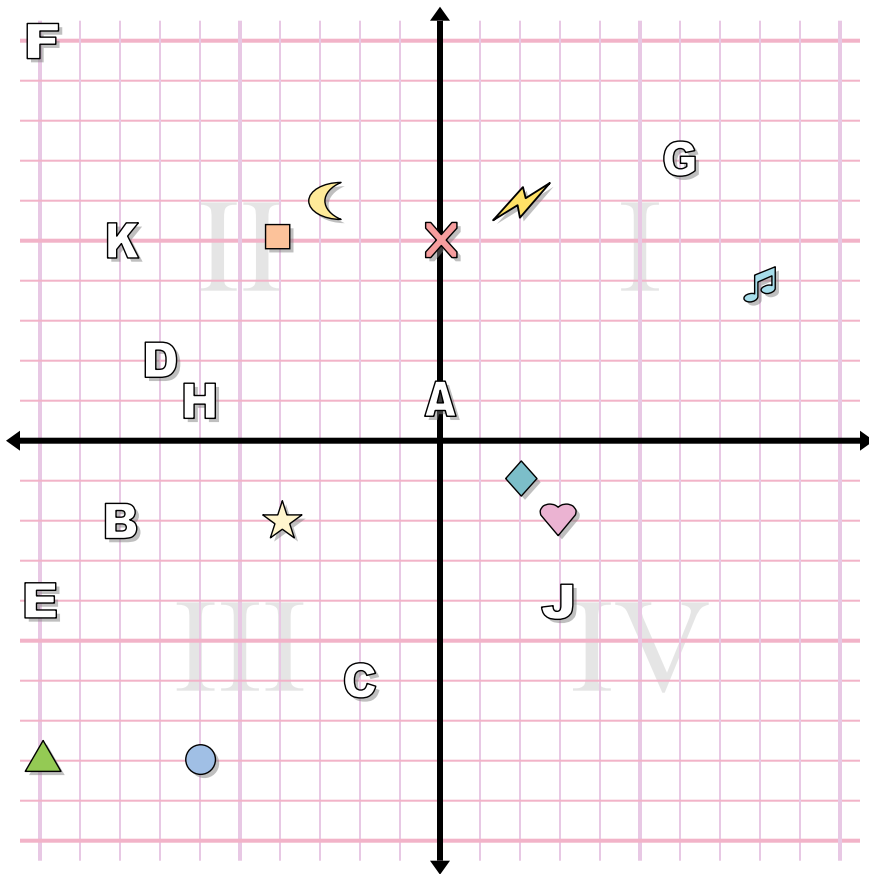
16. _____

17. _____

18. _____

19. _____

20. _____



Câu trả lời

1. **(-10 . -8)**
2. **(-3 . 6)**
3. **(-4 . 5)**
4. **(3 . -2)**
5. **(-4 . -2)**
6. **(-6 . -8)**
7. **(8 . 4)**
8. **(2 . 6)**
9. **(0 . 5)**
10. **(2 . -1)**
11. **J**
12. **H**
13. **C**
14. **K**
15. **A**
16. **F**
17. **G**
18. **D**
19. **B**
20. **E**

Xác định tọa độ của các hình.

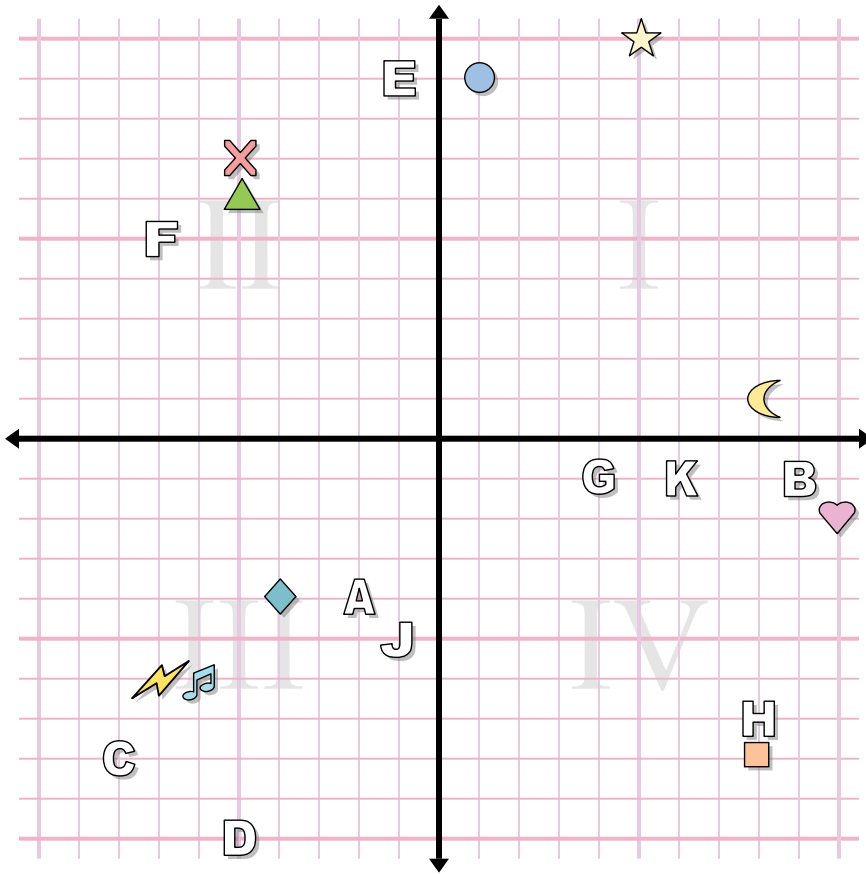
- | | |
|------------------|------------------|
| 1) triangle | 2) mặt trăng |
| 3) hình vuông | 4) hình trái tim |
| 5) hình ngôi sao | 6) hình tròn |
| 7) nốt nhạc | 8) tia chớp |
| 9) cắt ngang | 10) kim cương |

Xác định chữ cái nào ở tọa độ nào.

- | | |
|---------------|----------------|
| 11) (3 . -4) | 12) (-6 . 1) |
| 13) (-2 . -6) | 14) (-8 . 5) |
| 15) (0 . 1) | 16) (-10 . 10) |
| 17) (6 . 7) | 18) (-7 . 2) |
| 19) (-8 . -2) | 20) (-10 . -4) |



Câu trả lời



1. _____
2. _____
3. _____
4. _____
5. _____
6. _____
7. _____
8. _____
9. _____
10. _____
11. _____
12. _____
13. _____
14. _____
15. _____
16. _____
17. _____
18. _____
19. _____
20. _____

Xác định tọa độ của các hình.

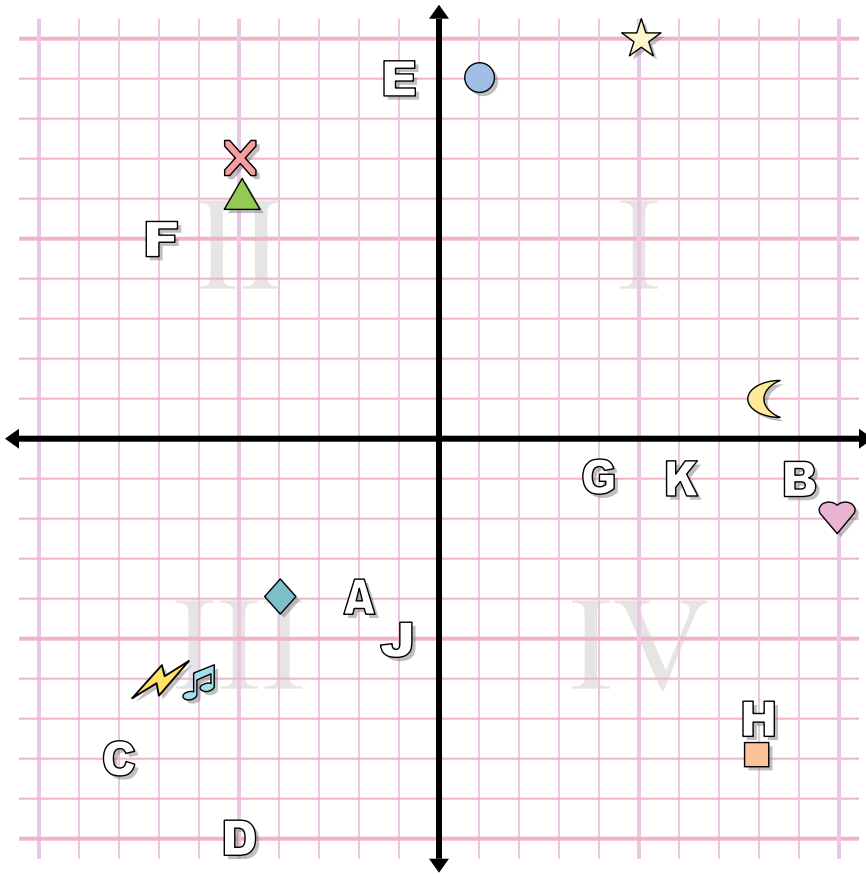
- | | |
|------------------|------------------|
| 1) cắt ngang | 2) nốt nhạc |
| 3) hình ngôi sao | 4) hình tròn |
| 5) hình vuông | 6) hình trái tim |
| 7) kim cương | 8) tia chớp |
| 9) mặt trăng | 10) triangle |

Xác định chữ cái nào ở tọa độ nào.

- | | |
|---------------|----------------|
| 11) (-2 . -4) | 12) (-1 . -5) |
| 13) (8 . -7) | 14) (-1 . 9) |
| 15) (6 . -1) | 16) (-8 . -8) |
| 17) (9 . -1) | 18) (4 . -1) |
| 19) (-7 . 5) | 20) (-5 . -10) |



Câu trả lời



Xác định tọa độ của các hình.

- | | |
|------------------|------------------|
| 1) cắt ngang | 2) nốt nhạc |
| 3) hình ngôi sao | 4) hình tròn |
| 5) hình vuông | 6) hình trái tim |
| 7) kim cương | 8) tia chớp |
| 9) mặt trăng | 10) triangle |

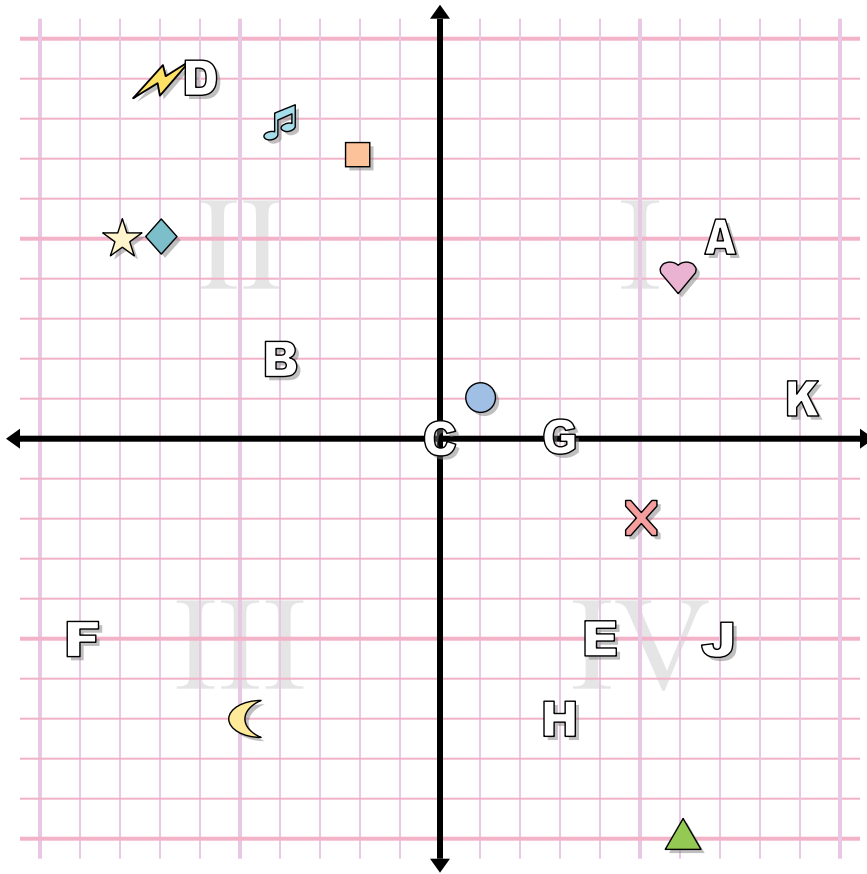
Xác định chữ cái nào ở tọa độ nào.

- | | |
|---------------|----------------|
| 11) (-2 . -4) | 12) (-1 . -5) |
| 13) (8 . -7) | 14) (-1 . 9) |
| 15) (6 . -1) | 16) (-8 . -8) |
| 17) (9 . -1) | 18) (4 . -1) |
| 19) (-7 . 5) | 20) (-5 . -10) |

1. **(-5 . 7)**
2. **(-6 . -6)**
3. **(5 . 10)**
4. **(1 . 9)**
5. **(8 . -8)**
6. **(10 . -2)**
7. **(-4 . -4)**
8. **(-7 . -6)**
9. **(8 . 1)**
10. **(-5 . 6)**
11. **A**
12. **J**
13. **H**
14. **E**
15. **K**
16. **C**
17. **B**
18. **G**
19. **F**
20. **D**



Câu trả lời



1. _____
2. _____
3. _____
4. _____
5. _____
6. _____
7. _____
8. _____
9. _____
10. _____
11. _____
12. _____
13. _____
14. _____
15. _____
16. _____
17. _____
18. _____
19. _____
20. _____

Xác định tọa độ của các hình.

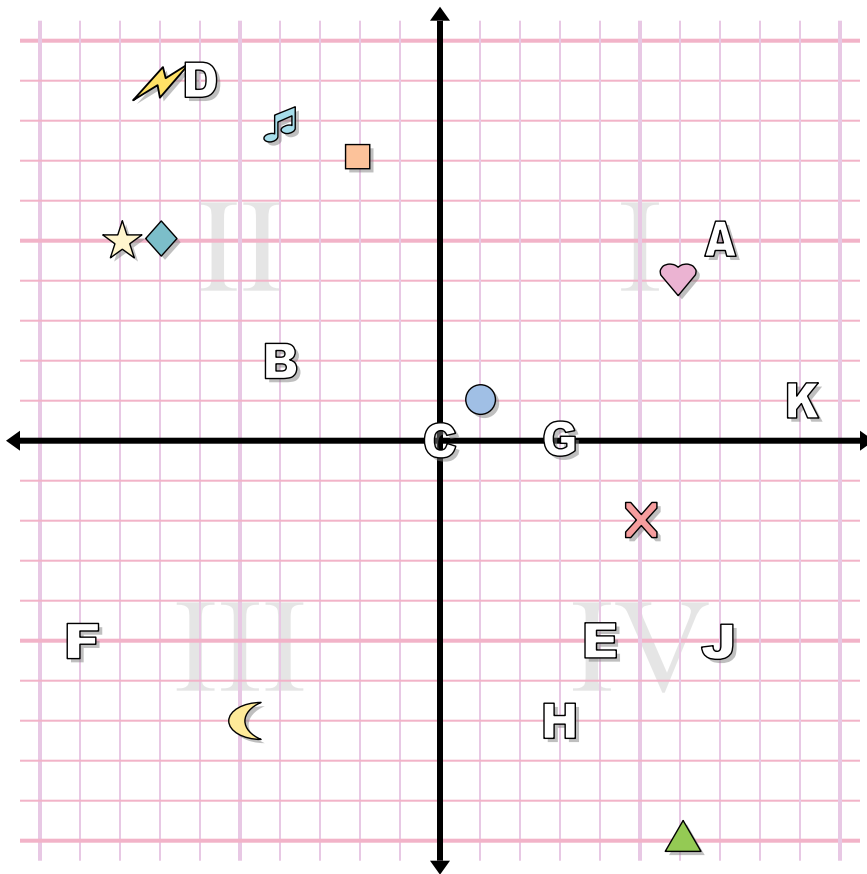
- | | |
|--------------|-------------------|
| 1) cắt ngang | 2) hình vuông |
| 3) nốt nhạc | 4) mặt trăng |
| 5) hình tròn | 6) hình trái tim |
| 7) triangle | 8) tia chớp |
| 9) kim cương | 10) hình ngôi sao |

Xác định chữ cái nào ở tọa độ nào.

- | | |
|---------------|--------------|
| 11) (-4 . 2) | 12) (7 . -5) |
| 13) (0 . 0) | 14) (3 . 0) |
| 15) (3 . -7) | 16) (4 . -5) |
| 17) (7 . 5) | 18) (-6 . 9) |
| 19) (-9 . -5) | 20) (9 . 1) |



Câu trả lời



1. (5 . -2)
2. (-2 . 7)
3. (-4 . 8)
4. (-5 . -7)
5. (1 . 1)
6. (6 . 4)
7. (6 . -10)
8. (-7 . 9)
9. (-7 . 5)
10. (-8 . 5)
11. B
12. J
13. C
14. G
15. H
16. E
17. A
18. D
19. F
20. K

Xác định tọa độ của các hình.

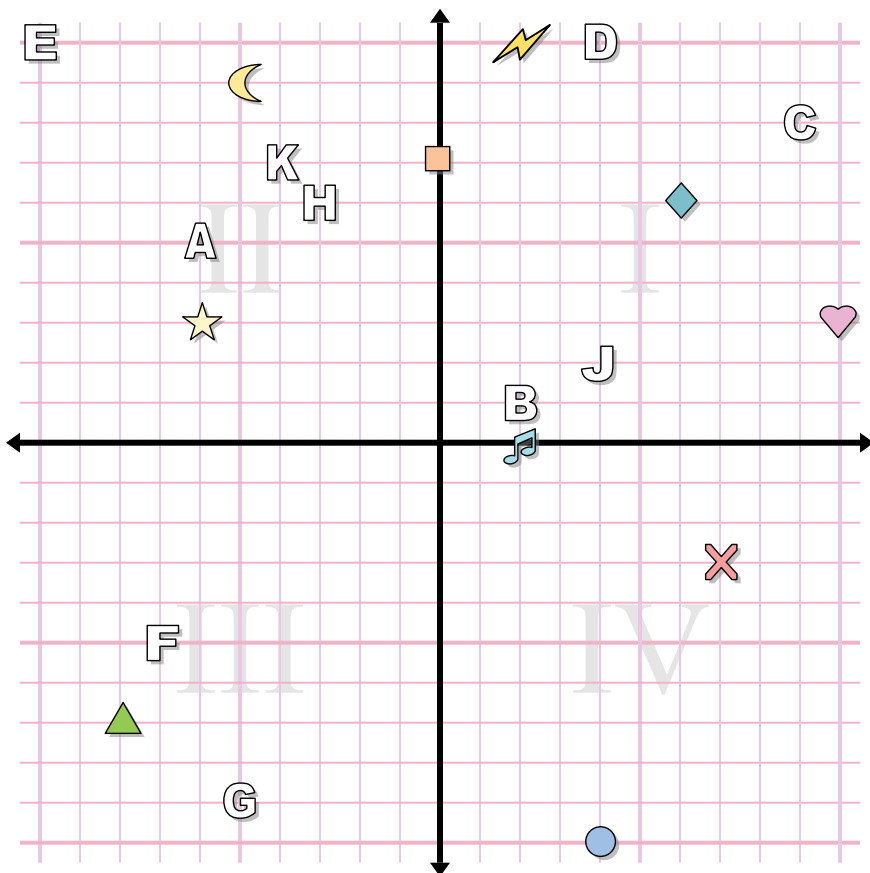
- | | |
|--------------|-------------------|
| 1) cắt ngang | 2) hình vuông |
| 3) nốt nhạc | 4) mặt trăng |
| 5) hình tròn | 6) hình trái tim |
| 7) triangle | 8) tia chớp |
| 9) kim cương | 10) hình ngôi sao |

Xác định chữ cái nào ở tọa độ nào.

- | | |
|---------------|--------------|
| 11) (-4 . 2) | 12) (7 . -5) |
| 13) (0 . 0) | 14) (3 . 0) |
| 15) (3 . -7) | 16) (4 . -5) |
| 17) (7 . 5) | 18) (-6 . 9) |
| 19) (-9 . -5) | 20) (9 . 1) |



Câu trả lời



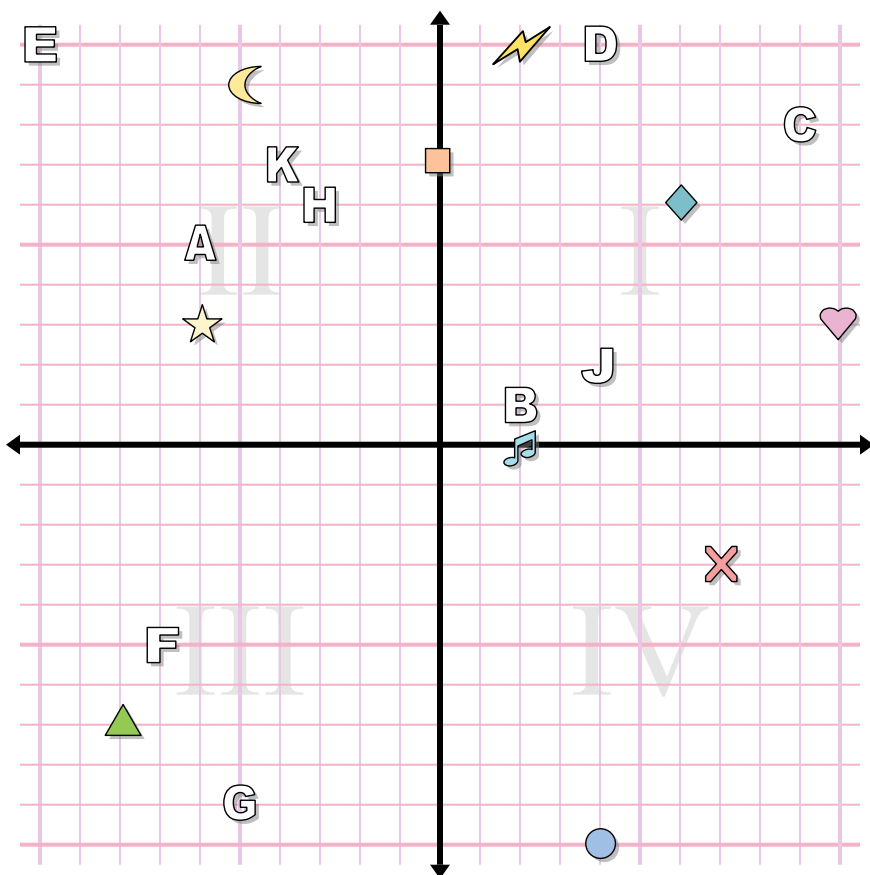
1. _____
2. _____
3. _____
4. _____
5. _____
6. _____
7. _____
8. _____
9. _____
10. _____
11. _____
12. _____
13. _____
14. _____
15. _____
16. _____
17. _____
18. _____
19. _____
20. _____

Xác định tọa độ của các hình.

- | | |
|------------------|---------------|
| 1) hình ngôi sao | 2) mặt trăng |
| 3) hình trái tim | 4) kim cương |
| 5) tia chớp | 6) triangle |
| 7) hình tròn | 8) nốt nhạc |
| 9) hình vuông | 10) cắt ngang |

Xác định chữ cái nào ở tọa độ nào.

- | | |
|---------------|----------------|
| 11) (-3 . 6) | 12) (-4 . 7) |
| 13) (-5 . -9) | 14) (-7 . -5) |
| 15) (-6 . 5) | 16) (9 . 8) |
| 17) (4 . 10) | 18) (4 . 2) |
| 19) (2 . 1) | 20) (-10 . 10) |



Câu trả lời

1. **(-6 . 3)**
2. **(-5 . 9)**
3. **(10 . 3)**
4. **(6 . 6)**
5. **(2 . 10)**
6. **(-8 . -7)**
7. **(4 . -10)**
8. **(2 . 0)**
9. **(0 . 7)**
10. **(7 . -3)**
11. **H**
12. **K**
13. **G**
14. **F**
15. **A**
16. **C**
17. **D**
18. **J**
19. **B**
20. **E**

Xác định tọa độ của các hình.

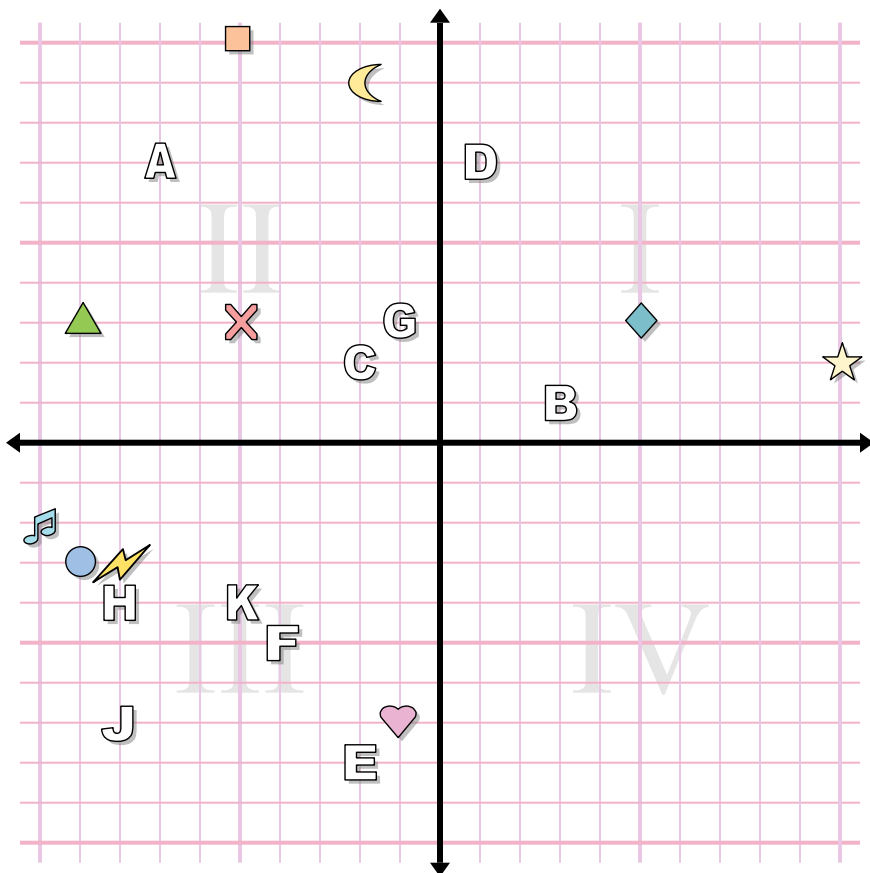
- | | |
|------------------|---------------|
| 1) hình ngôi sao | 2) mặt trăng |
| 3) hình trái tim | 4) kim cương |
| 5) tia chớp | 6) triangle |
| 7) hình tròn | 8) nốt nhạc |
| 9) hình vuông | 10) cắt ngang |

Xác định chữ cái nào ở tọa độ nào.

- | | |
|---------------|----------------|
| 11) (-3 . 6) | 12) (-4 . 7) |
| 13) (-5 . -9) | 14) (-7 . -5) |
| 15) (-6 . 5) | 16) (9 . 8) |
| 17) (4 . 10) | 18) (4 . 2) |
| 19) (2 . 1) | 20) (-10 . 10) |



Câu trả lời



1. _____
2. _____
3. _____
4. _____
5. _____
6. _____
7. _____
8. _____
9. _____
10. _____
11. _____
12. _____
13. _____
14. _____
15. _____
16. _____
17. _____
18. _____
19. _____
20. _____

Xác định tọa độ của các hình.

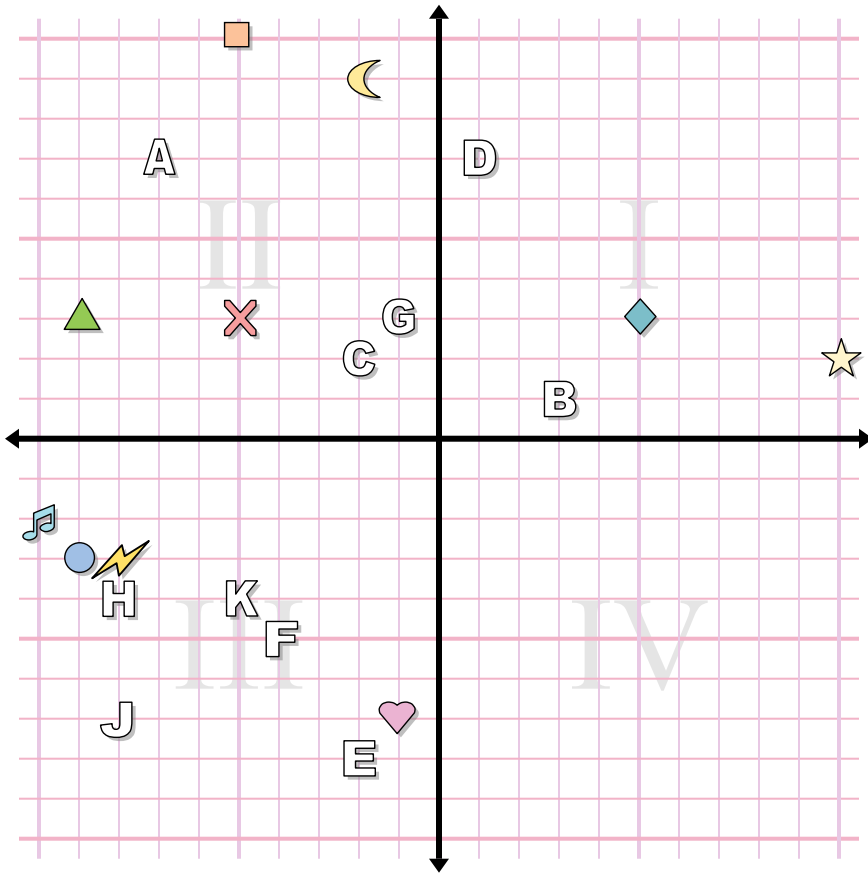
- | | |
|---------------|------------------|
| 1) kim cương | 2) hình ngôi sao |
| 3) triangle | 4) mặt trăng |
| 5) nốt nhạc | 6) tia chớp |
| 7) hình vuông | 8) hình trái tim |
| 9) hình tròn | 10) cắt ngang |

Xác định chữ cái nào ở tọa độ nào.

- | | |
|---------------|---------------|
| 11) (-7 . 7) | 12) (-4 . -5) |
| 13) (-8 . -4) | 14) (-2 . -8) |
| 15) (-8 . -7) | 16) (-1 . 3) |
| 17) (-5 . -4) | 18) (3 . 1) |
| 19) (-2 . 2) | 20) (1 . 7) |



Câu trả lời



1. (5 . 3)
2. (10 . 2)
3. (-9 . 3)
4. (-2 . 9)
5. (-10 . -2)
6. (-8 . -3)
7. (-5 . 10)
8. (-1 . -7)
9. (-9 . -3)
10. (-5 . 3)
11. A
12. F
13. H
14. E
15. J
16. G
17. K
18. B
19. C
20. D

Xác định tọa độ của các hình.

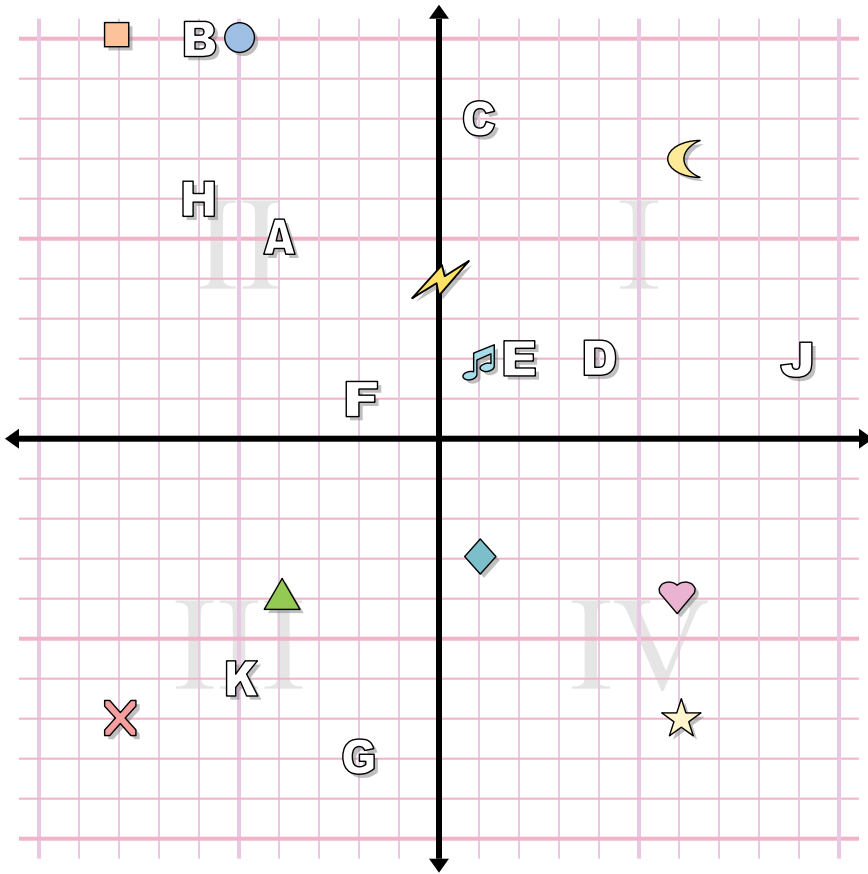
- | | |
|---------------|------------------|
| 1) kim cương | 2) hình ngôi sao |
| 3) triangle | 4) mặt trăng |
| 5) nốt nhạc | 6) tia chớp |
| 7) hình vuông | 8) hình trái tim |
| 9) hình tròn | 10) cắt ngang |

Xác định chữ cái nào ở tọa độ nào.

- | | |
|---------------|---------------|
| 11) (-7 . 7) | 12) (-4 . -5) |
| 13) (-8 . -4) | 14) (-2 . -8) |
| 15) (-8 . -7) | 16) (-1 . 3) |
| 17) (-5 . -4) | 18) (3 . 1) |
| 19) (-2 . 2) | 20) (1 . 7) |



Câu trả lời



1. _____
2. _____
3. _____
4. _____
5. _____
6. _____
7. _____
8. _____
9. _____
10. _____
11. _____
12. _____
13. _____
14. _____
15. _____
16. _____
17. _____
18. _____
19. _____
20. _____

Xác định tọa độ của các hình.

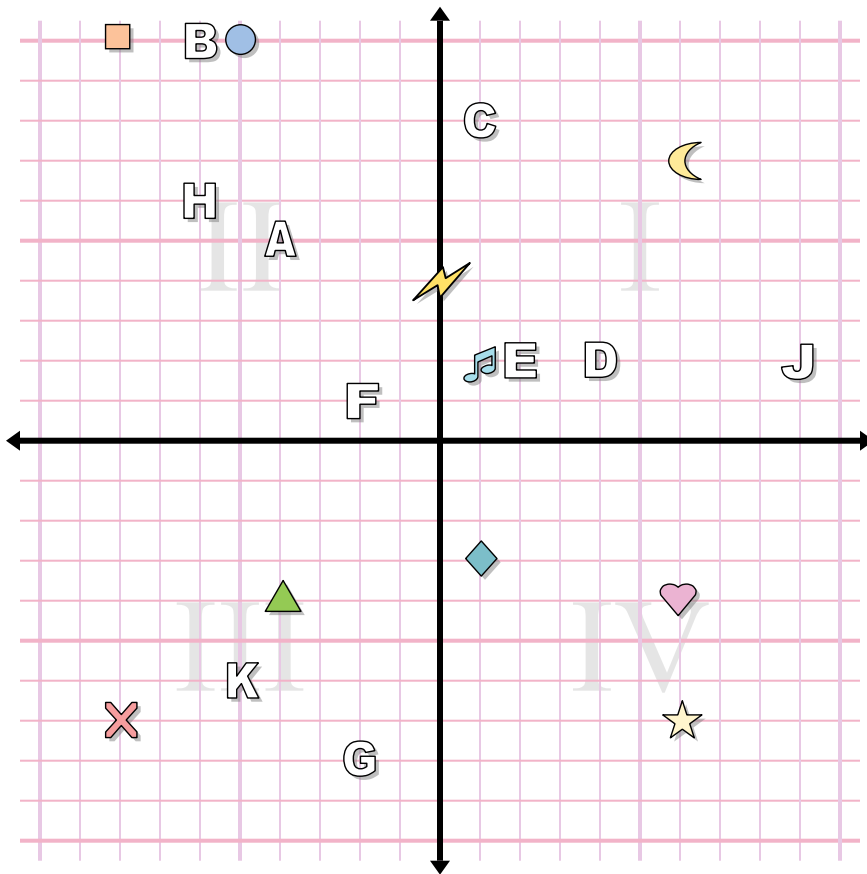
- | | |
|------------------|------------------|
| 1) hình ngôi sao | 2) cắt ngang |
| 3) nốt nhạc | 4) hình vuông |
| 5) tia chớp | 6) mặt trăng |
| 7) hình tròn | 8) hình trái tim |
| 9) triangle | 10) kim cương |

Xác định chữ cái nào ở tọa độ nào.

- | | |
|---------------|---------------|
| 11) (-4 . 5) | 12) (-2 . 1) |
| 13) (-5 . -6) | 14) (-6 . 6) |
| 15) (9 . 2) | 16) (4 . 2) |
| 17) (1 . 8) | 18) (-6 . 10) |
| 19) (2 . 2) | 20) (-2 . -8) |



Câu trả lời



1. (6 . -7)
2. (-8 . -7)
3. (1 . 2)
4. (-8 . 10)
5. (0 . 4)
6. (6 . 7)
7. (-5 . 10)
8. (6 . -4)
9. (-4 . -4)
10. (1 . -3)
11. A
12. F
13. K
14. H
15. J
16. D
17. C
18. B
19. E
20. G

Xác định tọa độ của các hình.

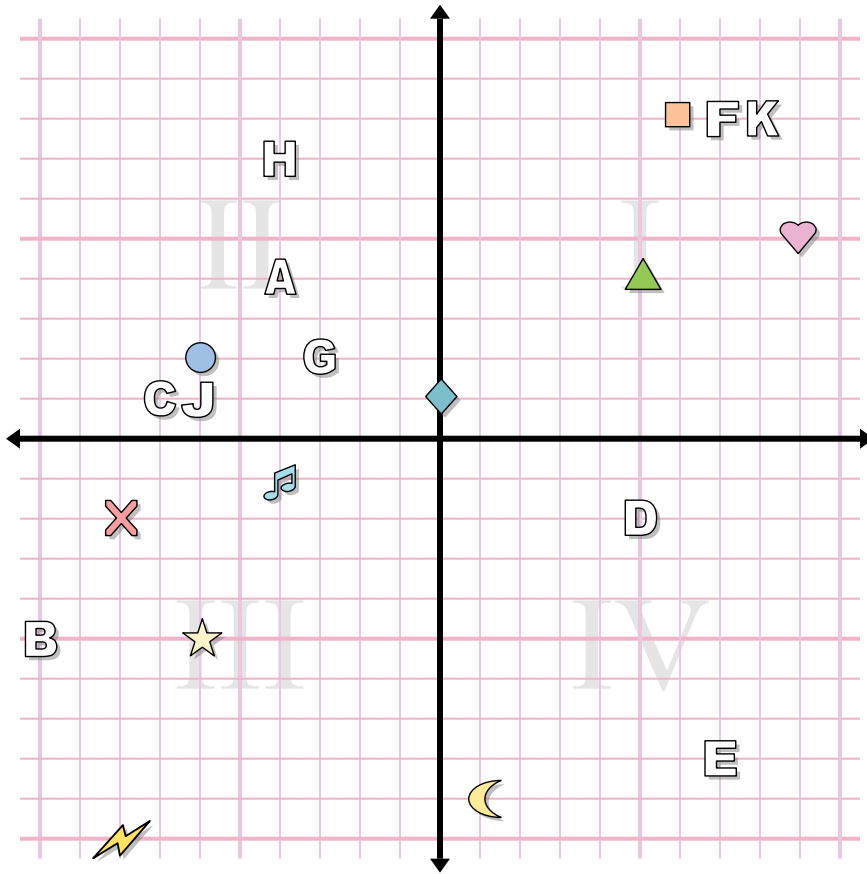
- | | |
|------------------|------------------|
| 1) hình ngôi sao | 2) cắt ngang |
| 3) nốt nhạc | 4) hình vuông |
| 5) tia chớp | 6) mặt trăng |
| 7) hình tròn | 8) hình trái tim |
| 9) triangle | 10) kim cương |

Xác định chữ cái nào ở tọa độ nào.

- | | |
|---------------|---------------|
| 11) (-4 . 5) | 12) (-2 . 1) |
| 13) (-5 . -6) | 14) (-6 . 6) |
| 15) (9 . 2) | 16) (4 . 2) |
| 17) (1 . 8) | 18) (-6 . 10) |
| 19) (2 . 2) | 20) (-2 . -8) |



Câu trả lời



Xác định tọa độ của các hình.

- 1) nốt nhạc
- 2) triangle
- 3) cắt ngang
- 4) hình trái tim
- 5) tia chớp
- 6) hình vuông
- 7) hình tròn
- 8) kim cương
- 9) mặt trăng
- 10) hình ngôi sao

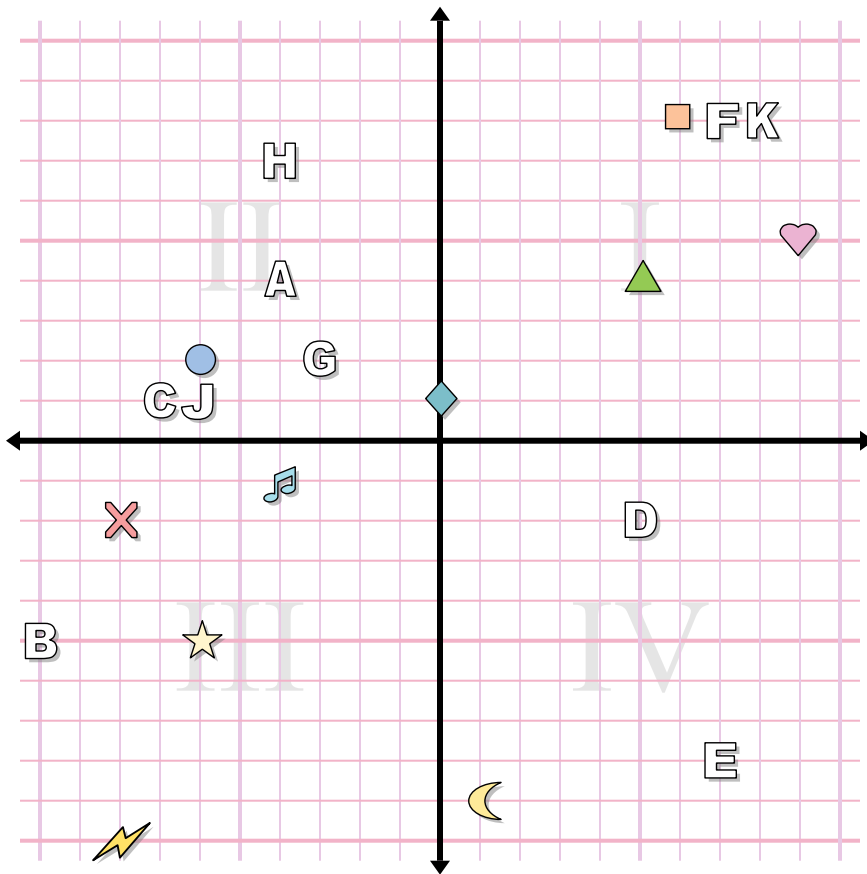
Xác định chữ cái nào ở tọa độ nào.

- 11) (-3 . 2)
- 12) (8 . 8)
- 13) (-6 . 1)
- 14) (7 . -8)
- 15) (5 . -2)
- 16) (-4 . 4)
- 17) (-10 . -5)
- 18) (-7 . 1)
- 19) (7 . 8)
- 20) (-4 . 7)

1. _____
2. _____
3. _____
4. _____
5. _____
6. _____
7. _____
8. _____
9. _____
10. _____
11. _____
12. _____
13. _____
14. _____
15. _____
16. _____
17. _____
18. _____
19. _____
20. _____



Câu trả lời



Xác định tọa độ của các hình.

- 1) nốt nhạc
- 2) triangle
- 3) cắt ngang
- 4) hình trái tim
- 5) tia chớp
- 6) hình vuông
- 7) hình tròn
- 8) kim cương
- 9) mặt trăng
- 10) hình ngôi sao

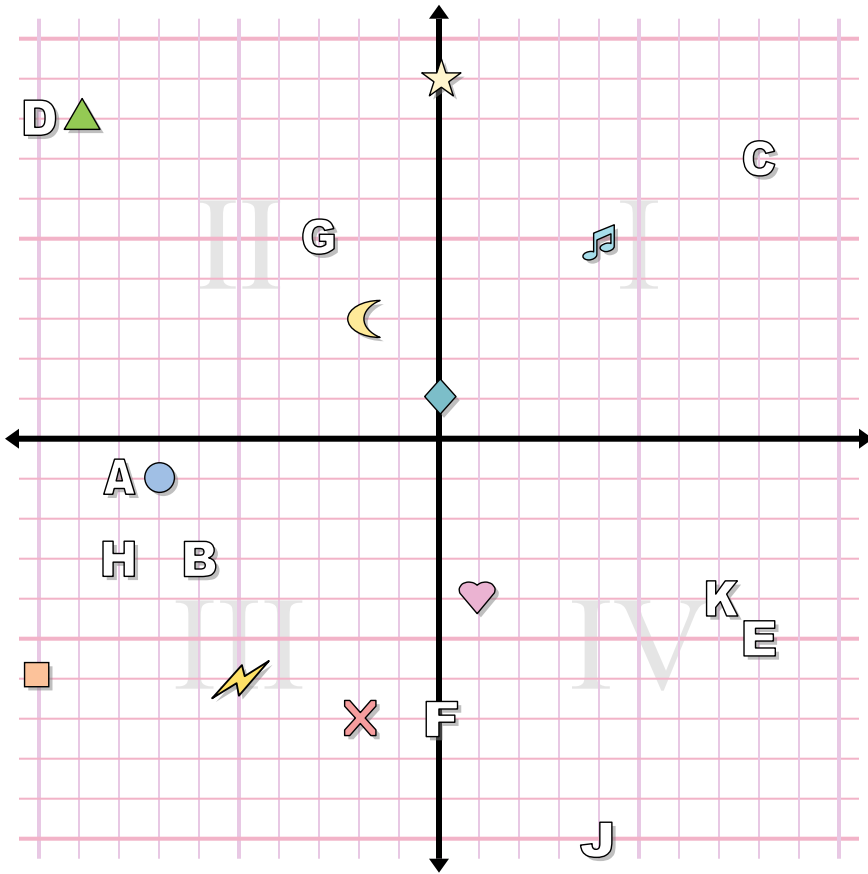
Xác định chữ cái nào ở tọa độ nào.

- 11) (-3 . 2)
- 12) (8 . 8)
- 13) (-6 . 1)
- 14) (7 . -8)
- 15) (5 . -2)
- 16) (-4 . 4)
- 17) (-10 . -5)
- 18) (-7 . 1)
- 19) (7 . 8)
- 20) (-4 . 7)

- 1. **(-4 . -1)**
- 2. **(5 . 4)**
- 3. **(-8 . -2)**
- 4. **(9 . 5)**
- 5. **(-8 . -10)**
- 6. **(6 . 8)**
- 7. **(-6 . 2)**
- 8. **(0 . 1)**
- 9. **(1 . -9)**
- 10. **(-6 . -5)**
- 11. **G**
- 12. **K**
- 13. **J**
- 14. **E**
- 15. **D**
- 16. **A**
- 17. **B**
- 18. **C**
- 19. **F**
- 20. **H**



Câu trả lời



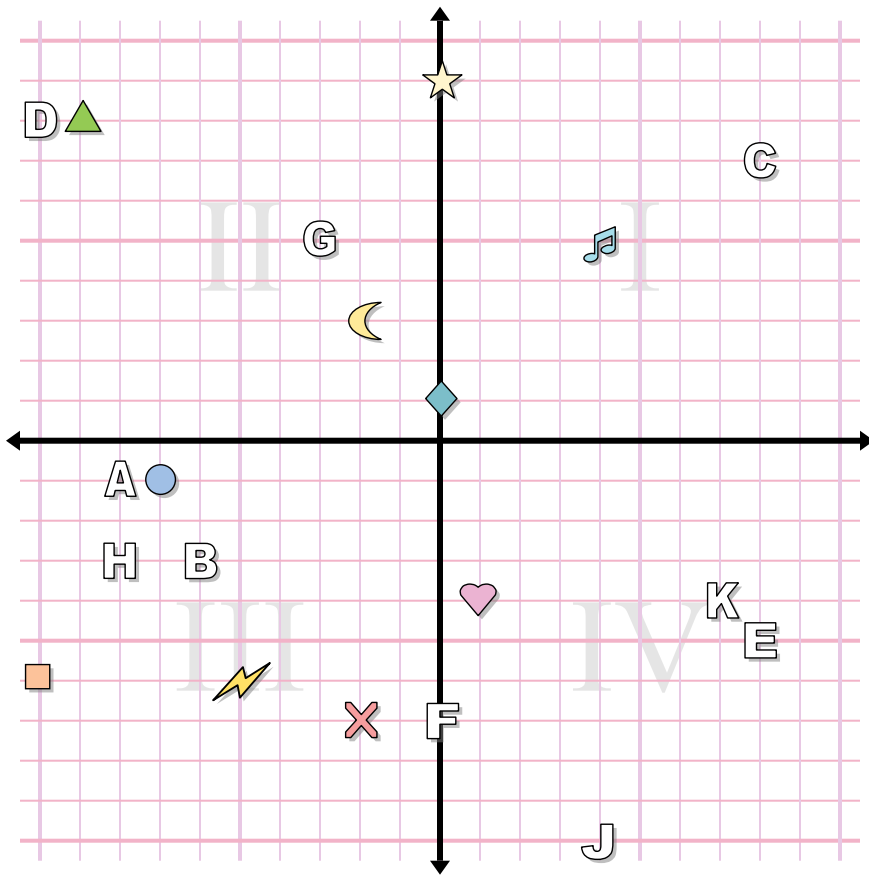
1. _____
2. _____
3. _____
4. _____
5. _____
6. _____
7. _____
8. _____
9. _____
10. _____
11. _____
12. _____
13. _____
14. _____
15. _____
16. _____
17. _____
18. _____
19. _____
20. _____

Xác định tọa độ của các hình.

- | | |
|------------------|---------------|
| 1) mặt trăng | 2) nốt nhạc |
| 3) triangle | 4) hình vuông |
| 5) hình tròn | 6) cắt ngang |
| 7) hình trái tim | 8) kim cương |
| 9) hình ngôi sao | 10) tia chớp |

Xác định chữ cái nào ở tọa độ nào.

- | | |
|---------------|---------------|
| 11) (-6 . -3) | 12) (-10 . 8) |
| 13) (8 . -5) | 14) (4 . -10) |
| 15) (-3 . 5) | 16) (-8 . -3) |
| 17) (0 . -7) | 18) (7 . -4) |
| 19) (-8 . -1) | 20) (8 . 7) |



Câu trả lời

1. **(-2 . 3)**
2. **(4 . 5)**
3. **(-9 . 8)**
4. **(-10 . -6)**
5. **(-7 . -1)**
6. **(-2 . -7)**
7. **(1 . -4)**
8. **(0 . 1)**
9. **(0 . 9)**
10. **(-5 . -6)**
11. **B**
12. **D**
13. **E**
14. **J**
15. **G**
16. **H**
17. **F**
18. **K**
19. **A**
20. **C**

Xác định tọa độ của các hình.

- | | |
|------------------|---------------|
| 1) mặt trăng | 2) nốt nhạc |
| 3) triangle | 4) hình vuông |
| 5) hình tròn | 6) cắt ngang |
| 7) hình trái tim | 8) kim cương |
| 9) hình ngôi sao | 10) tia chớp |

Xác định chữ cái nào ở tọa độ nào.

- | | |
|---------------|---------------|
| 11) (-6 . -3) | 12) (-10 . 8) |
| 13) (8 . -5) | 14) (4 . -10) |
| 15) (-3 . 5) | 16) (-8 . -3) |
| 17) (0 . -7) | 18) (7 . -4) |
| 19) (-8 . -1) | 20) (8 . 7) |