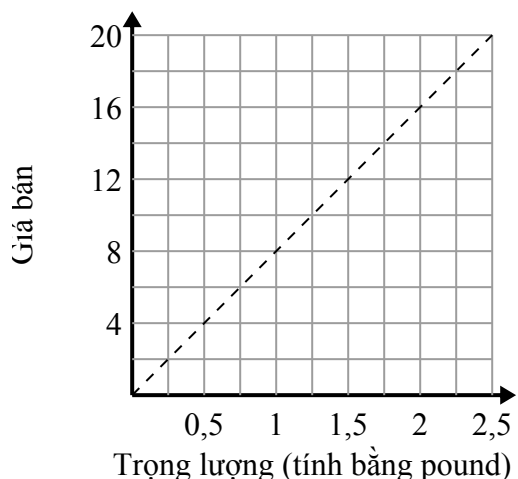




Xác định những phát biểu nào về đồ thị là đúng.

Câu trả lời

1)



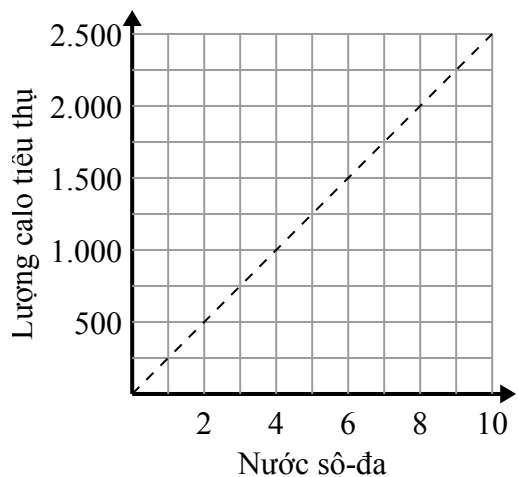
- A. Điểm (12 , 1.5) cho thấy rằng nó sẽ có giá \$ 12 cho 1.5 pound.
- B. Điểm (16 , 2) cho thấy rằng nó sẽ có giá \$ 16 cho 2 pound.
- C. Điểm (2.25 , 18) cho thấy rằng 2.25 pound sẽ có giá \$ 18.
- D. Điểm (8 , 1) cho thấy rằng 1 pound sẽ có giá \$ 8.

1. _____

2. _____

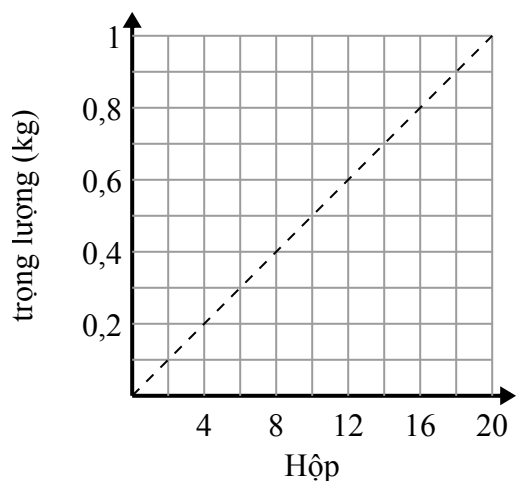
3. _____

2)



- A. Điểm (4 , 1000) cho thấy rằng để tiêu thụ 1000 calo, bạn phải uống 4 nước ngọt.
- B. Điểm (8 , 2000) cho thấy rằng để tiêu thụ 2000 calo, bạn phải uống 8 nước ngọt.
- C. Điểm (1750 , 7) cho thấy rằng uống sô-đa 7 sẽ có nghĩa là bạn đã tiêu thụ 1750 calo.
- D. Điểm (2000 , 8) cho thấy rằng uống sô-đa 8 sẽ có nghĩa là bạn đã tiêu thụ 2000 calo.

3)



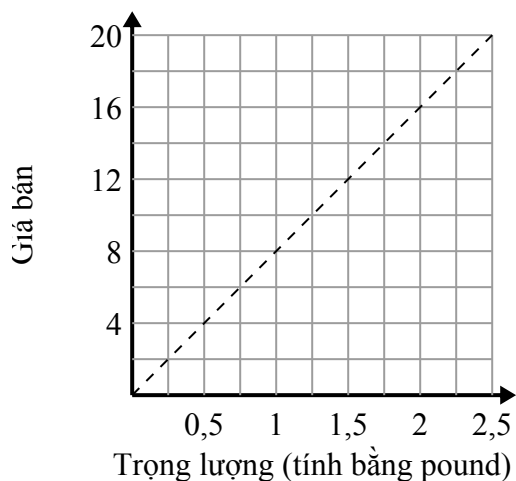
- A. Điểm (4 , 0.2) cho thấy rằng các hộp 4 nặng 0.2 kilôgam.
- B. Điểm (12 , 0.6) cho thấy rằng các hộp 12 nặng 0.6 kilôgam.
- C. Điểm (0.7 , 14) cho thấy rằng các hộp 14 nặng 0.7 kilôgam.
- D. Điểm (0.3 , 6) cho thấy rằng 0.3 kilôgam là trọng lượng của 6 hộp.



Xác định những phát biểu nào về đồ thị là đúng.

Câu trả lời

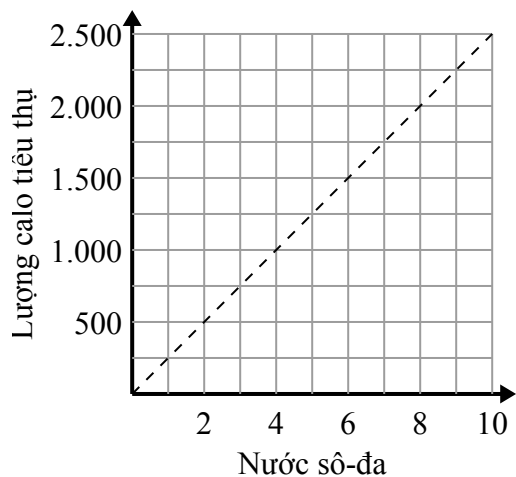
1)



- A. Điểm (12 , 1.5) cho thấy rằng nó sẽ có giá \$ 12 cho 1.5 pound.
- B. Điểm (16 , 2) cho thấy rằng nó sẽ có giá \$ 16 cho 2 pound.
- C. Điểm (2.25 , 18) cho thấy rằng 2.25 pound sẽ có giá \$ 18.
- D. Điểm (8 , 1) cho thấy rằng 1 pound sẽ có giá \$ 8.

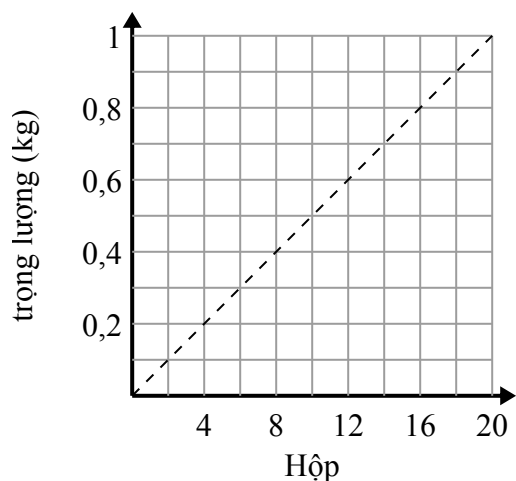
1. **C**2. **A,B**3. **A,B**

2)



- A. Điểm (4 , 1000) cho thấy rằng để tiêu thụ 1000 calo, bạn phải uống 4 nước ngọt.
- B. Điểm (8 , 2000) cho thấy rằng để tiêu thụ 2000 calo, bạn phải uống 8 nước ngọt.
- C. Điểm (1750 , 7) cho thấy rằng uống sô-đa 7 sẽ có nghĩa là bạn đã tiêu thụ 1750 calo.
- D. Điểm (2000 , 8) cho thấy rằng uống sô-đa 8 sẽ có nghĩa là bạn đã tiêu thụ 2000 calo.

3)



- A. Điểm (4 , 0.2) cho thấy rằng các hộp 4 nặng 0.2 kilôgam.
- B. Điểm (12 , 0.6) cho thấy rằng các hộp 12 nặng 0.6 kilôgam.
- C. Điểm (0.7 , 14) cho thấy rằng các hộp 14 nặng 0.7 kilôgam.
- D. Điểm (0.3 , 6) cho thấy rằng 0.3 kilôgam là trọng lượng của 6 hộp.