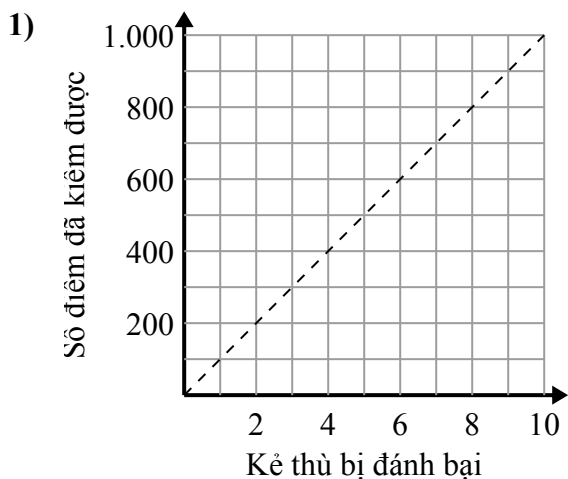




Xác định những phát biểu nào về đồ thị là đúng.

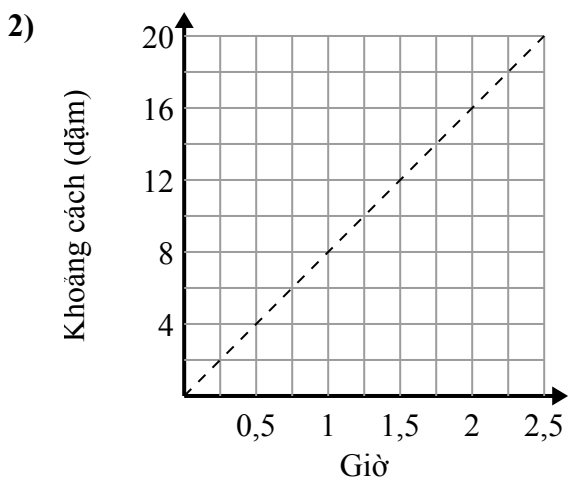
Câu trả lời

- A. Điểm (700 , 7) cho thấy rằng đánh bại kẻ thù của 7 sẽ giúp bạn kiếm được 700 điểm.
- B. Điểm (200 , 2) cho thấy rằng đánh bại kẻ thù của 2 sẽ giúp bạn kiếm được 200 điểm.
- C. Điểm (2 , 200) cho thấy rằng đánh bại kẻ thù của 2 sẽ giúp bạn kiếm được 200 điểm.
- D. Điểm (5 , 500) cho thấy rằng bạn sẽ kiếm được 500 điểm khi đánh bại 5 kẻ thù.

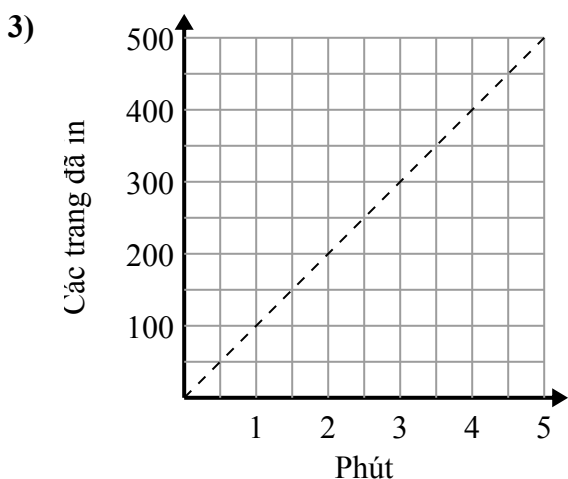
1. _____

2. _____

3. _____



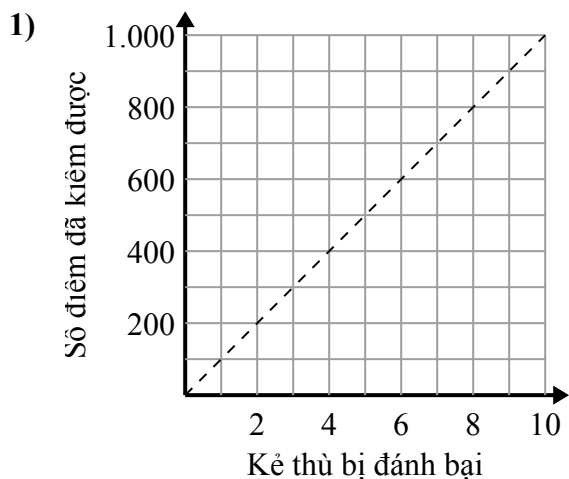
- A. Điểm (1.75 , 14) cho thấy rằng đi 14 dặm sẽ mất 1.75 giờ.
- B. Điểm (8 , 1) cho thấy rằng phải mất 1 giờ để đi 8 dặm.
- C. Điểm (0.5 , 4) cho thấy rằng phải mất 0.5 giờ để đi 4 dặm.
- D. Điểm (14 , 1.75) cho thấy rằng đi 14 dặm sẽ mất 1.75 giờ.



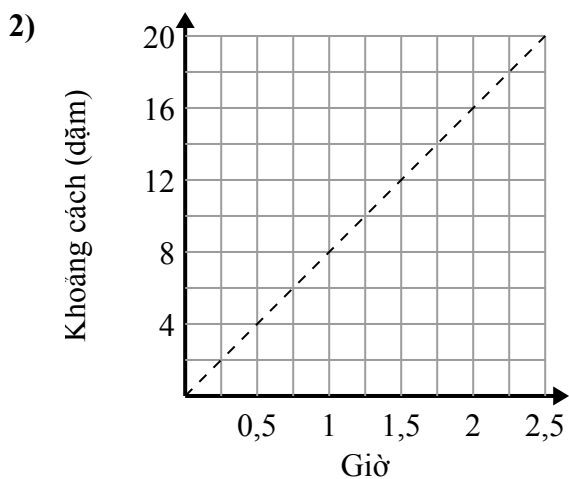
- A. Điểm (1.5 , 150) cho thấy rằng phải mất 1.5 phút để in các trang 150.
- B. Điểm (200 , 2) cho thấy rằng việc in các trang 200 sẽ mất 2 phút.
- C. Điểm (2.5 , 250) cho thấy rằng phải mất 2.5 phút để in các trang 250.
- D. Điểm (3.5 , 350) cho thấy rằng phải mất 3.5 phút để in các trang 350.



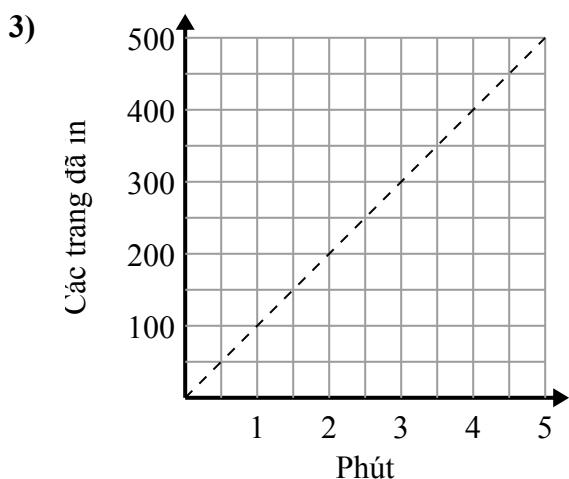
Xác định những phát biểu nào về đồ thị là đúng.

Câu trả lời

- A. Điểm (700 , 7) cho thấy rằng đánh bại kẻ thù của 7 sẽ giúp bạn kiếm được 700 điểm.
- B. Điểm (200 , 2) cho thấy rằng đánh bại kẻ thù của 2 sẽ giúp bạn kiếm được 200 điểm.
- C. Điểm (2 , 200) cho thấy rằng đánh bại kẻ thù của 2 sẽ giúp bạn kiếm được 200 điểm.
- D. Điểm (5 , 500) cho thấy rằng bạn sẽ kiếm được 500 điểm khi đánh bại 5 kẻ thù.

1. **C,D**2. **A,C**3. **A,C,D**

- A. Điểm (1.75 , 14) cho thấy rằng đi 14 dặm sẽ mất 1.75 giờ.
- B. Điểm (8 , 1) cho thấy rằng phải mất 1 giờ để đi 8 dặm.
- C. Điểm (0.5 , 4) cho thấy rằng phải mất 0.5 giờ để đi 4 dặm.
- D. Điểm (14 , 1.75) cho thấy rằng đi 14 dặm sẽ mất 1.75 giờ.



- A. Điểm (1.5 , 150) cho thấy rằng phải mất 1.5 phút để in các trang 150.
- B. Điểm (200 , 2) cho thấy rằng việc in các trang 200 sẽ mất 2 phút.
- C. Điểm (2.5 , 250) cho thấy rằng phải mất 2.5 phút để in các trang 250.
- D. Điểm (3.5 , 350) cho thấy rằng phải mất 3.5 phút để in các trang 350.