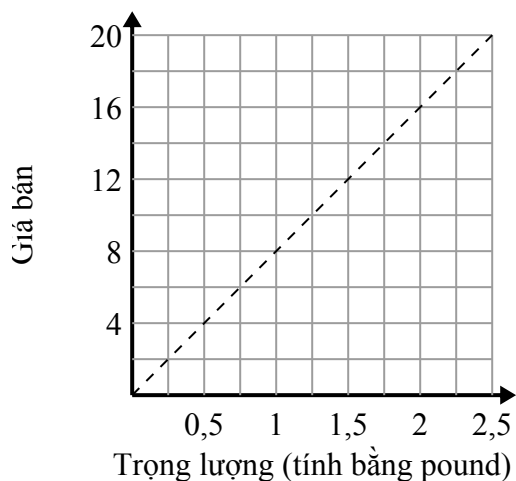




Xác định những phát biểu nào về đồ thị là đúng.

Câu trả lời

1)



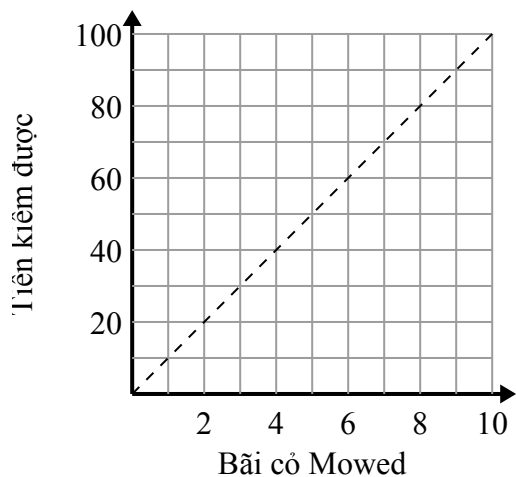
- A. Điểm (0.5 , 4) cho thấy rằng 0.5 pound sẽ có giá \$ 4.
- B. Điểm (6 , 0.75) cho thấy rằng nó sẽ có giá \$ 6 cho 0.75 pound.
- C. Điểm (1 , 8) cho thấy rằng 1 pound sẽ có giá \$ 8.
- D. Điểm (4 , 0.5) cho thấy rằng nó sẽ có giá \$ 4 cho 0.5 pound.

1. _____

2. _____

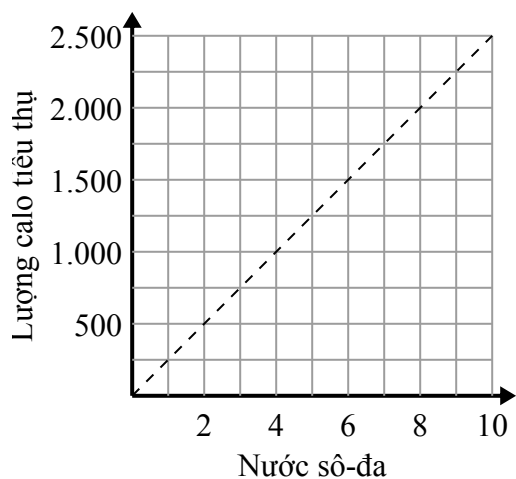
3. _____

2)



- A. Điểm (5 , 50) cho thấy rằng bạn sẽ kiếm được \$ 50 để cắt cỏ 5.
- B. Điểm (50 , 5) cho thấy rằng việc cắt cỏ 5 sẽ giúp bạn kiếm được \$ 50.
- C. Điểm (10 , 1) cho thấy rằng bạn sẽ kiếm được \$ 10 để cắt cỏ 1.
- D. Điểm (4 , 40) cho thấy rằng việc cắt cỏ 4 sẽ giúp bạn kiếm được \$ 40.

3)



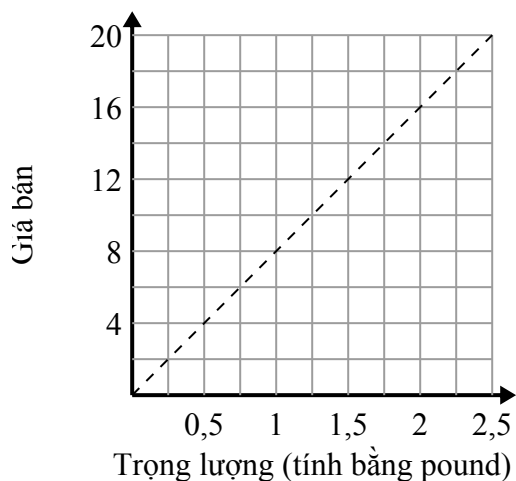
- A. Điểm (1250 , 5) cho thấy rằng để tiêu thụ 1250 calo, bạn phải uống 5 nước ngọt.
- B. Điểm (5 , 1250) cho thấy rằng uống sô-đa 5 sẽ có nghĩa là bạn đã tiêu thụ 1250 calo.
- C. Điểm (1000 , 4) cho thấy rằng uống sô-đa 4 sẽ có nghĩa là bạn đã tiêu thụ 1000 calo.
- D. Điểm (3 , 750) cho thấy rằng để tiêu thụ 750 calo, bạn phải uống 3 nước ngọt.



Xác định những phát biểu nào về đồ thị là đúng.

Câu trả lời

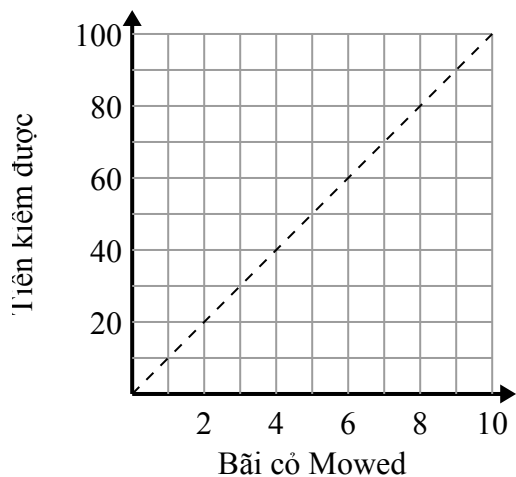
1)



- A. Điểm (0.5 , 4) cho thấy rằng 0.5 pound sẽ có giá \$ 4.
- B. Điểm (6 , 0.75) cho thấy rằng nó sẽ có giá \$ 6 cho 0.75 pound.
- C. Điểm (1 , 8) cho thấy rằng 1 pound sẽ có giá \$ 8.
- D. Điểm (4 , 0.5) cho thấy rằng nó sẽ có giá \$ 4 cho 0.5 pound.

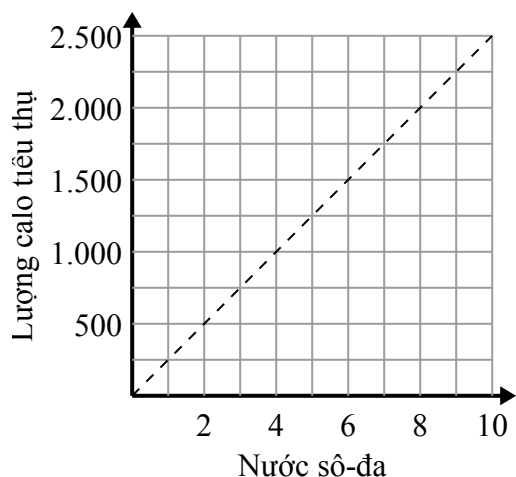
1. **A,C**2. **A,D**3. **B,D**

2)



- A. Điểm (5 , 50) cho thấy rằng bạn sẽ kiếm được \$ 50 để cắt cỏ 5.
- B. Điểm (50 , 5) cho thấy rằng việc cắt cỏ 5 sẽ giúp bạn kiếm được \$ 50.
- C. Điểm (10 , 1) cho thấy rằng bạn sẽ kiếm được \$ 10 để cắt cỏ 1.
- D. Điểm (4 , 40) cho thấy rằng việc cắt cỏ 4 sẽ giúp bạn kiếm được \$ 40.

3)



- A. Điểm (1250 , 5) cho thấy rằng để tiêu thụ 1250 calo, bạn phải uống 5 nước ngọt.
- B. Điểm (5 , 1250) cho thấy rằng uống sô-đa 5 sẽ có nghĩa là bạn đã tiêu thụ 1250 calo.
- C. Điểm (1000 , 4) cho thấy rằng uống sô-đa 4 sẽ có nghĩa là bạn đã tiêu thụ 1000 calo.
- D. Điểm (3 , 750) cho thấy rằng để tiêu thụ 750 calo, bạn phải uống 3 nước ngọt.