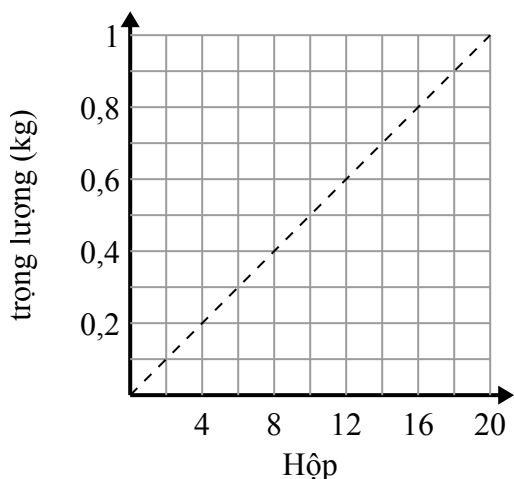




Xác định những phát biểu nào về đồ thị là đúng.

Câu trả lời

1)



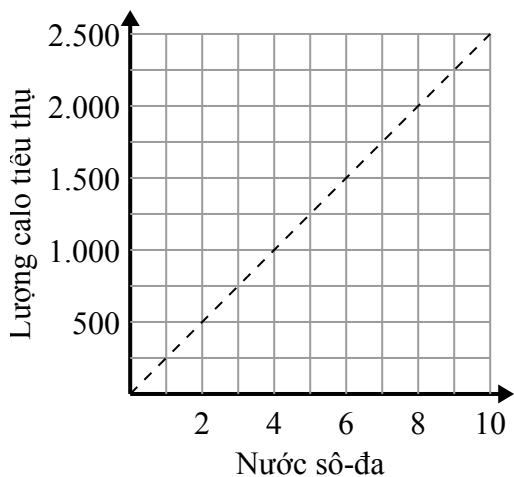
- A. Điểm $(0.4, 8)$ cho thấy rằng các hộp 8 nặng 0.4 kilôgam.
- B. Điểm $(0.6, 12)$ cho thấy rằng 0.6 kilôgam là trọng lượng của 12 hộp.
- C. Điểm $(10, 0.5)$ cho thấy rằng 0.5 kilôgam là trọng lượng của 10 hộp.
- D. Điểm $(6, 0.3)$ cho thấy rằng 0.3 kilôgam là trọng lượng của 6 hộp.

1. _____

2. _____

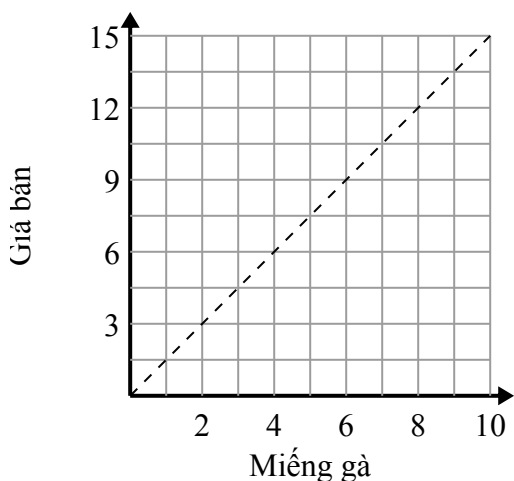
3. _____

2)



- A. Điểm $(2, 500)$ cho thấy rằng uống sô-đa 2 sẽ có nghĩa là bạn đã tiêu thụ 500 calo.
- B. Điểm $(8, 2000)$ cho thấy rằng để tiêu thụ 2000 calo, bạn phải uống 8 nước ngọt.
- C. Điểm $(750, 3)$ cho thấy rằng để tiêu thụ 750 calo, bạn phải uống 3 nước ngọt.
- D. Điểm $(500, 2)$ cho thấy rằng uống sô-đa 2 sẽ có nghĩa là bạn đã tiêu thụ 500 calo.

3)



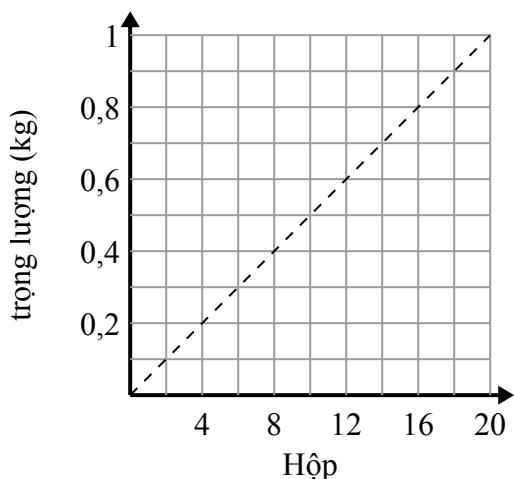
- A. Điểm $(12, 8)$ cho thấy rằng 8 miếng gà sẽ có giá \$ 12.
- B. Điểm $(4.5, 3)$ cho thấy rằng 3 miếng gà sẽ có giá \$ 4.5.
- C. Điểm $(7, 10.5)$ cho thấy rằng 7 miếng gà sẽ có giá \$ 10.5.
- D. Điểm $(1, 1.5)$ cho thấy rằng 1 mảnh gà sẽ có giá \$ 1.5.



Xác định những phát biểu nào về đồ thị là đúng.

Câu trả lời

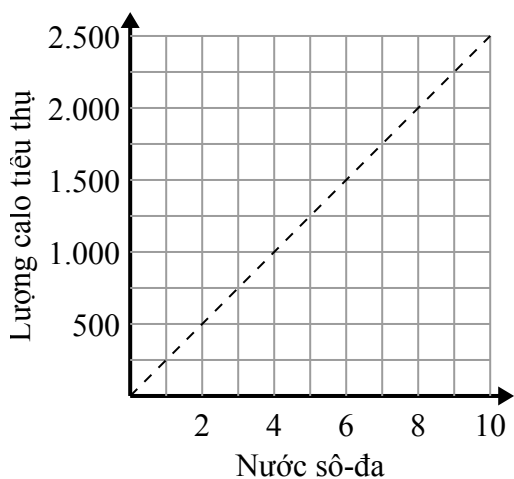
1)



- A. Điểm $(0.4, 8)$ cho thấy rằng các hộp 8 nặng 0.4 kilôgam.
- B. Điểm $(0.6, 12)$ cho thấy rằng 0.6 kilôgam là trọng lượng của 12 hộp.
- C. Điểm $(10, 0.5)$ cho thấy rằng 0.5 kilôgam là trọng lượng của 10 hộp.
- D. Điểm $(6, 0.3)$ cho thấy rằng 0.3 kilôgam là trọng lượng của 6 hộp.

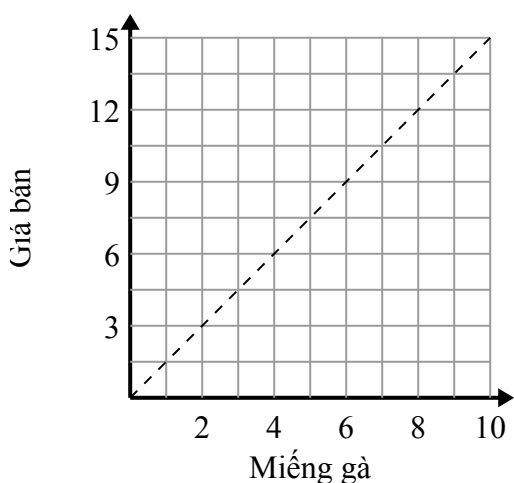
1. **C,D**2. **A,B**3. **C,D**

2)



- A. Điểm $(2, 500)$ cho thấy rằng uống sô-đa 2 sẽ có nghĩa là bạn đã tiêu thụ 500 calo.
- B. Điểm $(8, 2000)$ cho thấy rằng để tiêu thụ 2000 calo, bạn phải uống 8 nước ngọt.
- C. Điểm $(750, 3)$ cho thấy rằng để tiêu thụ 750 calo, bạn phải uống 3 nước ngọt.
- D. Điểm $(500, 2)$ cho thấy rằng uống sô-đa 2 sẽ có nghĩa là bạn đã tiêu thụ 500 calo.

3)



- A. Điểm $(12, 8)$ cho thấy rằng 8 miếng gà sẽ có giá \$ 12.
- B. Điểm $(4.5, 3)$ cho thấy rằng 3 miếng gà sẽ có giá \$ 4.5.
- C. Điểm $(7, 10.5)$ cho thấy rằng 7 miếng gà sẽ có giá \$ 10.5.
- D. Điểm $(1, 1.5)$ cho thấy rằng 1 mảnh gà sẽ có giá \$ 1.5.