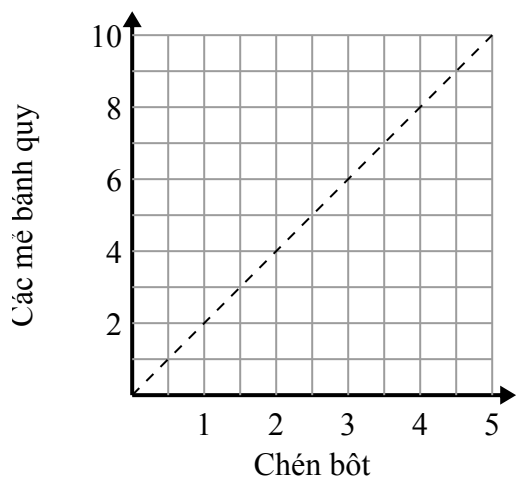




Xác định những phát biểu nào về đồ thị là đúng.

Câu trả lời

1)



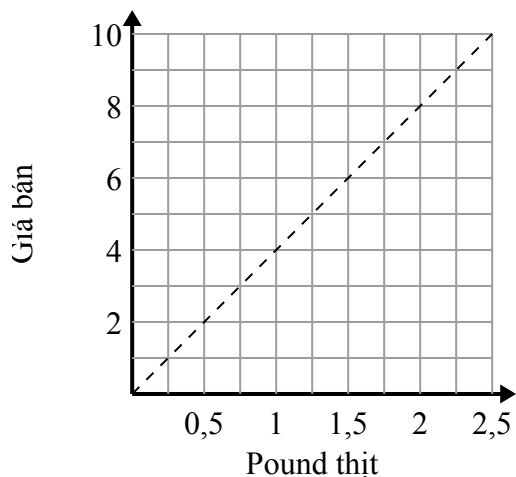
- A. Điểm (8 , 4) cho thấy rằng các mẻ bánh quy 8 yêu cầu 4 chén bột.
- B. Điểm (3 , 1.5) cho thấy rằng 1.5 chén bột sẽ tạo ra 3 nhiều mẻ bánh quy.
- C. Điểm (1 , 2) cho thấy rằng các mẻ bánh quy 2 yêu cầu 1 chén bột.
- D. Điểm (1 , 0.5) cho thấy rằng 0.5 chén bột sẽ tạo ra 1 nhiều mẻ bánh quy.

1. _____

2. _____

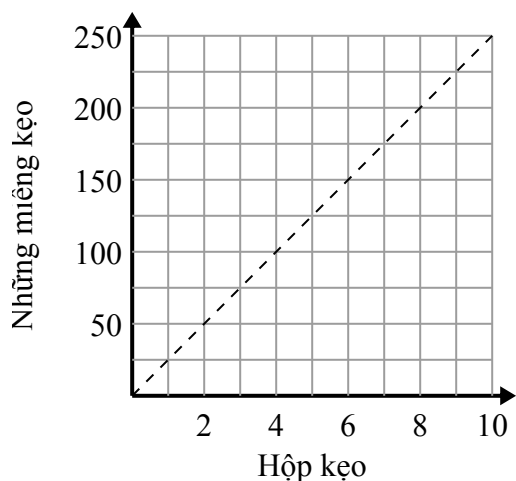
3. _____

2)



- A. Điểm (2 , 0.5) cho thấy rằng \$ 2 sẽ mua cho bạn 0.5 pound thịt.
- B. Điểm (1.75 , 7) cho thấy rằng mua 1.75 pound thịt sẽ có giá \$ 7.
- C. Điểm (0.75 , 3) cho thấy rằng \$ 3 sẽ mua cho bạn 0.75 pound thịt.
- D. Điểm (6 , 1.5) cho thấy rằng \$ 6 sẽ mua cho bạn 1.5 pound thịt.

3)



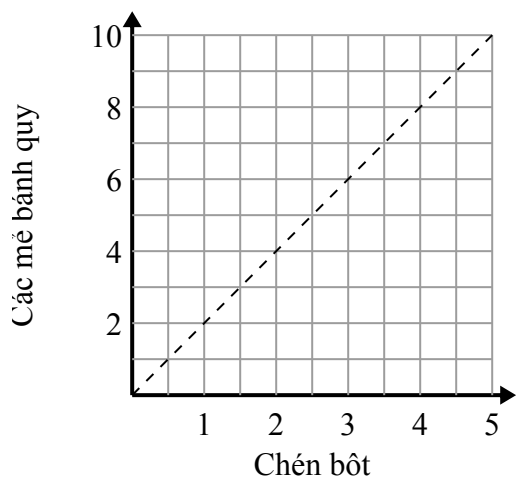
- A. Điểm (200 , 8) cho thấy rằng bạn nhận được 200 viên kẹo trong các hộp 8.
- B. Điểm (50 , 2) cho thấy rằng 2 hộp kẹo chứa 50 viên kẹo.
- C. Điểm (1 , 25) cho thấy rằng bạn nhận được 25 viên kẹo trong các hộp 1.
- D. Điểm (7 , 175) cho thấy rằng bạn nhận được 175 viên kẹo trong các hộp 7.



Xác định những phát biểu nào về đồ thị là đúng.

Câu trả lời

1)



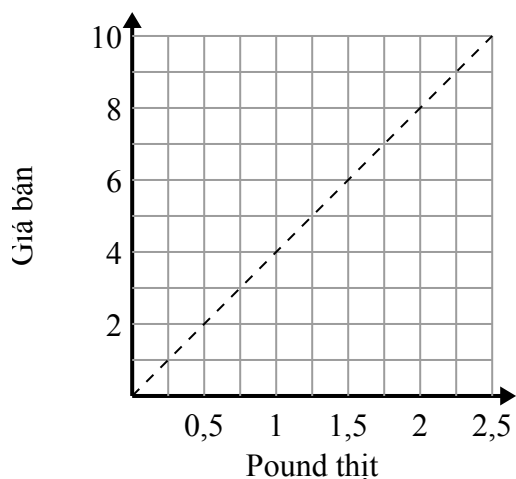
- A. Điểm (8 , 4) cho thấy rằng các mẻ bánh quy 8 yêu cầu 4 chén bột.
- B. Điểm (3 , 1.5) cho thấy rằng 1.5 chén bột sẽ tạo ra 3 nhiều mẻ bánh quy.
- C. Điểm (1 , 2) cho thấy rằng các mẻ bánh quy 2 yêu cầu 1 chén bột.
- D. Điểm (1 , 0.5) cho thấy rằng 0.5 chén bột sẽ tạo ra 1 nhiều mẻ bánh quy.

1. **C**

2. **B,C**

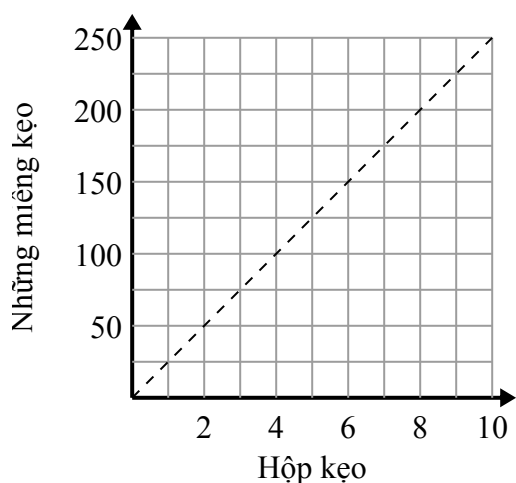
3. **C,D**

2)



- A. Điểm (2 , 0.5) cho thấy rằng \$ 2 sẽ mua cho bạn 0.5 pound thịt.
- B. Điểm (1.75 , 7) cho thấy rằng mua 1.75 pound thịt sẽ có giá \$ 7.
- C. Điểm (0.75 , 3) cho thấy rằng \$ 3 sẽ mua cho bạn 0.75 pound thịt.
- D. Điểm (6 , 1.5) cho thấy rằng \$ 6 sẽ mua cho bạn 1.5 pound thịt.

3)



- A. Điểm (200 , 8) cho thấy rằng bạn nhận được 200 viên kẹo trong các hộp 8.
- B. Điểm (50 , 2) cho thấy rằng 2 hộp kẹo chứa 50 viên kẹo.
- C. Điểm (1 , 25) cho thấy rằng bạn nhận được 25 viên kẹo trong các hộp 1.
- D. Điểm (7 , 175) cho thấy rằng bạn nhận được 175 viên kẹo trong các hộp 7.