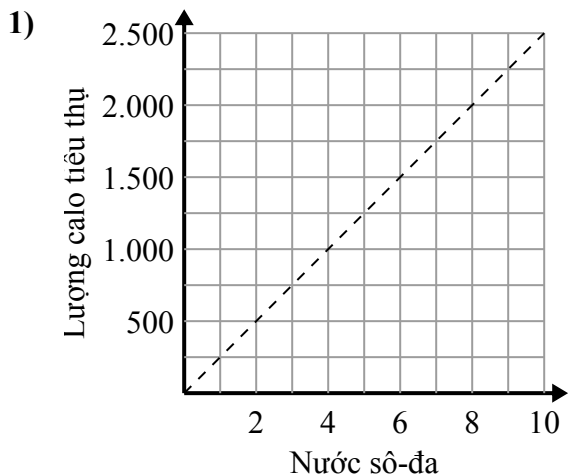




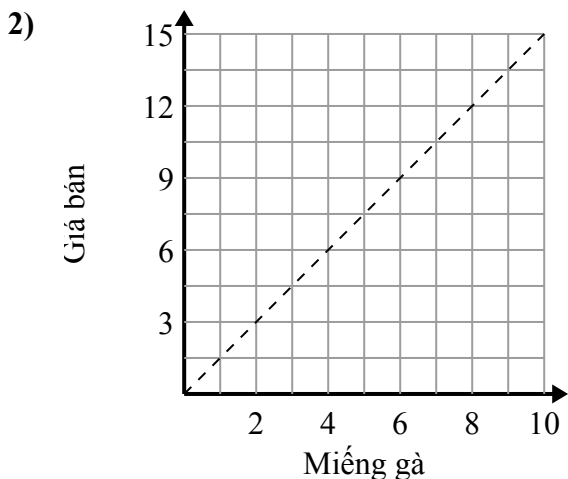
Xác định những phát biểu nào về đồ thị là đúng.

**Câu trả lời**

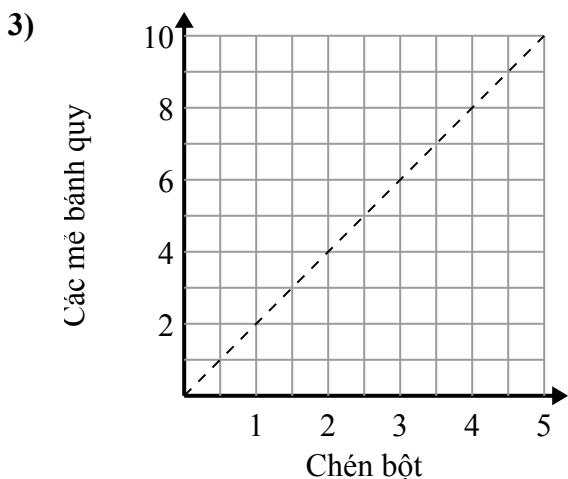


- A. Điểm (2 , 500) cho thấy rằng uống sô-đa 2 sẽ có nghĩa là bạn đã tiêu thụ 500 calo.
- B. Điểm (1 , 250) cho thấy rằng để tiêu thụ 250 calo, bạn phải uống 1 Nước ngọt.
- C. Điểm (250 , 1) cho thấy rằng uống sô-đa 1 sẽ có nghĩa là bạn đã tiêu thụ 250 calo.
- D. Điểm (1000 , 4) cho thấy rằng uống sô-đa 4 sẽ có nghĩa là bạn đã tiêu thụ 1000 calo.

- 1. \_\_\_\_\_
- 2. \_\_\_\_\_
- 3. \_\_\_\_\_



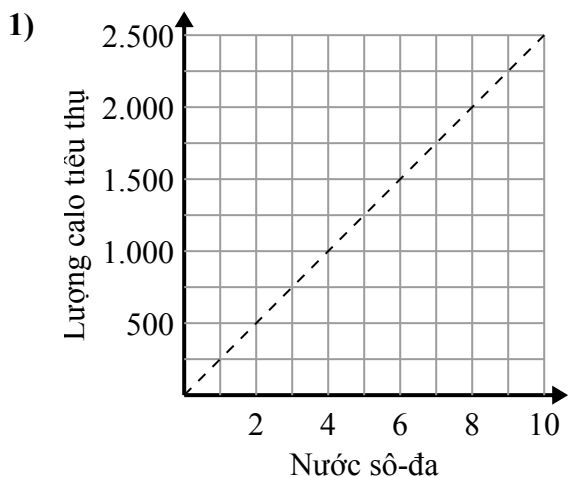
- A. Điểm (1 , 1.5) cho thấy rằng với \$ 1.5, bạn có thể mua 1 mảnh gà.
- B. Điểm (5 , 7.5) cho thấy rằng 5 miếng gà sẽ có giá \$ 7.5.
- C. Điểm (9 , 6) cho thấy rằng 6 miếng gà sẽ có giá \$ 9.
- D. Điểm (4 , 6) cho thấy rằng 4 miếng gà sẽ có giá \$ 6.



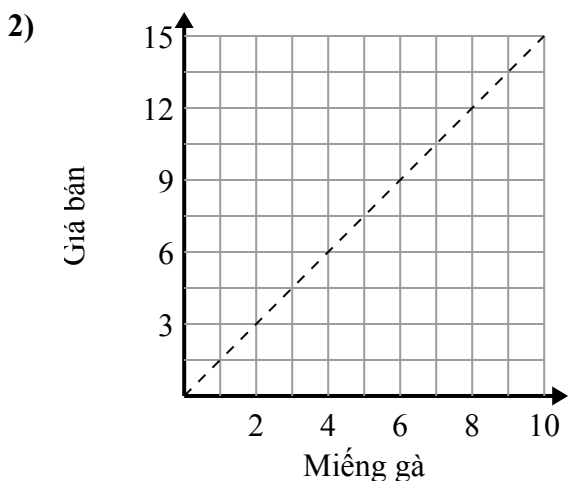
- A. Điểm (4 , 2) cho thấy rằng 2 chén bột sẽ tạo ra 4 nhiều mẻ bánh quy.
- B. Điểm (6 , 3) cho thấy rằng 3 chén bột sẽ tạo ra 6 nhiều mẻ bánh quy.
- C. Điểm (4 , 8) cho thấy rằng 4 chén bột sẽ tạo ra 8 nhiều mẻ bánh quy.
- D. Điểm (9 , 4.5) cho thấy rằng các mẻ bánh quy 9 yêu cầu 4.5 chén bột.



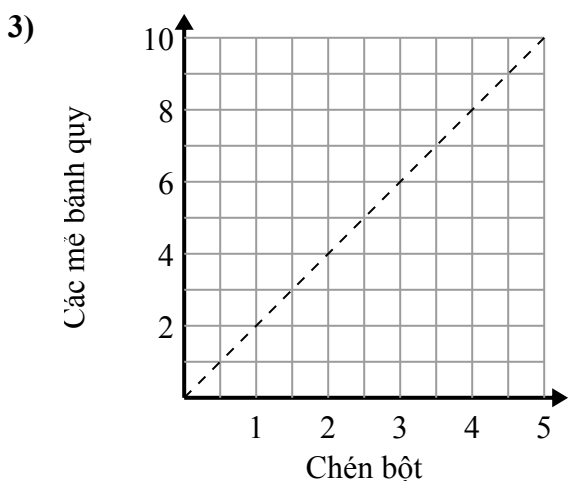
Xác định những phát biểu nào về đồ thị là đúng.

**Câu trả lời**

- A. Điểm (2 , 500) cho thấy rằng uống sô-đa 2 sẽ có nghĩa là bạn đã tiêu thụ 500 calo.
- B. Điểm (1 , 250) cho thấy rằng để tiêu thụ 250 calo, bạn phải uống 1 Nước ngọt.
- C. Điểm (250 , 1) cho thấy rằng uống sô-đa 1 sẽ có nghĩa là bạn đã tiêu thụ 250 calo.
- D. Điểm (1000 , 4) cho thấy rằng uống sô-đa 4 sẽ có nghĩa là bạn đã tiêu thụ 1000 calo.

1. **A,B**2. **A,B,D**3. **C**

- A. Điểm (1 , 1.5) cho thấy rằng với \$ 1.5, bạn có thể mua 1 mảnh gà.
- B. Điểm (5 , 7.5) cho thấy rằng 5 miếng gà sẽ có giá \$ 7.5.
- C. Điểm (9 , 6) cho thấy rằng 6 miếng gà sẽ có giá \$ 9.
- D. Điểm (4 , 6) cho thấy rằng 4 miếng gà sẽ có giá \$ 6.



- A. Điểm (4 , 2) cho thấy rằng 2 chén bột sẽ tạo ra 4 nhiều mẻ bánh quy.
- B. Điểm (6 , 3) cho thấy rằng 3 chén bột sẽ tạo ra 6 nhiều mẻ bánh quy.
- C. Điểm (4 , 8) cho thấy rằng 4 chén bột sẽ tạo ra 8 nhiều mẻ bánh quy.
- D. Điểm (9 , 4.5) cho thấy rằng các mẻ bánh quy 9 yêu cầu 4.5 chén bột.