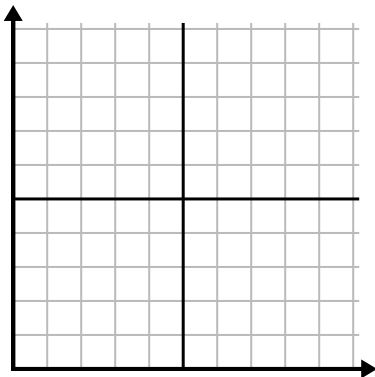




Điền vào lưới bằng cách sử dụng biểu đồ.

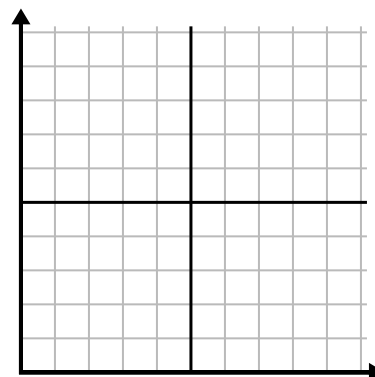
1)

Ngày	1	2	3	4	5
Nội dung đã gửi	5	45	50	30	25



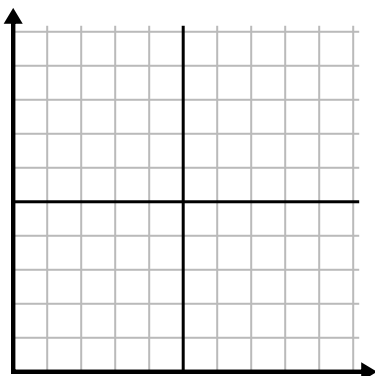
2)

Năm	1	2	3	4	5	6	7
Hộp mực được sử dụng	18	2	8	4	10	16	12



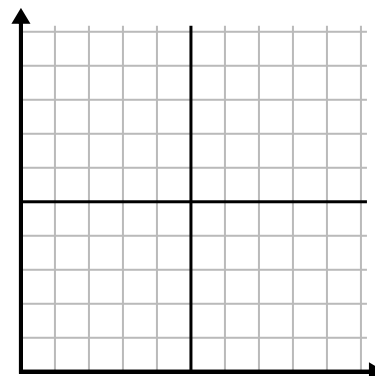
3)

Tuần	1	2	3	4	5
Số giờ xem TV	5	45	25	20	15



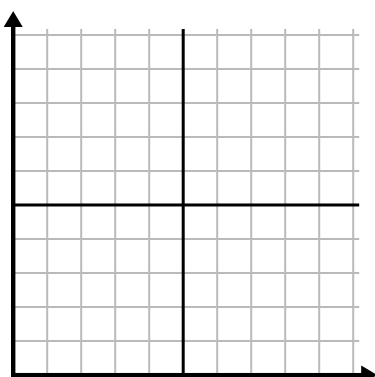
4)

Ngày	1	2	3	4	5
Tiền đã tiêu	10	6	1	8	3



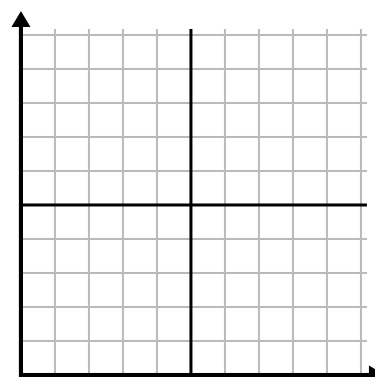
5)

Ngày	1	2	3	4	5	6	7
Video trên Youtube đã xem	30	150	210	240	300	270	60



6)

Tuần	1	2	3	4	5
Nước được sử dụng (gallon)	40	20	10	60	100

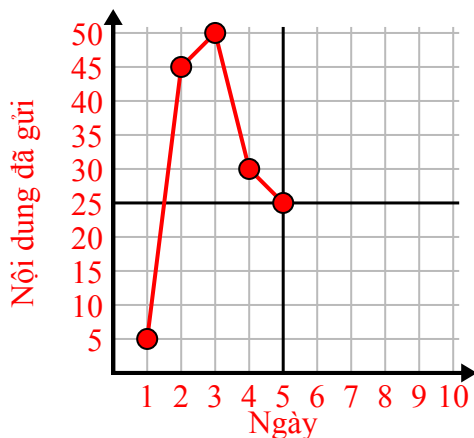




Điền vào lưới bằng cách sử dụng biểu đồ.

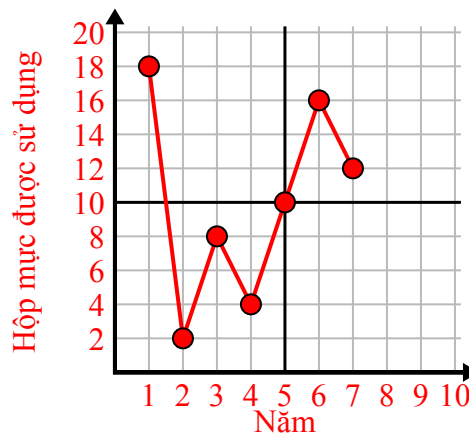
1)

Ngày	1	2	3	4	5
Nội dung đã gửi	5	45	50	30	25



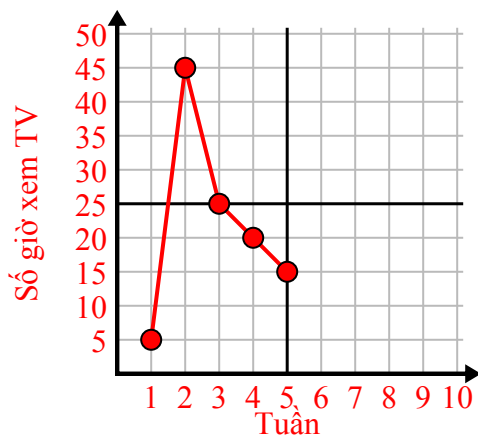
2)

Năm	1	2	3	4	5	6	7
Hộp mực được sử dụng	18	2	8	4	10	16	12



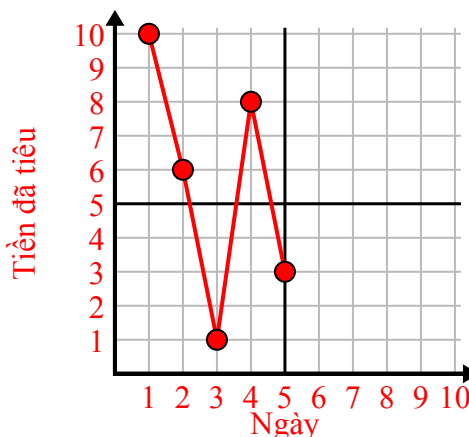
3)

Tuần	1	2	3	4	5
Số giờ xem TV	5	45	25	20	15



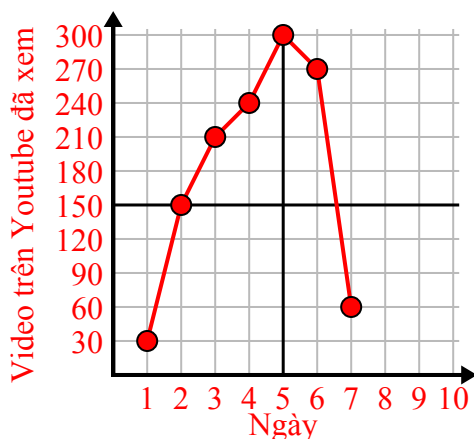
4)

Ngày	1	2	3	4	5
Tiền đã tiêu	10	6	1	8	3



5)

Ngày	1	2	3	4	5	6	7
Video trên Youtube đã xem	30	150	210	240	300	270	60



6)

Tuần	1	2	3	4	5
Nước được sử dụng (gallon)	40	20	10	60	100

