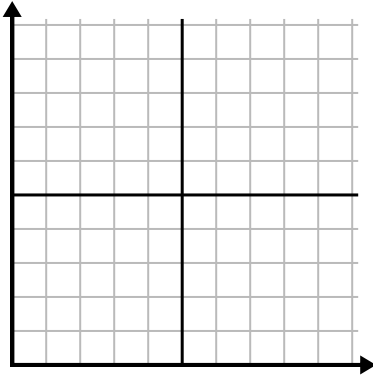




Điền vào lưới bằng cách sử dụng biểu đồ.

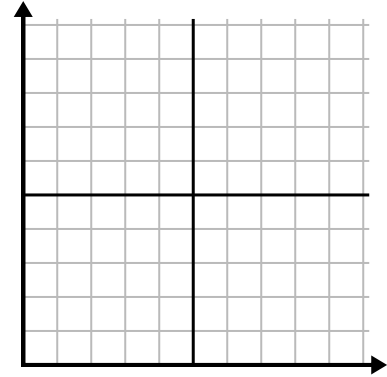
1)

Năm	1	2	3	4	5	6
Hộp bút được sử dụng	10	1	6	2	7	8



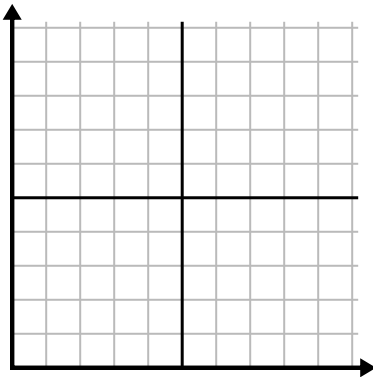
2)

Ngày	1	2	3	4	5
Nội dung đã gửi	25	35	40	15	5



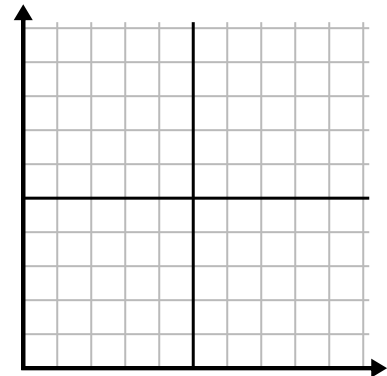
3)

Năm	1	2	3	4	5
Hộp mực được sử dụng	10	4	12	2	14



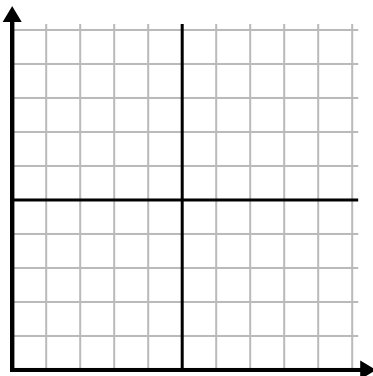
4)

Ngày	1	2	3	4	5
Video trên Youtube đã xem	120	60	300	150	30



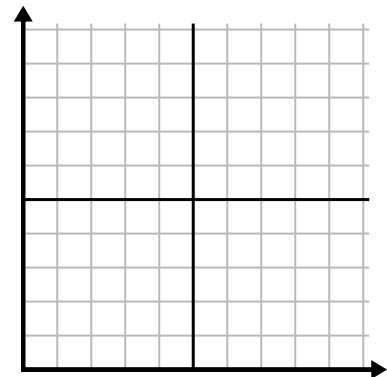
5)

Tuần	1	2	3	4	5	6	7
Nước được sử dụng (gallon)	100	50	90	10	60	80	40



6)

Ngày	1	2	3	4	5	6	7
Tiền đã tiêu	1	7	3	4	5	6	8

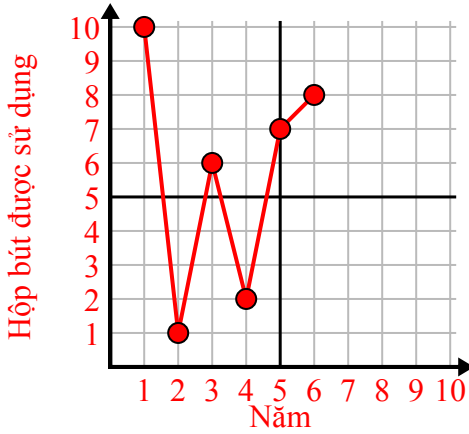




Điền vào lưới bằng cách sử dụng biểu đồ.

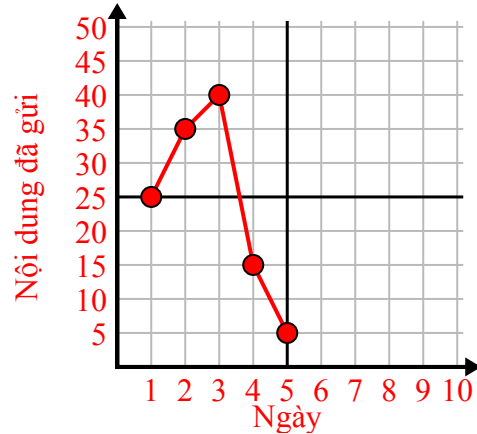
1)

Năm	1	2	3	4	5	6
Hộp bút được sử dụng	10	1	6	2	7	8



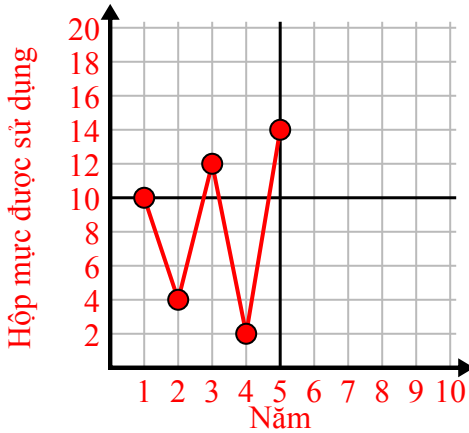
2)

Ngày	1	2	3	4	5
Nội dung đã gửi	25	35	40	15	5



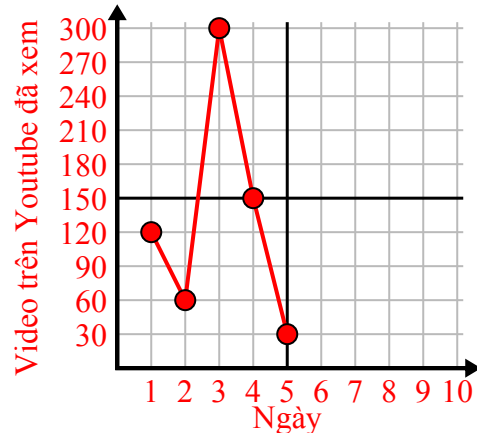
3)

Năm	1	2	3	4	5
Hộp mực được sử dụng	10	4	12	2	14



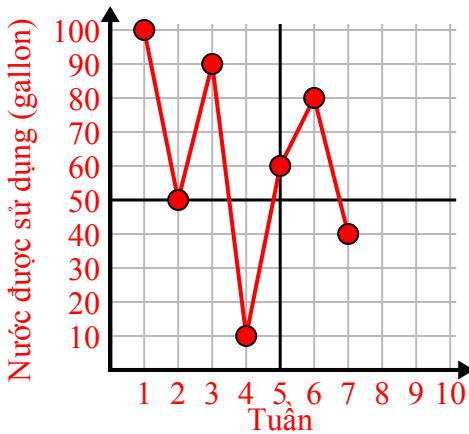
4)

Ngày	1	2	3	4	5
Video trên Youtube đã xem	120	60	300	150	30



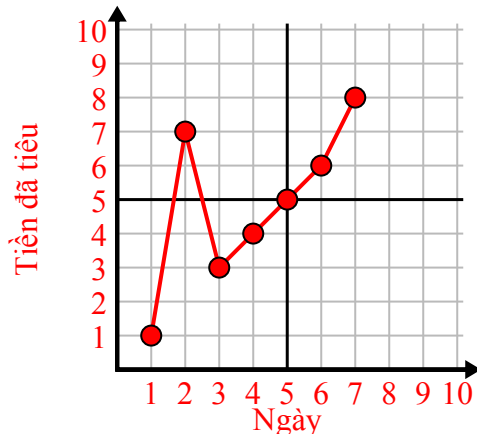
5)

Tuần	1	2	3	4	5	6	7
Nước được sử dụng (gallon)	100	50	90	10	60	80	40



6)

Ngày	1	2	3	4	5	6	7
Tiền đã tiêu	1	7	3	4	5	6	8

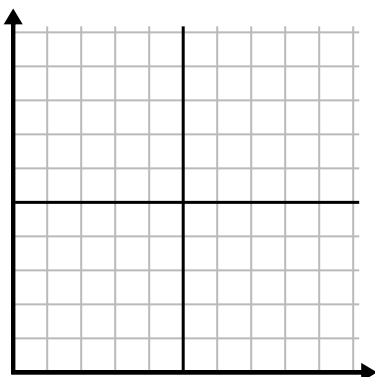




Điền vào lưới bằng cách sử dụng biểu đồ.

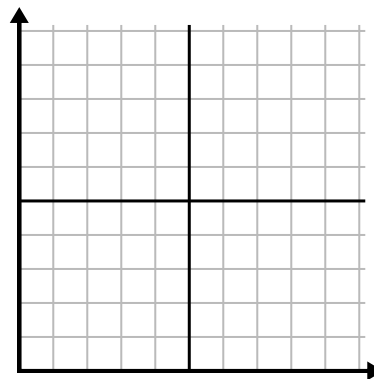
1)

Ngày	1	2	3	4	5	6	7
Video trên Youtube đã xem	30	180	270	150	60	90	240



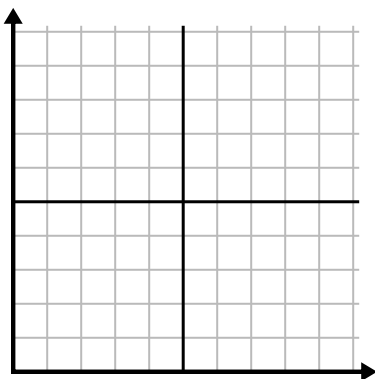
2)

Tháng	1	2	3	4	5
Giá hóa đơn điện	225	150	75	125	50



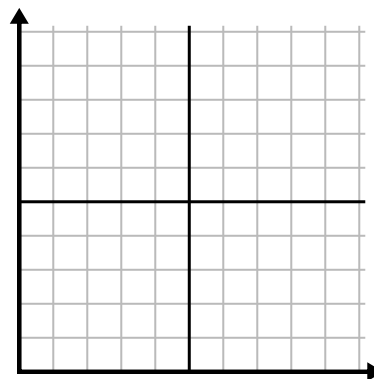
3)

Năm	1	2	3	4	5
Hộp mực được sử dụng	16	2	10	12	8



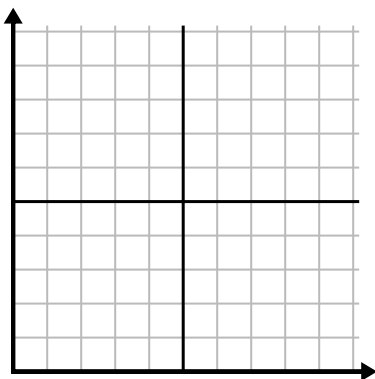
4)

Ngày	1	2	3	4	5	6
Tiền đã tiêu	2	7	9	8	5	1



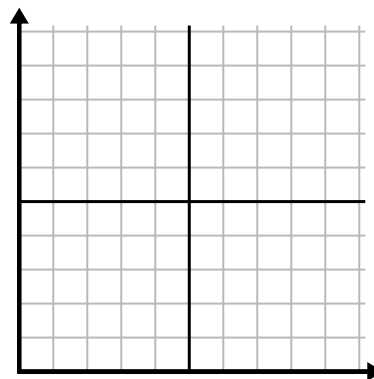
5)

Giờ	1	2	3	4	5	6	7
Số lượng đã bán	5	4	2	9	7	6	8



6)

Ngày	1	2	3	4	5	6
Bữa ăn đã bán	600	900	700	500	100	400

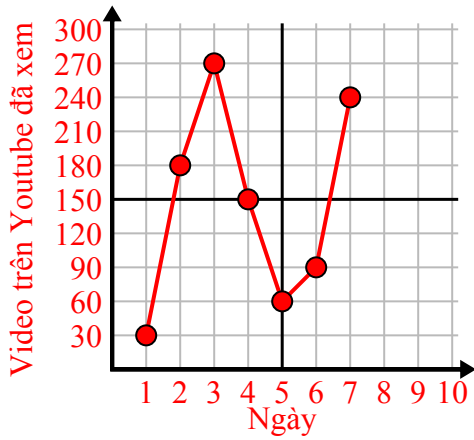




Điền vào lưới bằng cách sử dụng biểu đồ.

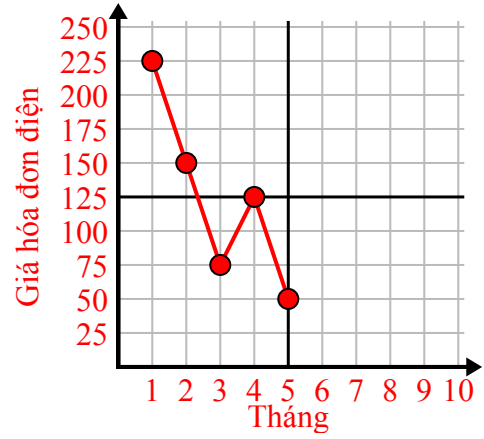
1)

Ngày	1	2	3	4	5	6	7
Video trên Youtube đã xem	30	180	270	150	60	90	240



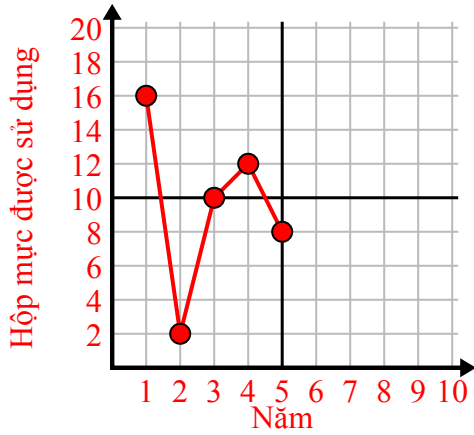
2)

Tháng	1	2	3	4	5
Giá hóa đơn điện	225	150	75	125	50



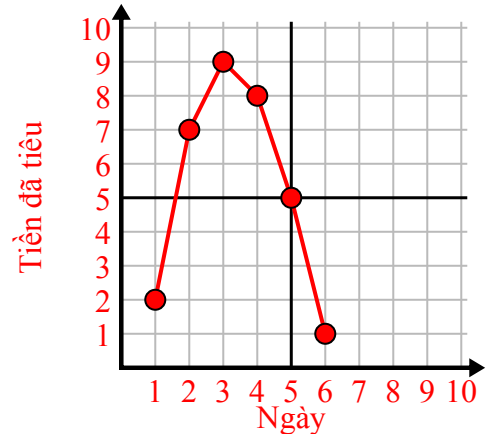
3)

Năm	1	2	3	4	5
Hộp mực được sử dụng	16	2	10	12	8



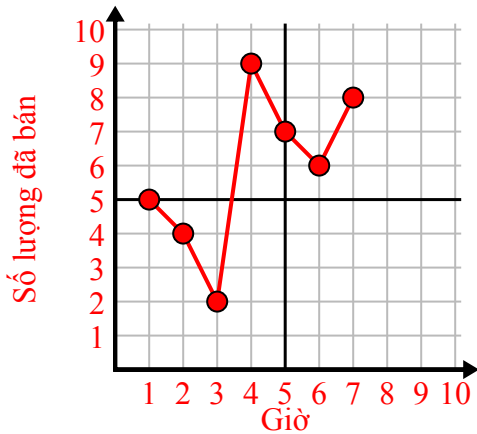
4)

Ngày	1	2	3	4	5	6
Tiền đã tiêu	2	7	9	8	5	1



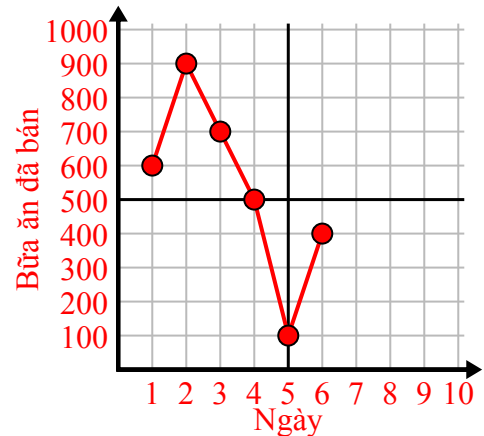
5)

Giờ	1	2	3	4	5	6	7
Số lượng đã bán	5	4	2	9	7	6	8



6)

Ngày	1	2	3	4	5	6
Bữa ăn đã bán	600	900	700	500	100	400

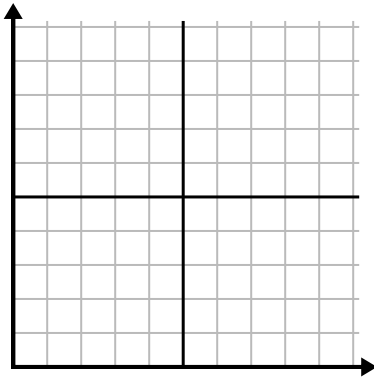




Điền vào lưới bằng cách sử dụng biểu đồ.

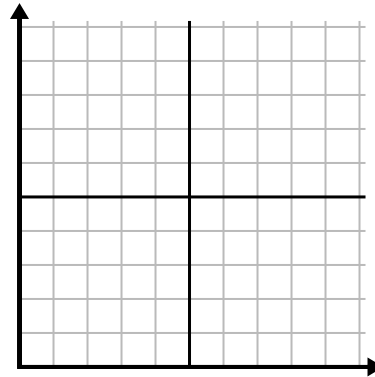
1)

Tháng	1	2	3	4	5	6
Giá hóa đơn điện	175	50	250	200	100	150



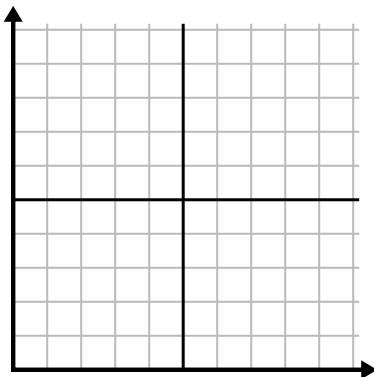
2)

Ngày	1	2	3	4	5
Bữa ăn đã bán	900	300	600	1.000	400



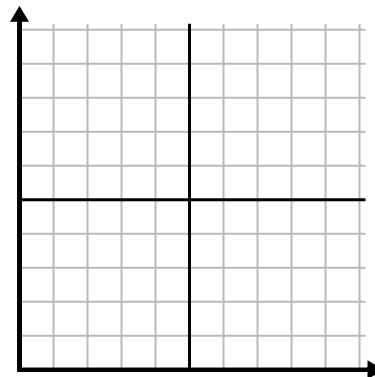
3)

Tuần	1	2	3	4	5	6	7
Số giờ xem TV	15	30	50	35	10	25	45



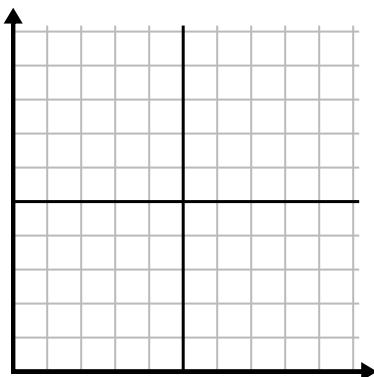
4)

Giờ	1	2	3	4	5
Số lượng đã bán	2	3	8	1	4



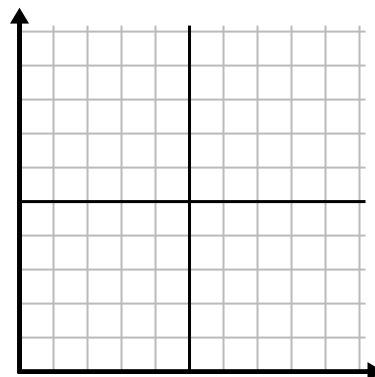
5)

Ngày	1	2	3	4	5
Calo bị đốt cháy	200	180	40	80	120



6)

Năm	1	2	3	4	5	6
Hộp mực được sử dụng	18	20	14	16	12	8

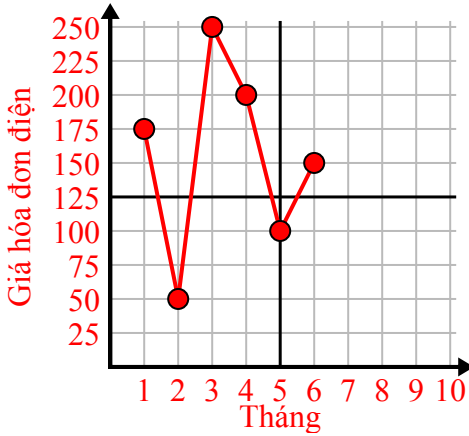




Điền vào lưới bằng cách sử dụng biểu đồ.

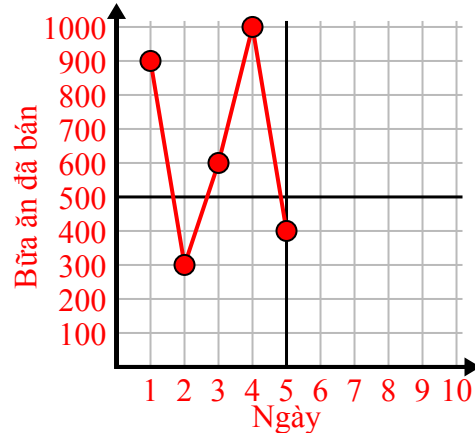
1)

Tháng	1	2	3	4	5	6
Giá hóa đơn điện	175	50	250	200	100	150



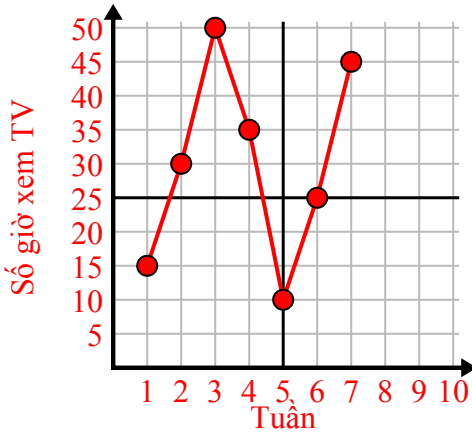
2)

Ngày	1	2	3	4	5
Bữa ăn đã bán	900	300	600	1.000	400



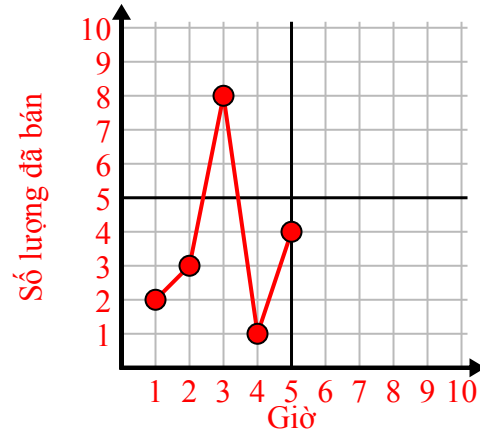
3)

Tuần	1	2	3	4	5	6	7
Số giờ xem TV	15	30	50	35	10	25	45



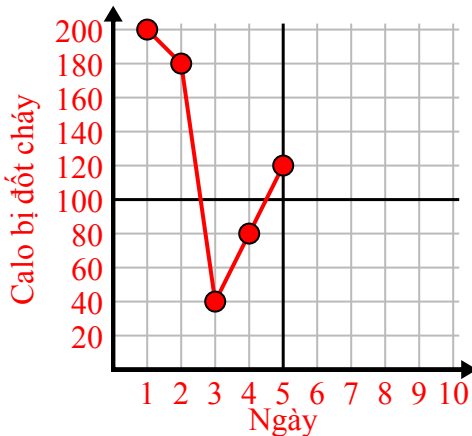
4)

Giờ	1	2	3	4	5
Số lượng đã bán	2	3	8	1	4



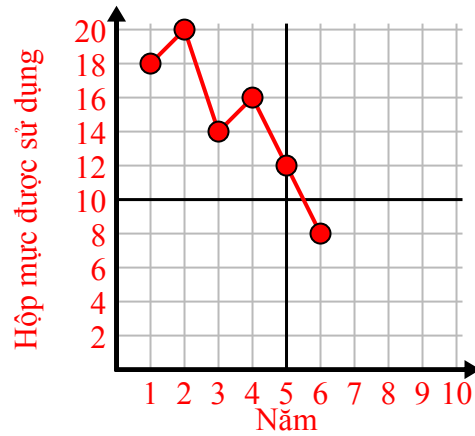
5)

Ngày	1	2	3	4	5
Calo bị đốt cháy	200	180	40	80	120



6)

Năm	1	2	3	4	5	6
Hộp mực được sử dụng	18	20	14	16	12	8

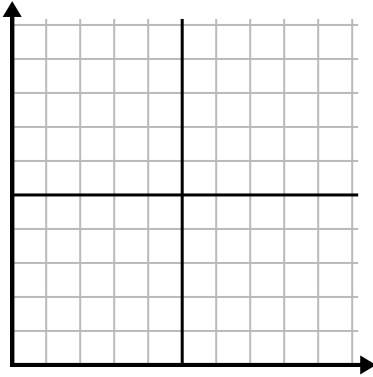




Điền vào lưới bằng cách sử dụng biểu đồ.

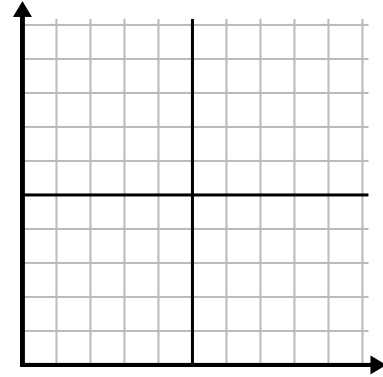
1)

Ngày	1	2	3	4	5	6	7
Nội dung đã gửi	5	30	25	50	35	15	10



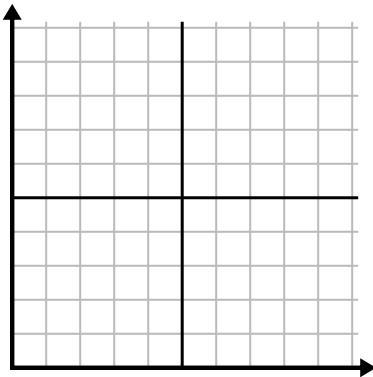
2)

Ngày	1	2	3	4	5	6	7
Tiền đã tiêu	1	5	4	6	10	2	3



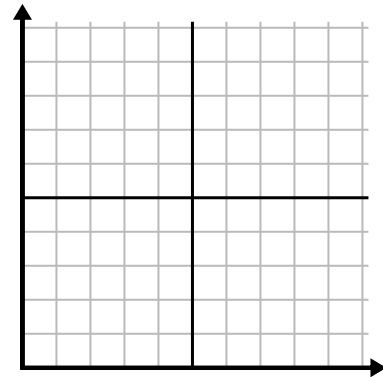
3)

Tuần	1	2	3	4	5
Nước được sử dụng (gallon)	20	60	100	90	70



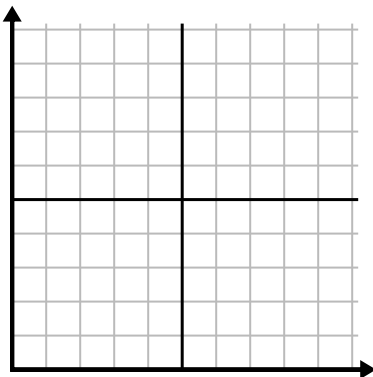
4)

Ngày	1	2	3	4	5	6
Calo bị đốt cháy	80	180	40	20	100	200



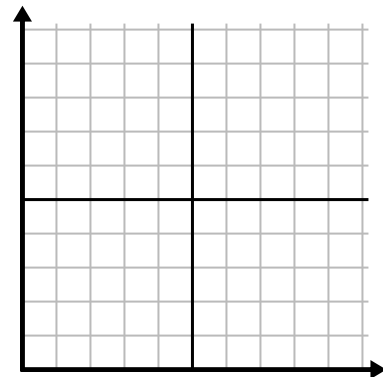
5)

Tháng	1	2	3	4	5
Giá hóa đơn điện	150	175	125	200	25



6)

Giờ	1	2	3	4	5	6
Số lượng đã bán	4	9	7	10	3	6

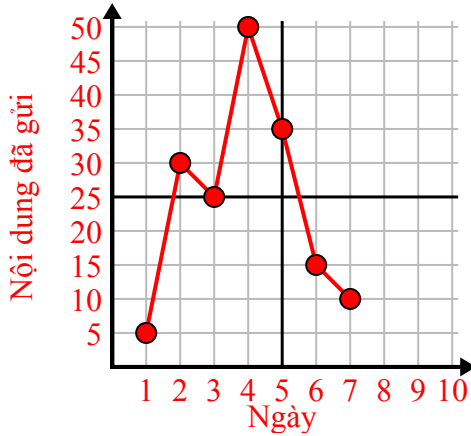




Điền vào lưới bằng cách sử dụng biểu đồ.

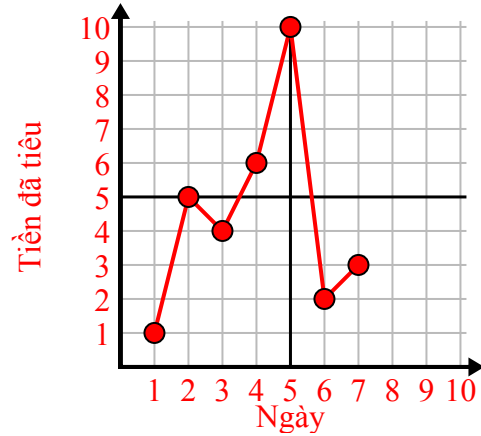
1)

Ngày	1	2	3	4	5	6	7
Nội dung đã gửi	5	30	25	50	35	15	10



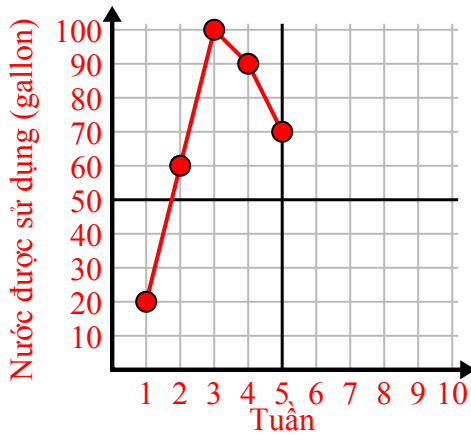
2)

Ngày	1	2	3	4	5	6	7
Tiền đã tiêu	1	5	4	6	10	2	3



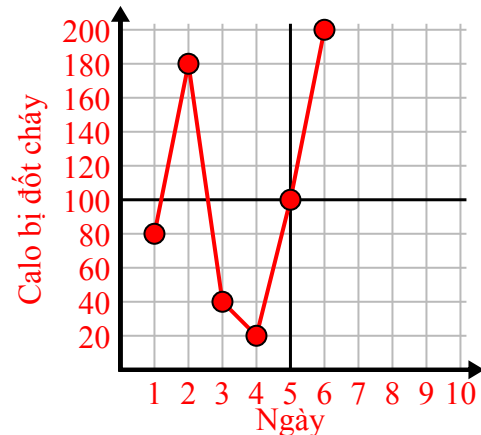
3)

Tuần	1	2	3	4	5
Nước được sử dụng (gallon)	20	60	100	90	70



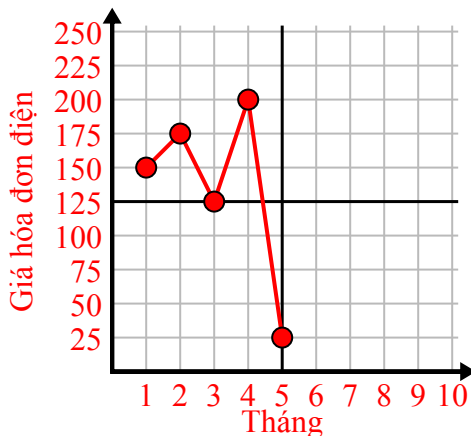
4)

Ngày	1	2	3	4	5	6
Calo bị đốt cháy	80	180	40	20	100	200



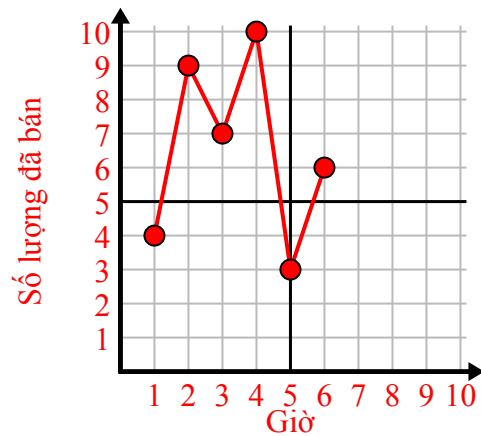
5)

Tháng	1	2	3	4	5
Giá hóa đơn điện	150	175	125	200	25



6)

Giờ	1	2	3	4	5	6
Số lượng đã bán	4	9	7	10	3	6

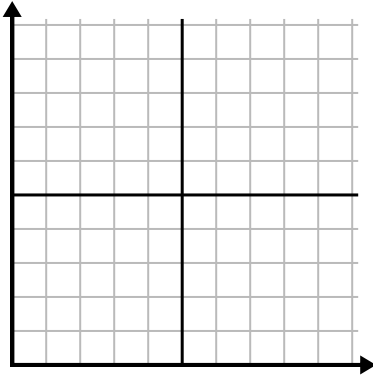




Điền vào lưới bằng cách sử dụng biểu đồ.

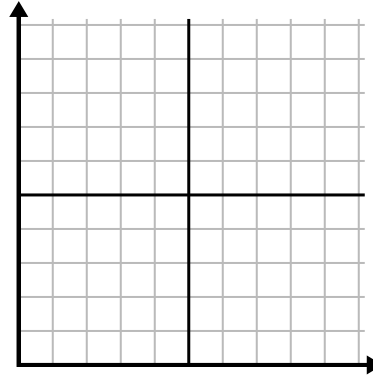
1)

Ngày	1	2	3	4	5
Calo bị đốt cháy	160	40	100	20	180



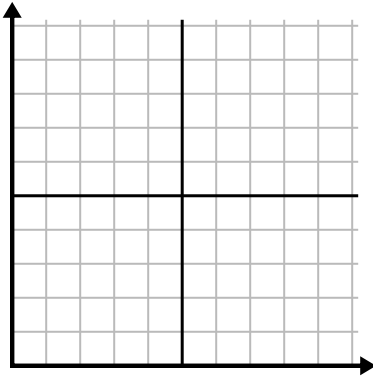
2)

Năm	1	2	3	4	5
Hộp bút được sử dụng	9	2	8	6	10



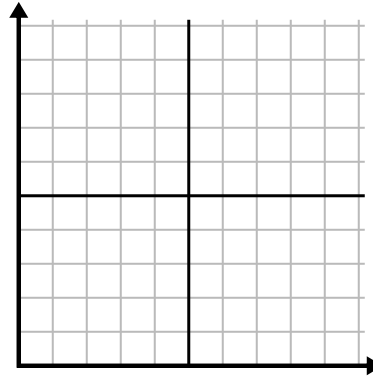
3)

Ngày	1	2	3	4	5
Nội dung đã gửi	40	25	45	5	30



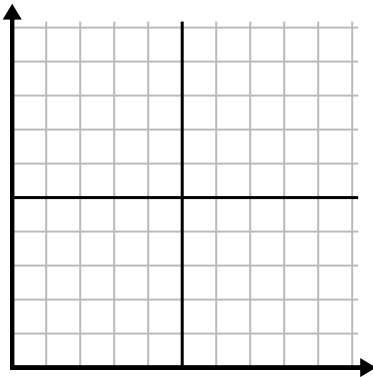
4)

Ngày	1	2	3	4	5	6	7
Bữa ăn đã bán	600	900	200	1.000	500	400	700



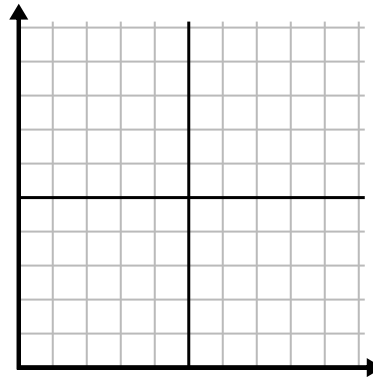
5)

Giờ	1	2	3	4	5
Số lượng đã bán	8	5	10	3	9



6)

Tuần	1	2	3	4	5
Nước được sử dụng (gallon)	70	80	10	40	100

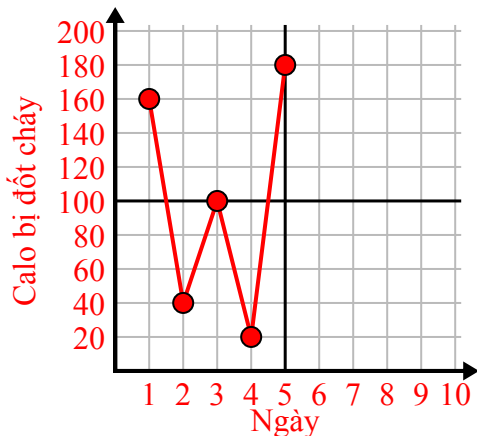




Điền vào lưới bằng cách sử dụng biểu đồ.

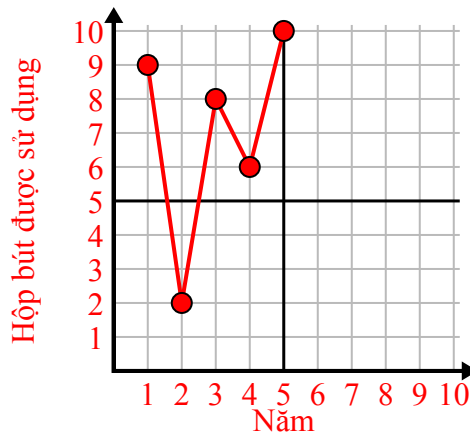
1)

Ngày	1	2	3	4	5
Calo bị đốt cháy	160	40	100	20	180



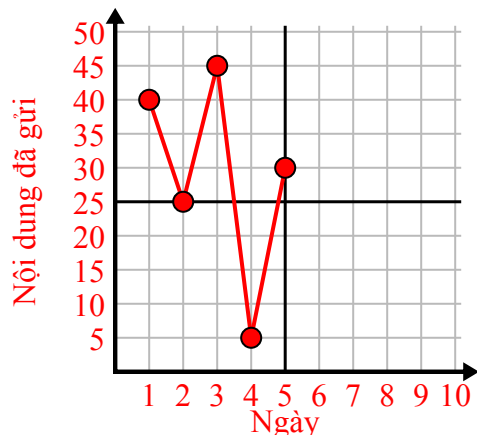
2)

Năm	1	2	3	4	5
Hộp bút được sử dụng	9	2	8	6	10



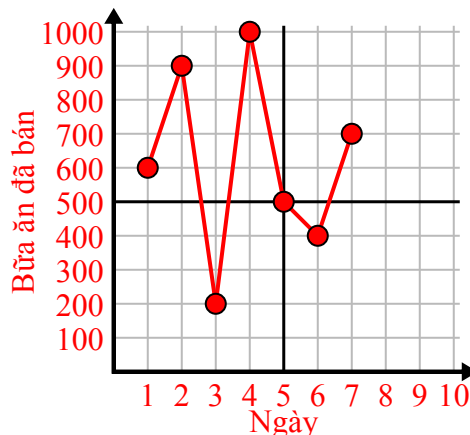
3)

Ngày	1	2	3	4	5
Nội dung đã gửi	40	25	45	5	30



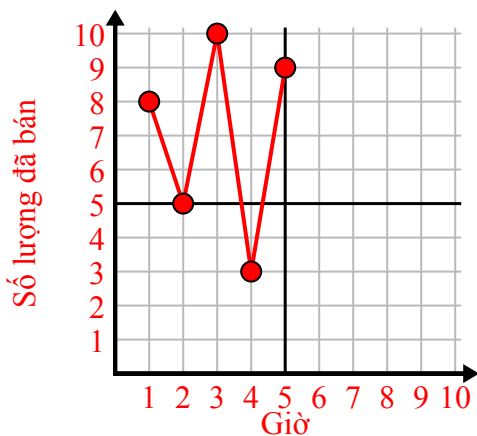
4)

Ngày	1	2	3	4	5	6	7
Bữa ăn đã bán	600	900	200	1.000	500	400	700



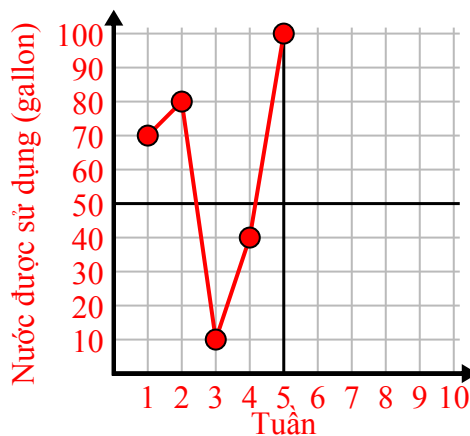
5)

Giờ	1	2	3	4	5
Số lượng đã bán	8	5	10	3	9



6)

Tuần	1	2	3	4	5
Nước được sử dụng (gallon)	70	80	10	40	100

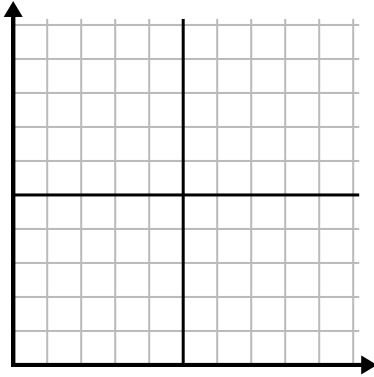




Điền vào lưới bằng cách sử dụng biểu đồ.

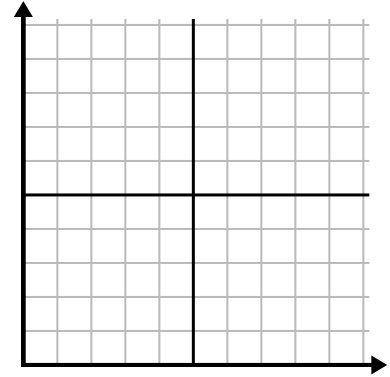
1)

Ngày	1	2	3	4	5	6
Calo bị đốt cháy	80	60	140	100	40	180



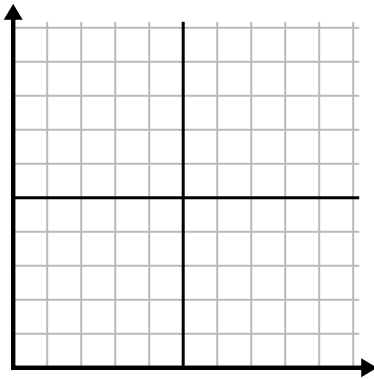
2)

Tháng	1	2	3	4	5
Giá hóa đơn điện	225	250	175	150	75



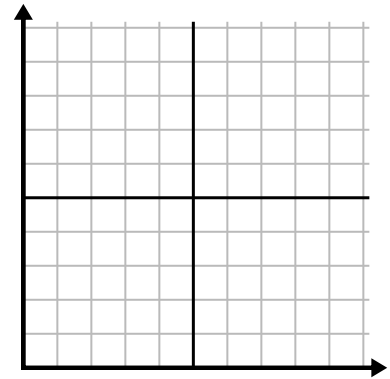
3)

Giờ	1	2	3	4	5
Số lượng đã bán	1	9	2	6	5



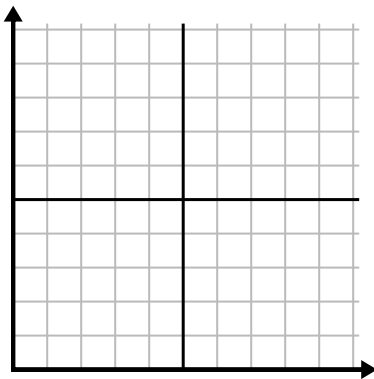
4)

Ngày	1	2	3	4	5	6	7
Nội dung đã gửi	5	10	50	30	20	15	25



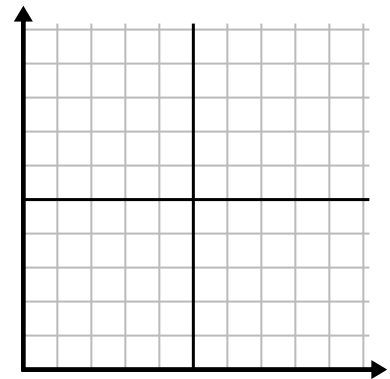
5)

Tuần	1	2	3	4	5	6	7
Nước được sử dụng (gallon)	90	10	80	100	50	20	70



6)

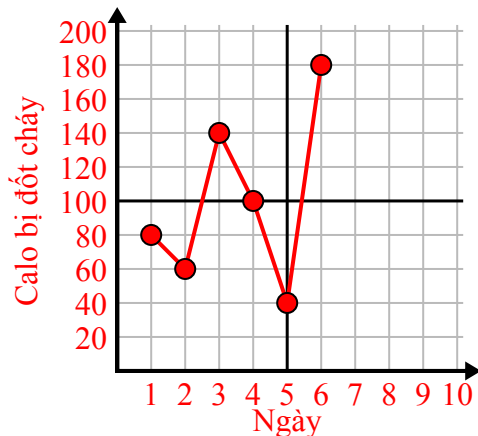
Ngày	1	2	3	4	5	6	7
Tiền đã tiêu	8	7	6	5	4	3	10



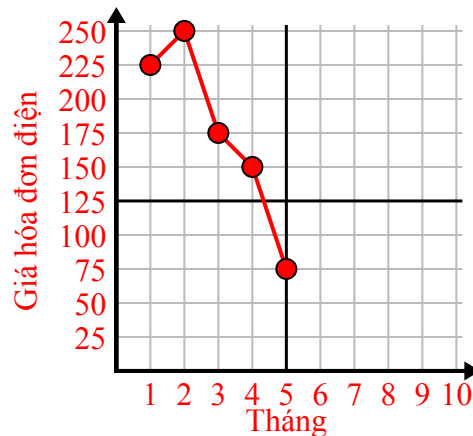


Điền vào lưới bằng cách sử dụng biểu đồ.

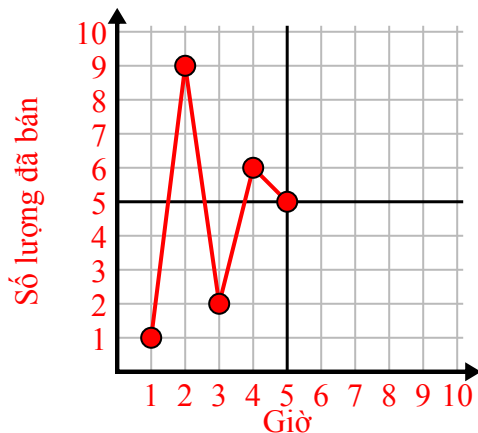
Ngày	1	2	3	4	5	6
Calo bị đốt cháy	80	60	140	100	40	180



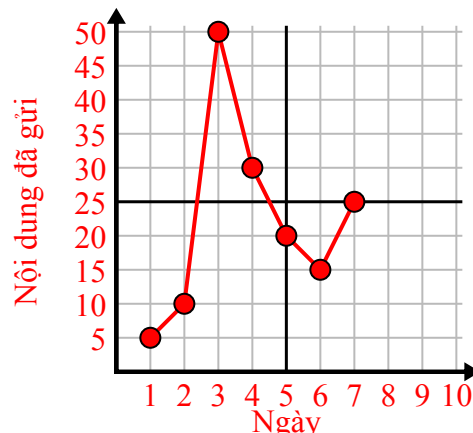
Tháng	1	2	3	4	5
Giá hóa đơn điện	225	250	175	150	75



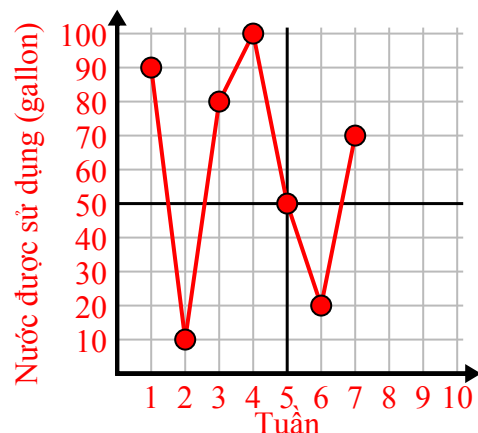
Giờ	1	2	3	4	5
Số lượng đã bán	1	9	2	6	5



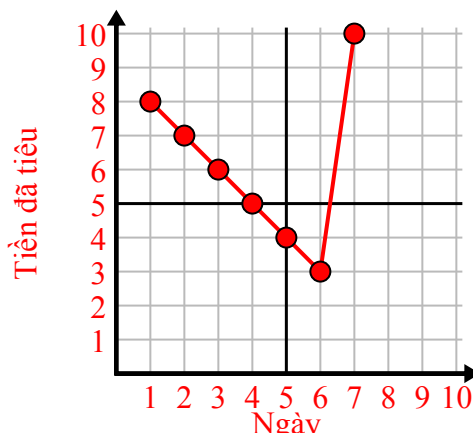
Ngày	1	2	3	4	5	6	7
Nội dung đã gửi	5	10	50	30	20	15	25



Tuần	1	2	3	4	5	6	7
Nước được sử dụng (gallon)	90	10	80	100	50	20	70



Ngày	1	2	3	4	5	6	7
Tiền đã tiêu	8	7	6	5	4	3	10

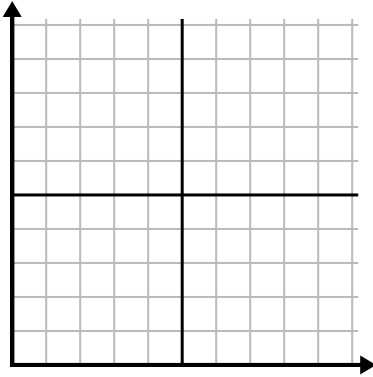




Điền vào lưới bằng cách sử dụng biểu đồ.

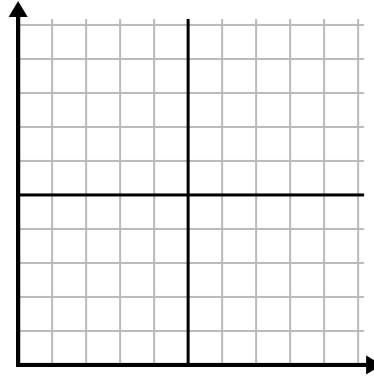
1)

Ngày	1	2	3	4	5
Bữa ăn đã bán	1.000	300	900	100	700



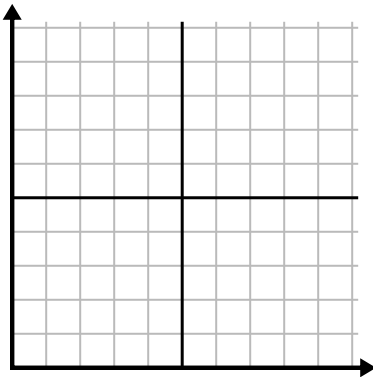
2)

Ngày	1	2	3	4	5	6
Nội dung đã gửi	40	30	50	15	25	10



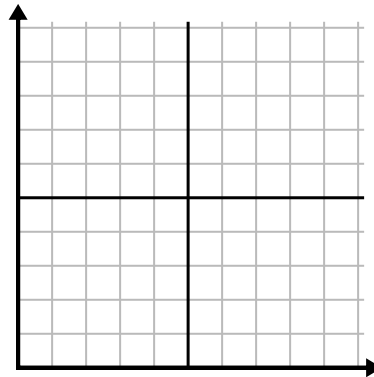
3)

Năm	1	2	3	4	5	6
Hộp bút được sử dụng	10	3	9	1	2	6



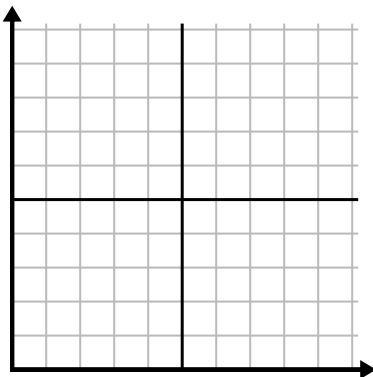
4)

Năm	1	2	3	4	5
Hộp mực được sử dụng	2	18	4	20	12



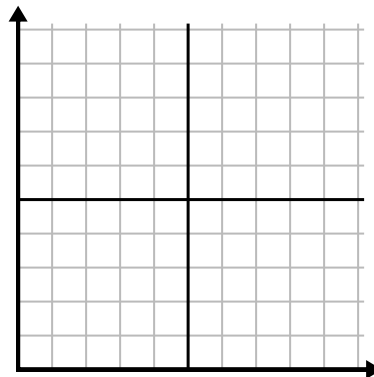
5)

Giờ	1	2	3	4	5	6
Số lượng đã bán	6	5	3	4	7	9



6)

Tuần	1	2	3	4	5	6
Nước được sử dụng (gallon)	10	60	80	70	20	40





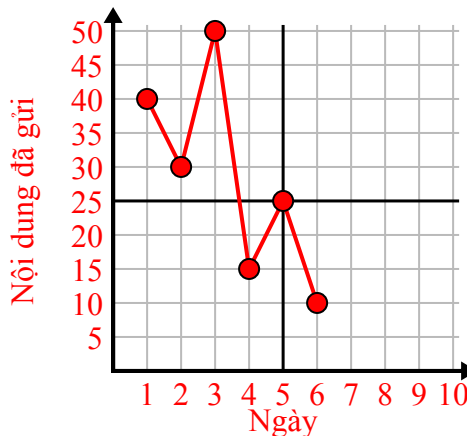
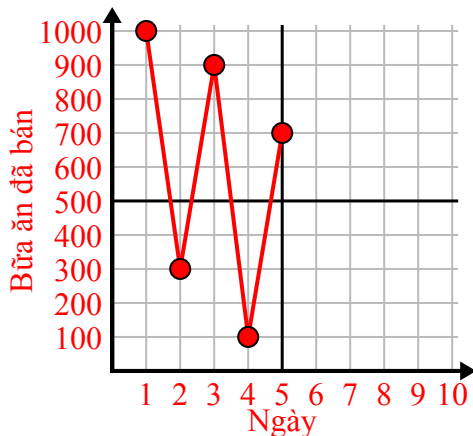
Điền vào lưới bằng cách sử dụng biểu đồ.

1)

Ngày	1	2	3	4	5
Bữa ăn đã bán	1.000	300	900	100	700

2)

Ngày	1	2	3	4	5	6
Nội dung đã gửi	40	30	50	15	25	10

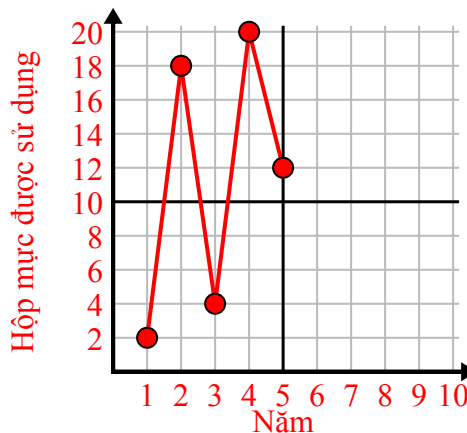
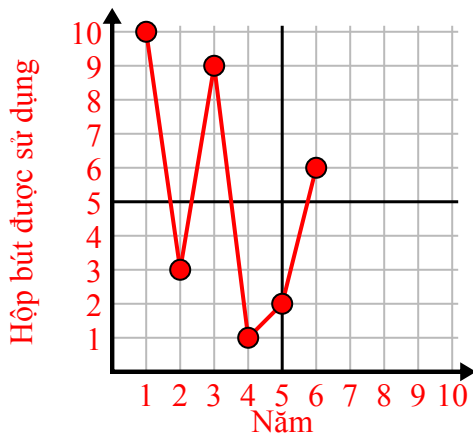


3)

Năm	1	2	3	4	5	6
Hộp bút được sử dụng	10	3	9	1	2	6

4)

Năm	1	2	3	4	5
Hộp mực được sử dụng	2	18	4	20	12

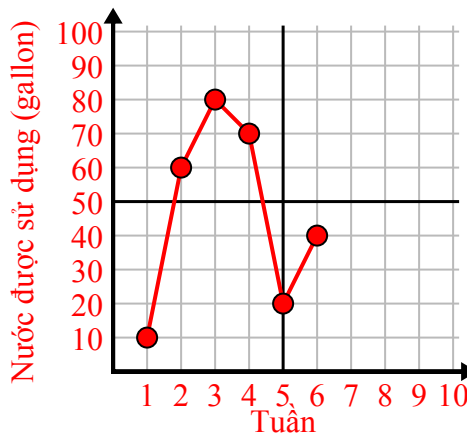
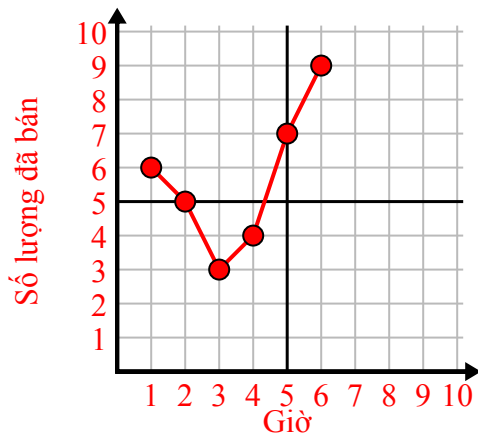


5)

Giờ	1	2	3	4	5	6
Số lượng đã bán	6	5	3	4	7	9

6)

Tuần	1	2	3	4	5	6
Nước được sử dụng (gallon)	10	60	80	70	20	40

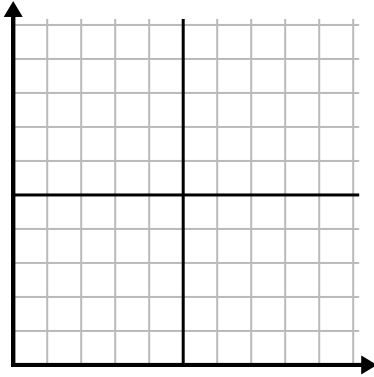




Điền vào lưới bằng cách sử dụng biểu đồ.

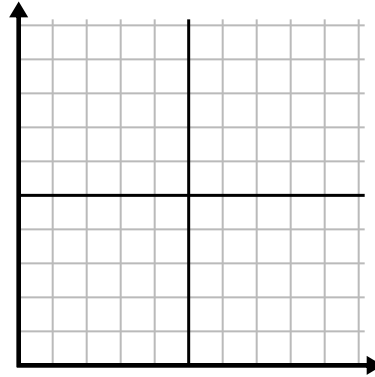
1)

Giờ	1	2	3	4	5	6	7
Số lượng đã bán	10	6	5	4	1	8	9



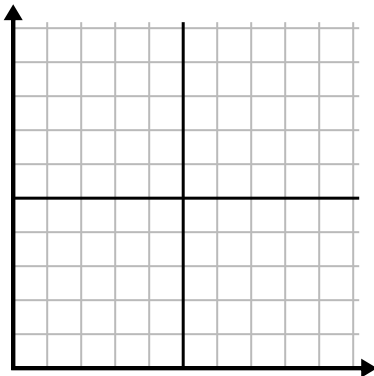
2)

Tuần	1	2	3	4	5	6	7
Nước được sử dụng (gallon)	30	50	40	100	80	10	20



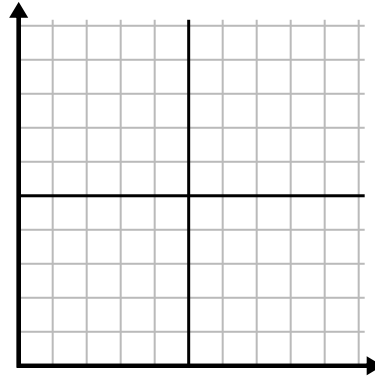
3)

Năm	1	2	3	4	5	6	7
Hộp mực được sử dụng	8	18	6	20	16	10	14



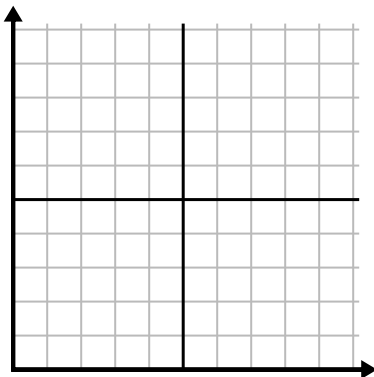
4)

Ngày	1	2	3	4	5	6	7
Bữa ăn đã bán	900	400	700	500	1.000	600	100



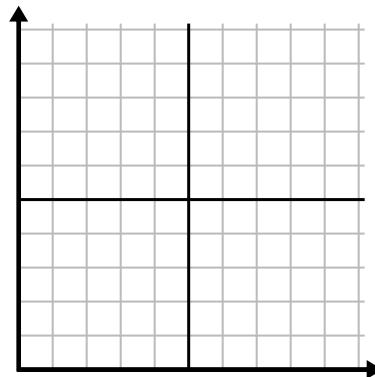
5)

Ngày	1	2	3	4	5	6
Nội dung đã gửi	40	35	30	50	10	20



6)

Tháng	1	2	3	4	5	6
Giá hóa đơn điện	25	150	175	250	200	50

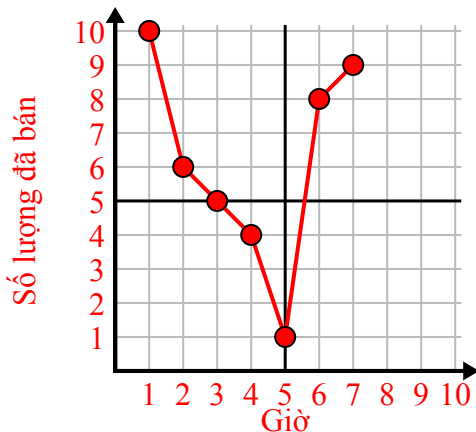




Điền vào lưới bằng cách sử dụng biểu đồ.

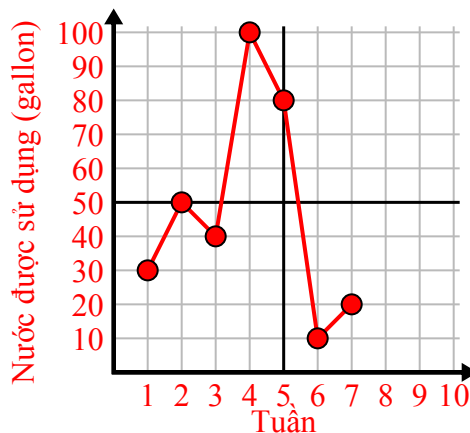
1)

Giờ	1	2	3	4	5	6	7
Số lượng đã bán	10	6	5	4	1	8	9



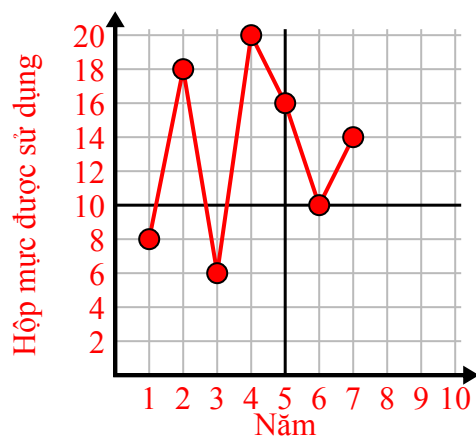
2)

Tuần	1	2	3	4	5	6	7
Nước được sử dụng (gallon)	30	50	40	100	80	10	20



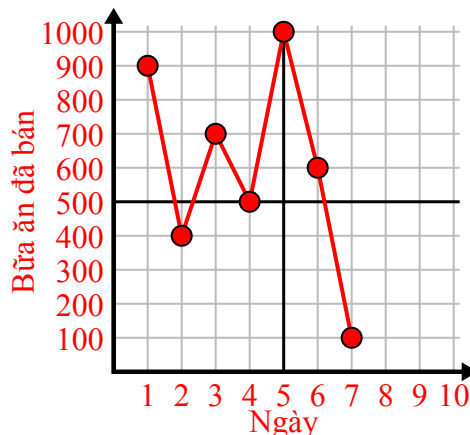
3)

Năm	1	2	3	4	5	6	7
Hộp mực được sử dụng	8	18	6	20	16	10	14



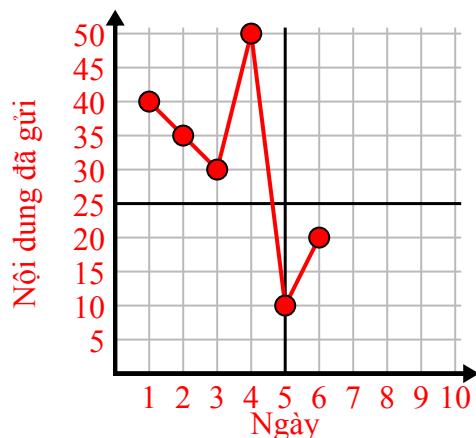
4)

Ngày	1	2	3	4	5	6	7
Bữa ăn đã bán	900	400	700	500	1.000	600	100



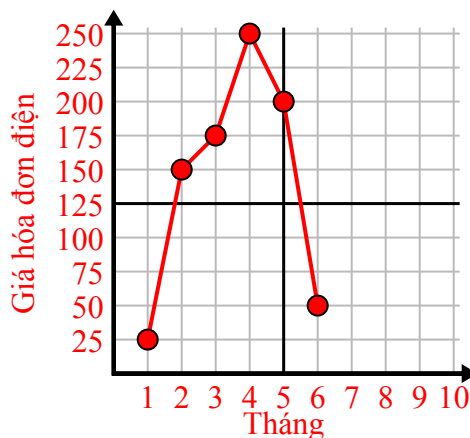
5)

Ngày	1	2	3	4	5	6
Nội dung đã gửi	40	35	30	50	10	20



6)

Tháng	1	2	3	4	5	6
Giá hóa đơn điện	25	150	175	250	200	50

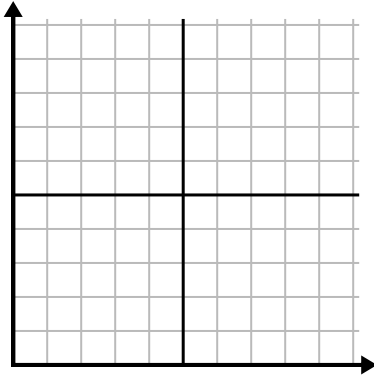




Điền vào lưới bằng cách sử dụng biểu đồ.

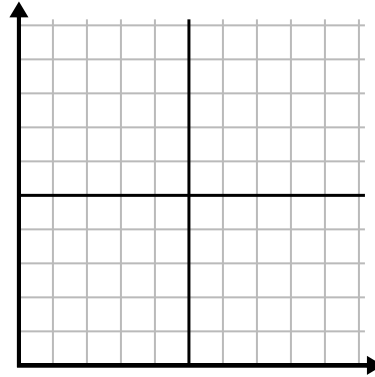
1)

Tháng	1	2	3	4	5	6
Giá hóa đơn điện	50	75	250	150	175	25



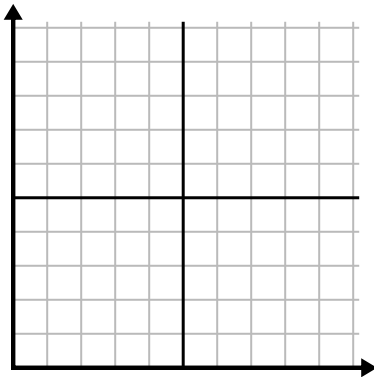
2)

Ngày	1	2	3	4	5	6	7
Video trên Youtube đã xem	90	210	120	150	60	30	300



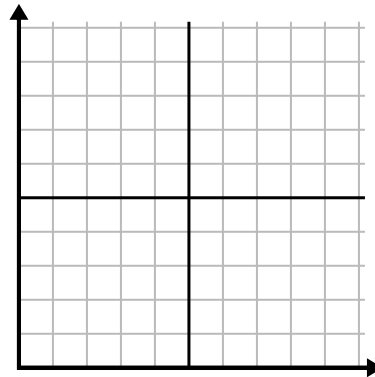
3)

Tuần	1	2	3	4	5	6
Số giờ xem TV	25	30	15	10	20	50



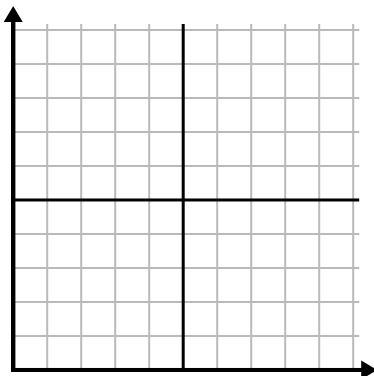
4)

Ngày	1	2	3	4	5	6	7
Bữa ăn đã bán	900	400	200	800	100	500	300



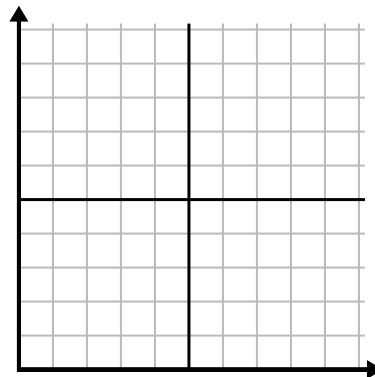
5)

Tuần	1	2	3	4	5
Nước được sử dụng (gallon)	60	80	10	30	20



6)

Ngày	1	2	3	4	5
Calo bị đốt cháy	140	120	180	200	160

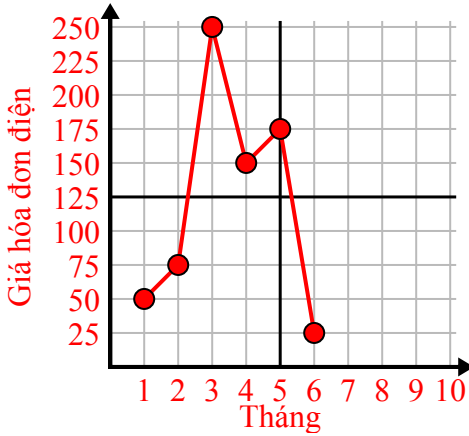




Điền vào lưới bằng cách sử dụng biểu đồ.

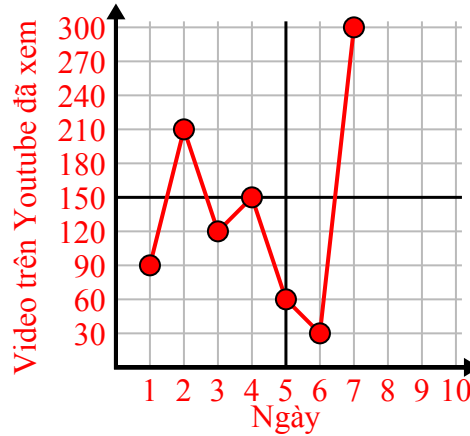
1)

Tháng	1	2	3	4	5	6
Giá hóa đơn điện	50	75	250	150	175	25



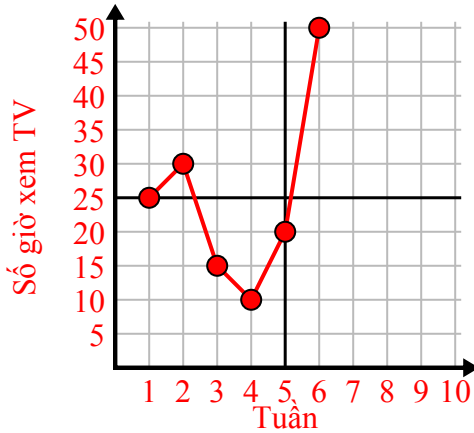
2)

Ngày	1	2	3	4	5	6	7
Video trên Youtube đã xem	90	210	120	150	60	30	300



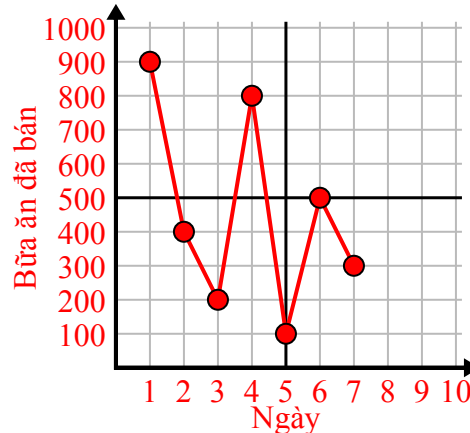
3)

Tuần	1	2	3	4	5	6
Số giờ xem TV	25	30	15	10	20	50



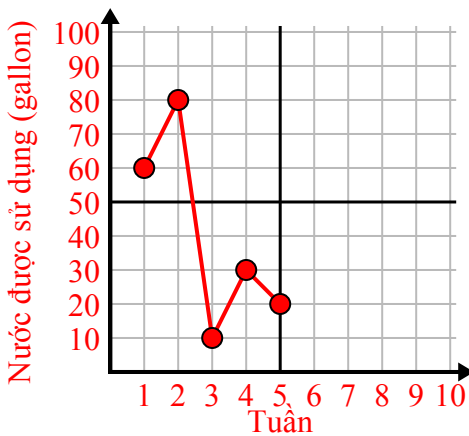
4)

Ngày	1	2	3	4	5	6	7
Bữa ăn đã bán	900	400	200	800	100	500	300



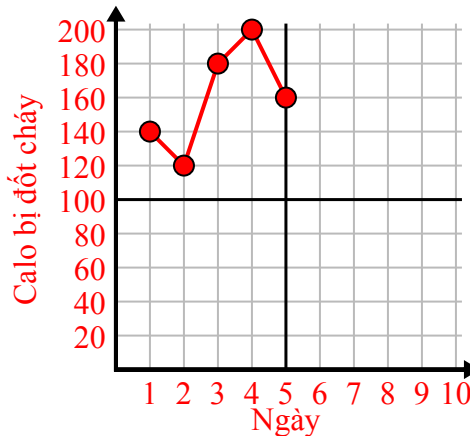
5)

Tuần	1	2	3	4	5
Nước được sử dụng (gallon)	60	80	10	30	20



6)

Ngày	1	2	3	4	5
Calo bị đốt cháy	140	120	180	200	160

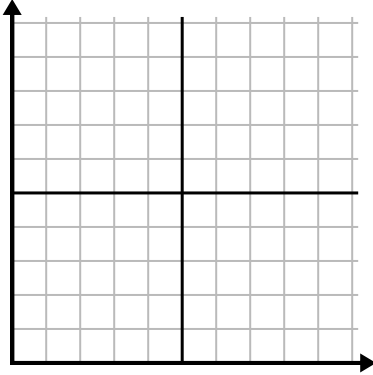




Điền vào lưới bằng cách sử dụng biểu đồ.

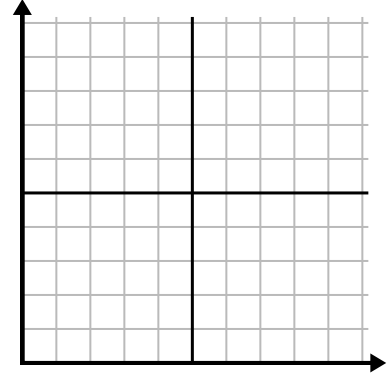
1)

Tuần	1	2	3	4	5	6	7
Số giờ xem TV	50	25	45	10	15	30	35



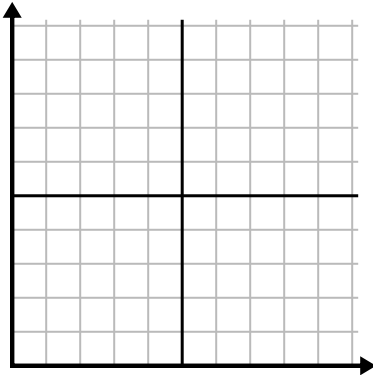
2)

Ngày	1	2	3	4	5	6
Nội dung đã gửi	20	5	50	30	10	15



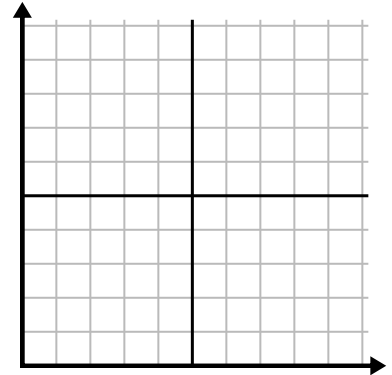
3)

Ngày	1	2	3	4	5	6
Video trên Youtube đã xem	300	240	60	210	180	270



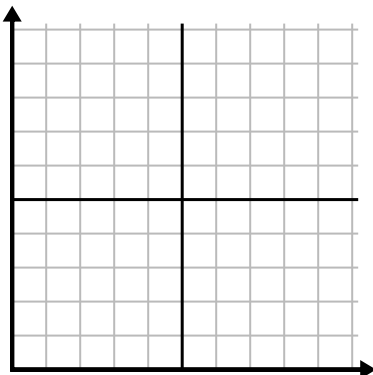
4)

Ngày	1	2	3	4	5
Tiền đã tiêu	5	6	7	10	3



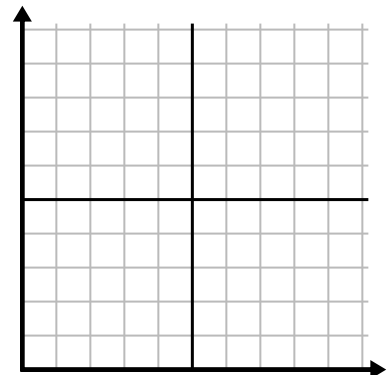
5)

Giờ	1	2	3	4	5	6	7
Số lượng đã bán	8	1	6	10	3	7	4



6)

Tháng	1	2	3	4	5
Giá hóa đơn điện	125	200	150	25	75

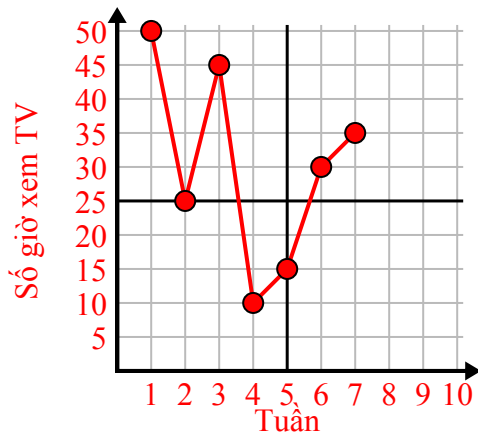




Điền vào lưới bằng cách sử dụng biểu đồ.

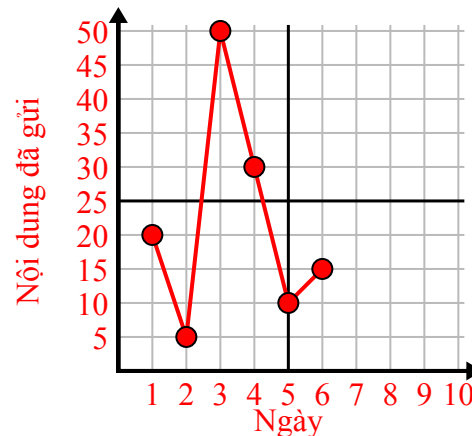
1)

Tuần	1	2	3	4	5	6	7
Số giờ xem TV	50	25	45	10	15	30	35



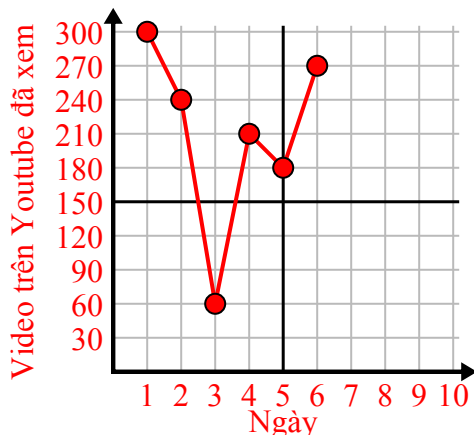
2)

Ngày	1	2	3	4	5	6
Nội dung đã gửi	20	5	50	30	10	15



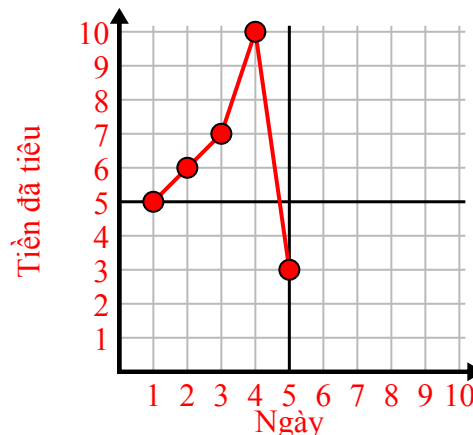
3)

Ngày	1	2	3	4	5	6
Video trên Youtube đã xem	300	240	60	210	180	270



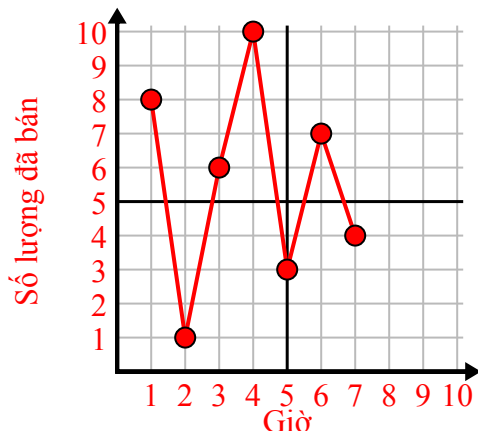
4)

Ngày	1	2	3	4	5
Tiền đã tiêu	5	6	7	10	3



5)

Giờ	1	2	3	4	5	6	7
Số lượng đã bán	8	1	6	10	3	7	4



6)

Tháng	1	2	3	4	5
Giá hóa đơn điện	125	200	150	25	75

