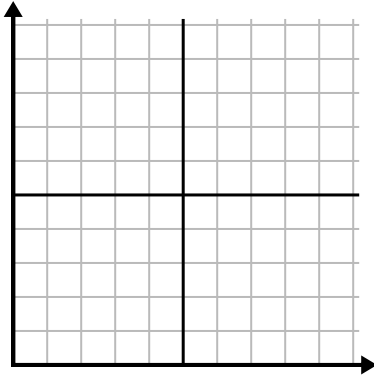




Điền vào lưới bằng cách sử dụng biểu đồ.

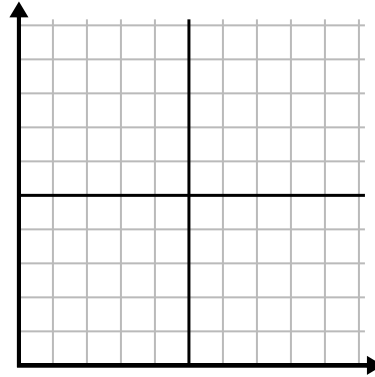
1)

Tháng	1	2	3	4	5	6
Giá hóa đơn điện	50	75	250	150	175	25



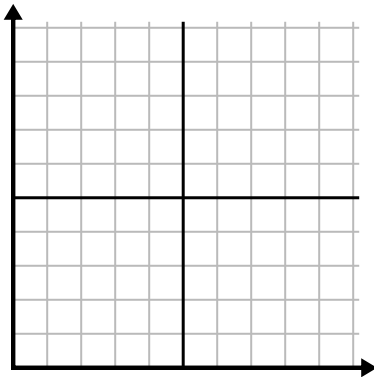
2)

Ngày	1	2	3	4	5	6	7
Video trên Youtube đã xem	90	210	120	150	60	30	300



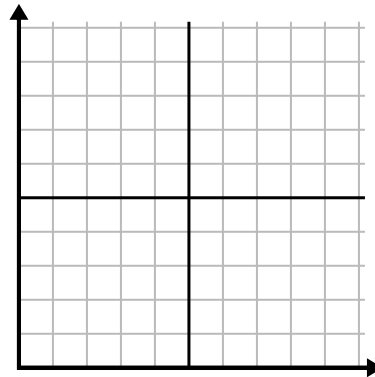
3)

Tuần	1	2	3	4	5	6
Số giờ xem TV	25	30	15	10	20	50



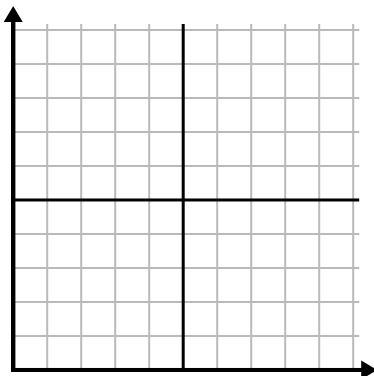
4)

Ngày	1	2	3	4	5	6	7
Bữa ăn đã bán	900	400	200	800	100	500	300



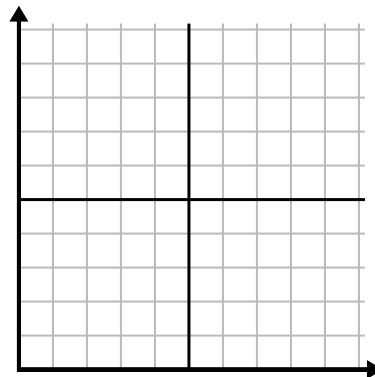
5)

Tuần	1	2	3	4	5
Nước được sử dụng (gallon)	60	80	10	30	20



6)

Ngày	1	2	3	4	5
Calo bị đốt cháy	140	120	180	200	160

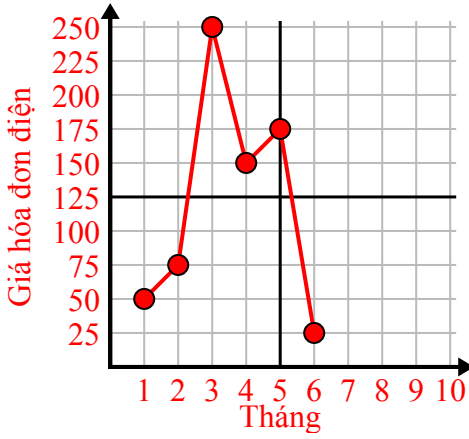




Điền vào lưới bằng cách sử dụng biểu đồ.

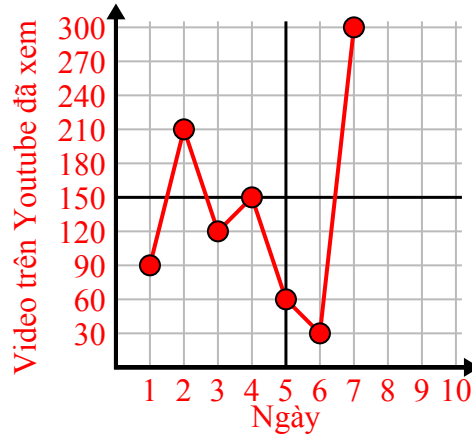
1)

Tháng	1	2	3	4	5	6
Giá hóa đơn điện	50	75	250	150	175	25



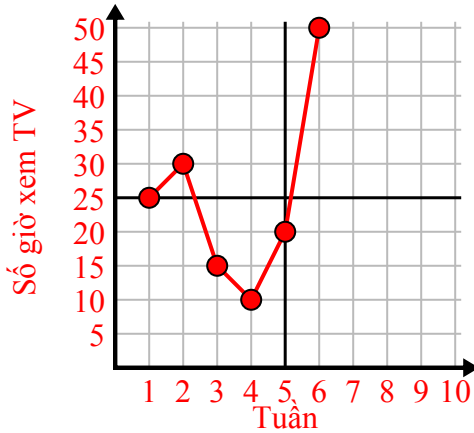
2)

Ngày	1	2	3	4	5	6	7
Video trên Youtube đã xem	90	210	120	150	60	30	300



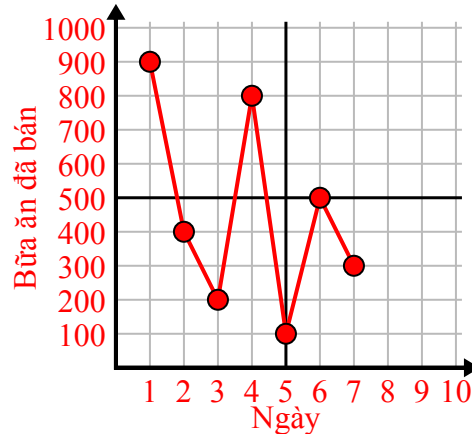
3)

Tuần	1	2	3	4	5	6
Số giờ xem TV	25	30	15	10	20	50



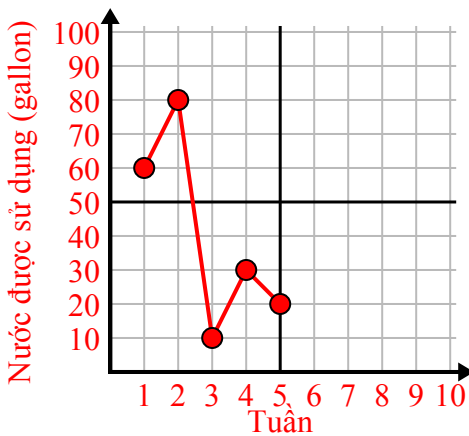
4)

Ngày	1	2	3	4	5	6	7
Bữa ăn đã bán	900	400	200	800	100	500	300



5)

Tuần	1	2	3	4	5
Nước được sử dụng (gallon)	60	80	10	30	20



6)

Ngày	1	2	3	4	5
Calo bị đốt cháy	140	120	180	200	160

